

**COMBO - ଓଡ଼ିଶା**  
**32,000- PYQ**  
**ପୂର୍ବ ବର୍ଷ ପ୍ରଶ୍ନ**  
 ପୂର୍ବ 5 ବର୍ଷର OSSSC, OSSC, OPSC, ପୋଲିସ, CT, B.ED, ଅନ୍ୟ ସବୁ ପ୍ରଶ୍ନ  
**GK, ODIA, ENGLISH, , MATH, COMPUTER, Reasoning, Pedagogy**

**GK- ଓଡ଼ିଶାର**  
**ସମସ୍ତ ପୂର୍ବ ବର୍ଷ ପ୍ରଶ୍ନ**  
**11,685- PYQ**  
**ଓଡ଼ିଆ ଓ ଇଂରାଜୀ ରେ**  
**EXPLANATION**  
 OSSSC , OSSC , OPSC, Police SI /Constable, PEO, RI, Battalion, Fireman, B.ED, JT, RHT, CT, OAVS, OSSTET, OTET & Other

**ଓଡ଼ିଆ ବ୍ୟାକରଣ**  
**ସମସ୍ତ ପୂର୍ବ ବର୍ଷ ପ୍ରଶ୍ନ**  
**4,343- PYQ**  
**75- TEST**  
**E-BOOK- PDF**  
 OSSSC, OSSC, OPSC, POLICE, B.ED, JT, RHT, CT, OAVS, OSSTET, OTET, OSSSC (PEO, RI, ARI & Other) & Other

**ENGLISH- ଓଡ଼ିଶାର**  
**ସମସ୍ତ ପୂର୍ବ ବର୍ଷ ପ୍ରଶ୍ନ**  
**4,582- PYQ**  
**ଓଡ଼ିଆ ଓ ଇଂରାଜୀ ରେ**  
**EXPLANATION**  
 OSSSC , OSSC , OPSC, Police SI /Constable, PEO, RI, Battalion, Fireman, B.ED, JT, RHT, CT, OAVS, OSSTET, OTET & Other Exam

**କୋମ୍ପ୍ୟୁଟର- ଓଡ଼ିଶାର**  
**ସମସ୍ତ ପୂର୍ବ ବର୍ଷ ପ୍ରଶ୍ନ**  
**2,353- PYQ**  
**ଓଡ଼ିଆ ଓ ଇଂରାଜୀ ରେ**  
**EXPLANATION**  
 OSSSC, OSSC , OPSC, Police SI & Constable, Battalion, PEO, RI, AMIN, JT, RHT & Other Exams

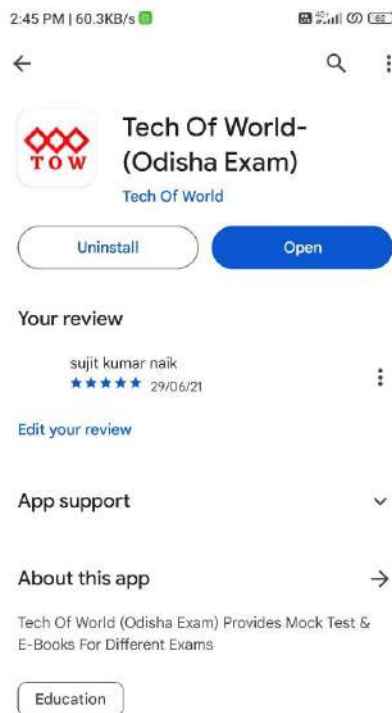
**MATH- ଓଡ଼ିଶାର**  
**ସମସ୍ତ ପୂର୍ବ ବର୍ଷ ପ୍ରଶ୍ନ**  
**4,000- PYQ**  
**ଓଡ଼ିଆ ଓ ଇଂରାଜୀ ରେ**  
**E-BOOK- PDF**  
 OSSSC , OSSC , OPSC, Police SI /Constable, PEO, RI, Battalion, Fireman, B.ED, JT, RHT, CT, OAVS, OSSTET, OTET & Other

**PEDAGOGY ଓଡ଼ିଶାର**  
**TEACHING APTITUDE**  
**ପୂର୍ବ ବର୍ଷ ପ୍ରଶ୍ନ**  
**1,900- PYQ**  
**ଓଡ଼ିଆ ଓ ଇଂରାଜୀ ରେ**  
**EXPLANATION**  
 B.ED, RHT, CT, JT, OAVS, OSSTET, OTET & Other

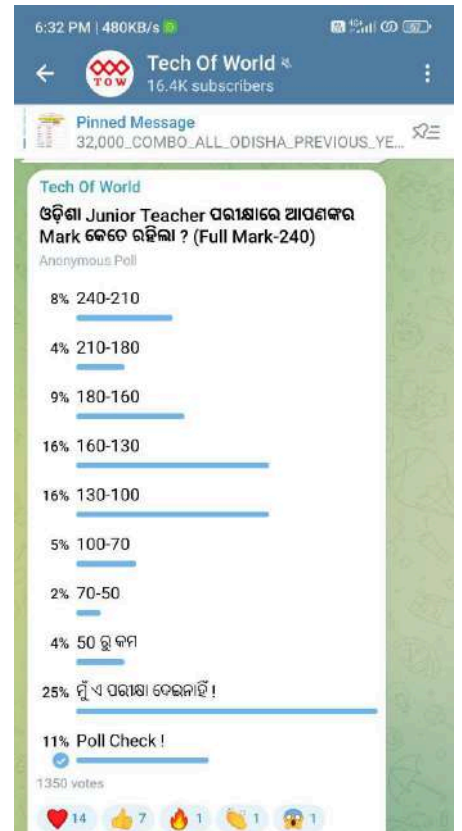
[Click Here](#)



[Click Here](#)



[Click Here](#)



[Click Here](#)



**Current Affairs**

1. What is the name of new law replacing Indian Penal Code?
  - a) Bharatiya Nagarik Suraksha Sanhita
  - b) Bharatiya Nyaya Sanhita
  - c) Bharatiya Sakshya Adhinyam
  - d) Bharatiya Danda Sanhita
2. In which country did a powerful earthquake (7.6 cm on Richter scale) erupt in first week of January, 2024?
  - a) Turkey
  - b) Japan
  - c) Indonesia
  - d) Palestine
3. Who is the Minister for "SC & ST Development, Minorities & Backward classes welfare" in Govt. of Odisha?
  - a) Shri Jaganath Saraka
  - b) Shri Sudam Marandi
  - c) Shri Niranjan Pujari
  - d) Smt. Usha Devi
4. Which was the closing film of 54<sup>th</sup> International Film festival of India?
  - a) About Dry Grasses
  - b) The Featherweight
  - c) Catching Dust
  - d) Barbie
5. Who is the Chief of Army staff of Indian Army?
  - a) General M.M Narvane
  - b) General Manoj Pande
  - c) General Bikram Singh
  - d) General Dalbir Singh Suhag
6. Who is author of book "KNIFE" (to be published in early 2024)
  - a) Mr. Sashi Tharoor
  - b) Mr. Amitabh Ghosh
  - c) Mr. Salman Rushdie
  - d) Ms. Arundhati Roy

**ସାମ୍ପ୍ରତିକ ଘଟଣାବଳୀ**

1. ଇଣ୍ଡିଆନ୍ ପିନାକ୍ କୋଡ୍ ବଦଳରେ ଆସିବାକୁ ଥିବା ନୂଆ ଆଇନର ନାମ କ'ଣ ?
  - a) ଭାରତୀୟ ନାଗରୀକ ସୁରକ୍ଷା ସଂହିତା
  - b) ଭାରତୀୟ ନ୍ୟାୟ ସଂହିତା
  - c) ଭାରତୀୟ ସାକ୍ଷ୍ୟ ଅଧିନିୟମ
  - d) ଭାରତୀୟ ଦଣ୍ଡ ସଂହିତା
2. ୨୦୨୪ ଜାନୁଆରୀ ପ୍ରଥମ ସପ୍ତାହରେ, କେଉଁ ଦେଶରେ ଶକ୍ତିଶାଳୀ ଭୂମିକମ୍ପ (ରିକ୍ଟର ସ୍କେଲରେ ୭.୬ ସେଣ୍ଟିମିଟର) ସୃଷ୍ଟି ହୋଇଥିଲା?
  - a) ତୁର୍କୀ
  - b) ଜାପାନ
  - c) ଇଣ୍ଡୋନେସିଆ
  - d) ପାଲେଷ୍ଟାଇନ୍
3. ଓଡ଼ିଶା ସରକାରଙ୍କ "ଅନୁସୂଚିତ ଜାତି ଓ ଜନଜାତି ବିକାଶ, ସଂଖ୍ୟାଲଘୁ ଓ ପଛୁଆ ବର୍ଗ କଲ୍ୟାଣ" ମନ୍ତ୍ରୀ କିଏ ?
  - a) ଶ୍ରୀ ଜଗନ୍ନାଥ ସାରକା
  - b) ଶ୍ରୀ ସୁଦାମ ମାରାଣ୍ଡି
  - c) ଶ୍ରୀ ନିରଞ୍ଜନ ପୂଜାରୀ
  - d) ଶ୍ରୀମତୀ ଉଷା ଦେବୀ
4. ଭାରତର ୫୪ତମ ଅନ୍ତର୍ଜାତୀୟ ଚଳଚ୍ଚିତ୍ର ମହୋତ୍ସବର ସମାପନା ଚଳଚ୍ଚିତ୍ର କେଉଁଟି ଥିଲା ?
  - a) ଏବାଉର୍ ଡ୍ରାଏ ଗ୍ରାସେସ୍
  - b) ଦ ଫେଦରୱେଟ୍
  - c) କ୍ୟାଚିଙ୍ଗ୍ ଡଷ୍ଟ୍
  - d) ବାର୍ବି
5. ଭାରତୀୟ ସେନାର ସେନାମୁଖ୍ୟ କିଏ ?
  - a) ଜେନେରାଲ ଏମ୍ ଏମ୍ ନରଭାନ୍
  - b) ଜେନେରାଲ ମନୋଜ ପାଣ୍ଡେ
  - c) ଜେନେରାଲ ବିକ୍ରମ ସିଂ
  - d) ଜେନେରାଲ ଦଲବୀର ସିଂ ସୁହାଗ
6. ପୁସ୍ତକ "ନାଇଫ"ର ଲେଖକ କିଏ (୨୦୨୪ ପ୍ରାରମ୍ଭରେ ପ୍ରକାଶିତ ହେବ) ?
  - a) ଶ୍ରୀ ଶଶୀ ଥରୁର
  - b) ଶ୍ରୀ ଅମିତାଭ ଘୋଷ
  - c) ଶ୍ରୀ ସଲମାନ୍ ରୁଶ୍ଦି
  - d) ଶ୍ରୀମତୀ ଅରୁନ୍ଧତୀ ରୟ

7. Ustad Rasid Khan died recently. In what field did he achieve his fame?

- Music
- Dance
- Literature
- Sports

8. Houthis have been carrying out attacks on commercial shipping in Red Sea (December 2023/January 2024). In which country do they control territory?

- Yemen
- Oman
- Lebanon
- Iran

9. Which among the following countries did not have general election in January 2024 ?

- Bangladesh
- Bhutan
- Taiwan
- Pakistan

10. During crocodile census in Bhitarkanika in 2023, how many saltwater crocodiles were found?

- 793
- 1793
- 2793
- 3793

11. Where was COP-28 (Climate change Conference) held?

- Dubai
- Azerbaijan
- Egypt (Sharm-Al- Seikh)
- VK (Glasgow)

12. Which Court Ruled (in late December-2023) that Donald Trump's name can't be on Ballot?

- Colorado Supreme Court
- U.S Supreme Court
- Maine Trial Court
- Arizona High Court

7. ନିକଟରେ ଉଷାଦ ରସିଦ୍ ଖାନଙ୍କ ଦେହାନ୍ତ ହୋଇଛି । କେଉଁ କ୍ଷେତ୍ରରେ ସେ ତାଙ୍କର ଖ୍ୟାତି ହାସଲ କରିଥିଲେ ?

- ସଙ୍ଗୀତ
- ନୃତ୍ୟ
- ସାହିତ୍ୟ
- କ୍ରୀଡ଼ା

8. ହୁଥୀମାନେ ଲୋହିତ ସାଗରରେ ବାଣିଜ୍ୟିକ ଜାହାଜ ଚଳାଚଳ ଉପରେ ଆକ୍ରମଣ କରୁଛନ୍ତି (ଡିସେମ୍ବର ୨୦୨୩/ଜାନୁଆରୀ ୨୦୨୪) । ସେମାନେ କେଉଁ ଦେଶର ଅଞ୍ଚଳକୁ ନିୟନ୍ତ୍ରଣ କରନ୍ତି ?

- ୟେମେନ
- ଓମାନ
- ଲେବାନନ
- ଇରାନ

9. ନିମ୍ନଲିଖିତ ମଧ୍ୟରୁ କେଉଁ ଦେଶରେ ଜାନୁଆରୀ ୨୦୨୪ରେ ସାଧାରଣ ନିର୍ବାଚନ ହୋଇନଥିଲା ?

- ବାଂଲାଦେଶ
- ଭୁଟାନ
- ତାଇୱାନ
- ପାକିସ୍ତାନ

10. ୨୦୨୩ ରେ ଭିତରକନିକାରେ କୁମ୍ଭୀର ଗଣନା ବେଳେ କେତେଗୋଟି ଲୁଣିଆଜଳ କୁମ୍ଭୀର ମିଳିଥିଲେ ?

- ୭୯୩
- ୧୭୯୩
- ୨୭୯୩
- ୩୭୯୩

11. ସିଓପି-୨୮ (ଜଳବାୟୁ ପରିବର୍ତ୍ତନ ସମ୍ମିଳନୀ) କେଉଁଠାରେ ଅନୁଷ୍ଠିତ ହୋଇଥିଲା ?

- ଦୁବାଇ
- ଆଜରବାଇଜାନ
- ଇଜିପ୍ଟ (ଶର୍ମ-ଆଲ-ସେଇଖ)
- ଭିକେ (ଗ୍ଲାସଗୋ)

12. କେଉଁ ଅଦାଲତ (ଡିସେମ୍ବର-୨୦୨୩ ଶେଷ ଭାଗରେ) ଡୋନାଲ୍ଡ ଟ୍ରମ୍ପଙ୍କ ନାମ ବାଲଟ୍ ରେ ରହିପାରିବ ନାହିଁ ବୋଲି ରାୟ ଦେଇଥିଲେ ?

- କଲୋରାଡୋ ସୁପ୍ରିମ୍ କୋର୍ଟ
- ଆମେରିକାର ସୁପ୍ରିମ୍ କୋର୍ଟ
- ମେନ୍ ଟ୍ରାଏଲ କୋର୍ଟ
- ଆରିଜୋନା ହାଇକୋର୍ଟ

13. Who is the new Chief Minister of Mizoram?  
 a) Mr. Lalduhoma  
 b) Mr. Zoramthanga  
 c) Mr. Lal Thanhawla  
 d) Mr. Laldenga
14. Who was recently appointed Prime Minister of New Zealand?  
 a) Mr. Christopher Luxon  
 b) Mr. Chris Hipkins  
 c) Mr. Winston Peters  
 d) Mr. Jacinda Ardern
15. Who has been selected for Kendra Sahitya Akademy award in Odia Literature for 2023?  
 a) Sri Yasodhara Mishra  
 b) Sri Ashutosh Parida  
 c) Sri Hrushikesh Mallick  
 d) Smt. Paramita Satpathy
16. Who is India's Ambassador to USA?  
 a) Shri Navtej Sarna  
 b) Shri S. Jaishankar  
 c) Shri Taranjit Singh Sandhu  
 d) Shri Harsh Vardhan Shringala
17. Who is the Chief Minister of Telangana ?  
 a) Shri K Srihari  
 b) Shri A Revanth Reddy  
 c) Shri K Chandrasekhar Rao  
 d) Shri B. Vikramarka Mallu
18. What does BSKY stand for?  
 a) Biju Swasthya Kalyan Yojna  
 b) Biju Swachh Kalyan Jojana  
 c) Biju Samast Kalyan Yojana  
 d) Biju Sangeet Kalyan Yojana
19. Who is Mr. Rahul Narwekar?  
 a) Speaker of Maharashtra  
 b) Deputy Chief Minister of Maharashtra  
 c) Governor of Maharashtra  
 d) Home Minister of Maharashtra
13. ମିଜୋରାମର ନୂଆ ମୁଖ୍ୟମନ୍ତ୍ରୀ କିଏ ?  
 a) ଶ୍ରୀ ଲାଲଦୁହୋମା  
 b) ଶ୍ରୀ ଜୋରାମଥାଙ୍ଗା  
 c) ଶ୍ରୀ ଲାଲ ଥାନ୍ହାଘା  
 d) ଶ୍ରୀ ଲାଲଡେଙ୍ଗା
14. ନିକଟରେ କିଏ ନ୍ୟୁଜିଲାଣ୍ଡର ପ୍ରଧାନମନ୍ତ୍ରୀ ଭାବରେ ନିଯୁକ୍ତ ହୋଇଥିଲେ ?  
 a) ଶ୍ରୀ କ୍ରିଷ୍ଟୋଫର ଲକ୍ସନ  
 b) ଶ୍ରୀ କ୍ରିସ୍ ହିପକିନ୍ସ  
 c) ଶ୍ରୀ ୱିନଷ୍ଟନ ପିଟର୍ସ  
 d) ଶ୍ରୀ ଜାସିନ୍ଦା ଆର୍ଡେନ
15. ୨୦୨୩ ପାଇଁ ଓଡ଼ିଆ ସାହିତ୍ୟରେ, କେନ୍ଦ୍ର ସାହିତ୍ୟ ଏକାଡେମୀ ପୁରସ୍କାର ପାଇଁ କିଏ ମନୋନୀତ ହୋଇଛନ୍ତି ?  
 a) ଶ୍ରୀ ଯଶୋଧର ମିଶ୍ର  
 b) ଶ୍ରୀ ଆଶୁତୋଷ ପରିଡ଼ା  
 c) ଶ୍ରୀ ହୃଷିକେଶ ମଲିକ  
 d) ଶ୍ରୀମତୀ ପରମିତା ଶତପଥୀ
16. ଆମେରିକାରେ ଭାରତର ରାଷ୍ଟ୍ରଦୂତ କିଏ ?  
 a) ଶ୍ରୀ ନବଜେତ ସରନା  
 b) ଶ୍ରୀ ଏସ୍ ଜୟଶଙ୍କର  
 c) ଶ୍ରୀ ତରଜିତ ସିଂ ସନ୍ଧୁ  
 d) ଶ୍ରୀ ହର୍ଷବର୍ଦ୍ଧନ ଶ୍ରୀଙ୍ଗାଲା
17. ତେଲେଙ୍ଗାନାର ମୁଖ୍ୟମନ୍ତ୍ରୀ କିଏ ?  
 a) ଶ୍ରୀ କେ ଶ୍ରୀହରି  
 b) ଶ୍ରୀ ଏ ରେବନ୍ତ ରେଡ୍ଡୀ  
 c) ଶ୍ରୀ କେ ଚନ୍ଦ୍ରଶେଖର ରାଓ  
 d) ଶ୍ରୀ ବି. ବିକ୍ରମାର୍କ ମଲ୍ଲୁ
18. ବିଏସକେସ୍କାୟର ଅର୍ଥ କ'ଣ ?  
 a) ବିଜୁ ସ୍ଵାସ୍ଥ୍ୟ କଲ୍ୟାଣ ଯୋଜନା  
 b) ବିଜୁ ସ୍ଵଚ୍ଛ କଲ୍ୟାଣ ଯୋଜନା  
 c) ବିଜୁ ସମସ୍ତ କଲ୍ୟାଣ ଯୋଜନା  
 d) ବିଜୁ ସଙ୍ଗୀତ କଲ୍ୟାଣ ଯୋଜନା
19. ଶ୍ରୀ ରାହୁଲ ନାର୍ଵେକର କିଏ ?  
 a) ମହାରାଷ୍ଟ୍ରର ବାଚସ୍ପତି  
 b) ମହାରାଷ୍ଟ୍ରର ଉପମୁଖ୍ୟମନ୍ତ୍ରୀ  
 c) ମହାରାଷ୍ଟ୍ରର ରାଜ୍ୟପାଳ  
 d) ମହାରାଷ୍ଟ୍ରର ଗୃହମନ୍ତ୍ରୀ

20. Director of FBI visited India in December 2023 and met CBI & NIA Chief, among others. Name the present Director of FBI.

- J. Edgar Hoover
- Christopher A. Wray
- James B Comey
- Robert S. Muller

21. What is AMA Bank?

- Banking Services in all Grama Panchayats in Odisha
- Name of a new Private Sector Bank
- Name of a new Public Sector Bank
- None of the above

22. Who has been named person of Year-2023 by "Time" magazine?

- Mr. Joe Biden
- Mr. Taylor Swift
- Mr. Narendra Modi
- Mr. Vladmir Putin

23. As in January-2023 which among the following countries does not allow Visa free travel to Indians?

- Sri Lanka
- Malaysia
- Iran
- Myanmar

24. First world Odia Language conference is scheduled to be held from Feb. 3 to Feb. 5, 2024 in Bhubaneswar. What is the Tagline of its Logo?

- Language is the future
- Promote Mother tongue
- Promote Odia Language
- Peace through Language

25. Where was Kalinga Super Cup held in Jan-2024?

- Kalinga Stadium, Bhubaneswar
- Barbati Stadium, Cuttack
- National Stadium, New Delhi
- Rabindra Sarobar Stadium, Kolkata

20. ୨୦୨୩ ଡିସେମ୍ବରରେ, ଏଫବିଆଇର ନିର୍ଦ୍ଦେଶକ ଭାରତ ଗସ୍ତରେ ଆସି ସିବିଆଇ ଓ ଏନ୍ଆଇଏ ମୁଖ୍ୟଙ୍କୁ ଭେଟିଥିଲେ। ବର୍ତ୍ତମାନର ଏଫବିଆଇ ନିର୍ଦ୍ଦେଶକଙ୍କ ନାମ କୁହନ୍ତୁ।

- ଜେ.ଏଡଗାର ହୁଭର
- କ୍ରିଷ୍ଟୋଫର ଏ.ରେ
- ଜେମ୍ସ ବି କୋମେ
- ରବର୍ଟ ଏସ୍ ମୁଲର

21. ଏଏମଏ ବ୍ୟାଙ୍କ କ'ଣ ?

- ଓଡ଼ିଶାର ସମସ୍ତ ଗ୍ରାମ ପଞ୍ଚାୟତରେ ବ୍ୟାଙ୍କିଙ୍ଗ ସେବା
- ଏକ ନୂତନ ଘରୋଇ କ୍ଷେତ୍ରର ବ୍ୟାଙ୍କର ନାମ
- ଏକ ନୂତନ ରାଷ୍ଟ୍ରାୟତ ବ୍ୟାଙ୍କର ନାମ
- ଉପରୋକ୍ତ କୌଣସିଟି ନୁହେଁ

22. "ଟାଇମ୍" ପତ୍ରିକା ଦ୍ୱାରା କାହାକୁ "ପର୍ସନ ଅଫ ଦ ଇୟର-୨୦୨୩" ଭାବରେ ନାମନୀତ କରାଯାଇଛି ?

- ଶ୍ରୀ ଜୋ ବାଇଡେନ୍
- ଶ୍ରୀ ଟେଲର ସ୍ୱିଫ୍ଟ
- ଶ୍ରୀ ନରେନ୍ଦ୍ର ମୋଦୀ
- ଶ୍ରୀ ଭ୍ଲାଦମିର ପୁଟିନ

23. ଜାନୁଆରୀ-୨୦୨୩ ସୁଦ୍ଧା ନିମ୍ନଲିଖିତ ମଧ୍ୟରୁ କେଉଁ ଦେଶ ଭାରତୀୟମାନଙ୍କୁ ଭିସା ମୁକ୍ତ ଯାତ୍ରା କରିବାକୁ ଅନୁମତି ଦେଇ ନାହିଁ ?

- ଶ୍ରୀଲଙ୍କା
- ମାଲେସିଆ
- ଇରାନ
- ମିଆଁମାର

24. ୨୦୨୪ ଫେବୃଆରୀ ୩ ରୁ ୫ ତାରିଖ ପର୍ଯ୍ୟନ୍ତ, ଭୁବନେଶ୍ୱରରେ ପ୍ରଥମ ବିଶ୍ୱ ଓଡ଼ିଆ ଭାଷା ସମ୍ମିଳନୀ ଅନୁଷ୍ଠିତ ହେବ। ଏହାର ଲୋଗୋର ଟ୍ୟାଗ୍ ଲାଇନ୍ କ'ଣ ?

- ଲାଙ୍ଗୁଏଜ୍ ଇଜ୍ ଦ ଫ୍ୟୁଚର
- ପ୍ରୋମୋଟ୍ ମଦର ଟଙ୍ଗୁଏ
- ପ୍ରୋମୋଟ୍ ଓଡ଼ିଆ ଲାଙ୍ଗୁଏଜ୍
- ପିସ୍ ଥ୍ରୁ ଲାଙ୍ଗୁଏଜ୍

25. ଜାନୁଆରୀ-୨୦୨୪ରେ କଳିଙ୍ଗ ସୁପର କପ୍ କେଉଁଠାରେ ଅନୁଷ୍ଠିତ ହୋଇଥିଲା ?

- କଳିଙ୍ଗ ଷ୍ଟାଡିୟମ୍, ଭୁବନେଶ୍ୱର
- ବାରବାଟୀ ଷ୍ଟାଡିୟମ୍, କଟକ
- ନ୍ୟାସନାଲ ଷ୍ଟାଡିୟମ୍, ନ୍ୟୁଦିଲ୍ଲୀ
- ରବୀନ୍ଦ୍ର ସରୋବର ଷ୍ଟାଡିୟମ୍, କୋଲକାତା

26. Who was recently sworn in as Prime Minister of France?
- Mr. Laurent Fablus
  - Mr. Gabriel Attal
  - Mr. Elisabeth Borne
  - Mr. Jean Castex
26. ନିକଟରେ କିଏ ଫ୍ରାନ୍ସର ପ୍ରଧାନମନ୍ତ୍ରୀ ଭାବରେ ଶପଥ ଗ୍ରହଣ କରିଥିଲେ ?
- ଶ୍ରୀ ଲରେଣ୍ଟ ଫାବଲସ୍
  - ଶ୍ରୀ ଗାବ୍ରିଏଲ୍ ଅଟାଲ
  - ଶ୍ରୀ ଏଲିଜାବେଥ୍ ବୋର୍ନ
  - ଶ୍ରୀ ଜିନ୍ କାଷ୍ଟେକ୍ସ
27. What is the name of satellite launched in space by ISRO recently for observing sun?
- Aditya-L1
  - Aditya-M1
  - Chandrayan-3
  - EOS-7
27. ନିକଟରେ ଇସ୍ରୋ ଦ୍ୱାରା ସୂର୍ଯ୍ୟର ନିରୀକ୍ଷଣ ପାଇଁ ମହାକାଶରେ ଉଡ଼ିକ୍ଷେପଣ କରାଯାଇଥିବା ଉପଗ୍ରହର ନାମ କ'ଣ ?
- ଆଦିତ୍ୟ-ଏଲ୍ ୧
  - ଆଦିତ୍ୟ-ଏମ୍ ୧
  - ଚନ୍ଦ୍ରଯାନ-୩
  - ଇଓଏସ୍-୭
28. According to IMD, with respect to India, which of the following statements is true about Year 2023 (reference 1901-2023) in terms of heat?
- Warmest year on record
  - Second warmest year on record
  - Coldest year on record
  - Second coldest year on record
28. ଆଇଏମ୍‌ଡି ଅନୁଯାୟୀ, ଭାରତ ପରିପ୍ରେକ୍ଷୀରେ, ଗରମ ଦୃଷ୍ଟିରୁ, ନିମ୍ନଲିଖିତ ମଧ୍ୟରୁ କେଉଁଟି, ବର୍ଷ ୨୦୨୩ (ରେଫରେନ୍ସ ୧୯୦୧-୨୦୨୩) ବିଷୟରେ ସତ ?
- ରେକର୍ଡରେ ସବୁଠାରୁ ଉଷ୍ଣ ବର୍ଷ
  - ରେକର୍ଡରେ ଦ୍ୱିତୀୟ ସବୁଠାରୁ ଉଷ୍ଣ ବର୍ଷ
  - ରେକର୍ଡରେ ସବୁଠାରୁ ଥଣ୍ଡା ବର୍ଷ
  - ରେକର୍ଡରେ ଦ୍ୱିତୀୟ ସବୁଠାରୁ ଥଣ୍ଡା ବର୍ଷ
29. Which film was awarded golden peacock at 54<sup>th</sup> International Film Festival of India?
- I have electric Dreams
  - Endless Borders
  - Ring Wandering
  - Into the Darkness
29. ୫୪ତମ ଆନ୍ତର୍ଜାତୀୟ ଚଳଚ୍ଚିତ୍ର ମହୋତ୍ସବରେ କେଉଁ ଚଳଚ୍ଚିତ୍ରକୁ ଗୋଲ୍ଡେନ୍ ପିକକ୍ ପୁରସ୍କାର ମିଳିଥିଲା ?
- ଆଇ ହାଭ୍ ଇଲେକ୍ଟ୍ରିକ୍ ଡ୍ରିମ୍ସ
  - ଏଣ୍ଡଲେସ୍ ବୋର୍ଡର୍ସ
  - ରିଙ୍ଗ୍ ୱାଣ୍ଡରିଙ୍ଗ୍
  - ଇଣ୍ଟୋ ଦ ଡାର୍କନେସ୍
30. achievement Award at 54<sup>th</sup> International Film Festival of India?
- Michael Douglas
  - Carlos Saura
  - Istvan Szabo
  - Martin Scorsese
30. ୫୪ତମ ଆନ୍ତର୍ଜାତୀୟ ଚଳଚ୍ଚିତ୍ର ମହୋତ୍ସବରେ ସତ୍ୟଜିତ ରୟ ଲାଲପଟାକମ୍ ଆତିଭମେଣ୍ଟ ପୁରସ୍କାର କିଏ ପାଇଥିଲେ ?
- ମାଇକେଲ୍ ଡଗ୍ଲାସ୍
  - କାର୍ଲୋସ୍ ସୋରା
  - ଇଷ୍ଟଭାନ୍ ଜାବୋ
  - ମାର୍ଟିନ୍ ସ୍କୋରସିସ୍
31. Which country has moved International Court of Justice (ICJ) against Israel alleging Gaza operations amount to genocide?
- India
  - South Africa
  - Jordan
  - Saudi Arab
31. ଗାଜା ଅପରେସନ ଗଣହତ୍ୟା ସଦୃଶ ବୋଲି ଅଭିଯୋଗ କରି ଇସ୍ରାଏଲ ବିରୋଧରେ କେଉଁ ଦେଶ, ଆନ୍ତରାଷ୍ଟ୍ରୀୟ ନ୍ୟାୟାଳୟର ସ୍ୱାର୍ଥ ହୋଇଛି ?
- ଭାରତ
  - ଦକ୍ଷିଣ ଆଫ୍ରିକା
  - ଜୋର୍ଡାନ
  - ସାଉଦି ଆରବ

32. Which city emerged at top in Swachha Bharat Ranking, 2023?

- Indore
- Bhubaneswar
- Navi Mumbai
- Bhopal

33. On which day is Netaji Subash Chandra Bose Jayanti observed?

- January 23
- January 22
- January 24
- January 25

34. Where was the Annual meeting of World Economic Forum conducted from 15th -19th January, 2024?

- Doha
- Dubai
- Davos
- Denver

35. Lanjia Saura paintings, which recently got GI tag, belong to which state?

- West Bengal
- Odisha
- Jharkhand
- Bihar

32. ସ୍ୱଚ୍ଛ ଭାରତ ରାଙ୍କିଙ୍ଗ, ୨୦୨୩ ରେ କେଉଁ ସହର ଶୀର୍ଷରେ ରହିଛି ?

- ଇନ୍ଦୋର
- ଭୁବନେଶ୍ୱର
- ନାଭି ମୁମ୍ବାଇ
- ଭୋପାଳ

33. କେଉଁ ଦିନ ନେତାଜୀ ସୁଭାଷ ଚନ୍ଦ୍ର ବୋଷ ଜୟନ୍ତୀ ପାଳନ କରାଯାଏ ?

- ଜାନୁଆରୀ ୨୩
- ଜାନୁଆରୀ ୨୨
- ଜାନୁଆରୀ ୨୪
- ଜାନୁଆରୀ ୨୫

34. ୨୦୨୪ ଜାନୁଆରୀ ୧୫-୧୯ ପର୍ଯ୍ୟନ୍ତ, ବିଶ୍ୱ ଅର୍ଥନୈତିକ ଫୋରମର ବାର୍ଷିକ ବୈଠକ କେଉଁଠାରେ ଅନୁଷ୍ଠିତ ହୋଇଥିଲା?

- ଦୋହା
- ଦୁବାଇ
- ଡାଭୋସ୍
- ଡେନଭର

35. ନିକଟରେ ଜିଆଇ ଟ୍ୟାଗ ପାଇଥିବା ଲାଞ୍ଜିଆ ସୌରା ଚିତ୍ରକଳା କେଉଁ ରାଜ୍ୟର ?

- ପଶ୍ଚିମବଙ୍ଗ
- ଓଡ଼ିଶା
- ଝାରଖଣ୍ଡ
- ବିହାର

### Computer Fundamental and Internet Awareness

36. In MS-WORD, Ctrl + Q is used to:

- Remove Paragraph formatting (Line Space and Paragraph Space)
- Close Word Application without saving Document
- Print Whole Document without confirmation
- Does nothing

### କମ୍ପ୍ୟୁଟର ମୌଳିକ ଜ୍ଞାନ ଏବଂ ଇଣ୍ଟରନେଟ୍ ସଚେତନତା

36. ଏମଏସ୍-ୱାର୍ଡରେ, Ctrl + Q ବ୍ୟବହାର କରାଯାଏ:

- ପାରାଗ୍ରାଫ୍ ଫର୍ମାଟିଂ(ଲାଇନ୍ ସ୍ପେସ୍ ଏବଂ ପାରାଗ୍ରାଫ୍ ସ୍ପେସ୍) ଅପସାରଣ କରିବା ପାଇଁ
- ଡକ୍ୟୁମେଣ୍ଟ୍ ସେଭ୍ ନକରି ଓର୍ଡ ଆପ୍ଲିକେସନ୍ ବନ୍ଦ କରିବା ପାଇଁ
- ବିନା କନଫର୍ମେସନରେ ପୂରା ଡକ୍ୟୁମେଣ୍ଟ୍ ପ୍ରିଣ୍ଟ କରିବା ପାଇଁ
- କିଛି କରେ ନାହିଁ

37. In MS-WORD, Short cut Ctrl + F is used to:
- Open Find and Replace Dialog box with activating Find Tab
  - Open Page Setup Dialog box with activating Layout Tab
  - Open Font Dialog Box with activating Font tab
  - Open File Save as Dialog box
37. ଏମଏସ-ୱାର୍ଡରେ, ସର୍ଟ କଟ୍ କୀ Ctrl + F ବ୍ୟବହାର କରାଯାଏ:
- ଫାଇଣ୍ଡ ଚ୍ୟାଟ୍ ସକ୍ରିୟ କରିବା ସହିତ ଫାଇଣ୍ଡ ଏଣ୍ଡ ରିପ୍ଲେସ୍ ଡାଏଲଗ ବକ୍ସ ଖୋଲିବା ପାଇଁ
  - ଲେ-ଆଉଟ୍ ଚ୍ୟାଟ୍ ସକ୍ରିୟ କରିବା ସହ ପେଜ ସେଟଅପ୍ ଡାଏଲଗ ବକ୍ସ ଖୋଲିବା ପାଇଁ
  - ଫଣ୍ଟ ଚ୍ୟାଟ୍ ସକ୍ରିୟ କରିବା ସହ ଫଣ୍ଟ ଡାଏଲଗ ବକ୍ସ ଖୋଲିବା ପାଇଁ
  - ଫାଇଲ୍ ସେଭ ଆଜ୍ ଡାଏଲଗ ବକ୍ସ ଖୋଲିବା ପାଇଁ
38. Which of the following options is used to create a numbered list in MS Word?
- Ctrl + N
  - Ctrl + I
  - Ctrl + U
  - Ctrl + Shift + L
38. MS ୱାର୍ଡରେ ଏକ ନମ୍ବର ତାଲିକା ସୃଷ୍ଟି କରିବାକୁ ନିମ୍ନଲିଖିତ ମଧ୍ୟରୁ କେଉଁ ବିକଳ୍ପ ବ୍ୟବହାର କରାଯାଏ?
- Ctrl + N
  - Ctrl + I
  - Ctrl + U
  - Ctrl + Shift + L
39. Which of the following options is used to undo the last action in MS Word?
- Ctrl + Z
  - Ctrl + Y
  - Ctrl + X
  - Ctrl + U
39. ନିମ୍ନଲିଖିତ ମଧ୍ୟରୁ କେଉଁ ବିକଳ୍ପ ଏମଏସ ୱାର୍ଡରେ ଶେଷ କ୍ରିୟାକୁ ନିଷ୍ପତ୍ତ କରିବାକୁ ବ୍ୟବହୃତ ହୁଏ?
- Ctrl + Z
  - Ctrl + Y
  - Ctrl + X
  - Ctrl + U
40. Which ribbon tab contains the options for changing the paragraph line spacing in MS Word?
- Home
  - Insert
  - Page Layout
  - References
40. ଏମଏସ ୱାର୍ଡରେ ପାରାଗ୍ରାଫ୍ ଲାଇନ୍ ବ୍ୟବଧାନ ପରିବର୍ତ୍ତନ କରିବା ପାଇଁ କେଉଁ ରିବନ୍ ଟ୍ୟାବରେ ବିକଳ୍ପ ରହିଛି
- ହୋମ୍
  - ଇନସର୍ଟ
  - ପେଜ୍ ଲେଆଉଟ୍
  - ରେଫରେନ୍ସସେସ
41. What is the function of the Thesaurus feature in MS Word?
- To translate text into different languages
  - To find synonyms and antonyms of words
  - To change font styles
  - To create hyperlinks
41. ଏମଏସ ୱାର୍ଡରେ ଥେସୋରସ୍ ବୈଶିଷ୍ଟ୍ୟର କାର୍ଯ୍ୟ କ'ଣ?
- ଟେକ୍ସଟକୁ ବିଭିନ୍ନ ଭାଷାରେ ଅନୁବାଦ କରିବା
  - ଶବ୍ଦର ସମାର୍ଥକ ଶବ୍ଦ ଏବଂ ବିଲୋମ ଶବ୍ଦ ଖୋଜିବା
  - ଫଣ୍ଟ ଶୈଳୀ ପରିବର୍ତ୍ତନ କରିବା
  - ହାଇପରଲିଙ୍କ୍ ସୃଷ୍ଟି କରିବା
42. How can you break the current column and start a new column immediately in MS-Word?
- Press Ctrl + Shift + Enter
  - Press Alt + Enter
  - Press Ctrl + Enter
  - Press Alt + Shift + Enter
42. ଏମଏସ-ୱାର୍ଡରେ ଆପଣ କିପରି ବର୍ତ୍ତମାନର କଲମ୍ କୁ ଭାଙ୍ଗି ତୁରନ୍ତ ଏକ ନୂତନ କଲମ୍ ଆରମ୍ଭ କରିପାରିବେ?
- Ctrl + Shift + Enter ଦବାନ୍ତୁ
  - Alt + Enter ଦବାନ୍ତୁ
  - Ctrl + Enter ଦବାନ୍ତୁ
  - Alt + Shift + Enter ଦବାନ୍ତୁ



43. A user wishes to remove a spreadsheet from a workbook. Which is the correct sequence of events that will do this?

- a) Go to File-Save As – Save As Type – Excel worksheet
- b) Right click on the spreadsheet tab and select DELETE
- c) Right click on the spreadsheet and select Insert – Entire Column
- d) None of the above

44. What is represented by the small, black square in the lower-right corner of an active cell or range in MS-Excel?

- a) Copy handle
- b) File handle
- c) Insert handle
- d) Border

45. When a row of data is to be converted into columns in MS-Excel:

- a) Copy the cells in row, select the same number of cells in row and paste
- b) Copy the cells in column then choose Edit >> Paste Special, then click Transpose and OK
- c) Copy the cells then go to Format >> Cells then on Alignment tab click Transpose check box and click OK
- d) Select the cells then place the cell pointer on new cell and choose Edit >> Paste Special, mark Transpose check box and click OK

46. In MS Excel To hold row and column titles in places so that they do not scroll when you scroll a worksheet, click the-

- a) Unfreeze panes command on the window menu
- b) Freeze panes command on the window menu
- c) Hold titles command on the edit menu
- d) Split command on the window menu

47. Which tool you will use to join some cells and place the content at the middle of joined cell in MS Excel?

43. ଜଣେ ଉପଭୋକ୍ତା ଏକ ସ୍ପ୍ରେଡ଼ସିଟ୍ ରୁ ଏକ ସ୍ପ୍ରେଡ଼ସିଟ୍ ଅପସାରଣ କରିବାକୁ ଚାହାଁନ୍ତି। ପ୍ରକ୍ରିୟାର ସଠିକ୍ କ୍ରମ କ'ଣ ଯାହା ଏହା କରିବ?

- a) ଫାଇଲ୍ କୁ ଯାଆନ୍ତୁ - ସେଭ୍ ଆଜ - ସେଭ୍ ଆଜ ଟାଇପ୍ - ଏକ୍ସେଲ୍ ସାର୍ଟସିଟ୍
- b) ସ୍ପ୍ରେଡ଼ସିଟ୍ ଟ୍ୟାବ୍ ଉପରେ ଠାଇଟ୍ କ୍ଲିକ୍ କରନ୍ତୁ ଏବଂ ଡିଲିଟ୍ ଚୟନ କରନ୍ତୁ
- c) ସ୍ପ୍ରେଡ଼ସିଟ୍ ଉପରେ ଠାଇଟ୍ କ୍ଲିକ୍ କରନ୍ତୁ ଏବଂ ଇନସର୍ଟ - ଏଣ୍ଟାୟର କଲମ୍ ଚୟନ କରନ୍ତୁ
- d) ଉପରୋକ୍ତ କୌଣସିଟି ନୁହେଁ

44. ଏମ୍‌ଏସ୍-ଏକ୍ସେଲ୍ ରେ, ଏକ ସକ୍ରିୟ ସେଲ୍ କିମ୍ବା ରେଞ୍ଜ ର ନିମ୍ନ-ଡାହାଣ କୋଣରେ ଥିବା ଛୋଟ, କଳା ବର୍ଗାକାର କ'ଣ ଦର୍ଶାଯାଇଥାଏ?

- a) କପି ହ୍ୟାଣ୍ଡଲ୍
- b) ଫାଇଲ୍ ହ୍ୟାଣ୍ଡଲ୍
- c) ଇନସର୍ଟ ହ୍ୟାଣ୍ଡଲ୍
- d) ବର୍ଡର୍

45. ଏମ୍‌ଏସ୍-ଏକ୍ସେଲ୍ ରେ, ଡାଟା ର ଏକ ରୋ କୁ, କଲମ୍ ରେ ରୂପାନ୍ତରିତ କରିବାକୁ:

- a) ଧାଡ଼ିରେ ଥିବା ସେଲ୍ ଗୁଡ଼ିକୁ କପି କରନ୍ତୁ, ଧାଡ଼ିରେ ସମାନ ସଂଖ୍ୟକ ସେଲ୍ ଚୟନ କରନ୍ତୁ ଏବଂ ପେଷ୍ଟ କରନ୍ତୁ
- b) କଲମ୍ ରେ ଥିବା ସେଲ୍ ଗୁଡ଼ିକୁ କପି କରନ୍ତୁ ତା'ପରେ ଏଡିଟ୍ >> ପେଷ୍ଟ ସ୍ପେସିଆଲ୍ ଚୟନ କରନ୍ତୁ, ତାପରେ ଟ୍ରାନ୍ସପୋସ୍ ଏବଂ ଓକେ କ୍ଲିକ୍ କରନ୍ତୁ
- c) ସେଲ୍ ଗୁଡ଼ିକ କପି କରିବା ପରେ ଫର୍ମାଟ୍ କୁ ଯାଆନ୍ତୁ >> ସେଲ୍ କୁ ଯାଆନ୍ତୁ, ତା'ପରେ ଆଲାଇନମେଣ୍ଟ ଟ୍ୟାବ୍ ରେ ଟ୍ରାନ୍ସପୋସ୍ ଟେକ୍ ବକ୍ସ କ୍ଲିକ୍ କରନ୍ତୁ ଏବଂ ଓକେ କ୍ଲିକ୍ କରନ୍ତୁ
- d) ସେଲ୍ ଗୁଡ଼ିକୁ ଚୟନ କରନ୍ତୁ, ତାପରେ ନୂତନ ସେଲ୍ ରେ ସେଲ୍ ପଏଣ୍ଟର୍ ରଖନ୍ତୁ ଏବଂ ଏଡିଟ୍ >> ପେଷ୍ଟ ସ୍ପେସିଆଲ୍ ଚୟନ କରନ୍ତୁ, ଟ୍ରାନ୍ସପୋସ୍ ଟେକ୍ ବକ୍ସ ଚିହ୍ନିତ କରନ୍ତୁ ଏବଂ ଓକେ କ୍ଲିକ୍ କରନ୍ତୁ

46. ଏମ୍‌ଏସ୍-ଏକ୍ସେଲ୍‌ରେ, ରୋ ଏବଂ କଲମ୍ ଶୀର୍ଷକ ଆପଣ ଖାର୍ଜିଟ୍ ସ୍ପ୍ରେଡ଼ସିଟ୍ କରିବା ସମୟରେ ସ୍ପ୍ରେଡ଼ସିଟ୍ ନ କରି, ଏକ ସ୍ଥାନରେ ବାନ୍ଧି ରଖିବାକୁ କ୍ଲିକ୍ କରନ୍ତୁ-

- a) ଡିଫ୍ରୋଜ୍ ମେନ୍ୟୁରେ ଅନ୍‌ଫ୍ରୀଜ୍ ପ୍ୟାନ୍ସ କମାଣ୍ଡକୁ
- b) ଡିଫ୍ରୋଜ୍ ମେନ୍ୟୁରେ ଫ୍ରୀଜ୍ ପ୍ୟାନ୍ସ କମାଣ୍ଡକୁ
- c) ଏଡିଟ୍ ମେନ୍ୟୁରେ ହୋଲ୍ଡ ଟାଇଟଲ୍ କମାଣ୍ଡକୁ
- d) ଡିଫ୍ରୋଜ୍ ମେନ୍ୟୁରେ ସ୍ପ୍ଲିଟ୍ କମାଣ୍ଡକୁ

47. ଏମ୍‌ଏସ୍ ଏକ୍ସେଲ୍‌ରେ, ଆପଣ କେଉଁ ଟୁଲ୍ ବ୍ୟବହାର କରି କିଛି ସେଲ୍ କୁ ଯୋଡ଼ି ପାରିବେ ଏବଂ ଯୋଡ଼ି ହୋଇଥିବା ସେଲ୍ ର ମଝିରେ ବିଷୟବସ୍ତୁ ରଖିପାରିବେ?

- From Format Cells dialog box click on Merge Cells check box
- From Format Cells dialog box select the Centered alignment
- From Format Cells dialog box choose Merge and Center check box
- Click on Merge and Center tool on formatting toolbar

48. In MS-Excel, Long text can be broken down into many lines within a cell. You can do this through:

- Wrap Text in Format > Cells
- Justify in Edit > Cells
- Text Wrapping in Format > Cells
- All of the above

49. The first cell in EXCEL worksheet is labelled as:

- AA
- A1
- Aa
- A0

50. Which of the cell pointer indicate that you can move the content to another cell in EXCEL?

- Doctor's symbol (Big Plus)
- Small thin plus icon
- Mouse Pointer with anchor at the tip
- None of the above

51. In Microsoft PowerPoint to preview a motion path effect using the custom animation task pane, you should--

- click the play button
- click the show effect button
- double click the motion path
- All of the above

52. Which is the menu command to recolor a picture on a slide in Microsoft PowerPoint?

- Insert -> Picture -> Recolor
- Tools -> Picture -> Recolor
- Format -> Picture -> Recolor
- Edit -> Picture -> Recolor

- ଫର୍ମାଟ ସେଲ୍ ଡାଏଲଗ୍ ବକ୍ସରୁ ମର୍ଜ୍ ସେଲ୍ ଚେକ୍ ବକ୍ସରେ କ୍ଲିକ୍ କରନ୍ତୁ
- ଫର୍ମାଟ ସେଲ୍ ଡାଏଲଗ୍ ବକ୍ସରୁ ସେଣ୍ଟର୍ ଆଲାଇନମେଣ୍ଟ ଚୟନ କରନ୍ତୁ
- ଫର୍ମାଟ ସେଲ୍ ଡାଏଲଗ୍ ବକ୍ସରୁ ମର୍ଜ୍ ଏଣ୍ଡ ସେଣ୍ଟର୍ ଚେକ୍ ବକ୍ସ ଚୟନ କରନ୍ତୁ
- ଫର୍ମାଟିଂ ଟୁଲ୍ ବାରରେ ମର୍ଜ୍ ଏଣ୍ଡ ସେଣ୍ଟର୍ ଟୁଲ୍ ଉପରେ କ୍ଲିକ୍ କରନ୍ତୁ

48. ଏମ୍‌ଏସ୍-ଏକ୍ସେଲ୍ ରେ, ଲମ୍ବା ଟେକ୍ସଟ୍‌କୁ ଏକ ସେଲ୍ ମଧ୍ୟରେ ଅନେକ ଲାଇନରେ ବିଭକ୍ତ କରାଯାଇପାରେ। ଆପଣ କେଉଁ ମାଧ୍ୟମରେ ଏହା କରିପାରିବେ?

- ଫର୍ମାଟରେ ରାପ୍ ଟେକ୍ସଟ୍ > ସେଲ୍
- ଏଡିଟ୍ ରେ ଜଷ୍ଟିଫାଇ > ସେଲ୍
- ଫର୍ମାଟରେ ଟେକ୍ସଟ୍ ରାପିଙ୍ଗ୍ > ସେଲ୍
- ଉପରୋକ୍ତ ସମସ୍ତ

49. ଏକ୍ସେଲ୍ ଷୀଟ୍‌ରେ ରେ ଥିବା ପ୍ରଥମ ସେଲ୍ କୁ କିପରି ଲେବଲ୍ କରାଯାଏ ?

- AA
- A1
- Aa
- A0

50. କେଉଁ ସେଲ୍ ପଏଣ୍ଟର ସୂଚିତ କରେ ଯେ ଆପଣ ଏକ୍ସେଲ୍ ରେ ବିଷୟବସ୍ତୁକୁ ଅନ୍ୟ ସେଲ୍ କୁ ସ୍ଥାନାନ୍ତର କରିପାରିବେ?

- ଡକ୍ଟରସ୍ ସିମ୍ବଲ୍ (ବିଗ୍ ପ୍ଲସ୍)
- ଛୋଟ ପତଳା ପ୍ଲସ୍ ଆଇକନ୍
- ମୁଣ୍ଡରେ ଆଙ୍କର୍ ସହ ମାଉସ୍ ପଏଣ୍ଟର
- ଉପରୋକ୍ତ କୌଣସିଟି ନୁହେଁ

51. ମାଇକ୍ରୋସୋଫ୍ଟ ପାୱାରପଏଣ୍ଟରେ କଣ୍ଠନ ଆନିମେସନ୍ ଟାସ୍କ ପେନ୍ ବ୍ୟବହାର କରି ଏକ ମୋସନ ପାଥ ଇଫେକ୍ଟ୍ କୁ ପ୍ରିଭ୍ୟୁ କରିବାକୁ, ଆପଣ କ'ଣ କରିବା ଉଚିତ୍ ?

- ପ୍ଲେ ବଟନ୍ କୁ କ୍ଲିକ୍ କରନ୍ତୁ
- ଶୋ ଇଫେକ୍ଟ୍ ବଟନ୍ କୁ କ୍ଲିକ୍ କରନ୍ତୁ
- ମୋସନ ପାଥ କୁ ଦୁଇଥର କ୍ଲିକ୍ କରନ୍ତୁ
- ଉପରୋକ୍ତ ସମସ୍ତ

52. ମାଇକ୍ରୋସୋଫ୍ଟ ପାୱାରପଏଣ୍ଟରେ ଏକ ସ୍ଲାଉଡରେ ଏକ ଫଟୋକୁ ପୁନଃ ରଙ୍ଗ କରିବାକୁ ମେନୁ କମାଣ୍ଡ କ'ଣ?

- Insert -> Picture -> Recolor
- Tools -> Picture -> Recolor
- Format -> Picture -> Recolor
- Edit -> Picture -> Recolor

53. Which command will you use in PowerPoint if you need to change the color of different objects without changing content?

- Design Template
- Color Scheme
- Font Color
- Object Color

54. In Microsoft PowerPoint to edit an already inserted embedded organization chart object:

- Double Click on the organization chart object
- CTRL + Click on the organization chart object
- SHIFT + Click on the organization chart object
- None of the above

55. How to change the order of Slides in Presentation?

- On Slide Sorter View click on the Soft Slides
- On Slide Sorter View click on the slide and drag to required position
- On Slide Thumbnail view click on the slide and drag to required position
- Slides order cannot be changed once it created

56. How to show the same presentation continuously in Microsoft PowerPoint?

- by enabling the option "Loop continuously until 'Esc'"
- by enabling the option "Repeat Presentation"
- by enabling the option "Show same Presentation"
- Presentation cannot be continue once it finished

57. Which of the following feature allows you to select more than one slide in slide sorter view in Microsoft PowerPoint?

- Alt + Click each slide
- Shift + drag each slide
- Shift + Click each slide
- Ctrl + Click each slide

53. ଯଦି ଆପଣ ବିଷୟବସ୍ତୁ ପରିବର୍ତ୍ତନ ନକରି ବିଭିନ୍ନ ବସ୍ତୁର ରଙ୍ଗ ପରିବର୍ତ୍ତନ କରିବାକୁ ଆବଶ୍ୟକ କରନ୍ତି ତେବେ ଆପଣ ପାଞ୍ଚାଠପଏଣ୍ଟରେ କେଉଁ କମାଣ୍ଡ ବ୍ୟବହାର କରିବେ?

- ଡିଜାଇନ୍ ଟେମ୍ପଲେଟ୍
- ରଙ୍ଗ ସ୍କିମ୍
- ଫଣ୍ଟ କଲର୍
- ଅବଜେକ୍ଟ କଲର୍

54. ମାଇକ୍ରୋସଫ୍ଟ ପାଞ୍ଚାଠପଏଣ୍ଟରେ, ପୂର୍ବରୁ ଇନସର୍ଟ କରାଯାଇଥିବା ଏକ ଏମ୍ବେଡ୍ଡେଡ୍ ଅର୍ଗାନାଇଜେସନ୍ ଚାର୍ଟ ଅବଜେକ୍ଟକୁ କିପରି ଏଡିଟ୍ କରିବେ ?

- ଅର୍ଗାନାଇଜେସନ୍ ଚାର୍ଟ ଅବଜେକ୍ଟ ଉପରେ ଡବଲ୍ କ୍ଲିକ୍ କରନ୍ତୁ
- CTRL + ଅର୍ଗାନାଇଜେସନ୍ ଚାର୍ଟ ଅବଜେକ୍ଟ ଉପରେ କ୍ଲିକ୍ କରନ୍ତୁ
- SHIFT + ଅର୍ଗାନାଇଜେସନ୍ ଚାର୍ଟ ଅବଜେକ୍ଟ ଉପରେ କ୍ଲିକ୍ କରନ୍ତୁ
- ଉପରୋକ୍ତ କୌଣସିଟି ନୁହେଁ

55. ପ୍ରେଜେଣ୍ଟେସନରେ ସ୍ଲାଇଡ୍ ଗୁଡ଼ିକର କ୍ରମ କିପରି ପରିବର୍ତ୍ତନ କରିବେ?

- ସ୍ଲାଇଡ୍ ସର୍ଟର ଭ୍ୟୁ ରେ ସଫ୍ଟ ସ୍ଲାଇଡ୍ ଉପରେ କ୍ଲିକ୍ କରନ୍ତୁ
- ସ୍ଲାଇଡ୍ ସର୍ଟର ଭ୍ୟୁ ରେ ସ୍ଲାଇଡ୍ ଉପରେ କ୍ଲିକ୍ କରନ୍ତୁ ଏବଂ ଆବଶ୍ୟକ ସ୍ଥାନକୁ ଡ୍ରାଗ୍ କରନ୍ତୁ
- ସ୍ଲାଇଡ୍ ଅନୁନେଲରେ ଦେଖନ୍ତୁ ସ୍ଲାଇଡ୍ ଉପରେ କ୍ଲିକ୍ କରନ୍ତୁ ଏବଂ ଆବଶ୍ୟକ ସ୍ଥିତିକୁ ଡ୍ରାଗ୍ କରନ୍ତୁ
- ସ୍ଲାଇଡ୍ ଅର୍ଡର ଥରେ ସୃଷ୍ଟି ହେବା ପରେ ପରିବର୍ତ୍ତନ କରାଯାଇପାରିବ ନାହିଁ

56. ମାଇକ୍ରୋସଫ୍ଟ ପାଞ୍ଚାଠପଏଣ୍ଟରେ ସମାନ ପ୍ରେଜେଣ୍ଟେସନକୁ କ୍ରମାଗତ ଭାବରେ କିପରି ଦେଖାଇବେ?

- "ଲୁପ୍ କଣ୍ଟିନ୍ୟୁଅସଲି ଅନଟିଲ୍ Esc" ଅପ୍ସନ କୁ ସକ୍ଷମ କରି
- "ରିପିଟ୍ ପ୍ରେଜେଣ୍ଟେସନ" ଅପ୍ସନକୁ ସକ୍ଷମ କରି
- "ସୋ ସେମ୍ ପ୍ରେଜେଣ୍ଟେସନ" ଅପ୍ସନକୁ ସକ୍ଷମ କରି
- ଥରେ ଏହା ସମାପ୍ତ ହେବା ପରେ ପ୍ରେଜେଣ୍ଟେସନ ଜାରି ରହିପାରିବ ନାହିଁ

57. ନିମ୍ନଲିଖିତ ମଧ୍ୟରୁ କେଉଁ ବୈଶିଷ୍ଟ୍ୟ ଆପଣଙ୍କୁ ମାଇକ୍ରୋସଫ୍ଟ ପାଞ୍ଚାଠପଏଣ୍ଟରେ ସ୍ଲାଇଡ୍ ସର୍ଟର ଭ୍ୟୁ ରେ ଏକରୁ ଅଧିକ ସ୍ଲାଇଡ୍ ଚୟନ କରିବାକୁ ଅନୁମତି ଦିଏ?

- Alt + ପ୍ରତ୍ୟେକ ସ୍ଲାଇଡ୍ କ୍ଲିକ୍ କରନ୍ତୁ
- Shift + ପ୍ରତ୍ୟେକ ସ୍ଲାଇଡ୍ ଡ୍ରାଗ୍ କରନ୍ତୁ
- Shift + ପ୍ରତ୍ୟେକ ସ୍ଲାଇଡ୍ କ୍ଲିକ୍ କରନ୍ତୁ
- Ctrl + ପ୍ରତ୍ୟେକ ସ୍ଲାଇଡ୍ କ୍ଲିକ୍ କରନ୍ତୁ

58. In MS-Access Cascade delete option-

- a) is used to delete all the records of all tables in a database
- b) will repeat the recent delete operation to all the records of current table
- c) is available in Edit relationship dialog box which makes sure that all the related records will be deleted automatically when the record from parent table is deleted
- d) None of the above

59. What happens when you release mouse pointer after you drop the primary key of a table into foreign key of another table?

- a) A relationship is created
- b) Edit relationship dialog box appears
- c) Error occurs
- d) Nothing happens

60. How can you define a field so that when entering data for that field it will display \*\*\*\*\* instead of actual typed text in MS-Access?

- a) Input mask
- b) Validation Rule
- c) Indexed
- d) IME Mode

61. A cookie:

- a) Stores information about the user's web activity
- b) Stores software developed by the user
- c) Stores the password of the user
- d) Stores the commands used by the user

62. In MS-Access to create relationship between two tables:

- a) drag the primary key of a table into foreign key of another table
- b) drag the foreign key of a table into the primary key of another table

58. ଏମଏସ୍-ଆକସେସ୍ ରେ କାସ୍କେଡ୍ ଡିଲିଟ୍ ଅପ୍ସନ୍ କ'ଣ ପାଇଁ ବ୍ୟବହୃତ ହୁଏ ?

- a) ଏକ ତାତାବେସ୍ ରେ ଥିବା ସମସ୍ତ ଟେବୁଲର ସମସ୍ତ ରେକର୍ଡଗୁଡ଼ିକୁ ଡିଲିଟ୍ କରିବା ପାଇଁ
- b) କରେଣ୍ଟ ଟେବୁଲ୍ ର ସମସ୍ତ ରେକର୍ଡ ଉପରେ କରେଣ୍ଟ ଡିଲିଟ୍ ଅପରେସନ୍ ପୁନରାବୃତ୍ତି କରିବା ପାଇଁ
- c) ଏହା ଏଡିଟ୍ ରିଲେସନସିପ୍ ଡାଏଲଗ୍ ବକ୍ସରେ ଉପଲବ୍ଧ ଅଛି ଯାହା ସୁନିଶ୍ଚିତ କରେ ଯେ, ପାରେଣ୍ଟ ଟେବୁଲରୁ ରେକର୍ଡ ଡିଲିଟ୍ ହେବା ସମୟରେ ସମସ୍ତ ସମ୍ବନ୍ଧୀୟ ରେକର୍ଡ ସ୍ୱତଃସ୍ୱତ ଭାବରେ ଡିଲିଟ୍ ହେବ
- d) ଉପରୋକ୍ତ କୌଣସିଟି ନୁହେଁ

59. ଏକ ଟେବୁଲର ପ୍ରାଇମେରୀ କୀ କୁ ଅନ୍ୟ ଟେବୁଲର ଫରେନ୍ କୀ ଉପରେ ଡ୍ରାପ୍ କରିବା ପରେ ଯେତେବେଳେ ଆପଣ ମାଉସ୍ ପଏଣ୍ଟର ରିଲିଜ୍ କରନ୍ତି ସେତେବେଳେ କ'ଣ ହୁଏ?

- a) ଏକ ରିଲେସନସିପ୍ ସୃଷ୍ଟି ହୋଇଥାଏ
- b) ଏଡିଟ୍ ରିଲେସନସିପ୍ ଡାଏଲଗ୍ ବକ୍ସ ପ୍ରକଟ ହୋଇଥାଏ
- c) ଏରର୍ ଘଟିଥାଏ
- d) କିଛି ହୁଏ ନାହିଁ

60. ଆପଣ ଏକ ଫିଲ୍ଡ କୁ କିପରି ବ୍ୟାଖ୍ୟା କରିପାରିବେ ଯାହା ଦ୍ୱାରା ସେହି ଫିଲ୍ଡ ପାଇଁ ତାତା ପ୍ରବେଶ କରିବା ସମୟରେ ଏହା ଏମଏସ୍-ଆକସେସ୍ ରେ ପ୍ରକୃତ ଟାଇପ୍ ହୋଇଥିବା ଟେକ୍ସଟ୍ ପରିବର୍ତ୍ତେ \*\*\*\*\* ପ୍ରଦର୍ଶନ କରିବ?

- a) ଇନପୁଟ୍ ମାସ୍କ
- b) ଭାଲିଡେସନ୍ ରୁଲ୍
- c) ଇଣ୍ଡେକ୍ସଡ୍
- d) ଆଏମ୍ଇ ମୋଡ୍

61. ଏକ କୁକି:

- a) ଉପଭୋକ୍ତାଙ୍କ ୱେବ୍ କାର୍ଯ୍ୟକଳାପ ବିଷୟରେ ସୂଚନା ସଂରକ୍ଷଣ କରେ
- b) ଉପଭୋକ୍ତାଙ୍କ ଦ୍ୱାରା ବିକଶିତ ସଫ୍ଟୱେୟାର୍ ଷୋର୍ କରେ
- c) ଉପଭୋକ୍ତାଙ୍କ ପାସୱାର୍ଡ୍ ଷୋର୍ କରେ
- d) ଉପଭୋକ୍ତାଙ୍କ ଦ୍ୱାରା ବ୍ୟବହୃତ କମାଣ୍ଡ୍ ଗୁଡ଼ିକ ଷୋର୍ କରେ

62. ଏମଏସ୍-ଆକସେସ୍ ରେ ଦୁଇଟି ଟେବୁଲ ମଧ୍ୟରେ ରିଲେସନସିପ୍ ସୃଷ୍ଟି କରିବାକୁ:

- a) ଏକ ଟେବୁଲର ପ୍ରାଇମେରୀ କୀ କୁ ଅନ୍ୟ ଟେବୁଲର ଫରେନ୍ କୀ ଭିତରକୁ ଟାଣି ନିଅନ୍ତୁ
- b) ଏକ ଟେବୁଲର ଫରେନ୍ କୀ କୁ ଅନ୍ୟ ଟେବୁଲର ପ୍ରାଇମେରୀ କୀ ଭିତରକୁ ଟାଣି ନିଅନ୍ତୁ

- c) drag any field from parent table and drop on child table  
d) Any of above can be done to create relationship

63. Which of the following is used to summarize data in a table in Microsoft Access?

- a) Report  
b) Form  
c) Query  
d) Table Design View

64. Which of the following is used to create a pivot table in Microsoft Access?

- a) Pivot Table Wizard  
b) Pivot Table Design View  
c) SQL View  
d) All of the above

65. Two tables can be linked with relationship so that the data integrity can be enforced. Where can you find Relationship Command?

- a) Home Tab  
b) Create Tab  
c) External Data Tab  
d) Database Tab

66. A network that is connected to the Internet, but uses encryption to scramble all the data sent through the internet is called

- a) My network  
b) Virtual Private Network  
c) Social Network  
d) Internet Service Provider

67. DNS stands for

- a) Domain Name Signal  
b) Domain Name System  
c) Domain Name Server  
d) Domain Number System

- c) ପ୍ୟାରେଣ୍ଟ ଟେବୁଲରୁ ଯେକୌଣସି ଫିଲ୍ଡ କୁ ଚାଣି ଚାଳନ୍ତୁ ଟେବୁଲ ଉପରେ ପକାଇଦିଅନ୍ତୁ  
d) ରିଲେସନସିପ୍ ସୃଷ୍ଟି କରିବା ପାଇଁ ଉପରୋକ୍ତ ମଧ୍ୟରୁ ଯେକୌଣସି କାର୍ଯ୍ୟ କରାଯାଇପାରେ

63. ମାଇକ୍ରୋସଫ୍ଟ ଆକସେସ୍ ରେ ଏକ ଟେବୁଲରେ ତାତା କୁ ସମରାଜକ କରିବାକୁ ନିମ୍ନଲିଖିତ ମଧ୍ୟରୁ କେଉଁଟି ବ୍ୟବହୃତ ହୁଏ?

- a) ରିପୋର୍ଟ  
b) ଫର୍ମ  
c) କ୍ୱେରି  
d) ଟେବୁଲ୍ ଡିଜାଇନ୍ ଭ୍ୟୁ

64. ମାଇକ୍ରୋସଫ୍ଟ ଆକସେସ୍ ରେ ଏକ ପାଇଭଟ୍ ଟେବୁଲ୍ ସୃଷ୍ଟି କରିବାକୁ ନିମ୍ନଲିଖିତ ମଧ୍ୟରୁ କେଉଁଟି ବ୍ୟବହୃତ ହୁଏ?

- a) ପାଇଭଟ୍ ଟେବୁଲ୍ ୱିଜାର୍ଡ  
b) ପାଇଭଟ୍ ଟେବୁଲ୍ ଡିଜାଇନ୍ ଭ୍ୟୁ  
c) ଏସକ୍ୱଏଲ ଭ୍ୟୁ  
d) ଉପରୋକ୍ତ ସମସ୍ତ

65. ଦୁଇଟି ଟେବୁଲକୁ ରିଲେସନସିପ୍ ସହିତ ସଂଯୋଗ କରାଯାଇପାରେ ଯାହା ଦ୍ୱାରା ତାତା ଅଖଣ୍ଡତାକୁ କାର୍ଯ୍ୟକାରୀ କରାଯାଇପାରିବ । ଆପଣ ରିଲେସନସିପ୍ କମାଣ୍ଡ କେଉଁଠାରେ ପାଇପାରିବେ?

- a) ହୋମ୍ ଟ୍ୟାବ୍  
b) କ୍ରିଏଟ୍ ଟ୍ୟାବ୍  
c) ଏକ୍ସଟର୍ନାଲ୍ ତାତା ଟ୍ୟାବ୍  
d) ଡାଟାବେସ୍ ଟ୍ୟାବ୍

66. ଏକ ନେଟୱାର୍କ ଯାହା ଇଣ୍ଟରନେଟ୍ ସହିତ ସଂଯୋଜିତ, କିନ୍ତୁ ଇଣ୍ଟରନେଟ୍ ମାଧ୍ୟମରେ ପ୍ରେରଣ କରାଯାଇଥିବା ସମସ୍ତ ତାତା ସ୍ତ୍ରୀମୂଳକ କରିବାକୁ ଏନକ୍ରିପ୍ସନ୍ ବ୍ୟବହାର କରେ ତାହାକୁ କୁହାଯାଏ:

- a) ମାଇ ନେଟୱାର୍କ  
b) ଭର୍ଚୁଆଲ୍ ପ୍ରାଇଭେଟ୍ ନେଟୱାର୍କ  
c) ସୋସିଆଲ ନେଟୱାର୍କ  
d) ଇଣ୍ଟରନେଟ୍ ସର୍ଭିସ ପ୍ରୋଭାଇଡର

67. ଡିଏନଏସ ର ଅର୍ଥ:

- a) ଡୋମେନ୍ ନେମ୍ ସିଗନାଲ୍  
b) ଡୋମେନ୍ ନେମ୍ ସିଷ୍ଟମ୍  
c) ଡୋମେନ୍ ନେମ୍ ସର୍ଭର  
d) ଡୋମେନ୍ ନମ୍ବର ସିଷ୍ଟମ୍

68. In a browser, the URL of the current page is displayed at

- Toolbar
- Address bar
- Title bar
- Menu bar

69. What is BCC in email?

- Block content creation
- Behind Content Copy
- Blind Carbon Copy
- None of these

70. The following message is displayed on the browser, while trying to access a URL Server; Error 403

The reason for the message is:

- The requested HTML file is not available
- The URL refers to a CGI script and the header of the script does not indicate where the interpreter is located
- The path to the interpreter of the script file is invalid
- The requested HTML file or CGI script has insufficient permission

### Arithmetic

71. The largest 4 digit number exactly divisible by 88 is:

- 9944
- 9768
- 9988
- 8888

72. The difference of two numbers is 1365. On dividing the larger number by the smaller, we get 6 as quotient and the 15 as remainder. What is the smaller number?

- 240
- 270
- 295
- 360

68. ଏକ ବ୍ରାଉଜରରେ, ସମ୍ପ୍ରତି ପୃଷ୍ଠାର URL କେଉଁଠାରେ ପ୍ରଦର୍ଶିତ ହୁଏ ?

- ଟୁଲ ବାର୍
- ଆଡ୍ରେସ୍ ବାର୍
- ଟାଇଟଲ୍ ବାର୍
- ମେନୁ ବାର୍

69. ଇମେଲ୍ ରେ ବିସିସି କ'ଣ?

- ବ୍ଲକ୍ କଣ୍ଟେଣ୍ଟ କ୍ରିଏସନ୍
- ବିହାଇଣ୍ଡ କଣ୍ଟେଣ୍ଟ କପି
- ବ୍ଲାଇଣ୍ଡ କାର୍ବନ କପି
- ଏମାନଙ୍କ ମଧ୍ୟରୁ କୌଣସିଟି ନୁହେଁ

70. ଏକ URL ଆକସେସ୍ କରିବାକୁ ଚେଷ୍ଟା କରିବା ସମୟରେ ନିମ୍ନଲିଖିତ ସନ୍ଦେଶ ବ୍ରାଉଜର୍ ରେ ପ୍ରଦର୍ଶିତ ହୁଏ

ସୂଚକ: ଏରର୍ 403

ଉପରୋକ୍ତ ମେସେଜର କାରଣ କ'ଣ:

- ଅନୁରୋଧ କରାଯାଇଥିବା HTML ଫାଇଲ୍ ଉପଲବ୍ଧ ନାହିଁ
- URL ଏକ CGI ସ୍କ୍ରିପ୍ଟକୁ ବୁଝାଏ ଏବଂ ସ୍କ୍ରିପ୍ଟର ଶୀର୍ଷକ ସୂଚିତ କରେ ନାହିଁ ଯେ ଇଣ୍ଟରପ୍ରିଟର କେଉଁଠାରେ ଅବସ୍ଥିତ
- ସ୍କ୍ରିପ୍ଟ ଫାଇଲ୍ ର ଇଣ୍ଟରପ୍ରିଟର କ୍ ପାଥକୁ ପଥ ଅବୈଧ ଅଟେ
- ଅନୁରୋଧ କରାଯାଇଥିବା HTML ଫାଇଲ୍ କିମ୍ବା CGI ସ୍କ୍ରିପ୍ଟରେ ପର୍ମିସନ୍ ଅନୁମତି ନାହିଁ

### ଗଣିତ

71. ୪ ଅଙ୍କ ବିଶିଷ୍ଟ ସର୍ବବୃହତ ସଂଖ୍ୟା, ଯାହା ୮୮ ଦ୍ୱାରା ବିଭାଜିତ ହୁଏ:

- ୯୯୪୪
- ୯୭୬୮
- ୯୯୮୮
- ୮୮୮୮

72. ଦୁଇଟି ସଂଖ୍ୟାର ପାର୍ଥକ୍ୟ ହେଉଛି ୧୩୬୫ । ବଡ଼ ସଂଖ୍ୟାକୁ ଛୋଟ ସଂଖ୍ୟା ଦ୍ୱାରା, ବିଭକ୍ତ କଲେ, ଭାଗଫଳ ୬ ଏବଂ ଭାଗଶେଷ ୧୫ ଭାବେ ପାଇଥାଉ । ତେବେ, ଛୋଟ ସଂଖ୍ୟା କ'ଣ ?

- ୨୪୦
- ୨୭୦
- ୨୯୫
- ୩୬୦

73.  $107 \times 107 + 93 \times 93 = ?$

- a) 19578
- b) 19418
- c) 20098
- d) 21908

74. If one-third of one-fourth of a number is 15, then three-tenth of that number is:

- a) 35
- b) 36
- c) 45
- d) 54

75. Which one of the following can't be the square of natural number?

- a) 30976
- b) 75625
- c) 28561
- d) 143642

76. The square root of 64009 is:

- a) 253
- b) 347
- c) 363
- d) 803

77. Five bells begin to toll together and toll respectively at intervals of 6, 5, 7, 10 and 12 seconds. How many times will they toll together in one hour excluding the one at the start?

- a) 7 times
- b) 8 times
- c) 9 times
- d) 11 times

78. If  $2994 \div 14.5 = 172$ , then  $29.94 \div 1.45 = ?$

- a) 0.172
- b) 1.72
- c) 17.2
- d) 172

73.  $୧୦୭ \times ୧୦୭ + ୯୩ \times ୯୩ = ?$

- a) ୧୯୫୭୮
- b) ୧୯୪୧୮
- c) ୨୦୦୯୮
- d) ୨୧୯୦୮

74. ଯଦି ଏକ ସଂଖ୍ୟାର ଏକ ଚତୁର୍ଥାଂଶର ଏକ ତୃତୀୟାଂଶ ୧୫ ଅଟେ, ତେବେ ସେହି ସଂଖ୍ୟାର ତିନି ଦଶମାଂଶ ହେଉଛି:

- a) ୩୫
- b) ୩୬
- c) ୪୫
- d) ୫୪

75. ନିମ୍ନଲିଖିତ ମଧ୍ୟରୁ କେଉଁ ସଂଖ୍ୟାଟି ପ୍ରାକୃତିକ ସଂଖ୍ୟାର ବର୍ଗ ହୋଇପାରିବ ନାହିଁ?

- a) ୩୦୯୭୭
- b) ୭୫୭୨୫
- c) ୨୮୫୭୧
- d) ୧୪୩୨୪୨

76. ୬୪୦୦୯ ର ବର୍ଗ ମୂଳ ହେଉଛି:

- a) ୨୫୩
- b) ୩୪୭
- c) ୩୨୩
- d) ୮୦୩

77. ପାଞ୍ଚଟି ଘଣ୍ଟି ପ୍ରଥମେ ଏକାଠି ବାଜନ୍ତି ଏବଂ ଯଥାକ୍ରମେ ୬, ୫, ୭, ୧୦ ଓ ୧୨ ସେକେଣ୍ଡ ବ୍ୟବଧାନରେ, ବାଜିବା ଆରମ୍ଭ କରନ୍ତି । ଆରମ୍ଭର ବାଜିବାକୁ ବାଦ୍ ଦେଲେ ସେମାନେ, ଏକ ଘଣ୍ଟା ସମୟରେ ଏକାଠି କେତେ ଥର ବାଜିବେ ?

- a) ୭ ଥର
- b) ୮ ଥର
- c) ୯ ଥର
- d) ୧୧ ଥର

78. ଯଦି  $୨୯୯୪ \div ୧୪.୫ = ୧୭୨$ , ତେବେ  $୨୯.୯୪ \div ୧.୪୫ = ?$

- a) ୦.୧୭୨
- b) ୧.୭୨
- c) ୧୭.୨
- d) ୧୭୨



79. A train 240 m long passes a pole in 24 seconds. How long will it take to pass a platform 650 m long?

- a) 65 sec
- b) 89 sec
- c) 100 sec
- d) 150 sec

80. A boat running downstream covers a distance of 16 km in 2 hours while for covering the same distance upstream, it takes 4 hours. What is the speed of the boat in still water?

- a) 4 km/hr
- b) 6 km/hr
- c) 8 km/hr
- d) Data inadequate

81. In a 100 m race, Ajay beats Bijay by 10 m and Sujoy by 13 m. In a race of 180 m, Bijay will beat Sujoy by:

- a) 5.4 m
- b) 4.5 m
- c) 5 m
- d) 6 m

82. At 3:40, the hour hand and the minute hand of a clock form an angle of:

- a)  $120^\circ$
- b)  $125^\circ$
- c)  $130^\circ$
- d)  $135^\circ$

83. The ratio of the number of boys and girls in a college is 7 : 8. If the percentage increase in the number of boys and girls be 20% and 10% respectively, what will be the new ratio?

- a) 8 : 9
- b) 17 : 18
- c) 21 : 22
- d) Cannot be determined

79. ୨୪୦ ମିଟର ଲମ୍ବର ଏକ ଟ୍ରେନ୍ ୨୪ ସେକେଣ୍ଡରେ ଏକ ଖୁଣ୍ଟ ଅତିକ୍ରମ କରିଥାଏ। ସମାନ ବେଗରେ, ୬୫୦ ମିଟର ଲମ୍ବର ଏକ ପ୍ଲାଟଫର୍ମ ଅତିକ୍ରମ କରିବାକୁ ଟ୍ରେନ୍‌ଟିକୁ କେତେ ସମୟ ଲାଗିବ?

- a) ୬୫ ସେକେଣ୍ଡ
- b) ୮୯ ସେକେଣ୍ଡ
- c) ୧୦୦ ସେକେଣ୍ଡ
- d) ୧୫୦ ସେକେଣ୍ଡ

80. ସ୍ରୋତର ଅନୁକୂଳ ଦିଗରେ ଯାଉଥିବା ଏକ ଡଙ୍ଗା ୨ ଘଣ୍ଟାରେ ୧୬ କିଲୋମିଟର ଦୂରତା ଅତିକ୍ରମ କରୁଥିବା ବେଳେ, ସ୍ରୋତର ପ୍ରତିକୂଳ ଦିଗରେ ସମାନ ଦୂରତା ଅତିକ୍ରମ କରିବା ପାଇଁ ୪ ଘଣ୍ଟା ସମୟ ଲାଗିଥାଏ। ତେବେ, ସ୍ଥିର ପାଣିରେ, ଡଙ୍ଗାର ବେଗ କେତେ?

- a) ଘଣ୍ଟାପ୍ରତି ୪ କିଲୋମିଟର
- b) ଘଣ୍ଟାପ୍ରତି ୬ କିଲୋମିଟର
- c) ଘଣ୍ଟାପ୍ରତି ୮ କିଲୋମିଟର
- d) ତଥ୍ୟ ପର୍ଯ୍ୟାପ୍ତ ନୁହେଁ

81. ୧୦୦ ମିଟର ଦୈର୍ଘ୍ୟରେ ଅଜୟ, ବିଜୟକୁ ୧୦ ମିଟରରେ ଓ ସୁଜୟକୁ ୧୩ ମିଟରରେ ପରାସ୍ତ କରିଥିଲେ। ୧୮୦ ମିଟର ଦୈର୍ଘ୍ୟରେ, ବିଜୟ କେତେ ମିଟରରେ ସୁଜୟକୁ ପରାସ୍ତ କରିବ ?

- a) ୫.୪ ମିଟର
- b) ୪.୫ ମିଟର
- c) ୫ ମିଟର
- d) ୬ ମିଟର

82. ୩:୪୦ ସମୟରେ, ଏକ ଘଣ୍ଟାର, ଘଣ୍ଟା କଣ୍ଠା ଏବଂ ମିନିଟ କଣ୍ଠା ମଧ୍ୟରେ କୋଣ ହେଉଛି ?

- a)  $120^\circ$
- b)  $125^\circ$
- c)  $130^\circ$
- d)  $135^\circ$

83. ଏକ କଲେଜରେ ବାଳକ ଓ ବାଳିକାଙ୍କ ସଂଖ୍ୟାର ଅନୁପାତ ହେଉଛି ୭ : ୮ । ଯଦି ବାଳକ ଓ ବାଳିକାଙ୍କ ସଂଖ୍ୟାରେ ଯଥାକ୍ରମେ ୨୦% ଓ ୧୦% ବୃଦ୍ଧି ହୁଏ, ତେବେ ନୂତନ ଅନୁପାତ କେତେ ହେବ?

- a) ୮ : ୯
- b) ୧୭ : ୧୮
- c) ୨୧ : ୨୨
- d) ନିର୍ଦ୍ଧାରଣ ହୋଇପାରିବ ନାହିଁ





84. Anand and Binod started a partnership business investing some amount in the ratio of 3:5. Chaitanya joined them after six months with an amount equal to that of Binod. In what proportion should the profit at the end of one year be distributed among Anand, Binod and Chaitanya?

- 3 : 5 : 2
- 3 : 5 : 5
- 6 : 10 : 5
- Data inadequate

85. In an election between two candidates, one got 55% of the total valid votes, 20% of the votes were invalid. If the total number of votes was 7500, the number of valid votes that the other candidate got, was:

- 2700
- 2900
- 3000
- 3100

86. A grocer has a sale of Rs. 6435, Rs. 6927, Rs. 6855, Rs. 7230 and Rs. 6562 for 5 consecutive months. How much sale must he have in the sixth month so that he gets an average sale of Rs. 6500?

- Rs. 4991
- Rs. 5991
- Rs. 6001
- Rs. 6991

87. There is 60% increase in an amount in 6 years at simple interest. What will be the compound interest of Rs. 12,000 after 3 years at the same rate?

- Rs. 2160
- Rs. 3120
- Rs. 3972
- Rs. 6240

84. ଆନନ୍ଦ ଏବଂ ବିନୋଦ ୩ : ୫ ଅନୁପାତରେ କିଛି ଅର୍ଥ ବିନିଯୋଗ କରି ଏକ ଭାଗିଦାରୀ ବ୍ୟବସାୟ ଆରମ୍ଭ କରିଥିଲେ । ଛଅ ମାସ ପରେ, ଚୈତନ୍ୟ, ବିନୋଦ ପରି ସମାନ ପରିମାଣର ଅର୍ଥ ବିନିଯୋଗ କରି ବ୍ୟବସାୟରେ ଯୋଗ ଦେଇଥିଲେ । ଗୋଟିଏ ବର୍ଷ ଶେଷରେ ଲାଭକୁ କେଉଁ ଅନୁପାତରେ ଆନନ୍ଦ, ବିନୋଦ ଏବଂ ଚୈତନ୍ୟଙ୍କ ମଧ୍ୟରେ ବଣ୍ଟନ କରାଯିବ?

- ୩ : ୫ : ୨
- ୩ : ୫ : ୫
- ୬ : ୧୦ : ୫
- ତଥ୍ୟ ପର୍ଯ୍ୟାପ୍ତ ନୁହେଁ

85. ଦୁଇ ଜଣ ପ୍ରାର୍ଥୀଙ୍କ ମଧ୍ୟରେ ହୋଇଥିବା ନିର୍ବାଚନରେ ଜଣେ ମୋଟ ବୈଧ ଭୋଟର ୫୫% ପାଇଥିଲେ, ୨୦% ଭୋଟ ଅବୈଧ ହୋଇ ଯାଇଥିଲା । ଯଦି ସମୁଦାୟ ଭୋଟ ସଂଖ୍ୟା ୭୫୦୦ ଥିଲା, ତେବେ ଅନ୍ୟ ପ୍ରାର୍ଥୀଙ୍କୁ ମିଳିଥିବା ବୈଧ ଭୋଟ ସଂଖ୍ୟା ଥିଲା:

- ୨୭୦୦
- ୨୯୦୦
- ୩୦୦୦
- ୩୧୦୦

86. ଲଗାତାର ୫ ମାସ ପାଇଁ ଜଣେ ଦୋକାନୀ ୬୪୩୫ ଟଙ୍କା, ୬୯୨୭ ଟଙ୍କା, ୬୮୫୫ ଟଙ୍କା, ୭୨୩୦ ଟଙ୍କା ଓ ୬୫୬୨ ଟଙ୍କାର ବିକ୍ରି କରୁଛନ୍ତି । ଷଷ୍ଠ ମାସରେ ତାଙ୍କ ପାଖରେ କେତେ ବିକ୍ରୟ ହେବା ଦରକାର, ଯାହା ଦ୍ଵାରା ସେ ହାରାହାରି ୬୫୦୦ ଟଙ୍କା ବିକ୍ରି ପାଇପାରିବେ?

- ୪୯୯୧ ଟଙ୍କା
- ୫୯୯୧ ଟଙ୍କା
- ୬୦୦୧ ଟଙ୍କା
- ୬୯୯୧ ଟଙ୍କା

87. ସାଧାରଣ ସୁଧରେ, ୬ ବର୍ଷରେ ଏକ ରାଶିରେ ୬୦% ବୃଦ୍ଧି ଘଟିଛି । ସମାନ ହାରରେ ୩ ବର୍ଷ ପରେ ୧୨,୦୦୦ ଟଙ୍କାର ଚକ୍ରବୃଦ୍ଧି ସୁଧ କେତେ ହେବ?

- ୨୧୬୦ ଟଙ୍କା
- ୩୧୨୦ ଟଙ୍କା
- ୩୯୭୨ ଟଙ୍କା
- ୬୨୪୦ ଟଙ୍କା

88. A shopkeeper earns a profit of 25% on selling a microwave at 15% discount on the Printed Price. Find the ratio of the Printed Price and Cost Price of the Microwave.
- 17:25
  - 25:27
  - 27:25
  - 25:17
89. If 6 men and 8 boys can do a piece of work in 10 days while 26 men and 48 boys can do the same in 2 days, the time taken by 15 men and 20 boys in doing the same type of work will be:
- 4 days
  - 5 days
  - 6 days
  - 7 days
90. Two pipes A and B together can fill a cistern in 4 hours. Had they been opened separately, then B would have taken 6 hours more than A to fill the cistern. How much time will be taken by A to fill the cistern separately?
- 1 hour
  - 2 hours
  - 6 hours
  - 8 hours
91. A is 3 years older to B and 3 years younger to C, while B and D are twins. How many years older is C compared to D?
- 2
  - 3
  - 6
  - 12
92. A man has some hens and cows. If the number of heads be 48 and the number of feet equals 140, then the number of hens will be:
- 22
  - 23
88. ମାଲକ୍ରୋସେଡ୍ କୁ ମୁଦ୍ରିତ ମୂଲ୍ୟ ଉପରେ ଜଣେ ବୋକାନୀ ୧୫% ରିହାତିରେ ବିକ୍ରି କରି ୨୫% ଲାଭ ପାଆନ୍ତି। ତେବେ, ମାଲକ୍ରୋସେଡ୍ ର ମୁଦ୍ରିତ ମୂଲ୍ୟ ଏବଂ କ୍ରୟ ମୂଲ୍ୟର ଅନୁପାତ ସନ୍ଧାନ କରନ୍ତୁ।
- ୧୭:୨୫
  - ୨୫:୨୭
  - ୨୭:୨୫
  - ୨୫:୧୭
89. ଯଦି ୬ ଜଣ ପୁରୁଷ ଓ ୮ ଜଣ ବାଳକ ଗୋଟିଏ କାମ ୧୦ ଦିନରେ କରିପାରିବେ ଏବଂ ୨୬ ଜଣ ପୁରୁଷ ଓ ୪୮ ଜଣ ବାଳକ ସେହି କାମକୁ ୨ ଦିନରେ କରିପାରିବେ, ତେବେ ସମାନ କାମକୁ କରିବାରେ ୧୫ ଜଣ ପୁରୁଷ ଓ ୨୦ ଜଣ ବାଳକକୁ କେତେ ସମୟ ଲାଗିବ ?
- ୪ ଦିନ
  - ୫ ଦିନ
  - ୬ ଦିନ
  - ୭ ଦିନ
90. ଦୁଇଟି ପାଇପ୍ A ଏବଂ B ମିଶି ୪ ଘଣ୍ଟାରେ ଗୋଟିଏ ଟାଙ୍କି ଭର୍ତ୍ତି କରିପାରିବେ। ଯଦି ସେଗୁଡ଼ିକୁ ପୃଥକ ଭାବରେ ଖୋଲାଯାଇଥାନ୍ତା, ତେବେ B ଟାଙ୍କି ଭରିବାକୁ, A ଠାରୁ ୬ ଘଣ୍ଟା ଅଧିକ ସମୟ ନେଇଥାନ୍ତା। ପୃଥକ ଭାବରେ ଟାଙ୍କି ଭରିବା ପାଇଁ A ଦ୍ୱାରା କେତେ ସମୟ ଲାଗିବ ?
- ୧ ଘଣ୍ଟା
  - ୨ ଘଣ୍ଟା
  - ୬ ଘଣ୍ଟା
  - ୮ ଘଣ୍ଟା
91. A, B ଠାରୁ ୩ ବର୍ଷ ବଡ଼ ଏବଂ C ଠାରୁ ୩ ବର୍ଷ ସାନ ହୋଇଥିବା ବେଳେ B ଏବଂ D ଯାଆଁଳା ଅଟନ୍ତି। ତେବେ, D ଠାରୁ C ରୁ କେତେ ବର୍ଷ ବଡ଼ ?
- ୨
  - ୩
  - ୬
  - ୧୨
92. ଜଣେ ବ୍ୟକ୍ତିଙ୍କର କିଛି କୁକୁଡ଼ା ଏବଂ ଗାଈ ଅଛନ୍ତି। ଯଦି ମୁଣ୍ଡ ସଂଖ୍ୟା ୪୮ ଓ ପାଦ ସଂଖ୍ୟା ୧୪୦ ସମାନ ହୁଏ, ତେବେ କୁକୁଡ଼ା ସଂଖ୍ୟା କେତେ ହେବ ?
- ୨୨
  - ୨୩

- c) 24
- d) 26

93. On dividing a number by 68, we get 269 as quotient and 0 as remainder. On dividing the same number by 67, what will the remainder?

- a) 0
- b) 1
- c) 2
- d) 3

94. Two tailors Ahmed and Saddam are paid a total of Rs. 550 per week by their employer. If Ahmed is paid 120 percent of the sum paid to Saddam, how much is Saddam paid per week?

- a) Rs. 200
- b) Rs. 250
- c) Rs. 300
- d) None of these

95. The average monthly income of P and Q is Rs. 5050. The average monthly income of Q and R is Rs. 6250 and the average monthly income of P and R is Rs. 5200. The monthly income of P is:

- a) 3500
- b) 4000
- c) 4050
- d) 5000

- c) ୨୪
- d) ୨୬

93. ଏକ ସଂଖ୍ୟାକୁ ୬୮ ରେ ବିଭକ୍ତ କରିବା ଦ୍ୱାରା, ଭାଗଫଳ ୨୬୯ ଏବଂ ଅବଶେଷ ୦ ଅବଶେଷ ଭାବରେ ପାଇଥାଏ । ସମାନ ସଂଖ୍ୟାକୁ ୬୭ ରେ ବିଭକ୍ତ କଲେ, ଭାଗଶେଷ କେତେ ରହିବ ?

- a) ୦
- b) ୧
- c) ୨
- d) ୩

94. ଦୁଇ ଦର୍ଜି ଅହମଦ ଏବଂ ସଦ୍ଦାମକୁ ସେମାନଙ୍କ ନିୟୁକ୍ତିଦାତା ସପ୍ତାହକୁ ମୋଟ ୫୫୦ ଟଙ୍କା ପ୍ରଦାନ କରନ୍ତି । ଯଦି ଅହମଦଙ୍କୁ ସଦ୍ଦାମଙ୍କୁ ଦିଆଯାଇଥିବା ରାଶିର ୧୨୦ ପ୍ରତିଶତ ଦିଆଯାଏ, ତେବେ ସଦ୍ଦାମଙ୍କୁ ପ୍ରତି ସପ୍ତାହରେ କେତେ ଟଙ୍କା ଦିଆଯାଏ ?

- a) ୨୦୦ ଟଙ୍କା
- b) ୨୫୦ ଟଙ୍କା
- c) ୩୦୦ ଟଙ୍କା
- d) ଉପରୋକ୍ତ କୌଣସିଟି ନୁହେଁ

95. P ଏବଂ Q ର ହାରାହାରି ମାସିକ ଆୟ ୫୦୫୦ ଟଙ୍କା ଅଟେ । Q ଏବଂ R ର ହାରାହାରି ମାସିକ ଆୟ ୬୨୫୦ ଟଙ୍କା ଏବଂ P ଏବଂ R ର ହାରାହାରି ମାସିକ ଆୟ ୫୨୦୦ ଟଙ୍କା ଅଟେ । ତେବେ, P ର ମାସିକ ଆୟ ହେଉଛି:

- a) ୩୫୦୦
- b) ୪୦୦୦
- c) ୪୦୫୦
- d) ୫୦୦୦

**Data Interpretation**

(Q.96-98) The following table shows the percentage profit (%) earned by two companies A and B during the years 2011-2015. Answer the questions based on the data contained in the table.

Profit Earned by Two Companies		
Year	Percentage profit %	
	A	B
2011	20	30
2012	35	40
2013	45	35
2014	40	50
2015	25	35

**ତାତା ବ୍ୟାଖ୍ୟା**

(Q.96-98) ନିମ୍ନଲିଖିତ ସାରଣୀରେ ୨୦୧୧-୨୦୧୫ ବର୍ଷରେ ଦୁଇଟି କମ୍ପାନୀ A ଏବଂ B ଦ୍ୱାରା ଅର୍ଜିତ ଲାଭ (%) ଦର୍ଶାଯାଇଛି । ସାରଣୀରେ ଥିବା ତଥ୍ୟ ଆଧାରରେ ପ୍ରଶ୍ନଗୁଡ଼ିକର ଉତ୍ତର ଦିଅନ୍ତୁ ।

ବର୍ଷ	ପ୍ରତିଶତ ଲାଭ %	
	A	B
୨୦୧୧	୨୦	୩୦
୨୦୧୨	୩୫	୪୦
୨୦୧୩	୪୫	୩୫
୨୦୧୪	୪୦	୫୦
୨୦୧୫	୨୫	୩୫

JSTN/ODIA/I



96. If the total expenditure of two companies was Rs 9 Lakh in the year 2012 and the expenditure of A and B were in the ratio 2:1, then what was the income of the company A in that year?

- a) Rs. 9.2 Lakh  
b) Rs. 8.1 Lakh  
c) Rs 7.2 Lakh  
d) Rs. 6.0 Lakh

97. What is the average percentage profit earned by the company B?

- a) 35%  
b) 42%  
c) 38%  
d) 40%

98. In which year, the percentage profit earned by the company B is less than that of company A?

- a) 2012  
b) 2013  
c) 2014  
d) 2015

96. ଯଦି ୨୦୧୨ ମସିହାରେ ଦୁଇଟି କମ୍ପାନୀର ମୋଟ ଖର୍ଚ୍ଚ ୯ ଲକ୍ଷ ଟଙ୍କା ଥିଲା ଏବଂ ଏ ଏବଂ ବି ର ଖର୍ଚ୍ଚ ୨:୧ ଅନୁପାତରେ ଥିଲା, ତେବେ ସେହି ବର୍ଷ କମ୍ପାନୀ ଏ ର ଆୟ କେତେ ଥିଲା?

- a) ୯.୨ ଲକ୍ଷ ଟଙ୍କା  
b) ୮.୧ ଲକ୍ଷ ଟଙ୍କା  
c) ୭.୨ ଲକ୍ଷ ଟଙ୍କା  
d) ୬.୦ ଲକ୍ଷ ଟଙ୍କା

97. କଂପାନି ବି ଦ୍ୱାରା ଅର୍ଜିତ ହାରାହାରି ଲାଭ ପ୍ରତିଶତ କେତେ?

- a) ୩୫%  
b) ୪୨%  
c) ୩୮%  
d) ୪୦%

98. କେଉଁ ବର୍ଷରେ, କମ୍ପାନୀ B ଦ୍ୱାରା ଅର୍ଜିତ ଲାଭ ପ୍ରତିଶତ କମ୍ପାନୀ A ତୁଳନାରେ କମ୍ ଅଟେ?

- a) ୨୦୧୨  
b) ୨୦୧୩  
c) ୨୦୧୪  
d) ୨୦୧୫

2. 99-101) Answer following questions based on the data contained in the table.

Sales Revenue (Rs. in Lakh)				
Items /Years	2012	2013	2014	2015
Journals	46	47	45	44
Magazines	31	39	46	51
Books	73	77	78	78
Total	150	163	169	173

99. In 2015, approximately what percent of total revenue came from books?

- a) 45%  
b) 55%  
c) 35%  
d) 25%

(ପ୍ରଶ୍ନ 99-101) ସାରଣୀରେ ଥିବା ତଥ୍ୟ ଆଧାରରେ ୨୯-୩୧ ପ୍ରଶ୍ନର ଉତ୍ତର ଦିଅନ୍ତୁ।

ବିକ୍ରୟ ରାଜସ୍ୱ (ଲକ୍ଷ ଟଙ୍କା)				
ଆଇଟମ୍ / ବର୍ଷ	୨୦୧୨	୨୦୧୩	୨୦୧୪	୨୦୧୫
ଜର୍ନାଲ୍	୪୬	୪୭	୪୫	୪୪
ପତ୍ରିକା	୩୧	୩୯	୪୬	୫୧
ପୁସ୍ତକ	୭୩	୭୭	୭୮	୭୮
ସମୁଦାୟ	୧୫୦	୧୬୩	୧୬୯	୧୭୩

99. ୨୦୧୫ରେ, ମୋଟ ରାଜସ୍ୱର ପାଖାପାଖି କେତେ ପ୍ରତିଶତ ବହିରୁ ଆସିଥିଲା?

- a) ୪୫%  
b) ୫୫%  
c) ୩୫%  
d) ୨୫%

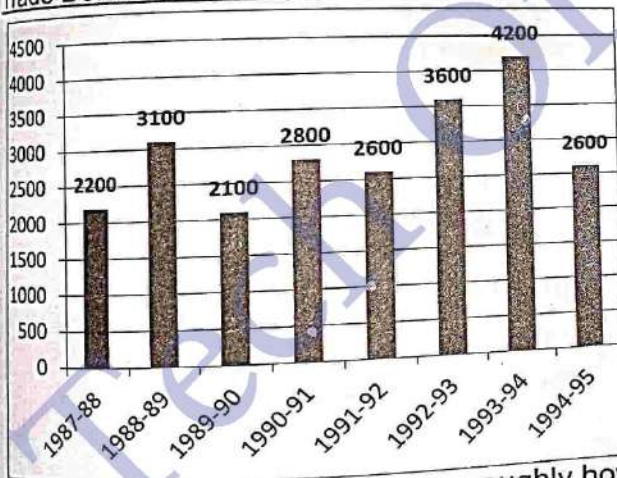
100. The number of years in which there was an increase in revenue from at least two categories of items, is:

- a) 0
- b) 1
- c) 2
- d) 3

101. If the year 2016 shows the same growth in terms of total sales revenue as the year 2015 over the year 2014, then the revenue in the year 2016 must be approximately:

- a) Rs. 194 Lakh
- b) Rs. 187 Lakh
- c) Rs. 172 Lakh
- d) Rs. 177 Lakh

(Q. 102-106) Read the following graph and answer the questions.  
Trade Deficit of Country (in Rs. Crore)



102. The deficit in 1993-94 was roughly how many times the deficit in 1990-91?

- a) 1.4
- b) 1.5
- c) 2.5
- d) 0.5

103. Percentage increase in deficit in 1993-94 as compare to deficit in 1989-90 was:

- a) 200
- b) 150

100. କେତୋଟି ବର୍ଷରେ, ଅତି କମରେ ଦୁଇଟି ବର୍ଗର ସାମଗ୍ରୀର ରାଜସ୍ୱ ବୃଦ୍ଧି ପାଇଛି ?

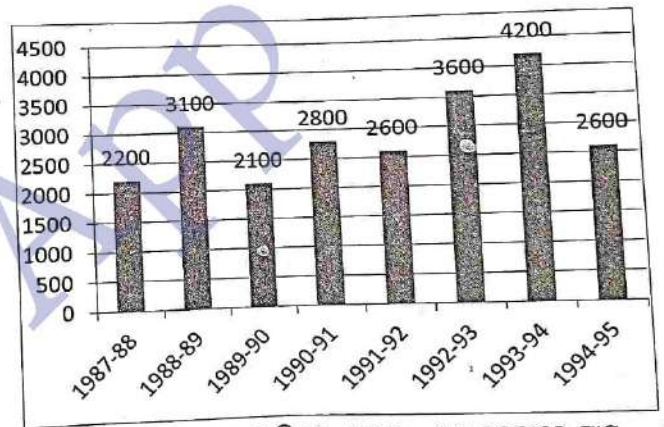
- a) ୦
- b) ୧
- c) ୨
- d) ୩

101. ୨୦୧୪ ବର୍ଷ ତୁଳନାରେ ୨୦୧୫ ବର୍ଷର ମୋଟ ବିକ୍ରି ରାଜସ୍ୱ ଯଦି ୨୦୧୬ ବର୍ଷର ମୋଟ ବିକ୍ରି ରାଜସ୍ୱ ସହିତ ସମାନ ଅଭିବୃଦ୍ଧି ଦେଖାଏ, ତେବେ ୨୦୧୬ ବର୍ଷରେ ରାଜସ୍ୱ ପାଖାପାଖି କେତେ ହେବା ଆବଶ୍ୟକ ?

- a) ୧୯୪ ଲକ୍ଷ ଟଙ୍କା
- b) ୧୮୭ ଲକ୍ଷ ଟଙ୍କା
- c) ୧୭୨ ଲକ୍ଷ ଟଙ୍କା
- d) ୧୭୭ ଲକ୍ଷ ଟଙ୍କା

(ପ୍ରଶ୍ନ 102-106) ନିମ୍ନଲିଖିତ ଗ୍ରାଫ ପଢନ୍ତୁ ଏବଂ ପ୍ରଶ୍ନଗୁଡ଼ିକର ଉତ୍ତର ଦିଅନ୍ତୁ।

ଦେଶର ବାଣିଜ୍ୟ ନିଅଣ୍ଡ (କୋଟିରେ)



102. ୧୯୯୩-୯୪ରେ ନିଅଣ୍ଡ, ୧୯୯୦-୯୧ ତୁଳନାରେ ପ୍ରାୟ କେତେ ଗୁଣ ଥିଲା ?

- a) ୧.୪
- b) ୧.୫
- c) ୨.୫
- d) ୦.୫

103. ୧୯୮୯-୯୦ ତୁଳନାରେ ୧୯୯୩-୯୪ରେ ନିଅଣ୍ଡ କେତେ ପ୍ରତିଶତ ବୃଦ୍ଧି ପାଇଥିଲା ?

- a) ୨୦୦
- b) ୧୫୦

- c) 100
- d) 2100

104. In which of the following years, the percent increase of deficit was highest over its preceding year?

- a) 1992-93
- b) 1990-91
- c) 1993-94
- d) 1988-89

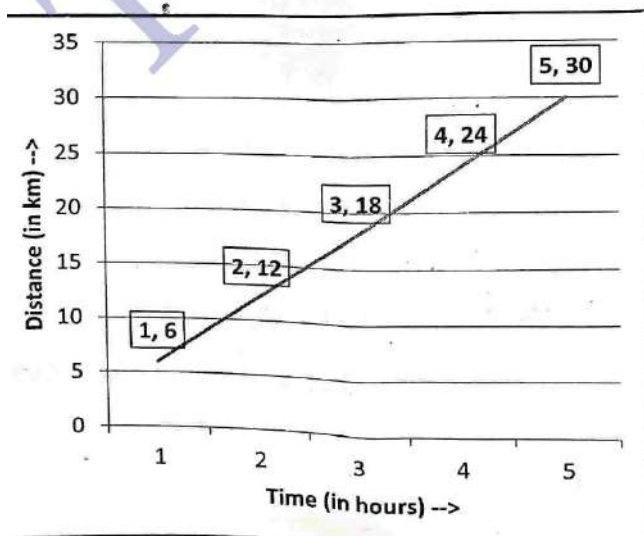
105. The ratio of the number of years, in which the trade deficit is above the average deficit, to those years in which the trade deficit is below the average deficit is:

- a) 3:5
- b) 5:3
- c) 4:4
- d) 3:4

106. The deficit in 1992-93 was approximately how many percent of the average deficit?

- a) 150
- b) 140
- c) 124
- d) 40

(Q. 107-110) The graph given here shows a car following the linear path with uniform speed. Study the graph and answer the questions.



- c) ୧୦୦
- d) ୨୧୦୦

104. ନିମ୍ନଲିଖିତ କେଉଁ ବର୍ଷରେ, ନିଅଣ୍ଡର ପ୍ରତିଶତ ବୃଦ୍ଧି ଏହାର ପୂର୍ବ ବର୍ଷ ତୁଳନାରେ ସର୍ବାଧିକ ଥିଲା ?

- a) ୧୯୯୨-୯୩
- b) ୧୯୯୦-୯୧
- c) ୧୯୯୩-୯୪
- d) ୧୯୮୮-୮୯

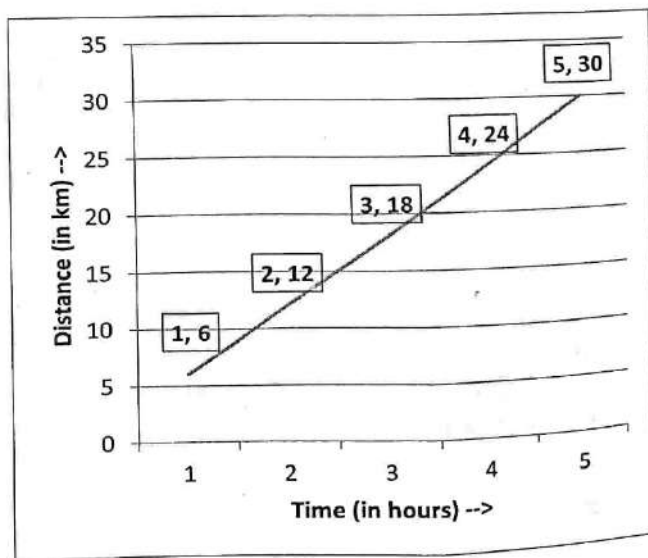
105. ବାଣିଜ୍ୟ ନିଅଣ୍ଡ ହାରାହାରି ନିଅଣ୍ଡଠାରୁ ଅଧିକ ଥିବା ବର୍ଷ ଗୁଡ଼ିକର ସଂଖ୍ୟାର ଅନୁପାତ ସେହି ବର୍ଷ ଗୁଡ଼ିକ ସହିତ ଯେଉଁ ବର୍ଷଗୁଡ଼ିକରେ ବାଣିଜ୍ୟ ନିଅଣ୍ଡ ହାରାହାରି ନିଅଣ୍ଡଠାରୁ କମ୍, କେତେ?

- a) ୩:୫
- b) ୫:୩
- c) ୪:୪
- d) ୩:୪

106. ୧୯୯୨-୯୩ ରେ ନିଅଣ୍ଡ, ହାରାହାରି ନିଅଣ୍ଡର ପ୍ରାୟ କେତେ ପ୍ରତିଶତ ଥିଲା ?

- a) ୧୫୦
- b) ୧୪୦
- c) ୧୨୪
- d) ୪୦

(ପ୍ରଶ୍ନ 107-110) ଏଠାରେ ଦିଆଯାଇଥିବା ଗ୍ରାଫ୍ ରେ ଏକ କାର୍ ସମାନ ବେଗରେ ଲିନିୟର ପଥ ଅନୁସରଣ କରୁଥିବା ଦେଖାଯାଇଛି। ଗ୍ରାଫ୍ ଅଧ୍ୟୟନ କରନ୍ତୁ ଏବଂ ପ୍ରଶ୍ନଗୁଡ଼ିକର ଉତ୍ତର ଦିଅନ୍ତୁ।



107. The speed of the car is:

- a) 12 km/h
- b) 6 km/h
- c) 18 km/h
- d) 24 km/h

108. The speed of the car (in m/min) is:

- a) 60
- b) 100
- c) 600
- d) 1000

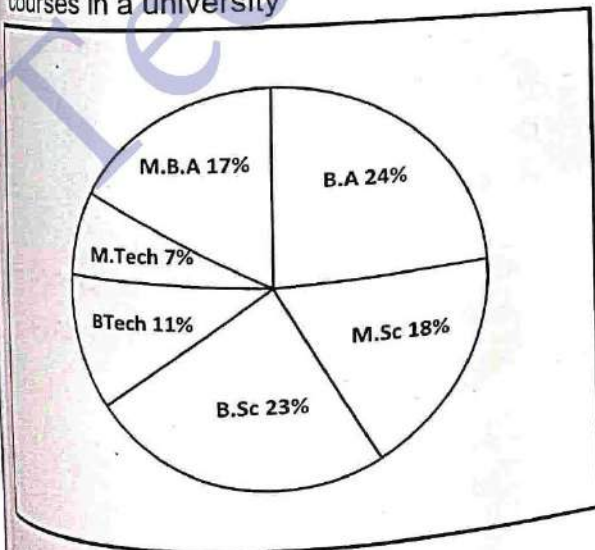
109. The distance travelled by the car in 4.5 hour is:

- a) 27 km
- b) 30 km
- c) 36 km
- d) 40 km

110. The car covers a distance of 15 km in:

- a) 3 h
- b) 2 h
- c) 1.5 h
- d) 2.5 h

(Q. 111-115) Read the following pie chart carefully and answer the following questions. Percent wise distribution of students in six courses in a university



Total number of Students=11200

107. କାର୍ ର ବେଗ ହେଉଛି:

- a) ୧୨ କିମି/ଘଣ୍ଟା
- b) ୬ କିମି/ ଘଣ୍ଟା
- c) ୧୮ କିମି/ ଘଣ୍ଟା
- d) ୨୪ କିମି/ ଘଣ୍ଟା

108. କାର୍ ର ବେଗ (ମିଟର/ମିନିଟ୍ ରେ) ହେଉଛି:

- a) ୬୦
- b) ୧୦୦
- c) ୬୦୦
- d) ୧୦୦୦


109. ୪.୫ ଘଣ୍ଟାରେ କାର୍ ରେ ଯାତ୍ରା କରିଥିବା ଦୂରତା ହେଉଛି:

- a) ୨୭ କି.ମି.
- b) ୩୦ କିମି
- c) ୩୬ କିମି
- d) ୪୦ କିମି

110. କାର୍ ଟି କେତେ ଘଣ୍ଟାରେ ୧୫ କିଲୋମିଟର ଦୂରତା ଅତିକ୍ରମ କରିଥାଏ ?

- a) ୩ ଘଣ୍ଟା
- b) ୨ ଘଣ୍ଟା
- c) ୧.୫ ଘଣ୍ଟା
- d) ୨.୫ ଘଣ୍ଟା

(ପ୍ରଶ୍ନ 111-115) ନିମ୍ନଲିଖିତ ପାଇ ଚାର୍ଟକୁ ଧ୍ୟାନ ସହ ପଢନ୍ତୁ ଏବଂ ନିମ୍ନଲିଖିତ ପ୍ରଶ୍ନଗୁଡ଼ିକର ଉତ୍ତର ଦିଅନ୍ତୁ। ଗୋଟିଏ ବିଶ୍ୱବିଦ୍ୟାଳୟରେ ୬ଟି ପାଠ୍ୟକ୍ରମରେ ଛାତ୍ରଛାତ୍ରୀଙ୍କୁ ଶତକଡା ହିସାବରେ ବଣ୍ଟନ



ସମୁଦାୟ ଛାତ୍ର ସଂଖ୍ୟା=୧୧୨୦୦

111. Number of students in B.Tech course is approximately, what percent more than the number of students in M.Tech course?  
 a) 57%  
 b) 43%  
 c) 149%  
 d) 143%
112. If 25% of the total number of students in B.A course is girls, then the number of boys in B.A course is exactly equal to the number of students of which course?  
 a) M.Sc  
 b) B., Sc  
 c) B. Tech  
 d) M.B.A
113. What is the difference between the total number of students in M.Sc, B.Tech and M.B.A together and the total number of students in B.Sc, M.Tech and B.A together?  
 a) 874  
 b) 896  
 c) 884  
 d) 894
114. What is the average number of students in B.Tech, M.Tech and B.A course together?  
 a) 1648  
 b) 1542  
 c) 1568  
 d) 1668
115. Number of students in M.B.A course is approximately, what percent of the total number of students in M.Sc and B.Sc together?  
 a) 54%  
 b) 48%  
 c) 41%  
 d) 46%
111. B.Tech ପାଠ୍ୟକ୍ରମରେ ଛାତ୍ରଛାତ୍ରୀଙ୍କ ସଂଖ୍ୟା, M.Tech ପାଠ୍ୟକ୍ରମର ଛାତ୍ରଛାତ୍ରୀଙ୍କ ସଂଖ୍ୟା ଠାରୁ ପ୍ରାୟ କେତେ ପ୍ରତିଶତ ଅଧିକ?  
 a) ୫୭%  
 b) ୪୩%  
 c) ୧୪୯%  
 d) ୧୪୩%
112. ଯଦି ବି.ଏ ପାଠ୍ୟକ୍ରମରେ ମୋଟ ଛାତ୍ରଛାତ୍ରୀଙ୍କ ସଂଖ୍ୟାର ୨୫% ଛାତ୍ରୀ ଅଟନ୍ତି, ତେବେ ବିଏ ପାଠ୍ୟକ୍ରମରେ ଛାତ୍ରଙ୍କ ସଂଖ୍ୟା କେଉଁ ପାଠ୍ୟକ୍ରମର ଛାତ୍ରଛାତ୍ରୀଙ୍କ ସଂଖ୍ୟା ସହିତ ସମାନ?  
 a) ଏମ୍.ଏସ୍.ସି  
 b) ବି.ଏସ୍.ସି.  
 c) ବି. ଟେକ୍  
 d) ଏମ୍.ବି.ଏ.
113. ଏମ୍.ଏସ୍.ସି, ବି. ଟେକ୍ ଓ ଏମ୍.ବି.ଏ.ରେ ସମୁଦାୟ ଛାତ୍ରଛାତ୍ରୀଙ୍କ ସଂଖ୍ୟା ଏବଂ ବି.ଏସ୍.ସି, ଏମ୍. ଟେକ୍ ଓ ବିଏରେ ସମୁଦାୟ ଛାତ୍ରଛାତ୍ରୀଙ୍କ ସଂଖ୍ୟା ମଧ୍ୟରେ ପାର୍ଥକ୍ୟ କେତେ ?  
 a) ୮୭୪  
 b) ୮୯୬  
 c) ୮୮୪  
 d) ୮୯୪
114. ବି. ଟେକ୍, ଏମ୍. ଟେକ୍ ଓ ବିଏ ପାଠ୍ୟକ୍ରମରେ ଛାତ୍ରଛାତ୍ରୀଙ୍କ ହାରାହାରି ସଂଖ୍ୟା କେତେ?  
 a) ୧୬୪୮  
 b) ୧୫୪୨  
 c) ୧୫୬୮  
 d) ୧୬୬୮
115. ଏମ୍.ବି.ଏ ପାଠ୍ୟକ୍ରମରେ ଛାତ୍ରଛାତ୍ରୀଙ୍କ ସଂଖ୍ୟା, ଏମ୍.ଏସ୍.ସି ଏବଂ ବି.ଏସ୍.ସି ର ସମୁଦାୟ ଛାତ୍ରଛାତ୍ରୀଙ୍କ ସଂଖ୍ୟାର ପ୍ରାୟ କେତେ ପ୍ରତିଶତ ?  
 a) ୫୪%  
 b) ୪୮%  
 c) ୪୧%  
 d) ୪୬%



(Q. 116-120) Study the following information carefully to answer the questions.

In a school having 400 students, boys and girls are in the ratio of 3:5. The students speak Hindi, English or both the languages. 12% of boys speak only Hindi, 22% of the girls speak only English, 24% of the total students speak only Hindi and the number of boys speaking both the languages is Six times the number of boys speaking only Hindi.

116. How many boys speak Hindi?

- a) 18
- b) 126
- c) 108
- d) 26

117. How many girls speak only Hindi?

- a) 55
- b) 117
- c) 96
- d) 78

118. How many students speak English?

- a) 304
- b) 79
- c) 225
- d) 117

119. The number of girls speaking only Hindi is what percent of total number of students speaking only Hindi?

- a) 38.2%
- b) 71.8%
- c) 81.25%
- d) 78%

120. What is the ratio of the number of boys to the number of girls speaking both the languages?

- a) 23:25
- b) 12:25
- c) 12:13
- d) 25:13

(ପ୍ରଶ୍ନ 116-120) ପ୍ରଶ୍ନଗୁଡ଼ିକର ଉତ୍ତର ଦେବା ପାଇଁ ନିମ୍ନଲିଖିତ ସୂଚନାକୁ ଧ୍ୟାନ ସହ ଅଧ୍ୟୟନ କରନ୍ତୁ।

୪୦୦ ଛାତ୍ରଛାତ୍ରୀ ଥିବା ବିଦ୍ୟାଳୟରେ ବାଳକ ଓ ବାଳିକାଙ୍କ ଅନୁପାତ ୩:୫ ରହିଛି। ଛାତ୍ରଛାତ୍ରୀମାନେ ହିନ୍ଦୀ, ଇଂରାଜୀ କିମ୍ବା ଉଭୟ ଭାଷାରେ କଥାବାର୍ତ୍ତା କରନ୍ତି। ୧୨% ବାଳକ କେବଳ ହିନ୍ଦୀ କୁହନ୍ତି, ୨୨% ବାଳିକା କେବଳ ଇଂରାଜୀ କୁହନ୍ତି, ମୋଟ ଛାତ୍ରଛାତ୍ରୀଙ୍କ ମଧ୍ୟରୁ ୨୪% କେବଳ ହିନ୍ଦୀ କୁହନ୍ତି ଏବଂ ଉଭୟ ଭାଷା କହୁଥିବା ବାଳକଙ୍କ ସଂଖ୍ୟା କେବଳ ହିନ୍ଦୀ କହୁଥିବା ବାଳକଙ୍କ ସଂଖ୍ୟାର ୬ ଗୁଣ।

116. କେତେ ବାଳକ ହିନ୍ଦୀ କୁହନ୍ତି?

- a) ୧୮
- b) ୧୨୬
- c) ୧୦୮
- d) ୨୬

117. କେତେ ବାଳିକା କେବଳ ହିନ୍ଦୀ କୁହନ୍ତି ?

- a) ୫୫
- b) ୧୧୭
- c) ୯୬
- d) ୭୮

118. କେତେ ଜଣ ଛାତ୍ରଛାତ୍ରୀ ଇଂରାଜୀ କୁହନ୍ତି?

- a) ୩୦୪
- b) ୭୯
- c) ୨୨୫
- d) ୧୧୭

119. କେବଳ ହିନ୍ଦୀ କହୁଥିବା ବାଳିକାଙ୍କ ସଂଖ୍ୟା କେବଳ ହିନ୍ଦୀ କହୁଥିବା ମୋଟ ଛାତ୍ରଛାତ୍ରୀଙ୍କ ସଂଖ୍ୟାର କେତେ ପ୍ରତିଶତ?

- a) ୩୮.୨%
- b) ୭୧.୮%
- c) ୮୧.୨୫%
- d) ୭୮%

120. ଉଭୟ ଭାଷା କହୁଥିବା, ବାଳକଙ୍କ ସଂଖ୍ୟା ସହିତ ବାଳିକାଙ୍କ ସଂଖ୍ୟାର ଅନୁପାତ କେତେ?

- a) ୨୩:୨୫
- b) ୧୨:୨୫
- c) ୧୨:୧୩
- d) ୨୫:୧୩

**Logical Reasoning****ଯୁକ୍ତିଯୁକ୍ତ ଚର୍ଚ୍ଚ**

121. Five boys A, B, C, D and E are standing in a row, D is on the right of E. B is on the left of E, but on the right of A, B is on the immediate left of C, who is standing in the middle?

- a) B
- b) C
- c) D
- d) E

122. A, B, C and D are playing cards. A and C and B and D are partners. D is to the right of C. The face of C is towards west. Find the direction that D is facing..

- a) West
- b) East
- c) South
- d) North

123. If it was Saturday on December 17, 1899, then what will be the day on December 22, 1901?

- a) Friday
- b) Saturday
- c) Sunday
- d) Monday

124. Which of the following is a leap year?

- a) 2800
- b) 1800
- c) 2600
- d) 3000

125. The missing number in the series 40, 120, 60, 180, 90, ?, 135 is:

- a) 110
- b) 270
- c) 105
- d) 210

126. If in a certain code language 'MIGHT' is written as 'GHMTI' then how will 'EARTH' is written in that code?

- a) RTEHA
- b) RTEAM
- c) RTAEH
- d) RETHA

121. A, B, C, D ଏବଂ E ଗୋଟିଏ ଧାଡ଼ିରେ ଠିଆ ହୋଇଛନ୍ତି । D, E ର ଡାହାଣ ପାର୍ଶ୍ୱରେ ଅଛି । B, E ର ବାମ ପାର୍ଶ୍ୱରେ, କିନ୍ତୁ A ର ଡାହାଣ ପାର୍ଶ୍ୱରେ ଅଛି । B, C ର ତୁରନ୍ତ ବାମ ପାର୍ଶ୍ୱରେ ଅଛି । କିଏ ମଝିରେ ଠିଆ ହୋଇଛି ?

- a) B
- b) C
- c) D
- d) E

122. A, B, C ଏବଂ D ଚାପ୍ ଖେଳୁଛନ୍ତି । A ଓ C ଏବଂ B ଓ D ପାର୍ଟନର ଅଟନ୍ତି । D, C ର ଡାହାଣ ପାର୍ଶ୍ୱରେ ଅଛି । C ର ମୁହଁ ପଶ୍ଚିମ ଦିଗରେ ରହିଛି । D କେଉଁ ଦିଗକୁ ସାମ୍ନା କରୁଛି ?

- a) ପଶ୍ଚିମ
- b) ପୂର୍ବ
- c) ଦକ୍ଷିଣ
- d) ଉତ୍ତର

123. ଯଦି ୧୮୯୯ ମସିହାର ଡିସେମ୍ବର ୧୭ ତାରିଖ, ଶନିବାର ଥିଲା, ତେବେ ୧୯୦୧ ମସିହାରେ ଡିସେମ୍ବର ୨୨ ତାରିଖ ଦିନଟି କ'ଣ ପଡ଼ିବ ?

- a) ଶୁକ୍ରବାର
- b) ଶନିବାର
- c) ରବିବାର
- d) ସୋମବାର

124. ନିମ୍ନଲିଖିତ ମଧ୍ୟରୁ କେଉଁଟି ଏକ ଅଧିକ ବର୍ଷ ଅଟେ ?

- a) ୨୮୦୦
- b) ୧୮୦୦
- c) ୨୬୦୦
- d) ୩୦୦୦

125. ଶୁଖିଲା ୪୦, ୧୨୦, ୬୦, ୧୮୦, ୯୦, ?, ୧୩୫ ରେ ନିଖୋଜ ସଂଖ୍ୟା ହେଉଛି:

- a) ୧୧୦
- b) ୨୭୦
- c) ୧୦୫
- d) ୨୧୦

126. ଯଦି ଏକ ନିର୍ଦ୍ଦିଷ୍ଟ କୋଡ଼ ଭାଷାରେ 'MIGHT' କୁ 'GHMTI' ଭାବରେ ଲେଖାଯାଏ, ତେବେ ସେହି କୋଡ଼ ରେ 'EARTH' କୁ କେମିତି ଲେଖାଯିବ ?

- a) RTEHA
- b) RTEAM
- c) RTAEH
- d) RETHA

127. In the given code, SISTER is coded as 535301, UNCLE as 84670 and Boy as 129. How is RUSTIC written in that code?

- a) 633185
- b) 185336
- c) 363815
- d) 581363

128. Given that in a code language, '645' means 'day is warm', '43' means 'warm spring' and '638' means 'spring is sunny', which digit represents 'sunny'?

- a) 8
- b) 2
- c) 4
- d) 5

129. A girl introduced a boy as the son of the only daughter of the father of her maternal uncle. The boy is related to the girl as:

- a) Brother
- b) Uncle
- c) Nephew
- d) Son

130. Ashok started walking towards North. After walking 30m, he turned towards left and walked 40m. He then turned left and walked 30m. He again turned left and walked 50m. How far is he from his original position?

- a) 10 m
- b) 40 m
- c) 30 m
- d) 20 m

131. A boat moves from a jetty towards East. After sailing for 9 nautical miles, turns towards right and covers another 12 NM. If the boat wants to go back to the jetty, what is the shortest distance now from her present position?

- a) 21 NM
- b) 20 NM
- c) 18 NM
- d) 15 NM

127. ଏକ କୋଡ୍ ରେ SISTER କୁ ୫୩୫୩୦୧ ଭାବେ, UNCLE କୁ ୮୪୬୭୦ ଏବଂ Boy କୁ ୧୨୯ ଭାବେ କୋଡ୍ କରାଯାଇଛି। ସେହି କୋଡ୍ ରେ RUSTIC କୁ କିପରି ଲେଖାଯାଏ ?

- a) ୬୩୩୧୮୫
- b) ୧୮୫୩୩୬
- c) ୩୬୩୮୧୫
- d) ୫୮୧୩୬୩

128. ଏକ କୋଡ୍ ଭାଷାରେ '୬୪୫'ର ଅର୍ଥ ହେଉଛି 'day is warm', '୪୩'ର ଅର୍ଥ ହେଉଛି 'warm spring' ଏବଂ '୬୩୮'ର ଅର୍ଥ ହେଉଛି 'spring is sunny'। ତେବେ, କେଉଁ ଅଙ୍କ 'sunny' କୁ ପ୍ରତିନିଧିତ୍ୱ କରେ ?

- a) ୮
- b) ୨
- c) ୪
- d) ୫

129. କଣେ ଝିଅ, ଏକ ପୁଅକୁ ନିଜ ମାମୁଁଙ୍କ ବାପାଙ୍କ ଏକମାତ୍ର ଝିଅର ପୁଅ ବୋଲି ପରିଚୟ ଦେଇଥିଲା। ତେବେ, ପୁଅ ତି ଝିଅ ସହିତ କେମିତି ସମ୍ପର୍କ ?

- a) ଭାଇ
- b) ମାମୁଁ
- c) ପୁତୁରା
- d) ପୁଅ

130. ଅଶୋକ ଉତ୍ତରଦିଗକୁ ଚାଲିବାକୁ ଲାଗିଲେ। ୩୦ ମିଟର ଚାଲିବା ପରେ ସେ ବାମ ଦିଗକୁ ବୁଲି ୪୦ ମିଟର ଚାଲିଲେ । ତା'ପରେ ସେ ବାମ ପଟକୁ ବୁଲି ୩୦ ମିଟର ଚାଲିଲେ । ସେ ପୁଣି ବାମ ପଟକୁ ମୁହାଁଇ ୫୦ ମିଟର ଚାଲିଲେ । ତେବେ, ସେ ସେ ତାଙ୍କ ମୂଳ ସ୍ଥାନଠାରୁ କେତେ ଦୂରରେ ଅଛନ୍ତି ?

- a) ୧୦ ମିଟର
- b) ୪୦ ମିଟର
- c) ୩୦ ମିଟର
- d) ୨୦ ମିଟର

131. ଏକ ଡଙ୍ଗା ଜେଟିରୁ ପୂର୍ବ ଦିଗକୁ ଗତି କରୁଛି। ୯ ନଟିକାଲ ମାଇଲ ପର୍ଯ୍ୟନ୍ତ ଯାତ୍ରା କରିବା ପରେ, ଡାହାଣ ଦିଗକୁ ମୁହାଁଇ ଆଉ ୧୨ NM କୁ ଅତିକ୍ରମ କରେ । ଯଦି ଡଙ୍ଗା ଜେଟିକୁ ଫେରିବାକୁ ଚାହୁଁଛି, ତେବେ ବର୍ତ୍ତମାନ ସମୟରେ ତାଙ୍କର ବର୍ତ୍ତମାନ ସ୍ଥିତିଠାରୁ ସବୁଠାରୁ କମ୍ ଦୂରତା କେତେ ?

- a) ୨୧ NM
- b) ୨୦ NM
- c) ୧୮ NM
- d) ୧୫ NM

132. Six persons A, B, C, D, E and F are standing in a circle. B is between F and C, A is between E and D, F is to the left of D. who is between A and F?

- a) B
- b) C
- c) D
- d) E

133. Replace the question mark (?) in the following series with suitable option.

C-3, E-5, G-7, I-9, ?, ?

- a) M-18, K-14
- b) K-11, M-13
- c) X-24, M-21
- d) O-15, X-24

134. Choose the odd word in the group.

- a) Peacock
- b) Vulture
- c) Sparrow
- d) Swan

135. A person walks towards his house at 8:00 am and observes his shadow to his right. In which direction he is walking?

- a) North
- b) South
- c) East
- d) West

136. If the proposition 'All thieves are poor' is false, which of the following propositions can be claimed certainly to be true?

Propositions:

- a) Some thieves are poor
- b) Some thieves are not poor
- c) No thief is poor
- d) No poor person is a thief

137. What will be the angle between hour hand and minute hand, if clock shows 8:30 PM?

- a)  $90^\circ$
- b)  $75^\circ$

132. A, B, C, D, E ଓ F ଭଳି ୬ ଜଣ ବ୍ୟକ୍ତି ଗୋଟିଏ ସର୍କୁଲରେ ଠିଆ ହୋଇଛନ୍ତି। B, F ଏବଂ C ମଧ୍ୟରେ ଅଛନ୍ତି; A, E ଏବଂ D ମଧ୍ୟରେ ଅଛନ୍ତି; F, D ର ବାମ ପାର୍ଶ୍ୱରେ ଅଛନ୍ତି। ତେବେ, A ଏବଂ F ମଧ୍ୟରେ କିଏ ଅଛନ୍ତି ?

- a) B
- b) C
- c) D
- d) E

133. ନିମ୍ନଲିଖିତ ଶୃଙ୍ଖଳାରେ ପ୍ରଶ୍ନଚିହ୍ନ (?) କୁ ଉପଯୁକ୍ତ ବିକଳ୍ପ ସହିତ ବଦଳାନ୍ତୁ।

C - ୩, E - ୫, G - ୭, I - ୯, ?, ?

- a) M-୧୮, K-୧୪
- b) K-୧୧, M-୧୩
- c) X-୨୪, M-୨୧
- d) O-୧୫, X-୨୪

134. ଗୋଷ୍ଠୀରେ ଭିନ୍ନ ଶବ୍ଦଟିକୁ ଚୟନ କରନ୍ତୁ।

- a) ମୟୂର
- b) ଶାଗୁଣା
- c) ଘର ଚଟିଆ
- d) ହଂସ

135. ଜଣେ ବ୍ୟକ୍ତି ସକାଳ ୮ଟାରେ ନିଜ ଘର ଆଡ଼କୁ ଗଲାବେଳେ ତାଙ୍କ ଡାହାଣ ପାର୍ଶ୍ୱରେ ଛାୟା ଦେଖୁଛନ୍ତି। ତେବେ, ସେ କେଉଁ ଦିଗରେ ଯାଉଛନ୍ତି ?

- a) ଉତ୍ତର
- b) ଦକ୍ଷିଣ
- c) ପୂର୍ବ
- d) ପଶ୍ଚିମ

136. ଯଦି 'ସମସ୍ତ ଚୋର ଗରିବ' ପ୍ରସ୍ତାବ ମିଥ୍ୟା, ତେବେ ନିମ୍ନଲିଖିତ ପ୍ରସ୍ତାବ ଗୁଡ଼ିକ ମଧ୍ୟରୁ କେଉଁଟି ନିଶ୍ଚିତ ଭାବରେ ସତ୍ୟ ବୋଲି ଦାବି କରାଯାଇପାରିବ ?

ପ୍ରସ୍ତାବ:

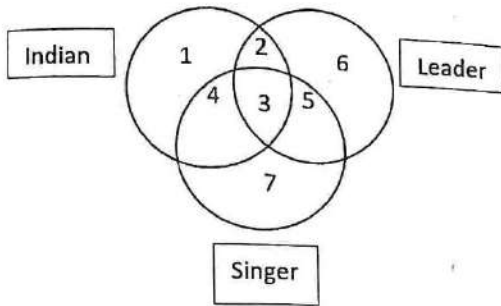
- a) କିଛି ଚୋର ଗରିବ
- b) କିଛି ଚୋର ଗରିବ ନୁହଁନ୍ତି
- c) କୌଣସି ଚୋର ଗରିବ ନୁହଁନ୍ତି
- d) କୌଣସି ଗରିବ ବ୍ୟକ୍ତି ଚୋର ନୁହଁନ୍ତି

137. ଯଦି ଘଡ଼ିରେ ୮.୩୦ PM ଦେଖାଉଛି ତେବେ ଘଣ୍ଟା କଣ୍ଠା ଓ ମିନିଟ୍ କଣ୍ଠା ମଧ୍ୟରେ କୋଣ କେତେ ହେବ ?

- a)  $75^\circ$
- b)  $90^\circ$

- c)  $60^\circ$
- d)  $85^\circ$

138. In the following figure given numbers indicate Indian, leader and singer. Study the figure carefully. Which region among them denotes Indian leaders who are not singers. Indicate that number.



- a) 2
- b) 3
- c) 4
- d) 5

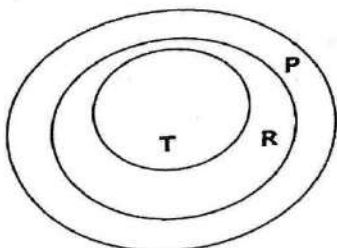
139. If A means '+', B means '-', C means 'x', then find the value of following equation.  $46A2B3C4 = ?$

- a) 34
- b) 23
- c) 17
- d) 11

140. Which of the following expressions will be true, if the given expression  $K \geq G > H \leq F$  is definitely true?

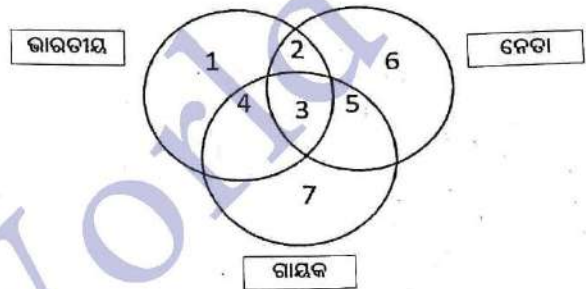
- a)  $F \geq K$
- b)  $H < K$
- c)  $F < G$
- d)  $K \geq H$

141. Which of the following is correct about the given diagram?



- c)  $90^\circ$
- d)  $78^\circ$

138. ନିମ୍ନଲିଖିତ ସଂଖ୍ୟାରେ ଦିଆଯାଇଥିବା ସଂଖ୍ୟା ଭାରତୀୟ, ନେତା ଏବଂ ଗାୟକକୁ ସୂଚାଇଥାଏ । ଏହି ଚିତ୍ରକୁ ସତର୍କତାର ସହ ଅଧ୍ୟୟନ କରନ୍ତୁ । ସେମାନଙ୍କ ମଧ୍ୟରୁ କେଉଁ ଅଞ୍ଚଳ ଭାରତୀୟ ନେତାକୁ ସୂଚିତ କରେ ଯେଉଁମାନେ ଗାୟକ ନୁହଁନ୍ତି । ସେହି ନମ୍ବରକୁ ସୂଚିତ କରନ୍ତୁ ।



- a) 9
- b) ୩
- c) ୪
- d) ୫

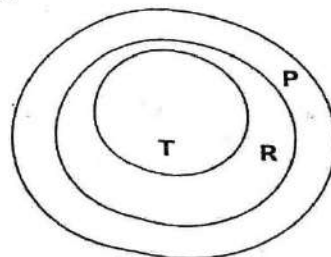
139. ଯଦି A ର ଅର୍ଥ ହେଉଛି '+', B ଅର୍ଥ '-', C ଅର୍ଥ 'x', ତେବେ ନିମ୍ନଲିଖିତ ସମୀକରଣର ମୂଲ୍ୟ ନିର୍ଦ୍ଧାରଣ କରନ୍ତୁ ।  $୪୬A୨B୩C୪ = ?$

- a) ୩୪
- b) ୨୩
- c) ୧୭
- d) ୧୧

140. ଯଦି ଦିଆଯାଇଥିବା ଅଭିବ୍ୟକ୍ତି  $K \geq G > H \leq F$  ନିଶ୍ଚିତ ଭାବରେ ସତ୍ୟ ଅଟେ ତେବେ, ନିମ୍ନଲିଖିତ ଅଭିବ୍ୟକ୍ତି ଗୁଡ଼ିକ ମଧ୍ୟରୁ କେଉଁଟି ସତ୍ୟ ହେବ?

- a)  $F \geq K$
- b)  $H < K$
- c)  $F < G$
- d)  $K \geq H$

141. ଦିଆଯାଇଥିବା ଚିତ୍ର ବିଷୟରେ ନିମ୍ନଲିଖିତ ମଧ୍ୟରୁ କେଉଁଟି ସଠିକ୍ ଅଟେ?



- a) All R are T
- b) All P are T
- c) All T are P
- d) All P are R

- a) ସମସ୍ତ R ହେଉଛି T
- b) ସମସ୍ତ P ହେଉଛି T
- c) ସମସ୍ତ T ହେଉଛି P
- d) ସମସ୍ତ P ହେଉଛି R

142. Which year will have the same calendar as that of 2012?

- a) 2020
- b) 2040
- c) 2025
- d) 2031

142. କେଉଁ ବର୍ଷର କ୍ୟାଲେଣ୍ଡର ୨୦୧୨ ର କ୍ୟାଲେଣ୍ଡର ସହିତ ସମାନ ହେବ ରହିବ?

- a) ୨୦୨୦
- b) ୨୦୪୦
- c) ୨୦୨୫
- d) ୨୦୩୧

143. What was the day of the week on 4<sup>th</sup> June, 2022?

- a) Tuesday
- b) Monday
- c) Friday
- d) Saturday

143. ୪ ଜୁନ, ୨୦୨୨ ସପ୍ତାହର କେଉଁ ଦିନ ଥିଲା?

- a) ମଙ୍ଗଳବାର
- b) ସୋମବାର
- c) ଶୁକ୍ରବାର
- d) ଶନିବାର

144. A, B, C, D and E belong to five different cities P, Q, R, S and T (not necessarily in that order). Each one of them comes from a different city. Further it is given that

- I. B and C do not belong to Q
  - II. B and E do not belong to P and R
  - III. A and C do not belong to R, S and T
  - IV. D and E do not belong to Q and T
- Which one of the following statements is not correct?

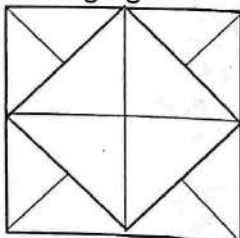
- a) C belongs to P
- b) D belongs to R
- c) A belongs to Q
- d) B belongs to S

144. A, B, C, D ଏବଂ E ପାଞ୍ଚଟି ଭିନ୍ନ ଭିନ୍ନ ସହର P, Q, R, S ଏବଂ T ର ବାସିନ୍ଦା (ସେହି କ୍ରମରେ ଥିବା ଜରୁରୀ ନୁହେଁ)। ସେମାନଙ୍କ ମଧ୍ୟରୁ ସମସ୍ତେ ଭିନ୍ନ ଭିନ୍ନ ସହରରୁ ଆସିଛନ୍ତି। ଏହାବ୍ୟତୀତ ଏହା ମଧ୍ୟ ଦିଆଯାଇଛି ଯେ

- I. B ଏବଂ C, Q ର ବାସିନ୍ଦା ନୁହଁନ୍ତି
  - II. B ଏବଂ E, P ଏବଂ R ର ବାସିନ୍ଦା ନୁହଁନ୍ତି
  - III. A ଏବଂ C, R, S ଏବଂ T ର ବାସିନ୍ଦା ନୁହଁନ୍ତି
  - IV. D ଏବଂ E, Q ଏବଂ T ର ବାସିନ୍ଦା ନୁହଁନ୍ତି
- ନିମ୍ନଲିଖିତ ବିବୃତ୍ତି ମଧ୍ୟରୁ କେଉଁଟି ଠିକ୍ ନୁହେଁ?

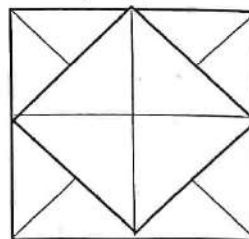
- a) C, P ର ବାସିନ୍ଦା ଅଟେ
- b) D, R ର ବାସିନ୍ଦା ଅଟେ
- c) A, Q ର ବାସିନ୍ଦା ଅଟେ
- d) B, S ର ବାସିନ୍ଦା ଅଟେ

145. How many triangles are there in the following figure?



- a) 16
- b) 20
- c) 12
- d) 22

145. ନିମ୍ନଲିଖିତ ଚିତ୍ରରେ କେତେ ଟି ତ୍ରିକୋଣ ଅଛି?



- a) ୧୬
- b) ୨୦
- c) ୧୨
- d) ୨୨

146. One writes all numbers from 50 to 99 without the digits 2 and 7. How many numbers have been written?

- a) 32
- b) 36
- c) 40
- d) 38

147. If B=2, BAG=10, then BOX=?

- a) 36
- b) 39
- c) 41
- d) 52

148. 12 monkeys can eat 12 bananas in 12 minutes. In how many minutes can 4 monkeys eat 4 bananas?

- a) 10 min
- b) 4 min
- c) 8 min
- d) 12 min

149. In a post office, stamps of three different denominations of Rs 7, Rs 8 and Rs 10 are available. The exact amount for which one cannot buy stamps is:

- a) Rs 19
- b) Rs 20
- c) Rs 23
- d) Rs 29

150. Five children take part in a tournament. Each one has to play every other one. How many games must they play?

- a) 8
- b) 10
- c) 24
- d) 30

146. ଜଣେ ୨ ଓ ୭ ଅଙ୍କ ବିନା ୫୦ରୁ ୯୯ ପର୍ଯ୍ୟନ୍ତ ସମସ୍ତ ସଂଖ୍ୟା ଲେଖିଥାଏ । ତେବେ, କେତୋଟି ସଂଖ୍ୟା ଲେଖା ଯାଇଛି?

- a) ୩୨
- b) ୩୬
- c) ୪୦
- d) ୩୮

147. ଯଦି B=୨, BAG=୧୦, ତେବେ BOX=?

- a) ୩୬
- b) ୩୯
- c) ୪୧
- d) ୫୨

148. ୧୨ଟି ମାଙ୍କଡ଼ ୧୨ ମିନିଟରେ ୧୨ଟି କଦଳୀ ଖାଇପାରିବେ । ତେବେ, କେତେ ମିନିଟରେ ୪ଟି ମାଙ୍କଡ଼ ୪ଟି କଦଳୀ ଖାଇପାରିବେ?

- a) ୧୦ ମିନିଟ୍
- b) ୪ ମିନିଟ୍
- c) ୮ ମିନିଟ୍
- d) ୧୨ ମିନିଟ୍

149. ଗୋଟିଏ ପୋଷ୍ଟ ଅଫିସରେ ୭, ୮ ଓ ୧୦ ଟଙ୍କା ଆକାରର ଡିନୋଟି ଭିନ୍ନ ଭିନ୍ନ ମୂଲ୍ୟର ଟିକଟ ମିଳୁଛି । ଯେଉଁ ନିର୍ଦ୍ଦିଷ୍ଟ ଟଙ୍କାର କେହି ଷ୍ଟାମ୍ପ କିଣିପାରିବେ ନାହିଁ ତାହା ହେଉଛି:

- a) ୧୯ ଟଙ୍କା
- b) ୨୦ ଟଙ୍କା
- c) ୨୩ ଟଙ୍କା
- d) ୨୯ ଟଙ୍କା

150. ୫ ଜଣ ପିଲା ଗୋଟିଏ ଚୁଷ୍ଟୀମେଣ୍ଟରେ ଭାଗ ନେଲେ । ପ୍ରତ୍ୟେକଙ୍କୁ ଅନ୍ୟ ସମସ୍ତଙ୍କ ସହ ଖେଳିବାକୁ ପଡ଼ିବ । ସେମାନେ କେତୋଟି ମ୍ୟାଚ୍ ଖେଳିବା ଉଚିତ୍?

- a) ୮
- b) ୧୦
- c) ୨୪
- d) ୩୦