

RHT- TGT ARTS 2023

E-BOOK-PDF

8,800 MCQ

PRE + MAIN

EXPLANATION

1,500 ଟି ପୂର୍ବ ବର୍ଷର ପ୍ରଶ୍ନ

[Click Here](#)

RHT- TGT PCM 2023

E-BOOK-PDF

8,850 MCQ

PRE + MAIN

EXPLANATION

1,350 ଟି ପୂର୍ବ ବର୍ଷର ପ୍ରଶ୍ନ

[Click Here](#)

RHT- TGT CBZ 2023

E-BOOK-PDF

8,600 MCQ

PRE + MAIN

EXPLANATION

700 ଟି ପୂର୍ବ ବର୍ଷର ପ୍ରଶ୍ନ

[Click Here](#)



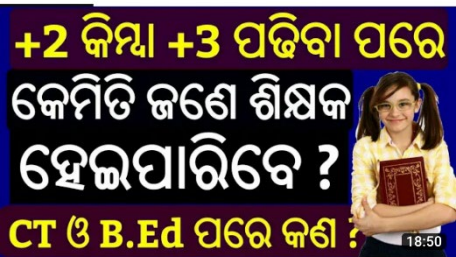
Tech of World

@TechofWorld • 3.35 lakh subscribers • 1.1K videos

Hello ସାଙ୍ଗ ମାନେ !! ଆପଣ ଏହି Channel ରେ ସବୁ ପ୍ରକାରର Educational Video Free ରେ ଦେଖିପାରିବେ ଯେଉଁ ଦେଖିବାକୁ ଚାହୁଁନ୍ତି ଏହି "Tech Of World" ...

Subscribe

HOME VIDEOS LIVE PLAYLISTS COM



How To Become A Teacher After +2 Or +3 In Odisha ? How To Get A Teacher Job In Odi... Tech of World • 1.9 lakh views • 3 years ago

[Click Here](#)



Tech Of World- (Odisha Exam)

Tech Of World

Uninstall

Open

Rate this app

Tell others what you think



Write a review

Developer contact

About this app

Tech Of World (Odisha Exam) Provides Mock Test & E-Books For Different Exams

Education

4.2 ★

492 reviews



2.8 MB



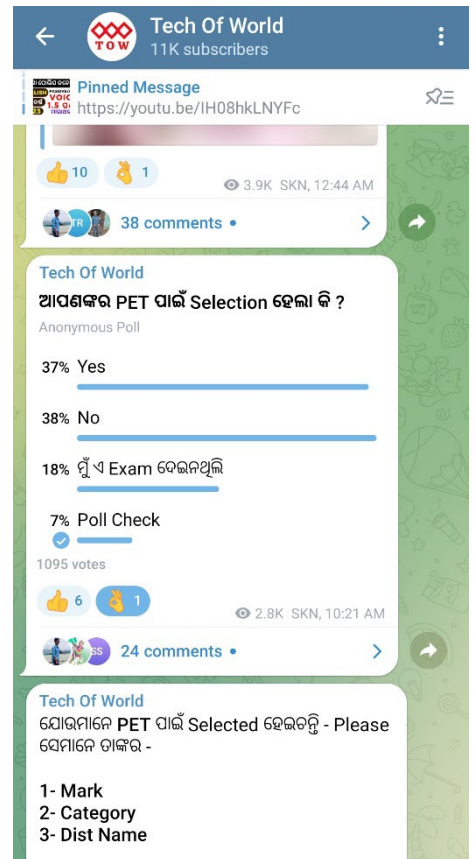
Rated for 3+ &

Dc

TECH OF WORLD

Mock Te

[Click Here](#)



[Click Here](#)

-->

Exam Id

Name:

Exam Date: 10-Mar-2023

Module Name: TEACHERS

Duration: 120

Batch: 09:00-11:00

1) General Studies

Question No. 1

1.00

Bookmark

Who among the following defeated the Marathas in the third battle of Panipat?

ନିମ୍ନଲିଖିତଙ୍କ ମଧ୍ୟରୁ କିଏ, ମରାଠାମାନଙ୍କୁ ତୃତୀୟ ପାନିପତ ଯୁଦ୍ଧରେ ପରାସ୍ତ କରିଥିଲେ?

- (A) Nadir Shah
ନାଦିର ଶାହା
- (B) Ahmad Shah Abdali (Correct Alternative)
ଅହମଦ ଶାହା ଅବଦାଲି (Correct Alternative)
- (C) Mahmud of Ghazni
ଗଜନି ର ମାମୁଦ
- (D) Muhammad of Ghor
ଘୋର ର ମହମ୍ମଦ

Question No. 2

1.00

Bookmark

Which Chola king acquired the title 'Gangaikonda' (conqueror of Ganga)?

କେଉଁ ଚୋଳ ରାଜା 'ଗଙ୍ଗାକୋଣ୍ଡା (Gangaikonda)' (ଗଙ୍ଗା ବିଜେତା) ଉପାଧି ଧାରଣ କରିଥିଲେ?

- (A) Rajendra I (Correct Alternative)
ରାଜେନ୍ଦ୍ର I (Correct Alternative)
- (B) Narasimhavarman II
ନରସିଂହବର୍ମନ II
- (C) Mahipala
ମହିପାଳ
- (D) Bindusara
ବିନ୍ଦୁସାର

Question No. 3

1.00

Bookmark

The Convention on Migratory Species, is also known as:

କନଭେନ୍ସନ ଅନ୍ ମାଇଗ୍ରେଟୋରି ସ୍ପେସିସ୍ (Convention on Migratory Species) _____ ଭାବେ ମଧ୍ୟ ଜଣାଶୁଣା ଅଟେ ।

- (A) Stockholm Convention
ଷ୍ଟକହୋମ କନଭେନ୍ସନ (Stockholm Convention)
- (B) Basel Convention
ବାସେଲ କନଭେନ୍ସନ (Basel Convention)
- (C) Bonn Convention (Correct Alternative)
ବନ୍ କନଭେନ୍ସନ (Bonn Convention) (Correct Alternative)
- (D) Ramsar Convention
ରାମସର କନଭେନ୍ସନ (Ramsar Convention)

Question No. 4

1.00

Bookmark

The Sardar Sarovar Dam is constructed across which Indian river?

ଭାରତର କେଉଁ ନଦୀ ଉପରେ ସର୍ଦାର ସରୋବର ନଦୀବନ୍ଧ (Sardar Sarovar Dam) ନିର୍ମାଣ କରାଯାଇଛି?

- (A) Koyna
କୋୟନା
- (B) Ganga
ଗଙ୍ଗା

- (C) **Narmada (Correct Alternative)**
ନର୍ମଦା (Correct Alternative)
- (D) Tapi
ତାପୀ

Question No. 5

1.00

Bookmark

In which year, did the Chauri Chaura incident take place during British rule?
ଇଂରେଜ ଶାସନ ସମୟରେ କେଉଁ ବର୍ଷ, ଚୌରୀ ଚୌରୀ (Chauri Chaura) ଘଟଣା ଘଟିଥିଲା?

- (A) 1921
1921
- (B) **1922 (Correct Alternative)**
1922 (Correct Alternative)
- (C) 1918
1918
- (D) 1920
1920

Question No. 6

1.00

Bookmark

The trees such as Ebony, Rosewood, Aini and Mahogany are commonly found in which of the following forest types in India?

ଭାରତରେ ନିମ୍ନଲିଖିତ କେଉଁ ଜଙ୍ଗଲରେ ସାଧାରଣ ରୂପେ ଏବୋନୀ (Ebony), ରୋଜଉଡ (Rosewood), ଏଇନି (Aini) ଓ ମେହଗାନି (Mahogany) ଭଳି ଗଛ ଦେଖିବାକୁ ମିଳିଥାଏ?

- (A) Tropical Thorn and Scrubs
କ୍ରାନ୍ତୀୟ କଣ୍ଟାଳିଆ ଓ ଗୁଳ୍ମ ବନ (Tropical Thorn and Scrubs)
- (B) Tropical Deciduous Forests
କ୍ରାନ୍ତୀୟ ପର୍ଣ୍ଣମୋଚି ଅରଣ୍ୟ (Tropical Deciduous Forests)
- (C) **Tropical Evergreen Forests (Correct Alternative)**
କ୍ରାନ୍ତୀୟ ଚିରହରିତ ଅରଣ୍ୟ (Tropical Evergreen Forests) (Correct Alternative)
- (D) Tropical Mangrove Forests
କ୍ରାନ୍ତୀୟ ହେକ୍ତାଳବଣ (Tropical Mangrove Forests)

Question No. 7

1.00

Bookmark

Who among the following wrote the famous book "Economic History of India"?

ନିମ୍ନଲିଖିତଙ୍କ ମଧ୍ୟରୁ ପ୍ରସିଦ୍ଧ ପୁସ୍ତକ "ଇକୋନୋମିକ ହିଷ୍ଟ୍ରି ଅଫ ଇଣ୍ଡିଆ (Economic History of India)" ର ଲେଖକ କିଏ?

- (A) Baden Powell
ବାଡେନ ପାଉଏଲ (Baden Powell)
- (B) Radha Krishna
ରାଧା କୃଷ୍ଣ (Radha Krishna)
- (C) Madhan Lal
ମଦନ ଲାଲ (Madhan Lal)
- (D) **R.C. Dutt (Correct Alternative)**
ଆର୍. ସି. ଦତ୍ତ (R.C. Dutt) (Correct Alternative)

Question No. 8

1.00

Bookmark

In India, the Operation Flood is associated with which of the following?

ଭାରତରେ ନିମ୍ନଲିଖିତ ମଧ୍ୟରୁ କାହା ସହିତ ଅପରେସନ ଫ୍ଲଡ୍ (Operation Flood), ଜଡ଼ିତ ଅଟେ ?

- (A) River embankment
ନଦୀରେ ବନ୍ଧ ବାନ୍ଧିବା (River embankment)
- (B) **Milk Production (Correct Alternative)**
ଦୁଗ୍ଧ ଉତ୍ପାଦନ (Correct Alternative)
- (C) Poultry Production
କୁକୁଡା ଉତ୍ପାଦନ

- (D) Beverages Production
ପାନୀୟ ଉତ୍ପାଦନ

Question No. 9

1.00

Bookmark

Which Constitutional Amendment Act added 'the right to form cooperative societies' to 'Part III' of the Indian Constitution?

କେଉଁ ସମ୍ବିଧାନ ସଂଶୋଧନ ଅଧିନିୟମରେ 'ସମବାୟ ସମିତି ଗଠନ କରିବା ଅଧିକାର' ('the right to form cooperative societies') କୁ ଭାରତୀୟ ସମ୍ବିଧାନର 'ଭାଗ III' ରେ ଯୋଡ଼ାଯାଇଛି?

- (A) 100th Constitutional Amendment
100ତମ ସମ୍ବିଧାନ ସଂଶୋଧନ
- (B) 76th Constitutional Amendment
76ତମ ସମ୍ବିଧାନ ସଂଶୋଧନ
- (C) **97th Constitutional Amendment (Correct Alternative)**
97ତମ ସମ୍ବିଧାନ ସଂଶୋଧନ (Correct Alternative)
- (D) 32nd Constitutional Amendment
32ତମ ସମ୍ବିଧାନ ସଂଶୋଧନ

Question No. 10

1.00

Bookmark

Which of the following countries has the longest coastline in the world?

ନିମ୍ନଲିଖିତ କେଉଁ ଦେଶରେ ବିଶ୍ୱର ଦୀର୍ଘତମ ସମୁଦ୍ର ଉପକୂଳ ରେଖା (coastline) ଅଛି?

- (A) **Canada (Correct Alternative)**
କାନାଡା (Correct Alternative)
- (B) Indonesia
ଇଣ୍ଡୋନେସିଆ
- (C) United States of America
ଯୁକ୍ତ ରାଷ୍ଟ୍ର ଆମେରିକା
- (D) Russia
ରୁଷିଆ

Question No. 11

1.00

Bookmark

During early 19th century, Khasi revolt in Meghalaya was led by:

19ତମ ଶତାବ୍ଦୀର ଆରମ୍ଭରେ କିଏ ଖାସୀ ବିଦ୍ରୋହ (Khasi revolt) ର ନେତୃତ୍ୱ ନେଇଥିଲେ?

- (A) Chakra Bisoi
ଚକ୍ରା ବିଷୋଇ (Chakra Bisoi)
- (B) Paona Brajabasi
ପାଠନା ବ୍ରଜବାସୀ (Paona Brajabasi)
- (C) Kanhu Murmu
କାନ୍ହୁ ମୁର୍ମୁ (Kanhu Murmu)
- (D) **Tirot Sing (Correct Alternative)**
ତିରତ ସିଂ (Tirot Sing) (Correct Alternative)

Question No. 12

1.00

Bookmark

The concept of 'Fundamental Duties' in the Indian Constitution was taken from:

ଭାରତୀୟ ସମ୍ବିଧାନରେ ଥିବା 'ମୌଳିକ କର୍ତ୍ତବ୍ୟ (Fundamental Duties)' ର ଅବଧାରଣା _____ ରୁ ନିଆଯାଇଥିଲା ।

- (A) British Constitution
ବ୍ରିଟିଶ ସମ୍ବିଧାନ
- (B) Irish Constitution
ଆଇରିଶ ସମ୍ବିଧାନ
- (C) **USSR Constitution (Correct Alternative)**
USSR ସମ୍ବିଧାନ (Correct Alternative)

- (D) USA Constitution
USA ସମ୍ବିଧାନ

Question No. 13

1.00

Bookmark

Who among the following was the founder of the Suryavamsi Gajapati Empire?

ନିମ୍ନଲିଖିତଙ୍କ ମଧ୍ୟରୁ କିଏ ସୂର୍ଯ୍ୟବଂଶୀ ଗଜପତି ସାମ୍ରାଜ୍ୟ (Suryavamsi Gajapati Empire)ର ପ୍ରତିଷ୍ଠାତା ଥିଲେ?

- (A) Bhanudeva IV
ଭାନୁଦେବ IV
- (B) **Kapilendradeva (Correct Alternative)**
କପିଳେନ୍ଦ୍ରଦେବ (Correct Alternative)
- (C) Pratarudradeva
ପ୍ରତାପରୁଦ୍ରଦେବ
- (D) Purusottamadeva
ପୁରୁଷୋତ୍ତମଦେବ

Question No. 14

1.00

Bookmark

Which of the following Articles of the Indian Constitution empowers the President to impose the President's rule in the States?

ଭାରତୀୟ ସମ୍ବିଧାନର କେଉଁ ଧାରା, ରାଷ୍ଟ୍ରପତିଙ୍କୁ ରାଜ୍ୟରେ ରାଷ୍ଟ୍ରପତି ଶାସନ ଜାରି କରିବା ପାଇଁ କ୍ଷମତା ପ୍ରଦାନ କରିଥାଏ?

- (A) Article 324
ଧାରା 324
- (B) Article 380
ଧାରା 380
- (C) **Article 356 (Correct Alternative)**
ଧାରା 356 (Correct Alternative)
- (D) Article 280
ଧାରା 280

Question No. 15

1.00

Bookmark

When was the Second Five Year Plan started in India?

ଭାରତରେ କେବେ ଦ୍ୱିତୀୟ ପଞ୍ଚବାର୍ଷିକ ଯୋଜନା ଆରମ୍ଭ କରାଯାଇଥିଲା ?

- (A) 1961
1961
- (B) 1951
1951
- (C) 1966
1966
- (D) **1956 (Correct Alternative)**
1956 (Correct Alternative)

Question No. 16

1.00

Bookmark

The Subject "Citizenship" is mentioned in which of the following lists of the Seventh Schedule of the Indian Constitution?

ଭାରତୀୟ ସମ୍ବିଧାନରେ ଥିବା ସପ୍ତମ ଅନୁସୂଚି (Schedule) ର ନିମ୍ନଲିଖିତ କେଉଁ ତାଲିକାରେ "ନାଗରିକତ୍ୱ" (Citizenship) ବିଷୟକୁ ଉଲ୍ଲେଖ କରାଯାଇଛି?

- (A) Residuary List
ଅବଶିଷ୍ଟ ତାଲିକା (Residuary List)
- (B) State List
ରାଜ୍ୟ ତାଲିକା (State List)
- (C) **Union List (Correct Alternative)**
କେନ୍ଦ୍ର ତାଲିକା (Union List) (Correct Alternative)
- (D) Concurrent List
ଯୁଗ୍ମ ବା ମିଳିତ ତାଲିକା (Concurrent List)

Question No. 17

1.00

Bookmark

The thickness of the ozone layer is measured in terms of which of the following units?
ନିମ୍ନଲିଖିତ କେଉଁ ଏକକ ସାହାଯ୍ୟରେ ଓଜୋନ ସ୍ତରର ମୋଟେଇ (thickness of the ozone layer) ମାପ କରାଯାଏ?

- (A) **Dobson (Correct Alternative)**
ଡବସନ (Dobson) (Correct Alternative)
- (B) Hertz
ହର୍ଜ (Hertz)
- (C) Candela
କାଣ୍ଡେଲା (Candela)
- (D) Decibel
ଡେସିବେଲ (Decibel)

Question No. 18

1.00

Bookmark

The Prajamandal in Nayagarh was constituted on 6th June 1938 under the presidentship of:
6 ଜୁନ 1938 ରେ _____ କି ଅଧ୍ୟକ୍ଷତାରେ ନୟାଗଡ଼ରେ ପ୍ରଜାମଣ୍ଡଳ (Prajamandal) ଗଠନ କରାଯାଇଥିଲା ।

- (A) Sarat Chandra Das
ଶରତ ଚନ୍ଦ୍ର ଦାସ (Sarat Chandra Das)
- (B) Bhimsen Bhoi
ଭୀମସେନ ଭୌଇ (Bhimsen Bhoi)
- (C) **Narayan Nanda (Correct Alternative)**
ନାରାୟଣ ନନ୍ଦ (Narayan Nanda) (Correct Alternative)
- (D) Harekrushna Mahatab
ହରେକୃଷ୍ଣ ମହତାବ (Harekrushna Mahatab)

Question No. 19

1.00

Bookmark

Which of the following Lakes in India is formed due to tectonic activity?
ଭୂତଳନ ପ୍ରକ୍ରିୟା (tectonic activity) କାରଣରୁ ଭାରତରେ ନିମ୍ନଲିଖିତ ମଧ୍ୟରୁ କେଉଁ ହ୍ରଦ ସୃଷ୍ଟି ହୋଇଛି?

- (A) Dal Lake
ଡାଲ୍ ହ୍ରଦ (Dal Lake)
- (B) **Wular Lake (Correct Alternative)**
ଉଲାର ହ୍ରଦ (Wular Lake) (Correct Alternative)
- (C) Tso Moriri Lake
ତ୍ସୋ ମୋରିରି ହ୍ରଦ (Tso Moriri Lake)
- (D) Pangong Tso Lake
ପାଙ୍ଗଙ୍ଗ ତ୍ସୋ ହ୍ରଦ (Pangong Tso Lake)

Question No. 20

1.00

Bookmark

River Penganga is the tributary of which of the following rivers?
ପେନଗଙ୍ଗା ନଦୀ (River Pengang), ନିମ୍ନଲିଖିତ ମଧ୍ୟରୁ କେଉଁ ନଦୀର ଉପନଦୀ ଅଟେ?

- (A) Mahanadi
ମହାନଦୀ
- (B) Krishna
କୃଷ୍ଣା

- (C) Kaveri
କାବେରୀ
- (D) **Godavari (Correct Alternative)**
ଗୋଦାବରୀ (Correct Alternative)

Question No. 21

1.00

Bookmark

Which Article of the Indian Constitution prohibits 'Begar' (forced labour)?
ଭାରତୀୟ ସମ୍ବିଧାନର କେଉଁ ଧାରା, 'ଭିକାରୀ' (ବେଗାରି) ବା Begar' (forced labour) କୁ ପ୍ରତିରୋଧ କରେ?

- (A) Article 26
ଧାରା 26
- (B) **Article 23 (Correct Alternative)**
ଧାରା 23 (Correct Alternative)
- (C) Article 18
ଧାରା 18
- (D) Article 20
ଧାରା 20

Question No. 22

1.00

Bookmark

When was the "Goods and Service Tax" implemented in India?
ଭାରତରେ କେବେ "ସାମଗ୍ରୀ ଓ ସେବା କର (Goods and Service Tax)" ଲାଗୁ କରାଗଲା?

- (A) 2012
2012
- (B) 2016
2016
- (C) 2015
2015
- (D) **2017 (Correct Alternative)**
2017 (Correct Alternative)

Question No. 23

1.00

Bookmark

Who among the following freedom fighters was regarded as the 'Deshbandhu'?
ନିମ୍ନଲିଖିତ କେଉଁ ସ୍ୱାଧୀନତା ସଂଗ୍ରାମୀ 'ଦେଶବନ୍ଧୁ' (Deshbandhu) ଭାବେ ପରିଚିତ ଅଟନ୍ତି?

- (A) **Chittaranjan Das (Correct Alternative)**
ଚିତ୍ତରଞ୍ଜନ ଦାସ (Correct Alternative)
- (B) Motilal Nehru
ମୋତିଲାଲ ନେହେରୁ
- (C) Madan Mohan Malaviya
ମଦନ ମୋହନ ମାଲବ୍ୟ
- (D) Lala Lajpat Rai
ଲାଲା ଲାଜପତ ରାୟ

Question No. 24

1.00

Bookmark

'Asian Elephant' is placed under which category of the IUCN's Red List of Threatened Species?
ସଙ୍କଟାପନ୍ନ ଜାତି (Threatened Species) ପାଇଁ IUCNର ରେଡ ଲିଷ୍ଟ (IUCN's Red List)ର କେଉଁ ଶ୍ରେଣୀରେ 'ଏସୀୟ ହାତୀ (Asian Elephant)'କୁ ରଖାଯାଇଛି?

- (A) Critically Endangered
ଅତି ସଙ୍କଟାପନ୍ନ (Critically Endangered)
- (B) Vulnerable
ବିପଦାପନ୍ନ (Vulnerable)
- (C) **Endangered (Correct Alternative)**
ଲୁପ୍ତପ୍ରାୟ (Endangered) (Correct Alternative)
- (D) Extinct in the Wild
ବିଲୁପ୍ତ ବନ୍ୟ ଜୀବ (Extinct in the Wild)

Question No. 25

1.00

Bookmark

Where is the headquarters of the State Bank of India located?
ଭାରତୀୟ ରେଷ୍ଟ୍ରିଟ ବ୍ୟାଙ୍କ (State Bank of India) ର ମୁଖ୍ୟାଳୟ କେଉଁଠି ଅବସ୍ଥିତ?

- (A) New Delhi
ନୂଆ ଦିଲ୍ଲୀ
- (B) Chennai
ଚେନ୍ନାଇ
- (C) Lucknow
ଲକ୍ନୋ
- (D) **Mumbai (Correct Alternative)**
ମୁମ୍ବାଇ (Correct Alternative)

Question No. 26

1.00

Bookmark

When was the first Anglo-Sikh war fought?

କେବେ ପ୍ରଥମ ଆଙ୍ଗ୍ଲୋ-ଶିଖ (Anglo-Sikh) ଯୁଦ୍ଧ ହୋଇଥିଲା?

- (A) 1848-1849
1848-1849
- (B) **1845-1846 (Correct Alternative)**
1845-1846 (Correct Alternative)
- (C) 1842-1843
1842-1843
- (D) 1838-1839
1838-1839

Question No. 27

1.00

Bookmark

Which of the following soils looks Yellow when it occurs in hydrated form?
ନିମ୍ନଲିଖିତ କେଉଁ ମୃତ୍ତିକା ଆର୍ଦ୍ର ଅବସ୍ଥା (hydrated form) ରେ ହଳଦିଆ ଦେଖାଯାଏ?

- (A) **Red Soil (Correct Alternative)**
ଲୋହିତ ମୃତ୍ତିକା (Red Soil) (Correct Alternative)
- (B) Laterite soil
ମାଙ୍କଡ଼ା ମାଟି (Laterite soil)
- (C) Regur Soil
ରିଗର ମୃତ୍ତିକା (Regur Soil)
- (D) Arid Soil
ଶୁଷ୍କ ମୃତ୍ତିକା (Arid Soil)

Question No. 28

1.00

Bookmark

Which among the following countries does not share its border with Red Sea?
ନିମ୍ନଲିଖିତ ମଧ୍ୟରୁ କେଉଁ ଦେଶର ସୀମା, ଲୋହିତ ସାଗର (Red Sea) କୁ ଲାଗି ନାହିଁ?

- (A) Eritrea
ଏରିଟ୍ରିଆ (Eritrea)

- (B) Sudan
ସୁଦାନ (Sudan)
- (C) Djibouti
ଜିବୋତି (Djibouti)
- (D) **Ethiopia (Correct Alternative)**
ଇଥିଓପିଆ (Ethiopia) (Correct Alternative)

Question No. 29

1.00

Bookmark

Which among the following Institutions releases the All-India Consumer Price Index Numbers for Industrial Workers?

କାରଖାନାରେ କାମ କରୁଥିବା ଶ୍ରମିକମାନଙ୍କ ପାଇଁ ନିମ୍ନଲିଖିତ କେଉଁ ସଂସ୍ଥା ଦ୍ୱାରା ଅଲ-ଇଣ୍ଡିଆ କଞ୍ଜ୍ୟୁମର ପ୍ରାଇସ ଇଣ୍ଡେକ୍ସ ନମ୍ବର (All-India Consumer Price Index Numbers) ପ୍ରକାଶିତ କରାଯାଇଥାଏ?

- (A) Department of Economic Affairs
ଅର୍ଥନୀତି ବ୍ୟାପାର ବିଭାଗ (Department of Economic Affairs)
- (B) Reserve Bank of India
ଭାରତୀୟ ରିଜର୍ଭ ବ୍ୟାଙ୍କ (Reserve Bank of India)
- (C) National Statistics Office
ରାଷ୍ଟ୍ରୀୟ ପରିସଂଖ୍ୟାନ କାର୍ଯ୍ୟାଳୟ (National Statistics Office)
- (D) **Labour Bureau (Correct Alternative)**
ଲେବର ବ୍ୟୁରୋ (Labour Bureau) (Correct Alternative)

Question No. 30

1.00

Bookmark

Which of the following parts of the Indian Constitution was described as the "novel features" of the Indian Constitution by Dr. B. R. Ambedkar?

ଭାରତୀୟ ସମ୍ବିଧାନର ନିମ୍ନଲିଖିତ କେଉଁ ଭାଗକୁ ଡ. ବି. ଆର୍. ଆମ୍ବେଦକରଙ୍କ ଦ୍ୱାରା "ନୂତନ ବୈଶିଷ୍ଟ୍ୟ (novel features)" ଭାବେ ବର୍ଣ୍ଣନା କରାଯାଇଥିଲା?

- (A) Part III
ଭାଗ III
- (B) Part VI
ଭାଗ VI
- (C) Part IX
ଭାଗ IX
- (D) **Part IV (Correct Alternative)**
ଭାଗ IV (Correct Alternative)

2) Arithmetic

Question No. 1

1.00

Bookmark

A number when divided by 48, 72 and 96, leaves the remainder 21 in each case. Find the smallest possible number.

ଗୋଟିଏ ସଂଖ୍ୟାକୁ 48, 72 ଓ 96 ଦ୍ୱାରା ଭାଗ କଲେ ପ୍ରତ୍ୟେକ ଥର ଭାଗଶେଷ 21 ରହିବ । କ୍ଷୁଦ୍ରତମ ସମ୍ଭାବ୍ୟ ସଂଖ୍ୟାଟି ନିର୍ଣ୍ଣୟ କର ।

- (A) 329
329
- (B) 319
319
- (C) **309 (Correct Alternative)**
309 (Correct Alternative)
- (D) 339
339

Question No. 2

1.00

Bookmark

Find the value of x. (Upto 1 decimal)

$$15.5 \times 15.5 + 2.5 + x + 83.81 \times 1.1 = 521$$

x ର ମୂଲ୍ୟ ନିରୂପଣ କର । (ଦଶମିକ ଗୋଟିଏ ସ୍ଥାନ ପର୍ଯ୍ୟନ୍ତ)

$$15.5 \times 15.5 + 2.5 + x + 83.81 \times 1.1 = 521$$

- (A) 352.7
352.7
- (B) **332.7 (Correct Alternative)**
332.7 (Correct Alternative)
- (C) 362.7
362.7
- (D) 342.7
342.7

Question No. 3

1.00

Bookmark

A man travels at a speed of 121 kmph and covers a certain distance in 7.26 minutes. Find the distance covered in metres.

ଜଣେ ବ୍ୟକ୍ତି 121 kmph ବେଗରେ ଯାତ୍ରା କରି ଏକ ନିର୍ଦ୍ଦିଷ୍ଟ ଦୂରତାକୁ 7.26 ମିନିଟରେ ଅତିକ୍ରମ କରେ । ମିଟରରେ ଅତିକ୍ରମ କରିଥିବା ଦୂରତା ନିର୍ଣ୍ଣୟ କର ।

- (A) 14841
14841
- (B) 14941
14941
- (C) 14741
14741
- (D) **14641 (Correct Alternative)**
14641 (Correct Alternative)

Question No. 4

1.00

Bookmark

If the ratio between two numbers is 31:32 and their sum is 2835, then find the smaller number.

ଯଦି ଦୁଇଟି ସଂଖ୍ୟା ମଧ୍ୟରେ ଅନୁପାତ 31:32 ଏବଂ ସେମାନଙ୍କର ଯୋଗଫଳ 2835 ହୁଏ ତେବେ, କ୍ଷୁଦ୍ର ସଂଖ୍ୟାଟି ନିର୍ଣ୍ଣୟ କର ।

- (A) 1495
1495
- (B) 1595
1595
- (C) 1295
1295
- (D) **1395 (Correct Alternative)**
1395 (Correct Alternative)

Question No. 5

1.00

Bookmark

Find the average of first five multiples of 13.

13 ର ପ୍ରଥମ ପାଞ୍ଚୋଟି ଗୁଣିତକର ହାରାହାରି ନିର୍ଣ୍ଣୟ କର ।

- (A) 41
41
- (B) 45
45
- (C) **39 (Correct Alternative)**
39 (Correct Alternative)
- (D) 43
43

Question No. 6

1.00

Bookmark

Solve:

$$554.25 + 226.35 - 442.65 = ?$$

ସମାଧାନ କର:

$$554.25 + 226.35 - 442.65 = ?$$

- (A) 347.95
347.95

- (B) 327.95
327.95
- (C) **337.95 (Correct Alternative)**
337.95 (Correct Alternative)
- (D) 317.95
317.95

Question No. 7

1.00

Bookmark

Find the HCF of 205, 410, 615 and 820.
205, 410, 615 ଓ 820 ର ଗ.ସା.ଗୁ. ନିର୍ଣ୍ଣୟ କର ।

- (A) **205 (Correct Alternative)** (Chosen Option)
205 (Correct Alternative) (Chosen Option)
- (B) 225
225
- (C) 215
215
- (D) 235
235

Question No. 8

1.00

Bookmark

If Muhammad distributed 2583 chocolates from a box of 6150 chocolates, what percentage of the chocolates will be left in the box?

ଯଦି ମୁହମ୍ମଦ 6150ଟି ଚକୋଲେଟ ଥିବା ବାକ୍ସରୁ 2583ଟି ଚକୋଲେଟ ବାଣ୍ଟି ଦେଲେ, ତେବେ ବାକ୍ସରେ କେତେ ଶତକଡ଼ା ଚକୋଲେଟ ବଳିପଡ଼ିବ?

- (A) 56
56
- (B) **58 (Correct Alternative)**
58 (Correct Alternative)
- (C) 54
54
- (D) 52
52

Question No. 9

1.00

Bookmark

Jegan obtained 75, 66, 80, 69 and 84 marks (out of 100) in English, Mathematics, Physics, Chemistry and Biology. What is his average mark?

ଜେଗାନ ଇଂରାଜୀ, ଗଣିତ, ଫିଜିକ୍ସ, କେମିଷ୍ଟ୍ରି ଓ ବାୟୋଲୋଜୀରେ (100 ରୁ) 75, 66, 80, 69 ଓ 84 ମାର୍କ ପାଇଲା । ତା'ର ହାରାହାରି ମାର୍କ କେତେ?

- (A) 73.8
73.8
- (B) **74.8 (Correct Alternative)**
74.8 (Correct Alternative)
- (C) 72.8
72.8
- (D) 75.8
75.8

Question No. 10

1.00

Bookmark

Find the total surface area of the cube, whose side is 45cm. (In cm^2)

45cm ବାହୁ ବିଶିଷ୍ଟ ଗୋଟିଏ ସମଘନର ସମଗ୍ର ପୃଷ୍ଠତଳର କ୍ଷେତ୍ରଫଳ ନିର୍ଣ୍ଣୟ କର । (cm^2 ରେ)

- (A) **12150 (Correct Alternative)**
12150 (Correct Alternative)
- (B) 14150
14150

- (C) 13150
13150
- (D) 11150
11150

Question No. 11

1.00

Bookmark

On dividing a number by 74, we get 275 as quotient and 0 as remainder. On dividing the same number by 73, what will be the remainder?

ଗୋଟିଏ ସଂଖ୍ୟାକୁ 74 ଦ୍ୱାରା ଭାଗ କରିବା ଦ୍ୱାରା ଆମେ ଭାଗଫଳ 275 ଏବଂ ଭାଗଶେଷ 0 ପାଇବା । ସମାନ ସଂଖ୍ୟାକୁ 73 ଦ୍ୱାରା ଭାଗ କଲେ ଭାଗଶେଷ କେତେ ହେବ?

- (A) 52
52
- (B) 54
54
- (C) 56 (Correct Alternative)
56 (Correct Alternative)
- (D) 58
58

Question No. 12

1.00

Bookmark

A 1264 litre of mixture contains milk and water in the ratio 39:40. How much milk must be added to the mixture so that it contains milk and water in the proportion of 3:2? (In litres)

1264 ଲିଟରର ଏକ ମିଶ୍ରଣରେ କ୍ଷୀର ଓ ଜଳର ଅନୁପାତ 39:40 ଅଟେ । ମିଶ୍ରଣରେ ଥିବା କ୍ଷୀର ଓ ଜଳର ଅନୁପାତକୁ 3:2 କରିବା ପାଇଁ ଏଥିରେ କେତେ ପରିମାଣର କ୍ଷୀର ମିଶାଇବା ଆବଶ୍ୟକ? (ଲିଟରରେ)

- (A) 316
316
- (B) 336 (Correct Alternative)
336 (Correct Alternative)
- (C) 346
346
- (D) 326
326

Question No. 13

1.00

Bookmark

Akil rows 43.5 kmph in still water. If the river is running at a speed of 14.5 kmph, it takes him 90 minutes to row to a place and back. How far is the place? (In km)

ଆକିଲ ଛାନ୍ଦି ଜଳରେ 43.5 kmph ବେଗରେ ଡଙ୍ଗା ଚଳାଏ । ଯଦି ନଦୀ 14.5 kmph ବେଗରେ ପ୍ରବାହିତ ହେଉଥାଏ ତେବେ, ଗୋଟିଏ ସ୍ଥାନକୁ ଡଙ୍ଗାରେ ଯାଇ ଫେରି ଆସିବା ପାଇଁ ତାକୁ 90 ମିନିଟ୍ ସମୟ ଲାଗେ । ସ୍ଥାନର ଦୂରତା କେତେ? (kmରେ)

- (A) 29 (Correct Alternative)
29 (Correct Alternative)
- (B) 32
32
- (C) 30
30
- (D) 31
31

Question No. 14

1.00

Bookmark

Lavanya made a profit of 25% when selling an ornament at ₹ 6530. Find the cost price of the ornament. (In ₹.)

ଲାବନ୍ୟା ଗୋଟିଏ ଗହଣାକୁ ₹ 6530 ରେ ବିକ୍ରୟ କରି 25% ଲାଭ କରନ୍ତି । ଗହଣାଟିର କ୍ରୟ ମୂଲ୍ୟ ନିର୍ଣ୍ଣୟ କର । (₹ ରେ)

- (A) 5226
5226
- (B) 5228
5228

- (C) 5224 (Correct Alternative)
5224 (Correct Alternative)
- (D) 5230
5230

Question No. 15

1.00

Bookmark

By selling a table for ₹ 1190, a man loses 15%. At what price should he sell it to gain 15%? (In ₹.)
ଜଣେ ବ୍ୟକ୍ତି ଗୋଟିଏ ଟେବୁଲକୁ ₹ 1190 ରେ ବିକ୍ରୟ କରି 15% କ୍ଷତି ସହଜି । 15% ଲାଭ ପାଇବା ପାଇଁ ସେ ଏହାକୁ କେତେ ମୂଲ୍ୟରେ ବିକ୍ରୟ କରିବା ଆବଶ୍ୟକ? (₹ ରେ)

- (A) 1620
1620
- (B) 1610 (Correct Alternative)
1610 (Correct Alternative)
- (C) 1630
1630
- (D) 1600
1600

Question No. 16

1.00

Bookmark

Find the Total Surface Area of Cylinder, given that radius is 14 cm and its height is 5 cm. (In cm^2)
ବ୍ୟାସାର୍ଦ୍ଧ 14 cm ଏବଂ ଉଚ୍ଚତା 5 cm ଥିବା ଗୋଟିଏ ସିଲିଣ୍ଡରର ସମଗ୍ର ପୃଷ୍ଠତଳର କ୍ଷେତ୍ରଫଳ ନିର୍ଣ୍ଣୟ କର । (cm^2 ରେ)

- (A) 1672 (Correct Alternative)
1672 (Correct Alternative)
- (B) 1692
1692
- (C) 1702
1702
- (D) 1682
1682

Question No. 17

1.00

Bookmark

What percent of 1684 is 421?
1684 ର କେତେ ଶତକଡ଼ା 421 ଅଟେ?

- (A) 30
30
- (B) 20
20
- (C) 35
35
- (D) 25 (Correct Alternative)
25 (Correct Alternative)

Question No. 18

1.00

Bookmark

A, B and C can complete a piece of work in 381, 254 and 762 days respectively. Working together, they will complete the same work in how many days?
A, B ଓ C ଗୋଟିଏ କାମକୁ ଯଥାକ୍ରମେ 381, 254 ଓ 762 ଦିନରେ ସଂପୂର୍ଣ୍ଣ କରିପାରନ୍ତି । ଏକାଠି କାମ କଲେ ସମାନ କାମକୁ ସେମାନେ କେତେ ଦିନରେ ସଂପୂର୍ଣ୍ଣ କରିବେ?

- (A) 127 (Correct Alternative)
127 (Correct Alternative)
- (B) 125
125
- (C) 123
123
- (D) 129
129

Question No. 19

1.00

Bookmark

Which one of the following numbers is exactly divisible by 11?
ନିମ୍ନଲିଖିତ ସଂଖ୍ୟାଗୁଡ଼ିକ ମଧ୍ୟରୁ କେଉଁଟି 11 ଦ୍ୱାରା ସଂପୂର୍ଣ୍ଣ ବିଭାଜ୍ୟ ହେବ?

- (A) 26977
26977
- (B) 26985
26985
- (C) 26961 (Correct Alternative)
26961 (Correct Alternative)
- (D) 26969
26969

Question No. 20

1.00

Bookmark

A can finish a work in 378 days and B can do the same work in 756 days. Working together, they will complete the same work in how many days?

A ଗୋଟିଏ କାମକୁ 378 ଦିନରେ ଏବଂ B ସେହି କାମକୁ 756 ଦିନରେ କରିପାରେ । ଏକାଠି କାମ କଲେ ସମାନ କାମକୁ ସେମାନେ କେତେ ଦିନରେ ସଂପୂର୍ଣ୍ଣ କରିବେ?

- (A) 252 (Correct Alternative)
252 (Correct Alternative)
- (B) 250
250
- (C) 254
254
- (D) 256
256

3) Analytical Reasoning and Mental Ability

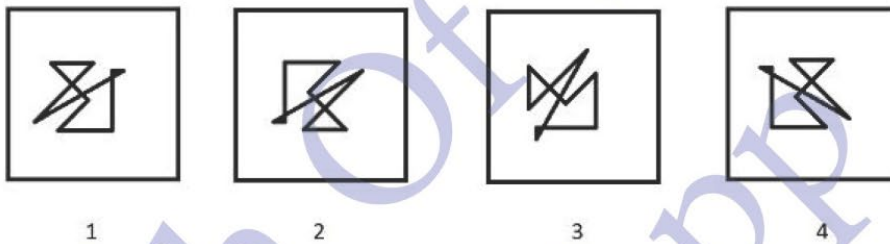
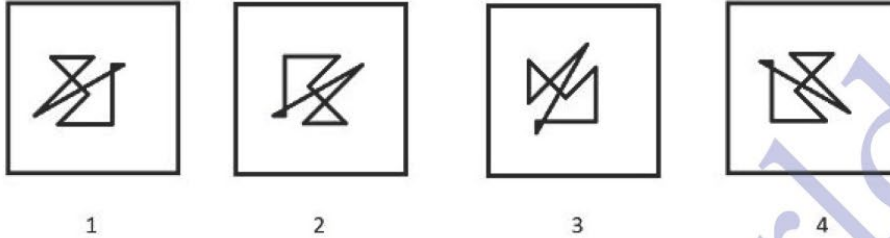
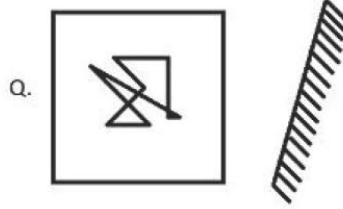
Question No. 1

1.00

Bookmark

Which one of the following images numbered as (1), (2), (3), (4) closely resembles the mirror image of the given figure?

(1), (2), (3), (4) ଭାବରେ ନମ୍ବର ହୋଇଥିବା କେଉଁ ଛବି, ପ୍ରଦତ୍ତ ଚିତ୍ରର ଦର୍ପଣ ପ୍ରତିବିମ୍ବର ନିକଟତମ ଅନୁରୂପ ହେବ?



- (A) 4
- (B) 3
- (C) 1
- (D) 2 (Correct Alternative)

Question No. 2

1.00

Bookmark

Z sits to the South of Y and West of W. X sits to the North of W and East of Y. If everyone is facing North, which direction of Z, is X?

Z, Y ର ଦକ୍ଷିଣ ଦିଗରେ ଏବଂ W ର ପଶ୍ଚିମ ଦିଗରେ ବସିଛି । X, W ର ଉତ୍ତର ଦିଗରେ ଏବଂ Y ର ପୂର୍ବ ଦିଗରେ ବସିଛି । ଯଦି ସମସ୍ତେ ଉତ୍ତର ଦିଗକୁ ମୁହଁ କରିଥାନ୍ତି, ତେବେ Z ର କେଉଁ ଦିଗରେ X ବସିଛି ?

- (A) South-West
ଦକ୍ଷିଣ-ପଶ୍ଚିମ
- (B) North-West
ଉତ୍ତର-ପଶ୍ଚିମ
- (C) North-East (Correct Alternative)
ଉତ୍ତର-ପୂର୍ବ (Correct Alternative)
- (D) South-East
ଦକ୍ଷିଣ-ପୂର୍ବ

Bookmark

If all the vowels are replaced by the immediate next consonant from the English alphabet series in the word REPOSSESSION, then the letters of the word are arranged alphabetically, which letter will be second to the left of the sixth letter from the right?

ଶବ୍ଦ REPOSSESSION ରେ ଥିବା ସମସ୍ତ ସ୍ଵରବର୍ଣ୍ଣ ଯଦି ଇଂରାଜି ବର୍ଣ୍ଣମାଳା ଅନୁସାରେ ଏହାର ଠିକ ପରବର୍ତ୍ତୀ ବ୍ୟଞ୍ଜନ ବର୍ଣ୍ଣ ଦ୍ଵାରା ପ୍ରତିସ୍ଥାପିତ କରାଯାଏ ଏବଂ ଶବ୍ଦର ସମସ୍ତ ଅକ୍ଷରଗୁଡ଼ିକୁ ବର୍ଣ୍ଣମାଳା ଅନୁସାରେ ସଜାଇ ରଖାଯାଏ, ତେବେ ଡାହାଣରୁ ଷଷ୍ଠ ଅକ୍ଷରର ବାମ କଡ଼ରେ ଥିବା ଦ୍ଵିତୀୟ ଅକ୍ଷର କ'ଣ ହେବ?

- (A) P (Correct Alternative)
P (Correct Alternative)
- (B) F
F
- (C) R
R
- (D) N
N

Question No. 4

1.00

Bookmark

Which of the following symbols should replace the questions mark (?) in the given expression in order to make the expression 'A > E' definitely true?

$$O < R \leq A = N ? G \geq E$$

ପରିପ୍ରକାଶ 'A > E' କୁ ନିଶ୍ଚିତ ରୂପେ ସତ୍ୟ କରିବା ପାଇଁ ପ୍ରଦତ୍ତ ପରିପ୍ରକାଶରେ ଥିବା ପ୍ରଶ୍ନ ଚିହ୍ନ (?) ସ୍ଥାନରେ ନିମ୍ନଲିଖିତ କେଉଁ ପ୍ରତୀକ ରହିବା ଆବଶ୍ୟକ?

$$O < R \leq A = N ? G \geq E$$

- (A) > (Correct Alternative)
> (Correct Alternative)
- (B) ≥
≥
- (C) <
<
- (D) =
=

Question No. 5

1.00

Bookmark

If, in the number sequence 1 2 4 5 6 6 6 7 1 3 4 2, all the odd numbers are increased by one and all the even numbers are increased by two, then the new number sequence is arranged in ascending order, which will be the seventh digit from the right?

ଯଦି ଏହି ସଂଖ୍ୟା କ୍ରମ 1 2 4 5 6 6 6 7 1 3 4 2 ରେ ଥିବା ସମସ୍ତ ଅଯୁଗ୍ମ ସଂଖ୍ୟାରେ ଏକ ବୃଦ୍ଧି କରାଯାଏ ଏବଂ ସମସ୍ତ ଯୁଗ୍ମ ସଂଖ୍ୟାରେ ଦୁଇ ବୃଦ୍ଧି କରାଯାଏ ତେବେ ନୂତନ ସଂଖ୍ୟାକ୍ରମକୁ ସାନରୁ ବଡ଼ କ୍ରମରେ ସଜାଇଲେ କେଉଁଟି ଡାହାଣ କଡ଼ରୁ ସପ୍ତମ ଅଙ୍କ ହେବ?

- (A) 4
4
- (B) 6 (Correct Alternative)
6 (Correct Alternative)
- (C) 2
2
- (D) 8
8

Question No. 6 (Case Study From Q.No 7 To 11)

5.00

Bookmark

Directions: Read the given information carefully and answer the questions that follow.

Seven friends M, N, O, P, Q, R and S sit in a straight row. Out of seven, some face north and some face south, not necessarily in the same order.

- Neither Q nor P is the neighbor of M.
- S sits to the immediate right of O.
- R and M faces the direction opposite to that of S and P.
- M sits at the one end of the row.
- R sits fourth to the left of P.

f) O sits third to the right of Q, who sits fourth to the left of N. N doesn't face South direction.

ନିର୍ଦ୍ଦେଶାବଳୀ: ଦିଆଯାଇଥିବା ସୂଚନାକୁ ମନବେଇ ପଢ଼ନ୍ତୁ ଏବଂ ପ୍ରଶ୍ନଗୁଡ଼ିକର ଉତ୍ତର ଦିଅନ୍ତୁ ।

ସାତ ଜଣ ସାଙ୍ଗ M, N, O, P, Q, R ଓ S ଗୋଟିଏ ସିଧା ଧାଡ଼ିରେ ବସିଛନ୍ତି । ସାତ ଜଣଙ୍କ ମଧ୍ୟରୁ କିଛି ଉତ୍ତରକୁ ଏବଂ କିଛି ଦକ୍ଷିଣକୁ ମୁହଁ କରି ବସିଛନ୍ତି । ଏହି କ୍ରମ ରହିବା ଜରୁରୀ ନୁହେଁ ।

a) Q କିମ୍ବା P, M ର ପଡୋଶୀ ନୁହଁନ୍ତି ।

b) O ର ଠିକ ଡାହାଣ କଡରେ S ବସିଛି ।

c) S ଓ P ଯେଉଁ ଦିଗକୁ ମୁହଁ କରିଛନ୍ତି ତା'ର ବିପରୀତ ଦିଗକୁ R ଓ M ମୁହଁ କରିଛନ୍ତି ।

d) M ଧାଡ଼ିର ଏକ ପ୍ରାନ୍ତରେ ବସିଛି ।

e) P ର ବାମ କଡ ଚତୁର୍ଥ ସ୍ଥାନରେ R ବସିଛି ।

f) N ର ବାମ କଡ ଚତୁର୍ଥ ସ୍ଥାନରେ ବସିଥିବା Q ର ଡାହାଣ କଡ ତୃତୀୟ ସ୍ଥାନରେ O ବସିଛି । N ଦକ୍ଷିଣ ଦିଗକୁ ମୁହଁ କରି ନାହାନ୍ତି ।

Bookmark

Who sits at the fifth position from the left end of the row?

ଧାଡ଼ିର ବାମ ପ୍ରାନ୍ତରୁ ପଞ୍ଚମ ସ୍ଥାନରେ କିଏ ବସିଛି?

(A) **N (Correct Alternative)**
N (Correct Alternative)

(B) Q

(C) S

(D) P

Bookmark

Who sits second to the left of the one who is fourth to the left of P?

P ର ବାମ କଡ ଚତୁର୍ଥ ସ୍ଥାନରେ ବସିଥିବା ସାଙ୍ଗର ବାମ କଡ ତୃତୀୟ ସ୍ଥାନରେ କିଏ ବସିଛି?

(A) M

(B) R

(C) S

(D) **O (Correct Alternative)**
O (Correct Alternative)

Bookmark

Who sits third to the left of S?

S ର ବାମ କଡ ତୃତୀୟ ସ୍ଥାନରେ କିଏ ବସିଛି?

(A) M

(B) Q

(C) **R (Correct Alternative)**
R (Correct Alternative)

(D) N

Bookmark

Who sits exactly between O and R?

O ଓ R ର ଠିକ ମଝିରେ କିଏ ବସିଛି?

(A) **N (Correct Alternative)**
N (Correct Alternative)

(B) Q

- (C) S
S
(D) P
P

Bookmark

Which of the following is the odd man out, with respect to the arrangement?
ବ୍ୟବସ୍ଥା ଅନୁସାରେ ନିମ୍ନଲିଖିତ ମଧ୍ୟରୁ କେଉଁଟି ଅସଙ୍ଗତ (odd man out) ଅଟେ?

- (A) O
O
(B) N (Correct Alternative)
N (Correct Alternative)
(C) S
S
(D) P
P

Question No. 12

1.00

Bookmark

Four of the following five are alike in a certain way and so form a group. Which is the one that does not belong to that group?
ନିମ୍ନଲିଖିତ ପାଞ୍ଚୋଟି ମଧ୍ୟରୁ ଚାରୋଟି ଏକ ନିର୍ଦ୍ଦିଷ୍ଟ ଉପାୟରେ ଏକାଠି ଅଟନ୍ତି ଏବଂ ଗୋଟିଏ ସମୂହ ଗଠନ କରନ୍ତି । କେଉଁଟି ସେହି ସମୂହରେ ସାମିଲ ହେବ ନାହିଁ?

- Accomplish, Achieve, Fulfil, Attain, Collapse
Accomplish, Achieve, Fulfil, Attain, Collapse
(A) Fulfil
Fulfil
(B) Collapse (Correct Alternative)
Collapse (Correct Alternative)
(C) Accomplish
Accomplish
(D) Attain
Attain

Question No. 13

1.00

Bookmark

In this question, relationship between different elements is shown in the statement. This statement is followed by two conclusions:

Statements: $R \geq K$; $E \geq L$; $A = P$; $K < L$, $R < A$

Conclusion:

- i) $K \leq E$
ii) $A > K$

Choose the appropriate one from the following options

- (A) Only conclusion i follows
(B) Only conclusion ii follows
(C) Either i or ii follows
(D) Neither i nor ii follows
(E) Both i and ii follow.

ଏହି ପ୍ରଶ୍ନରେ ବିଭିନ୍ନ ଉପାଦାନ ମଧ୍ୟରେ ଥିବା ସଂପର୍କକୁ ବ୍ୟବସ୍ଥାରେ ପ୍ରଦର୍ଶିତ କରାଯାଇଛି । ଏହି ବ୍ୟବସ୍ଥା ପରେ ଦୁଇଟି ନିଷ୍ପତ୍ତି ଦିଆଯାଇଛି:

ବ୍ୟବସ୍ଥା: $R \geq K$; $E \geq L$; $A = P$; $K < L$, $R < A$

ନିଷ୍ପତ୍ତି:

- i) $K \leq E$
ii) $A > K$

ନିମ୍ନଲିଖିତ ବିକଳ୍ପଗୁଡ଼ିକ ମଧ୍ୟରୁ ଉପଯୁକ୍ତ ବିକଳ୍ପ ଚୟନ କରନ୍ତୁ

- (A) କେବଳ ନିଷ୍ପତ୍ତି i ଅନୁସରଣ କରେ
(B) କେବଳ ନିଷ୍ପତ୍ତି ii ଅନୁସରଣ କରେ
(C) ନିଷ୍ପତ୍ତି i କିମ୍ବା ii ଅନୁସରଣ କରେ

(D) ନିଖର୍ଷ i କିମ୍ବା ii ଅନୁସରଣ କରେ ନାହିଁ
(E) ଉଭୟ ନିଖର୍ଷ i ଓ ii ଅନୁସରଣ କରେ ।

(A) C
C

(B) B (Correct Alternative)
B (Correct Alternative)

(C) A
A

(D) D
D

Question No. 14 (Case Study From Q.No 15 To 17)

3.00

Bookmark

Directions:

In a certain code language:

'sweet and melodious song' is written as '\$7 @5 *8 &3',

'fast and peppy song' is written as '@5 /2 !9 &3',

'pleasant and sweet tune' is written as '&3 *8 %4 #1'

ନିର୍ଦ୍ଦେଶାବଳୀ:

ଏକ ନିର୍ଦ୍ଦିଷ୍ଟ କୋଡ ଭାଷାରେ :

'sweet and melodious song' କୁ '\$7 @5 *8 &3' ଭାବେ ଲେଖାଯାଇଛି,

'fast and peppy song' କୁ '@5 /2 !9 &3' ଭାବେ ଲେଖାଯାଇଛି,

'pleasant and sweet tune' କୁ '&3 *8 %4 #1' ଭାବେ ଲେଖାଯାଇଛି ।

What is the code for 'song' in the given code language?

ପ୍ରଦତ୍ତ କୋଡ ଭାଷାରେ 'song' ର କୋଡ କ'ଣ ହେବ?

(A) &3
&3

(B) @5 (Correct Alternative)
@5 (Correct Alternative)

(C) /2
/2

(D) *8
*8

What does the code '\$7 *8' stand for?

କୋଡ '\$7 *8' କାହା ପାଇଁ ଉଦ୍ଦିଷ୍ଟ?

(A) song sweet
song sweet

(B) and melodious
and melodious

(C) sweet peppy
sweet peppy

(D) melodious sweet (Correct Alternative)
melodious sweet (Correct Alternative)

What is the code for 'tune' in the given code language?

ପ୍ରଦତ୍ତ କୋଡ ଭାଷାରେ 'tune' ର କୋଡ କ'ଣ ହେବ?

(A) %4 or #1 (Correct Alternative)
%4 କିମ୍ବା #1 (Correct Alternative)

(B) #1
#1

- (C) %4
%4
- (D) &3
&3

Question No. 18

1.00

Bookmark

Find the next number in the series.

3, 7, 22, 45, 116, ?

ପ୍ରଦତ୍ତ କ୍ରମରେ ପରବର୍ତ୍ତୀ ସଂଖ୍ୟାଟି ନିର୍ଣ୍ଣୟ କର ।

3, 7, 22, 45, 116, ?

- (A) 158
158
- (B) 152
152
- (C) 163 (Correct Alternative)
163 (Correct Alternative)
- (D) 147
147

Question No. 19

1.00

Bookmark

Which one of the following images numbered as (1), (2), (3), (4) will be the next image for the given series?

(1), (2), (3), (4) ଭାବରେ ନମ୍ବର ହୋଇଥିବା କେଉଁ ଛବି, ପ୍ରଦତ୍ତ କ୍ରମର ପରବର୍ତ୍ତୀ ଛବି ହେବ?

- (A) 1
1
- (B) 4
4
- (C) 3 (Correct Alternative)
3 (Correct Alternative)
- (D) 2
2

Question No. 20

1.00

Bookmark

Four of the following five are alike in a certain way and so form a group. Which is the one that does not belong to that group?

Z, B, E, F, X

ନିମ୍ନଲିଖିତ ପାଞ୍ଚୋଟି ମଧ୍ୟରୁ ଚାରୋଟି ଏକ ନିର୍ଦ୍ଦିଷ୍ଟ ଉପାୟରେ ଏକାଠି ଅଟନ୍ତି ଏବଂ ଗୋଟିଏ ସମୂହ ଗଠନ କରନ୍ତି । କେଉଁଟି ସେହି ସମୂହରେ ସାମିଲ ହେବ ନାହିଁ?

Z, B, E, F, X

- (A) Z
Z
- (B) F
F
- (C) X
X
- (D) E (Correct Alternative)
E (Correct Alternative)

Question No. 21

1.00

Bookmark

A man walks 5km towards West; takes a right turn and walks 12km. He then walks 4km towards the starting point and reached the destination. How far is he from the starting position?

ଜଣେ ବ୍ୟକ୍ତି ପଶ୍ଚିମ ଦିଗରେ 5km ଚାଲନ୍ତି; ତା'ପରେ ଏକ ଡାହାଣ ମୋଡ ନେଇ 12km ଚାଲନ୍ତି । ପୁଣି ସେ ଆରମ୍ଭ ବିନ୍ଦୁ ଆଡକୁ 4km ଚାଲି ଲକ୍ଷ୍ୟ ସ୍ଥଳରେ ପହଞ୍ଚନ୍ତି । ଆରମ୍ଭ ବିନ୍ଦୁରୁ ସେ କେତେ ଦୂରତାରେ ଅଛନ୍ତି?

- (A) 11km
11km

- (B) **9km (Correct Alternative)**
9km (Correct Alternative)
- (C) 13km
 13km
- (D) 8km
 8km

Question No. 22

1.00

Bookmark

Find the missing term in the series.

600, ?, 300, 100, 25, 5

ପ୍ରଦତ୍ତ କ୍ରମରେ ହଜିଯାଇଥିବା ସଂଖ୍ୟାଟିକୁ ନିର୍ଣ୍ଣୟ କର ।

600, ?, 300, 100, 25, 5

- (A) 200
 200
- (B) **600 (Correct Alternative)**
600 (Correct Alternative)
- (C) 400
 400
- (D) 500
 500

4) Computer and Internet Awareness**Question No. 1**

1.00

Bookmark

_____ feature in Word allows you to create a variety of documents that can be personalized for each person receiving it.

ୱାର୍ଡ (Word)ରେ ଥିବା _____ ବୈଶିଷ୍ଟ୍ୟ ବିଭିନ୍ନ ପ୍ରକାରର ଡକ୍ୟୁମେଣ୍ଟ ତିଆରି କରିବାରେ ସାହାଯ୍ୟ କରିଥାଏ, ଯେଉଁଗୁଡ଼ିକୁ ପାଇବା ପାଇଁ ଉଦ୍ଦିଷ୍ଟ ପ୍ରତ୍ୟେକ ବ୍ୟକ୍ତିଙ୍କ ପାଇଁ ପର୍ଯ୍ୟୋନୀକରଣ (personalized) କରାଯାଇପାରିବ ।

- (A) Sync mail
 ସଂକଳନ ମେଲ (Sync mail)
- (B) File -> Share with people
 ଫାଇଲ -> ସେୟାର ଶ୍ରେଣୀ ପିପୁଲ (File->Share with people)
- (C) Send as Email option
 ସେଣ୍ଡ ଆଜ୍ ଇମେଲ ଅପ୍ସନ (Send as Email option)
- (D) **Mail merge (Correct Alternative)**
ମେଲ ମର୍ଜ (Mail merge) (Correct Alternative)

Question No. 2

1.00

Bookmark

In Excel, combining two or more cells into one cell is called _____.

ଏକ୍ସେଲ (Excel) ରେ ଦୁଇ ବା ତତୋଧିକ ସେଲଗୁଡ଼ିକୁ ଏକତ୍ର କରି ଗୋଟିଏ ସେଲ କରିବା (combining two or more cells into one cell) କାର୍ଯ୍ୟକୁ _____ କୁହାଯାଏ ।

- (A) Justify
 ଯତ୍ନିତା (Justify)
- (B) **Merge (Correct Alternative)**
ମର୍ଜ (Merge) (Correct Alternative)
- (C) Wrap Text
 ରାପ ଟେକ୍ସଟ (Wrap Text)
- (D) Concatenate
 କନକାଟନେଟ (Concatenate)

Question No. 3

1.00

Bookmark

The printers that create images by spraying ink through tiny nozzles is:

ଛୋଟ ନୋଜଲ୍ (nozzles) ମାଧ୍ୟମରେ ଇଙ୍କ ସ୍ପ୍ରେ କରି ଛବି ସୃଷ୍ଟି କରୁଥିବା ପ୍ରିଣ୍ଟରକୁ _____ କୁହାଯାଏ ।

- (A) **Inkjet Printers (Correct Alternative)**
ଇଙ୍କଜେଟ ପ୍ରିଣ୍ଟର (Inkjet Printers) (Correct Alternative)

- (B) Band Printers
ବ୍ୟାଣ୍ଡ ପ୍ରିଣ୍ଟର (Band Printers)
- (C) Laser Printers
ଲେଜର ପ୍ରିଣ୍ଟର (Laser Printers)
- (D) Impact Printers
ଇମ୍ପାକ୍ଟ ପ୍ରିଣ୍ଟର (Impact Printers)

Question No. 4

1.00

Bookmark

What is the shortcut key to close a PowerPoint?
ପାୱରପଏଣ୍ଟ (PowerPoint) କୁ ବନ୍ଦ କରିବା ପାଇଁ ସର୍ଟକଟ୍ କୀ କ'ଣ?

- (A) Shift + Q
Shift + Q
- (B) Shift + D
Shift + D
- (C) **Ctrl + Q (Correct Alternative)**
Ctrl + Q (Correct Alternative)
- (D) Ctrl + D
Ctrl + D

Question No. 5

1.00

Bookmark

_____ is a proprietary journaling file system developed by Microsoft.
ମାଇକ୍ରୋସଫ୍ଟ (Microsoft) ଦ୍ୱାରା ବିକଶିତ _____ ଗୋଟିଏ ପ୍ରୋପ୍ରାଇଟାରି ଜର୍ନାଲିଙ୍ଗ ଫାଇଲ ସିଷ୍ଟମ (proprietary journaling file system) ଅଟେ ।

- (A) ACLS
ACLS
- (B) **NTFS (Correct Alternative)**
NTFS (Correct Alternative)
- (C) UTF
UTF
- (D) HFS
HFS

Question No. 6

1.00

Bookmark

Each hexadecimal symbol is an encoding for how many digit binary number?
ପ୍ରତ୍ୟେକ ହେକ୍ସାଡେସିମାଲ ପ୍ରତୀକ (Each hexadecimal symbol) କେତେ ଅଙ୍କ (digit) ବିଶିଷ୍ଟ ବାଇନାରୀ ସଂଖ୍ୟା (binary number) ପାଇଁ ଏକ ଏନକୋଡିଂ ଅଟେ?

- (A) 16-digit binary number
16-ଅଙ୍କ ବିଶିଷ୍ଟ ବାଇନାରୀ ସଂଖ୍ୟା (16-digit binary number)
- (B) 8-digit binary number
8-ଅଙ୍କ ବିଶିଷ୍ଟ ବାଇନାରୀ ସଂଖ୍ୟା (8-digit binary number)
- (C) 2-digit binary number
2-ଅଙ୍କ ବିଶିଷ୍ଟ ବାଇନାରୀ ସଂଖ୍ୟା (2-digit binary number)
- (D) **4-digit binary number (Correct Alternative)**
4-ଅଙ୍କ ବିଶିଷ୍ଟ ବାଇନାରୀ ସଂଖ୍ୟା (4-digit binary number) (Correct Alternative)

Question No. 7

1.00

Bookmark

In Windows 10 Operating system, _____ key combination opens the start buttons context menu.
ଓ୍ଵିଣ୍ଡୋ 10 ଅପରେଟିଂ ସିଷ୍ଟମ (Windows 10 Operating system) ରେ _____ କୀ କମ୍ବିନେସନ ଦ୍ୱାରା ଷ୍ଟାର୍ଟ ବଟନ କଣ୍ଟେକ୍ସ୍ଟ ମେନୁ (start buttons context menu) ଖୋଲିଥାଏ ।

- (A) Windows + O
Windows + O
- (B) Windows + M
Windows + M

- (C) **Windows + X (Correct Alternative)**
Windows + X (Correct Alternative)
- (D) Windows + C
 Windows + C

Question No. 8

1.00

Bookmark

A collection of related web pages is known as _____.
 ସମ୍ପର୍କିତ ୱେବ ପେଜଗୁଡ଼ିକର (web pages)ର ସଂଗ୍ରହକୁ _____ କୁହାଯାଏ ।

- (A) webinar
 ୱେବିନାର (webinar)
- (B) web browser
 ୱେବ ବ୍ରାଉଜର (web browser)
- (C) **website (Correct Alternative)**
ୱେବସାଇଟ (website) (Correct Alternative)
- (D) html
 html

Question No. 9

1.00

Bookmark

What is the full form of 'MAN' in networking?
 ନେଟୱାର୍କିଂରେ 'MAN' ର ପୂରା ନାମ କ'ଣ?

- (A) Main Area Network
 ମେନ୍ ଏରିଆ ନେଟୱାର୍କ (Main Area Network)
- (B) Multimedia Area Network
 ମଲ୍ଟିମିଡ଼ିଆ ଏରିଆ ନେଟୱାର୍କ (Multimedia Area Network)
- (C) Mini Area Network
 ମିନି ଏରିଆ ନେଟୱାର୍କ (Mini Area Network)
- (D) **Metropolitan Area Network (Correct Alternative)** (Chosen Option)
ମେଟ୍ରୋପଲିଟାନ ଏରିଆ ନେଟୱାର୍କ (Metropolitan Area Network) (Correct Alternative) (Chosen Option)

Question No. 10

1.00

Bookmark

High level languages were introduced in which generation of computers?
 କମ୍ପ୍ୟୁଟରର କେଉଁ ଜେନେରେସନରେ ହାଇ ଲେଭେଲ ଲାଙ୍ଗୁଏଜ୍ (High level languages) ସବୁ ବ୍ୟବହାର ହେଲା?

- (A) Fourth
 ଚତୁର୍ଥ
- (B) First
 ପ୍ରଥମ
- (C) **Third (Correct Alternative)**
ତୃତୀୟ (Correct Alternative)
- (D) Second
 ଦ୍ୱିତୀୟ

Question No. 11

1.00

Bookmark

In Microsoft Word, a collection of frequently used commands such as save, undo, print preview is located on the _____.

- (A) Status bar
 ସ୍ଟାଟସ ବାର (Status bar)
- (B) Context Menu
 କଣ୍ଟେକ୍ସଟ ମେନୁ (Context Menu)
- (C) Task bar
 ଟାସ୍କ ବାର (Task bar)

- (D) **Quick access toolbar (Correct Alternative)**
 କ୍ୱିକ୍ ଆକ୍ସେସ୍ ଟୁଲ୍‌ବାର୍ (Quick access toolbar) (Correct Alternative)

Question No. 12

1.00

Bookmark

Which chart type in Microsoft Excel is useful when you want to find optimum combinations between two sets of data?

ଆପଣ ଯେତେବେଳେ ଦୁଇଟି ତାତା ସେଟ ମଧ୍ୟରେ ଅପ୍ଟିମମ୍ କମ୍ବିନେସନ୍ ପାଇବା ପାଇଁ ଇଚ୍ଛା କରିବେ, ସେତେବେଳେ ମାଇକ୍ରୋସଫ୍ଟ ଏକ୍ସେଲ (Microsoft Excel)ରେ ଥିବା କେଉଁ ଚାର୍ଟ ଉପଯୋଗୀ ସାବ୍ୟସ୍ତ ହୁଏ?

- (A) Stock Chart
 ଷ୍ଟକ୍ ଚାର୍ଟ (Stock chart)
- (B) Line chart
 ଲାଇନ୍ ଚାର୍ଟ (Line chart)
- (C) Bar chart
 ବାର ଚାର୍ଟ (Bar chart)
- (D) **Surface chart (Correct Alternative)**
 ସରଫେସ୍ ଚାର୍ଟ (Surface chart) (Correct Alternative)

Question No. 13

1.00

Bookmark

How many bits make one Nibble?

କେତୋଟି ବିଟ୍ (bits)କୁ ନେଇ ଗୋଟିଏ ନିବଲ୍ (Nibble) ହୁଏ?

- (A) 1024 bit
 1024 ବିଟ୍ (bit)
- (B) **4 bit (Correct Alternative)**
4 ବିଟ୍ (bit) (Correct Alternative)
- (C) 0 or 1 bit
 0 କିମ୍ବା 1 ବିଟ୍ (bit)
- (D) 8 bit
 8 ବିଟ୍ (bit)

Question No. 14

1.00

Bookmark

Which among the following components is referred to as Main memory in a computer?

ନିମ୍ନଲିଖିତ କମ୍ପୋନେଣ୍ଟଗୁଡ଼ିକ ମଧ୍ୟରୁ କେଉଁଟିକୁ ଗୋଟିଏ କମ୍ପ୍ୟୁଟରର ମୁଖ୍ୟ ମେମୋରୀ (Main memory) ଭାବେ ଧରାଯାଏ?

- (A) HDD
 HDD
- (B) CD
 CD
- (C) USB
 USB
- (D) **RAM (Correct Alternative)**
RAM (Correct Alternative)

Question No. 15

1.00

Bookmark

What is the shortcut key to center align text in MS Word?

MS ୱାର୍ଡ୍ (MS Word)ରେ ଟେକ୍ସ୍ଟକୁ ସେଣ୍ଟର ଏଲାଇନ୍ (center align) କରିବା ପାଇଁ ସର୍ଟକଟ୍ କୀ କ'ଣ?

- (A) Ctrl + P
 Ctrl + P
- (B) Ctrl + R
 Ctrl + R
- (C) Ctrl + C
 Ctrl + C
- (D) **Ctrl + E (Correct Alternative)**
Ctrl + E (Correct Alternative)

Question No. 16

1.00

Bookmark

Identify the domain name from http://www.ourcountry.in/home.aboutus.html

http://www.ourcountry.in/home.aboutus.htmlରୁ ଡୋମେନ ନେମ (domain name)କୁ ଚିହ୍ନଟ କରନ୍ତୁ?

- (A) **ourcountry.in (Correct Alternative)**
ourcountry.in (Correct Alternative)
- (B) http
http
- (C) aboutus.html
aboutus.html
- (D) home
home

Question No. 17

1.00

Bookmark

_____ wizard helps the presentation to run on another computer.

ପ୍ରେଜେଣ୍ଟେସନ (presentation)କୁ ଅନ୍ୟ କମ୍ପ୍ୟୁଟରରେ ଚଳାଇବା ପାଇଁ _____ ସ୍ପିଜାର୍ଡ୍ (wizard) ସାହାଯ୍ୟ କରିଥାଏ ।

- (A) Send To
ସେଣ୍ଡ ଟୁ (Send To)
- (B) **Pack and Go (Correct Alternative)**
ପ୍ୟାକ ଆଣ୍ଡ ଗୋ (Pack and Go) (Correct Alternative)
- (C) Page Setup
ପେଜ ସେଟଅପ (Page Setup)
- (D) Properties
ପ୍ରପର୍ଟିସ (Properties)

Question No. 18

1.00

Bookmark

The component on a printer that enables to write, spray or put ink on the paper is called _____.

ପ୍ରିଣ୍ଟରକୁ ଲେଖିବା, ସ୍ପ୍ରେ କିମ୍ବା କାଗଜ ଉପରେ ଇଙ୍କ ଲଗାଇବା (write, spray or put ink on the paper) ପାଇଁ ସକ୍ଷମ କରୁଥିବା ଉପକରଣକୁ _____ କୁହାଯାଏ ।

- (A) **Printer head (Correct Alternative)**
ପ୍ରିଣ୍ଟର ହେଡ୍ (Printer head) (Correct Alternative)
- (B) Printer Punch
ପ୍ରିଣ୍ଟର ପଞ୍ଚ (Printer Punch)
- (C) Printer orientation
ପ୍ରିଣ୍ଟର ଓରିଏଣ୍ଟେସନ (Printer orientation)
- (D) Printer resolution
ପ୍ରିଣ୍ଟର ରିଜୋଲ୍ୟୁସନ (Printer resolution)

Question No. 19

1.00

Bookmark

_____ is responsible for resolving friendly domain names to an ip address.

ଗୋଟିଏ ip ଆଡ୍ରେସ (ip address) କୁ ଫ୍ରେଣ୍ଡଲି ଡୋମେନ ନେମଗୁଡ଼ିକ (friendly domain names) ସ୍ଥିର କରି ଯୋଗାଇବା ପାଇଁ _____ ର ଭୂମିକା ଗୁରୁତ୍ୱପୂର୍ଣ୍ଣ ଅଟେ ।

- (A) HTTP
HTTP
- (B) **DNS (Correct Alternative)**
DNS (Correct Alternative)
- (C) FTP
FTP
- (D) IOS
IOS

Question No. 20

1.00

Bookmark

_____ is the center of your internet network that serves as the point of contact for all your connected devices.

ଆପଣଙ୍କ ଇଣ୍ଟରନେଟ ନେଟୱାର୍କ ପାଇଁ _____ କେନ୍ଦ୍ର ଅଟେ, ଯାହା ଆପଣଙ୍କର ସମସ୍ତ ସଂଯୁକ୍ତ ଥିବା ଉପକରଣଗୁଡ଼ିକ ପାଇଁ ପଏଣ୍ଟ ଅଫ କଣ୍ଟାକ୍ଟ (point of contact) ଭାବେ କାର୍ଯ୍ୟ କରେ ।

- (A) **Router (Correct Alternative) (Chosen Option)**
ରାଉଟର (Router) (Correct Alternative) (Chosen Option)
- (B) Cable
କେବୁଲ (Cable)
- (C) Node
ନୋଡ (Node)
- (D) Modem
ମୋଡେମ (Modem)

5) Current Affairs National and International

Question No. 1

1.00

Bookmark

Which among the following companies has recently launched India's first intranasal Covid-19 vaccine?
ନିମ୍ନଲିଖିତ କମ୍ପାନୀଗୁଡ଼ିକ ମଧ୍ୟରୁ କେଉଁଟି ସାଂପ୍ରତିକ ଭାରତର ପ୍ରଥମ ଇଣ୍ଟ୍ରାନାଜାଲ କୋଭିଡ-19 ଟୀକା (intranasal Covid-19 vaccine) ଲଞ୍ଚ କରିଛି?

- (A) Biocon
ବାୟୋକନ (Biocon)
- (B) Cipla
ସିପ୍ଲା (Cipla)
- (C) **Bharat Biotech (Correct Alternative)**
ଭାରତ ବାୟୋଟେକ (Bharat Biotech) (Correct Alternative)
- (D) Serum Institute of India
ସେରମ ଇନଷ୍ଟିଚ୍ୟୁଟ ଅଫ ଇଣ୍ଡିଆ (Serum Institute of India)

Question No. 2

1.00

Bookmark

Which state has secured the first position under the "best performing state" category in the Pradhan Mantri Awas Yojana-Urban Awards 2021?

ପ୍ରଧାନ ମନ୍ତ୍ରୀ ଆବାସ ଯୋଜନା-ଅର୍ବାନ ଆୱାର୍ଡ 2021 (Pradhan Mantri Awas Yojana-Urban Awards 2021)ର "ସର୍ବୋତ୍ତମ ପ୍ରଦର୍ଶନକାରୀ ରାଜ୍ୟ (best performing state)" ବର୍ଗରେ କେଉଁ ରାଜ୍ୟ ପ୍ରଥମ ସ୍ଥାନ ଅଧିକାର କରିଛି?

- (A) Madhya Pradesh
ମଧ୍ୟପ୍ରଦେଶ
- (B) Andhra Pradesh
ଆନ୍ଧ୍ର ପ୍ରଦେଶ
- (C) **Uttar Pradesh (Correct Alternative)**
ଉତ୍ତରପ୍ରଦେଶ (Correct Alternative)
- (D) Tamil Nadu
ତାମିଲନାଡୁ

Question No. 3

1.00

Bookmark

Which state has become the only state in India to achieve the 'Jal Jeevan Mission Target' in Q1 and Q2 of the year 2022?

ବର୍ଷ 2022ର Q1 ଓ Q2 ରେ ଭାରତର କେଉଁ ଏକମାତ୍ର ରାଜ୍ୟ 'ଜଳ ଜୀବନ ମିସନ ଟାର୍ଗେଟ (Jal Jeevan Mission Target)' ହାସଲ କରିଛି?

- (A) Karnataka
କର୍ଣ୍ଣାଟକ
- (B) Odisha
ଓଡ଼ିଶା
- (C) **Tamil Nadu (Correct Alternative)**
ତାମିଲନାଡୁ (Correct Alternative)
- (D) Uttar Pradesh
ଉତ୍ତରପ୍ରଦେଶ

Question No. 4

1.00

Bookmark

In November 2022, which country hosted the 27th Conference of the Parties of the UNFCCC (COP 27)?
ନଭେମ୍ବର 2022ରେ କେଉଁ ଦେଶ UNFCCC (COP 27) ର 27ତମ କନଫରେନ୍ସ ଅଫ ଦି ପାର୍ଟିସ୍ (Conference of the Parties) ଆୟୋଜନ କରିଥିଲା?

- (A) Russia
ରୁଷିଆ
- (B) **Egypt (Correct Alternative)**
ଇଜିପ୍ଟ (Correct Alternative)
- (C) India
ଭାରତ
- (D) Sri Lanka
ଶ୍ରୀଲଙ୍କା

Question No. 5

1.00

Bookmark

Which among the following is the first North East Indian state to have a comprehensive policy for mental health and social care?
ମାନସିକ ସ୍ୱାସ୍ଥ୍ୟ ଏବଂ ସାମାଜିକ ଯତ୍ନ ପାଇଁ ଗୋଟିଏ ସ୍ୱଚ୍ଛତ ନୀତି ଥିବା ଭାରତର ଉତ୍ତର-ପୂର୍ବୀୟ ରାଜ୍ୟଗୁଡ଼ିକ ମଧ୍ୟରେ ଯେଉଁ ରାଜ୍ୟ _____ ଅଟେ ।

- (A) **Meghalaya (Correct Alternative)**
ମେଘାଲୟ (Correct Alternative)
- (B) Tripura
ତ୍ରିପୁରା
- (C) Assam
ଆସାମ
- (D) Nagaland
ନାଗାଲାଣ୍ଡ

Question No. 6

1.00

Bookmark

Which of the following became the first State in the country to bring out an Elephant Death Audit Framework that promises thorough investigation and scientific documentation of every jumbo death?
ନିମ୍ନଲିଖିତ ମଧ୍ୟରୁ କେଉଁଟି ଦେଶର ପ୍ରଥମ ରାଜ୍ୟ ଭାବରେ ହାତୀ ମୃତ୍ୟୁ ଅଡିଟ୍ ଫ୍ରେମୱାର୍କ (Elephant Death Audit Framework) ଆଣିଛି ଯାହା ପ୍ରତ୍ୟେକ ଜୁମ୍ବୋ ମୃତ୍ୟୁ (jumbo death) ର ପୂର୍ଣ୍ଣାଙ୍ଗ ପୁସ୍ତକ ଅନୁସନ୍ଧାନ ଏବଂ ବୈଜ୍ଞାନିକ ଡକ୍ୟୁମେଣ୍ଟେସନକୁ ସୁନିଶ୍ଚିତ କରେ?

- (A) Tripura
ତ୍ରିପୁରା
- (B) **Tamil Nadu (Correct Alternative)**
ତାମିଲନାଡୁ (Correct Alternative)
- (C) Punjab
ପଞ୍ଜାବ
- (D) Uttar Pradesh
ଉତ୍ତର ପ୍ରଦେଶ

Question No. 7

1.00

Bookmark

Which among the following countries topped the Environment Performance Index 2022?

ଏନଭାଇଇପିଆଇ 2022 (Environment Performance Index 2022) ରେ ନିମ୍ନଲିଖିତ କେଉଁ ଦେଶ ଶୀର୍ଷ ସ୍ଥାନ ଲାଭ କରିଛି?

- (A) Finland
ଫିନଲ୍ୟାଣ୍ଡ
- (B) Norway
ନରୱେ
- (C) **Denmark (Correct Alternative)**
ଡେନମାର୍କ (Correct Alternative)
- (D) Spain
ସ୍ପେନ

Question No. 8

1.00

Bookmark

Which of the following is an indigenously developed, pilotless, high-speed expendable aerial target (HEAT) developed by DRDO?

ନିମ୍ନଲିଖିତ ମଧ୍ୟରୁ କେଉଁଟି ସ୍ୱଦେଶ ଜ୍ଞାନକୌଶଳରେ DRDO ଦ୍ୱାରା ବିକଶିତ ଚାଳକ ବିହୀନ (pilotless) ହାଇ ସ୍ପିଡ୍ ଏକ୍ସପାଣ୍ଡେବଲ୍ ଏରିଆଲ ଟାର୍ଗେଟ ବା high-speed expendable aerial target (HEAT) ଅଟେ?

- (A) SANKALP
ସଂକଳ୍ପ (SANKALP)
- (B) SAGARMALA
ସାଗରମାଳା (SAGARMALA)
- (C) AGNI
ଅଗ୍ନି (AGNI)
- (D) **ABHYAS (Correct Alternative)**
ଅଭ୍ୟାସ (ABHYAS) (Correct Alternative)

Question No. 9

1.00

Bookmark

Which of the following countries assumed the G20 presidency on December 1, 2022?

ନିମ୍ନଲିଖିତ ଦେଶଗୁଡ଼ିକ ମଧ୍ୟରୁ କେଉଁଟି ଡିସେମ୍ବର 1, 2022 ରେ G20 ର ସଭାପତିତ୍ୱ (G20 presidency) କରିଥିଲା ?

- (A) **India (Correct Alternative)**
ଭାରତ (Correct Alternative)
- (B) Japan
ଜାପାନ
- (C) China
ଚୀନ
- (D) Germany
ଜର୍ମାନୀ

Question No. 10

1.00

Bookmark

The Government of India has set a new target of 40 percent reduction in particulate matter concentration in cities covered under the National Clean Air Programme (NCAP) by _____.

ବର୍ଷ _____ ପର୍ଯ୍ୟନ୍ତ ଜାତୀୟ ସ୍ୱଚ୍ଛ ବାୟୁ କାର୍ଯ୍ୟକ୍ରମ ବା National Clean Air Programme (NCAP) ଅଧୀନରେ ଥିବା ସହରଗୁଡ଼ିକରେ କଣିକାୟୁକ୍ତ ପଦାର୍ଥ (particulate matter) ର ସାନ୍ଦ୍ରତା (concentration) କୁ 40 ପ୍ରତିଶତ ହ୍ରାସ କରିବା ପାଇଁ ଭାରତ ସରକାର ଏକ ନୂତନ ଲକ୍ଷ୍ୟ ସ୍ଥିର କରିଛନ୍ତି।

- (A) 2030
2030
- (B) 2025
2025
- (C) 2027
2027
- (D) **2026 (Correct Alternative)**
2026 (Correct Alternative)