

←

CHT- TGT ARTS 2022

E-BOOK-PDF

6,000 MCQ

EXPLANATION

1,500 ଟି ପୂର୍ବ ବର୍ଷର ପ୍ରଶ୍ନ

100% ସଫଳତା



CHT- CONTRACTUAL TEACHER (TGT ARTS) 2022 EXAM !! E-BOOK (PDF) 6,000 BEST MCQ !! CHAPTER WISE QUESTIONS & ANSWER

more

₹199.00 ₹99.00

Validity- 1 Year

English- 1500 (MCQ)...

more

ADD TO CART BUY NOW

[Click Here](#)

←

CHT- TGT CBZ 2022


E-BOOK-PDF

6,000 MCQ

EXPLANATION

750 ଟି ପୂର୍ବ ବର୍ଷର ପ୍ରଶ୍ନ

100% ସଫଳତା



CHT- CONTRACTUAL TEACHER (TGT CBZ SCIENCE) 2022 EXAM !! E-BOOK (PDF) 6,000 BEST MCQ !! CHAPTER WISE QUESTIONS & ANSWER

more

₹199.00 ₹99.00

Validity- 1 Year

Previous Year Question- 750 (2022, 2021 & 2019 Year)...

more

ADD TO CART BUY NOW

[Click Here](#)

←

CHT- TGT PCM 2022


E-BOOK-PDF

6,000 MCQ

EXPLANATION

1,350 ଟି ପୂର୍ବ ବର୍ଷର ପ୍ରଶ୍ନ

100% ସଫଳତା



CHT- CONTRACTUAL TEACHER (TGT PCM SCIENCE) 2022 EXAM !! E-BOOK (PDF) 6,000 BEST MCQ !! CHAPTER WISE QUESTIONS & ANSWER

more

₹199.00 ₹99.00

Validity- 1 Year

Previous Year Question- 1,350 (2022, 2021 & 2019 Year)...

more

ADD TO CART BUY NOW

[Click Here](#)

← Tech of World

HOME VIDEOS PLAYLISTS COMMUNITY

ଆମ Channel ରେ ଦେଖନ୍ତୁ Video

ASO ଓଡ଼ିଶା ପୋଷାଳ **CT ଓ B.Ed**

ଓଡ଼ିଶା ପୋଲିସ **SSC GD Railway**



Tech of World

SUBSCRIBE

315K subscribers • 928 videos

Hello ସାଙ୍ଗ ମାନେ !! ଆମେ ଏହି Channel ରେ ପ୍ରଚାରଣ Educational Video Free ରେ ଯୋଗାଇଦେବେ ଯେଉଁ ଚେତନାକରି ନିଜର ଏହି "Tech Of World" Channel କୁ ...

+2 କିମ୍ବା +3 ପଢ଼ିବା ପରେ କେମିତି ଜଣେ ଶିକ୍ଷକ ହେଇପାରିବେ ?

CT ଓ B.Ed ପରେ କଣ ?

How To Become A Teacher After +2 Or +3 In Odisha ? How To Get A Teacher Job In Odisha ?

Tech of World · 176K views · 3 years ago

Home Shorts Subscriptions Library

[Click Here](#)

←

Tech Of World- (Odisha Exam CT)

Tech Of World

Uninstall Open

Your Review

sujit kumar naik ★★★★★ 6/29/21

Edit your review

Developer contact

About this app

Tech Of World (Odisha Exam) Provides Mock Test & E-Books For Different Exams

Education

3.8 ★ 422 reviews 422 reviews Rated for 3+ 50K+ Downlo.

TECH OF WORLD Mock Test

[Click Here](#)

← Tech Of World 4.1K subscribers

ASO English 2022 By... 8.7 MB PDF

ASO General Knowledge 2022... 4.9 MB PDF

ASO Math 2022 By Techofworld.in.pdf 4.6 MB PDF

ASO Odia Language 2022 By... 2.9 MB PDF

ASO Reasoning 2022 By... 4.6 MB PDF

3 comments

Broadcast

[Click Here](#)

Section 1 - Paper I General Knowledge and Current Affairs

No. of Questions: 15

1) António Guterres has been appointed for the second term beginning January 1, 2022 as the:

- A) President of the World Bank Group
- B) Managing Director of International Monetary Fund
- C) Director-General of the World Health Organization
- D) Secretary General of United Nations

1) ଜାନୁୟାରୀ 1, 2022 ରୁ ଦ୍ୱିତୀୟ କାର୍ଯ୍ୟକାଳ ପାଇଁ ଆଣ୍ଟୋନିଓ ଗୁଟେରସ୍ କୁ କଣ ଭାବେ ନିଯୁକ୍ତ କରାଯାଇଛି:

- A) ବିଶ୍ୱ ବ୍ୟାଙ୍କ ଗ୍ରୁପର ସଭାପତି
- B) ଆନ୍ତର୍ଜାତୀୟ ମୁଦ୍ରା ପାଣ୍ଠିର ପରିଚାଳନା ନିର୍ଦ୍ଦେଶକ
- C) ବିଶ୍ୱ ସ୍ୱାସ୍ଥ୍ୟ ସଂଗଠନର ମହାନିର୍ଦ୍ଦେଶକ
- D) ମିଳିତ ଜାତିସଂଘର ସେକ୍ରେଟେରୀ ଜେନେରାଲ୍

2) In 2022, Professor Dinesh Prasad Saklani has been appointed as the Director of which of the following educational boards?

- A) National Council of Educational Research and Training
- B) Central Board of Secondary Education
- C) All India Council of Technical Education
- D) University Grants Commission

2) 2022 ମସିହାରେ, ପ୍ରଫେସର ଦୀନେଶ ପ୍ରସାଦ ସାକଲାନି ନିମ୍ନଲିଖିତ କେଉଁ ଶିକ୍ଷା ବୋର୍ଡର ନିର୍ଦ୍ଦେଶକ ଭାବରେ ନିଯୁକ୍ତ ହୋଇଛନ୍ତି?

- A) ଜାତୀୟ ଶିକ୍ଷା ଗବେଷଣା ଏବଂ ତାଲିମ ପରିଷଦ
- B) କେନ୍ଦ୍ରୀୟ ମାଧ୍ୟମିକ ଶିକ୍ଷା ବୋର୍ଡ
- C) ସର୍ବ ଭାରତ ବୈଷୟିକ ଶିକ୍ଷା ପରିଷଦ
- D) ବିଶ୍ୱବିଦ୍ୟାଳୟ ଅନୁଦାନ ଆୟୋଗ

3) Winter Olympics 2022 was organized in which of the following cities?

- A) Beijing
- B) Tokyo
- C) Sydney
- D) Brisbane

3) ନିମ୍ନ ସହର ମଧ୍ୟରୁ କେଉଁ ସହରରେ ଶୀତ ଅଲିମ୍ପିକ୍ସ 2022, ଆୟୋଜିତ ହୋଇଥିଲା?

- A) ବେଜିଂ
- B) ଟୋକିଓ
- C) ସିଡନୀ
- D) ବ୍ରିସବେନ୍

4) The Odisha Women's League 2022 conducted by the Football Association of Odisha in association with the Sports & Youth Services Department was organised in which of the following cities?

- A) Cuttack
- B) Balasore
- C) Puri
- D) Bhubaneswar

4) କ୍ରୀଡ଼ା ଏବଂ ଯୁବ ସେବା ବିଭାଗ ସହିତ ମିଳିତ ଭାବେ ଓଡ଼ିଶାର ପୁରୁଣା ଆସୋସିଏସନ ଦ୍ୱାରା ପରିଚାଳିତ ଓଡ଼ିଶା ମହିଳା ଲିଗ୍ 2022, ନିମ୍ନଲିଖିତ ସହରଗୁଡ଼ିକ ମଧ୍ୟରୁ କେଉଁଠିରେ ଆୟୋଜିତ ହୋଇଥିଲା?

- A) କଟକ
- B) ବାଲେଶ୍ୱର
- C) ପୁରୀ
- D) ଭୁବନେଶ୍ୱର

5) 'Development that meets the needs of the present without compromising the ability of future generations to meet their own needs', this definition fits for which of the following term?

- A) Economic Inclusion
- B) Social Balance
- C) Congruent Society
- D) Sustainable Development

5) 'ବିକାଶ ଯାହା ଭବିଷ୍ୟତ ପିଢ଼ିର ନିଜସ୍ୱ ଆବଶ୍ୟକତା ପୂରଣ କରିବାର କ୍ଷମତା ସହିତ ଆପୋଷ ବୁଝାମଣା ନକରି ବର୍ତ୍ତମାନର ଆବଶ୍ୟକତା ପୂରଣ କରେ', ଏହି ସଂଜ୍ଞା ନିମ୍ନଲିଖିତ ମଧ୍ୟରୁ କେଉଁ ଶବ୍ଦ ପାଇଁ ଉପଯୁକ୍ତ ହୁଏ?

- A) ଅର୍ଥନୈତିକ ଅନ୍ତର୍ଭୁକ୍ତତା
- B) ସାମାଜିକ ସନ୍ତୁଳନ

- C) ସମ୍ମିଳିତ ସମାଜ
D) ଧାରଣୀୟ ବିକାଶ

6) The National Family Health Survey conducts which of the one of following duties?

- A) Consolidating the data for the use of electronic gadgets for online education
B) Surveying the proportion of under-weight children below 3 years
C) Calculating the Household Income of people in the Business
D) Collection of Data for Television Rating Points for understanding the preference of families

6) ନିମ୍ନଲିଖିତ କାର୍ଯ୍ୟଗୁଡ଼ିକ ମଧ୍ୟରୁ କେଉଁଟି ଜାତୀୟ ପରିବାର ସ୍ୱାସ୍ଥ୍ୟ ସର୍ବେକ୍ଷଣ ପରିଚାଳନା କରେ?

- A) ଅନଲାଇନ୍ ଶିକ୍ଷା ପାଇଁ ଇଲେକ୍ଟ୍ରୋନିକ୍ ଗ୍ୟାଜେଟ୍ ବ୍ୟବହାର ପାଇଁ ତଥ୍ୟକୁ ଏକତ୍ର କରିବା
B) କମ୍ ଓଜନ ବିଶିଷ୍ଟ ପିଲା ଯେଉଁ ମାନଙ୍କ ବୟସ 3 ବର୍ଷରୁ କମ୍, ସେମାନଙ୍କ ଅନୁପାତ ଉପରେ ସର୍ବେକ୍ଷଣ
C) ବ୍ୟବସାୟ କରୁଥିବା ଲୋକଙ୍କ ଘରର ଆୟ ଗଣନା କରିବା
D) ପରିବାରର ଅଗ୍ରାଧିକାର ବୁଝିବା ପାଇଁ ଟେଲିଭିଜନ ରେଟିଂ ପଏଣ୍ଟ୍ ପାଇଁ ତଥ୍ୟ ସଂଗ୍ରହ

7) Read the following statements and choose the CORRECT answer.(i) Sound can travel through a vacuum.(ii) When traveling through water, sound moves around four times faster than when it travels through air.

- A) Both the statements are True
B) Both the statements are False
C) Statement (i) is False and Statement (ii) is True
D) Statement (i) is True and Statement (ii) is False

7) ନିମ୍ନଲିଖିତ ଉକ୍ତିଗୁଡ଼ିକ ପଢନ୍ତୁ ଏବଂ ସଠିକ୍ ଉତ୍ତର ବାଛନ୍ତୁ।

- (i) ଧ୍ୱନି ଏକ ଶୂନ୍ୟସ୍ଥାନ ଦେଇ ଯାତ୍ରା କରିପାରେ ।
(ii) ପାଣି ତୁଳନାରେ ବାୟୁ ଦେଇ ଯାତ୍ରା କରିବା ବେଳେ ଶବ୍ଦ ତାରି ଗୁଣ ହ୍ରାତ ଗତିରେ ଗତି କରେ।

- A) ଉଭୟ ଉକ୍ତି ସତ୍ୟ ଅଟେ
B) ଉଭୟ ଉକ୍ତି ମିଥ୍ୟା ଅଟେ
C) ଉକ୍ତି (i) ମିଥ୍ୟା ଏବଂ ଉକ୍ତି (ii) ସତ୍ୟ ଅଟେ
D) ଉକ୍ତି (i) ସତ୍ୟ ଏବଂ ଉକ୍ତି (ii) ମିଥ୍ୟା ଅଟେ

8) Which of the following pets can hear sound at a higher frequency than humans?

- A) Hens
- B) Cows
- C) Dogs
- D) Turtles

8) ନିମ୍ନଲିଖିତ ଗୃହପାଳିତ ପଶୁମାନଙ୍କ ମଧ୍ୟରୁ କେଉଁଟି ମନୁଷ୍ୟ ଅପେକ୍ଷା ଅଧିକ ଆବୃତ୍ତିରେ ଧ୍ବନି ଶୁଣିପାରେ?

- A) କୁକୁଡ଼ା
- B) ଗାଈ
- C) କୁକୁର
- D) କଇଁଛ

9) Queen Victoria assumed the title of 'Kaiser-i-Hind' or the Empress of India during the tenure of which Viceroy of British India?

- A) Lord Lytton
- B) John Lawrence
- C) Lord Lansdowne
- D) Lord Hardinge II

9) ରାଣୀ ଭିକ୍ଟୋରିଆ ବ୍ରିଟିଶ୍ ଇଣ୍ଡିଆର କେଉଁ ଭାଇସରାୟଙ୍କ କାର୍ଯ୍ୟକାଳରେ 'କାଇଜର-ଆଇ-ହିନ୍ଦ' ବା ଭାରତର ସାମ୍ରାଜ୍ୟ ଆଖ୍ୟା ଗ୍ରହଣ କରିଥିଲେ?

- A) ଲର୍ଡ ଲିଟନ୍
- B) ଜନ୍ ଲରେନ୍ସ
- C) ଲର୍ଡ ଲାନ୍ସଡାଉନ୍
- D) ଲର୍ଡ ହାର୍ଡିଂଜ୍ ଦ୍ଵିତୀୟ

10) Sambalpur was annexed by the British authorities with the application of the Doctrine of Lapse, it was introduced by which Governor-General of India?

- A) George Barlow
- B) Alured Clarke
- C) John Shore
- D) Lord Dalhousie

10) ବ୍ରିଟିଶ କର୍ତ୍ତୃପକ୍ଷଙ୍କ ଦ୍ୱାରା ତତ୍କାଳୀନ ଅଫ୍ ଲାସ୍ତର ପ୍ରୟୋଗ ଦ୍ୱାରା ସମ୍ବଲପୁରକୁ ସଂଲଗ୍ନ କରାଯାଇଥିଲା । ଏହା ଭାରତର କେଉଁ ଗଭର୍ଣ୍ଣମେଣ୍ଟ-ଜେନେରାଲଙ୍କ ଦ୍ୱାରା ପ୍ରବର୍ତ୍ତିତ ହୋଇଥିଲା?

- A) ଜର୍ଜ ବାଲେ
- B) ଆଲ୍ଫରେଡ୍ କ୍ଲାର୍କ
- C) ଜନ୍ ଶୋର
- D) ଲର୍ଡ ଡାଲହାଉସି

11) Which of the following dynasties ruled over Kalinga region of Odisha in 8th and 9th century A.D.?

- A) Gupta
- B) Nanda
- C) Mathara
- D) Bhauma-Kara

11) ନିମ୍ନଲିଖିତ ରାଜବଂଶ ମଧ୍ୟରୁ କେଉଁଟି ଅଷ୍ଟମ ଏବଂ ନବମ ଶତାବ୍ଦୀରେ ଓଡ଼ିଶାର କଳିଙ୍ଗ ଅଞ୍ଚଳ ଉପରେ ଶାସନ କରିଥିଲା?

- A) ଗୁପ୍ତ
- B) ନନ୍ଦ
- C) ମଥର
- D) ଭୌମା-କର

12) Keoladeo Ghana National Park is located in which of the following state?

- A) Uttarakhand
- B) Himachal Pradesh
- C) Karnataka
- D) Rajasthan

12) କେଓଲାଡିଓ ଘାନା ଜାତୀୟ ଉଦ୍ୟାନ ନିମ୍ନ ରାଜ୍ୟ ମଧ୍ୟରୁ କେଉଁଟିରେ ଅବସ୍ଥିତ?

- A) ଉତ୍ତରାଖଣ୍ଡ
- B) ହିମାଚଳ ପ୍ରଦେଶ
- C) କର୍ଣ୍ଣାଟକ
- D) ରାଜସ୍ଥାନ

13) Chorao Island Mangroves is located in which of the following state?

- A) West Bengal
 - B) Goa
 - C) Assam
 - D) Odisha
-

13) କୋରାଓ ଦ୍ଵୀପ ଚିରହରିତ ଜଙ୍ଗଲ ନିମ୍ନ ରାଜ୍ୟ ମଧ୍ୟରୁ କେଉଁଠିରେ ଅବସ୍ଥିତ?

- A) ପଶ୍ଚିମବଙ୍ଗ
 - B) ଗୋଆ
 - C) ଆସାମ
 - D) ଓଡ଼ିଶା
-

14) As per the provisions of the Constitution of India, what is the maximum and the minimum number of members respectively in a State Legislative Assembly?

- A) 500 and 60
 - B) 350 and 50
 - C) 450 and 60
 - D) 450 and 50
-

14) ଭାରତର ସମ୍ବିଧାନର ବ୍ୟବସ୍ଥା ଅନୁଯାୟୀ, କୌଣସି ଏକ ରାଜ୍ୟ ବିଧାନସଭାରେ ଯଥାକ୍ରମେ ସର୍ବାଧିକ ଏବଂ ସର୍ବନିମ୍ନ ସଦସ୍ୟ ସଂଖ୍ୟା କେତେ?

- A) 500 ଏବଂ 60
 - B) 350 ଏବଂ 50
 - C) 450 ଏବଂ 60
 - D) 450 ଏବଂ 50
-

15) In case a person who is not an MP (Member of Parliament) is chosen as the Prime Minister, within what period of time should he/she get elected to the Parliament?

- A) 3 months
- B) 2 months
- C) 1 month
- D) 6 months

15) ଯଦି ଜଣେ ବ୍ୟକ୍ତି ଯିଏ ସାଂସଦ(ସଂସଦର ସଦସ୍ୟ) ନୁହଁନ୍ତି, ସେ ଯଦି ପ୍ରଧାନମନ୍ତ୍ରୀ ଭାବରେ ମନୋନୀତ ହୁଅନ୍ତି, ତେବେ କେତେ ସମୟର ଅବଧି ମଧ୍ୟରେ ସେ ସଂସଦକୁ ନିର୍ବାଚିତ ହେବାକୁ ପଡିବ?

- A) 3 ମାସ
- B) 2 ମାସ
- C) 1 ମାସ
- D) 6 ମାସ



Section 2 - Paper I Reasoning Ability

No. of Questions: 10

16) If the average of four successive odd numbers is 34, then what is the value of the smallest of these numbers?

- A) 31
- B) 33
- C) 35
- D) 37

16) ଯଦି ଚାରିଟି କ୍ରମିକ ଅଯୁଗ୍ମ ସଂଖ୍ୟାର ହାରାହାରି ହେଉଛି 34, ତେବେ ଏହି ସଂଖ୍ୟାଗୁଡ଼ିକ ମଧ୍ୟରୁ ସ୍ୱତନ୍ତ୍ରତମ ସଂଖ୍ୟାର ମୂଲ୍ୟ କେତେ ହେବ?

- A) 31
- B) 33
- C) 35
- D) 37

17) In a mess, there were 40 inmates. As 5 more have joined, the average expenses were decreased by ₹ 1.00 but total expenses increased by ₹ 55. What was the initial expense of the mess?

- A) ₹ 448
- B) ₹ 800
- C) ₹ 880
- D) ₹ 920

17) ଗୋଟିଏ ଛାତ୍ରାବାସରେ 40 ଜଣ ଅନ୍ୱେଷୀ ରହିଥିଲେ। ଅଧିକ 5 ଜଣ ଯୋଗ ଦେଲେ, ହାରାହାରି ଖର୍ଚ୍ଚ ₹ 1.00 ହ୍ରାସ ପାଇଥିଲା କିନ୍ତୁ ମୋଟ ଖର୍ଚ୍ଚ ₹ 55 ବୃଦ୍ଧି ପାଇଥିଲା। ତେବେ ଛାତ୍ରାବାସର ପ୍ରଥମରୁ ଖର୍ଚ୍ଚ କେତେ ଥିଲା?

- A) ₹ 448
- B) ₹ 800
- C) ₹ 880
- D) ₹ 920

18) The average weight of eight boxes is increased by 2.5 kg when some goods are added to one of the boxes. The weight of goods added to this box is

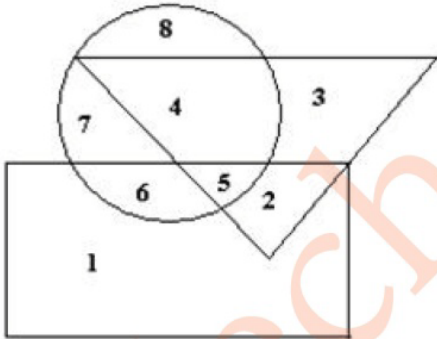
- A) 15 Kg
- B) 10 Kg
- C) 20 Kg
- D) NOT determinable

18) ଯେତେବେଳେ ଗୋଟିଏ ବକ୍ସରେ କିଛି ଜିନିଷ ରଖାଯାଏ ଆଠଟି ବକ୍ସର ହାରାହାରି ଓଜନ 2.5 କିଲୋଗ୍ରାମ୍ ବଢ଼ିଯାଏ। ତେବେ ଏହି ବକ୍ସରେ ରଖାଯାଇଥିବା ଜିନିଷର ଓଜନ ହେବ

- A) 15 କିଲୋଗ୍ରାମ୍
- B) 10 କିଲୋଗ୍ରାମ୍
- C) 20 କିଲୋଗ୍ରାମ୍
- D) ନିର୍ଣ୍ଣୟ କରିହେବ ନାହିଁ

19) Study the diagram carefully and answer the question:

Here in this diagram the triangle represents doctors. The circle represents players. The rectangle represents artists.

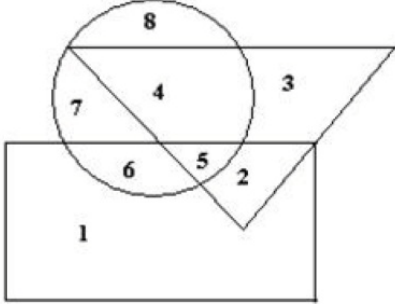


Which number represents the artists who are players also but not doctors?

- A) 2
- B) 4
- C) 6
- D) 8

19) ନିମ୍ନରେ ଦିଆଯାଇଥିବା ଚିତ୍ରକୁ ଅଧ୍ୟୟନ କରନ୍ତୁ ଏବଂ ପ୍ରଶ୍ନର ଉତ୍ତର ଦିଅନ୍ତୁ :

ଏହି ଚିତ୍ରରେ ଚିତ୍ରକୁ ଡାକ୍ତରମାନଙ୍କୁ ଉପସ୍ଥାପିତ କରୁଛି। ବୃତ୍ତ ଖେଳାଳିମାନଙ୍କୁ ଉପସ୍ଥାପିତ କରୁଛି। ଆୟତକ୍ଷେତ୍ର କଳାକାରମାନଙ୍କୁ ଉପସ୍ଥାପିତ କରୁଛି।

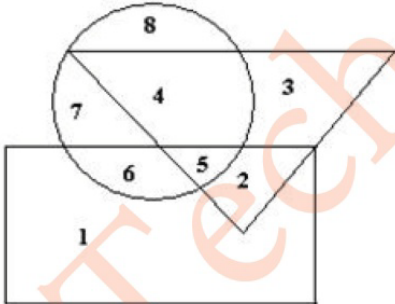


କେଉଁ ସଂଖ୍ୟାଟି ସେହି କଳାକାରମାନଙ୍କୁ ସୂଚିତ କରୁଛି ଯେଉଁମାନେ କି ଖେଳାଳି ଅଟନ୍ତି କିନ୍ତୁ ଡାକ୍ତର ନୁହଁନ୍ତି ?

- A) 2
- B) 4
- C) 6
- D) 8

20) Study the diagram carefully and answer the question:

Here in this diagram the triangle represents doctors. The circle represents players. The rectangle represents artists.

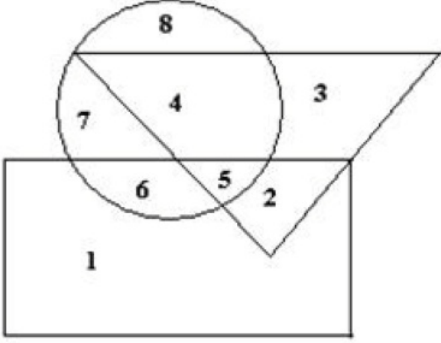


Which number represents artists who are neither players nor doctors?

- A) 1
- B) 2
- C) 3
- D) 4

20) ନିମ୍ନରେ ଦିଆଯାଇଥିବା ଚିତ୍ରକୁ ଅଧ୍ୟୟନ କରନ୍ତୁ ଏବଂ ପ୍ରଶ୍ନର ଉତ୍ତର ଦିଅନ୍ତୁ :

ଏହି ଚିତ୍ରରେ ତ୍ରିଭୁଜ ଡାଇରମାନଙ୍କୁ ଉପସ୍ଥାପିତ କରୁଛି। ବୃତ୍ତ ଖେଳାଳିମାନଙ୍କୁ ଉପସ୍ଥାପିତ କରୁଛି। ଆୟତକ୍ଷେତ୍ର କଳାକାରମାନଙ୍କୁ ଉପସ୍ଥାପିତ କରୁଛି।



କେଉଁ ସଂଖ୍ୟାଟି ସେହି କଳାକାରମାନଙ୍କୁ ସୂଚିତ କରୁଛି ଯେଉଁମାନେ କି ଖେଳାଳି ନୁହଁନ୍ତି କିମ୍ବା ଡାଇର ନୁହଁନ୍ତି ?

- A) 1
- B) 2
- C) 3
- D) 4

21) What comes in the place of question mark?

2(3)8 3(2)9 2(5)32 5(2)?

- A) 25
- B) 32
- C) 10
- D) 64

21) ପ୍ରଶ୍ନଚିହ୍ନ ସ୍ଥାନରେ କ'ଣ ଆସିବ?

2(3)8 3(2)9 2(5)32 5(2)?

- A) 25
- B) 32
- C) 10
- D) 64

22) Find the missing term in the series given below:

62, 123, 214, 341, ____, 727.

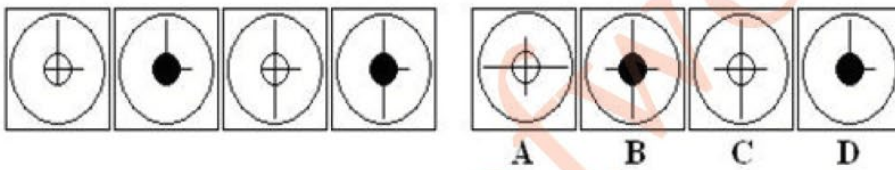
- A) 501
- B) 505
- C) 510
- D) 512

22) ନିମ୍ନଲିଖିତ ସିରିଜ୍ ର ଶୂନ୍ୟସ୍ଥାନ ପାଇଁ ପଦ ନିର୍ଣ୍ଣୟ କରନ୍ତୁ :

62, 123, 214, 341, ____, 727.

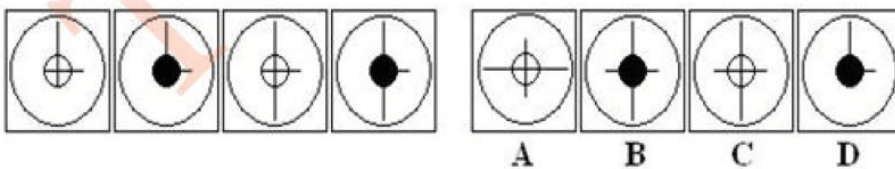
- A) 501
- B) 505
- C) 510
- D) 512

23) There are four images on the left and they follow a pattern. Which is next image that follows?. Select one among the four options.



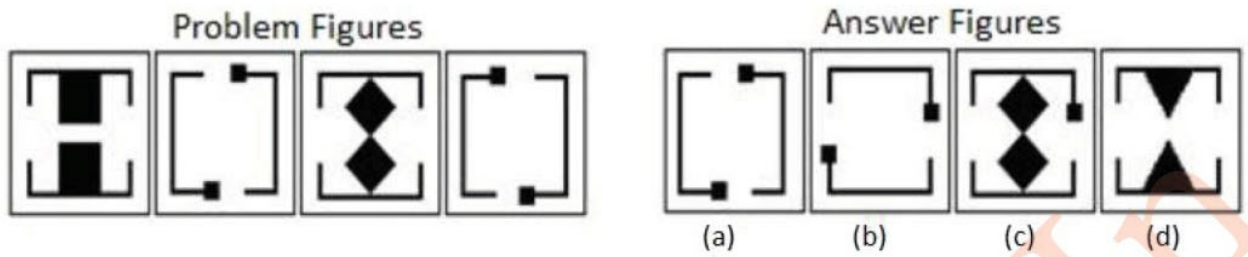
- A) A
- B) B
- C) C
- D) D

23) ଏଠାରେ ବାମପଟେ ଚାରୋଟି ଚିତ୍ର ଦିଆଯାଇଛି ଏବଂ ସେଗୁଡ଼ିକ ଗୋଟିଏ ଶୈଳୀକୁ ଅନୁସରଣ କରୁଛନ୍ତି। ସେହି ଶୈଳୀ କ୍ରମରେ ପରବର୍ତ୍ତୀ ଚିତ୍ର କେଉଁଟି ହେବ? ଦିଆଯାଇଥିବା ଚାରୋଟି ବିକଳ୍ପ ମଧ୍ୟରୁ ଗୋଟିଏ ଚୟନ କରନ୍ତୁ।



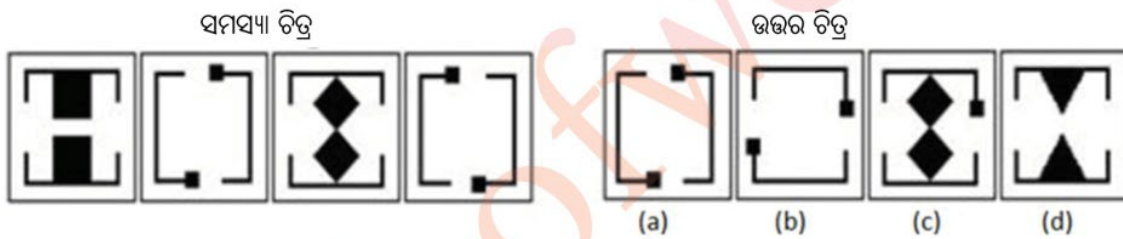
- A) A
- B) B
- C) C
- D) D

24) Which is the next image in the problem figure?. Select the right option from the Answer figures.



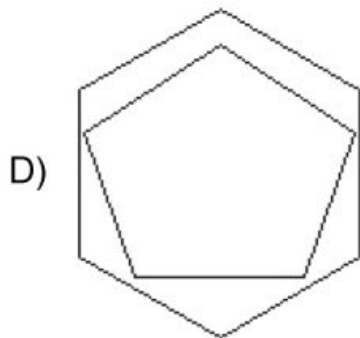
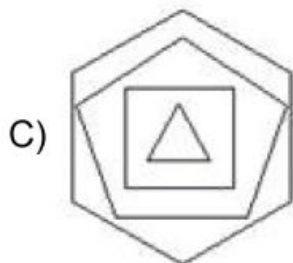
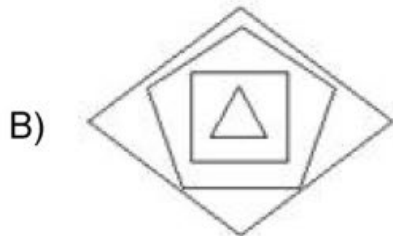
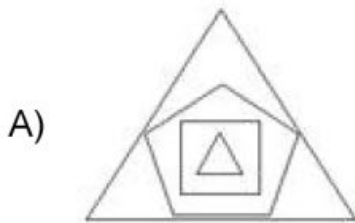
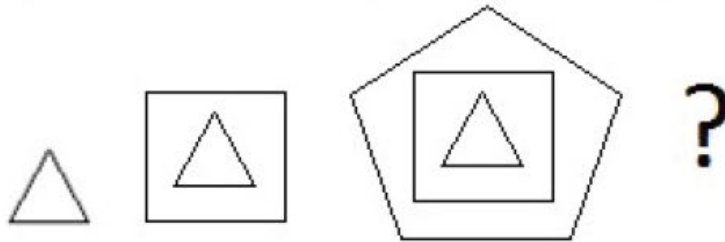
- A) (a)
- B) (b)
- C) (c)
- D) (d)

24) ସମସ୍ୟା ଚିତ୍ର ପାଇଁ ପରବର୍ତ୍ତୀ ଚିତ୍ର କେଉଁଟି ହେବ? ଉତ୍ତର ଚିତ୍ରଗୁଡ଼ିକ ମଧ୍ୟରୁ ସଠିକ୍ ବିକଳ୍ପ ବାଛନ୍ତୁ।

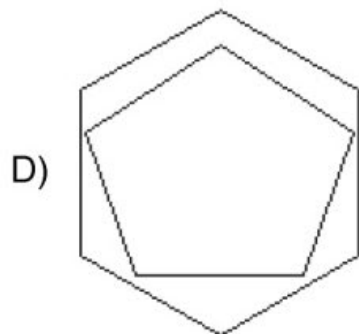
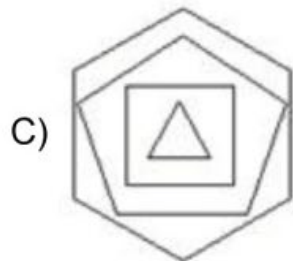
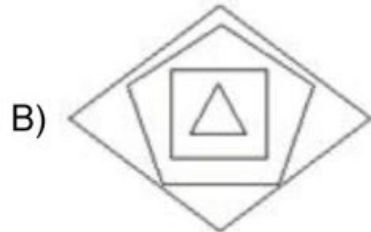
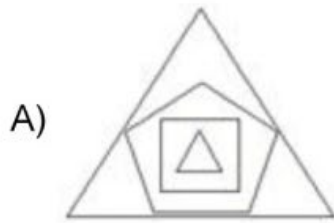
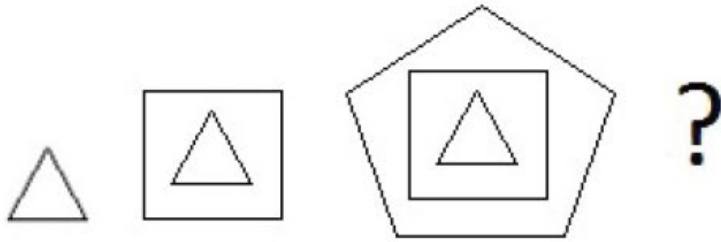


- A) (a)
- B) (b)
- C) (c)
- D) (d)

25) Which is the next figure in the series given below?



25) ନିମ୍ନରେ ଦିଆଯାଇଥିବା ସିରିଜ୍ ପାଇଁ ପରବର୍ତ୍ତୀ ଚିତ୍ର କେଉଁଟି ହେବ?



Section 3 - Paper I Computer Literacy

No. of Questions: 10

26) Which of the following key combination is used as a shortcut for justify alignment on a selected content of a word document?

- A) Ctrl+E
- B) Ctrl+J
- C) Ctrl+R
- D) Ctrl+L

26) ନିମ୍ନଲିଖିତ ମଧ୍ୟରୁ କେଉଁ KEY ମିଶ୍ରଣ ଏକ Word ଡକ୍ୟୁମେଣ୍ଟର ଚୟନିତ ବିଷୟବସ୍ତୁ ଉପରେ Justify alignment ପାଇଁ ଏକ ସର୍ଟକଟ୍ ଭାବରେ ବ୍ୟବହୃତ ହୁଏ?

- A) Ctrl+E
- B) Ctrl+J
- C) Ctrl+R
- D) Ctrl+L

27) Which file format is used for saving a PowerPoint Show ?

- A) PPT
- B) PPTX
- C) PPSX
- D) PDF

27) ଏକ PowerPoint Show କୁ SAVE କରିବା ପାଇଁ କେଉଁ ଫାଇଲ୍ ଫର୍ମାଟ୍ ବ୍ୟବହୃତ ହୁଏ?

- A) PPT
- B) PPTX
- C) PPSX
- D) PDF

28) What is the extension of a file saved using Notepad?

- A) .txt
- B) .xls
- C) .ppt
- D) .bmp



28) ନୋଟପାଡ଼ ବ୍ୟବହାର କରି ସେଭ୍ ହୋଇଥିବା ଫାଇଲ୍ ର ଏକ୍ସଟେନ୍ସନ୍ କଣ?

- A) .txt
- B) .xls
- C) .ppt
- D) .bmp

29) Which one of the following temporary storage is a part of the Microprocessor?

- A) HDD
- B) RAM
- C) ROM
- D) Cache

29) ନିମ୍ନଲିଖିତ ମଧ୍ୟରୁ କେଉଁ ଅସ୍ଥାୟୀ ସ୍ଟୋରେଜ୍ ମାଇକ୍ରୋପ୍ରୋସେସର୍ ର ଏକ ଅଂଶ ଅଟେ?

- A) HDD
- B) RAM
- C) ROM
- D) Cache

30) Which of the following device serve as both input and output device?

- A) Monitor
- B) Joy stick
- C) Modem
- D) Scanner

30) ନିମ୍ନଲିଖିତ ମଧ୍ୟରୁ କେଉଁ ଡିଭାଇସ୍ ଉଭୟ ଇନପୁଟ୍ ଏବଂ ଆଉଟପୁଟ୍ ଡିଭାଇସ୍ ଭାବରେ କାର୍ଯ୍ୟ କରେ?

- A) ମନିଟର୍
- B) ଜୟ ଷ୍ଟିକ୍
- C) ମୋଡମ୍
- D) ସ୍କାନର୍

31) A digital document issued to a website by a certification authority of internet is called?

- A) E-code
- B) Digital certificate
- C) Digital signature
- D) Digital id

31) ଇଣ୍ଟରନେଟର ଏକ ସାର୍ଟିଫିକେସନ୍ କର୍ତ୍ତୃପକ୍ଷଙ୍କ ଦ୍ଵାରା ଏକ ୱେବସାଇଟକୁ ଜାରି କରାଯାଇଥିବା ଏକ ଡିଜିଟାଲ୍ ଡକ୍ୟୁମେଣ୍ଟକୁ କଣ କୁହାଯାଏ ?

- A) ଇ-କୋଡ୍
- B) ଡିଜିଟାଲ୍ ସାର୍ଟିଫିକେସ୍
- C) ଡିଜିଟାଲ୍ ସିଗ୍ନେଚର୍
- D) ଡିଜିଟାଲ୍ ଆଇଡି

32) Name two output devices.

- A) Mouse and modem
- B) Monitor and Plotter
- C) Monitor and Scanner
- D) Printer and Joystick

32) ଦୁଇଟି ଆଉଟପୁଟ୍ ଉପକରଣର ନାମ ଦିଅ-

- A) ମାଉସ୍ ଏବଂ ମୋଡମ୍
- B) ମନିଟର ଏବଂ ପ୍ଲଟର୍
- C) ମନିଟର ଏବଂ ସ୍କାନର୍
- D) ପ୍ରିଣ୍ଟର୍ ଏବଂ ଜଏଷ୍ଟିକ୍

33) Which among the following initiative seeks to bridge the digital divide for students who have hitherto remained untouched by the digital revolution and have not been able to join the mainstream of the knowledge economy?

It is done through an indigenous developed IT platform that facilitates hosting of all the courses, taught in classrooms from 9th class till post-graduation to be accessed by anyone, anywhere at any time.

- A) SWAYAM
- B) DIKSHYA
- C) SIKSHYA
- D) UDAAN

33) ନିମ୍ନଲିଖିତ ପଦକ୍ଷେପ ମଧ୍ୟରୁ କେଉଁଟି ଡିଜିଟାଲ୍ ବିପ୍ଳବ ଦ୍ୱାରା ଅକ୍ଷୟ ରହିଥାଏ ଏବଂ ଜ୍ଞାନ ଅର୍ଥନୀତିର ମୁଖ୍ୟ ସ୍ରୋତରେ ଯୋଗ ଦେଇପାରୁଥିବା ଛାତ୍ରମାନଙ୍କ ପାଇଁ ଡିଜିଟାଲ୍ ବିଭାଜନକୁ ଦୂର କରିବାକୁ ଚେଷ୍ଟା କରୁଛି?
ଏହା ଏକ ସ୍ୱଦେଶୀ ବିକଶିତ ଆଇଟି ପ୍ଲଟଫର୍ମ ମାଧ୍ୟମରେ କରାଯାଇଥାଏ ଯାହା ସମସ୍ତ ପାଠ୍ୟକ୍ରମର ହୋଷ୍ଟିଂକୁ ସୁଗମ କରିଥାଏ, ଶ୍ରେଣୀଗୃହରେ ନବମ ଶ୍ରେଣୀରୁ ସ୍ନାତକୋତ୍ତର ପର୍ଯ୍ୟନ୍ତ ଶିକ୍ଷାଦାନ କରାଯାଇ ଯେକୌଣସି ବ୍ୟକ୍ତି, ଯେକୌଣସିଠାରେ ଏବଂ ଯେକୌଣସି ସମୟରେ ଅଭିଗମ କରିପାରିବେ।

- A) SWAYAM
- B) DIKSHYA
- C) SIKSHYA
- D) UDAAN

34) While composing an email, which of the following field is compulsory?

- A) to
- B) cc
- C) bcc
- D) signature

34) ଏକ ଇମେଲ୍ ରଚନା କରିବା ସମୟରେ, ନିମ୍ନଲିଖିତ ମଧ୍ୟରୁ କେଉଁ କ୍ଷେତ୍ର ବାଧ୍ୟତାମୂଳକ ଅଟେ?

- A) to
- B) cc
- C) bcc
- D) signature

35) Which of the following social media application allows users to share short entertaining videos?

- A) Instagram Reels
- B) MTv Shorts
- C) Tweets
- D) Vimeo

35) ନିମ୍ନଲିଖିତ ମଧ୍ୟରୁ କେଉଁ ସୋସିଆଲ୍ ମିଡିଆ ଆପ୍ଲିକେସନ୍ ଉପଭୋକ୍ତାଙ୍କୁ ଛୋଟ ମନୋରଞ୍ଜନଧର୍ମୀ ଭିଡିଓ ସେୟାର କରିବାକୁ ଅନୁମତି ଦିଏ?

- A) Instagram Reels
- B) MTv Shorts
- C) Tweets
- D) Vimeo

Section 4 - Paper I Pedagogy and Evaluation

No. of Questions: 15

36) Which of the following is a disadvantage of Discussion method?

- A) Students get to listen to other's opinion
 - B) No rote learning
 - C) Consumes a lot of time
 - D) Results in better learning
-

36) ନିମ୍ନଲିଖିତ ମଧ୍ୟରୁ କେଉଁଟି ଆଲୋଚନା ପଦ୍ଧତି ପାଇଁ ଏକ ହାନୀ ଅଟେ?

- A) ଛାତ୍ରମାନେ ଅନ୍ୟମାନଙ୍କ ମତାମତ ଶୁଣିବାକୁ ପାଆନ୍ତି
 - B) ଗୋଷ୍ଠୀ ପାଠ ପଢ଼ା ନଥାଏ
 - C) ବହୁତ ସମୟ ନିଏ
 - D) ଉତ୍ତମ ଶିକ୍ଷଣରେ ଫଳାଫଳ
-

37) Which of the following methods of teaching creates dullness in the classroom because there is no interaction between the pupil and the teacher?

- A) Discussion method
 - B) Project method
 - C) Demonstration method
 - D) Lecture method
-

37) ଶିକ୍ଷାଦାନର ନିମ୍ନଲିଖିତ ପଦ୍ଧତିଗୁଡ଼ିକ ମଧ୍ୟରୁ କେଉଁଟି ଶ୍ରେଣୀଗୃହରେ ଅନାକର୍ଷଣୀୟ ସୃଷ୍ଟି କରେ କାରଣ ଛାତ୍ର ଏବଂ ଶିକ୍ଷକଙ୍କ ମଧ୍ୟରେ କୌଣସି ପାରସ୍ପରିକ କ୍ରିୟା ନଥାଏ?

- A) ଆଲୋଚନା ପଦ୍ଧତି
 - B) ପ୍ରକଳ୍ପ ପଦ୍ଧତି
 - C) ପ୍ରଦର୍ଶନ ପଦ୍ଧତି
 - D) ଅଧ୍ୟାପନା ପଦ୍ଧତି
-

38) Which of the following is an audio media used by a teacher in a classroom?

- A) Radio
- B) Text book
- C) Manuals
- D) Chalk piece

38) ନିମ୍ନଲିଖିତ ମଧ୍ୟରୁ କେଉଁଟି ଶ୍ରେଣୀଗୃହରେ ଜଣେ ଶିକ୍ଷକଙ୍କ ଦ୍ଵାରା ବ୍ୟବହୃତ ଏକ ଅତି ଓ ମିତିଆ ଅଟେ?

- A) ରେଡ଼ିଓ
- B) ପାଠ୍ୟ ପୁସ୍ତକ
- C) ନିର୍ଦ୍ଦେଶାବଳୀ ପୁସ୍ତିକା
- D) ଚକ୍ ଖଣ୍ଡ

39) When the skill is first demonstrated and then practiced from start to finish it is known as

- A) Part method
- B) Whole method
- C) Whole- part method
- D) Whole-part-whole method

39) ଯେତେବେଳେ ପ୍ରଥମେ କୌଣସି ପ୍ରଦର୍ଶିତ ହୁଏ ଏବଂ ତାପରେ ଆରମ୍ଭରୁ ଶେଷ ପର୍ଯ୍ୟନ୍ତ ଅଭ୍ୟାସ କରାଯାଏ, ଏହାକୁ କ'ଣ କୁହାଯାଏ?

- A) ଭାଗ ପ୍ରଣାଳୀ
- B) ସମ୍ପୂର୍ଣ୍ଣ ପ୍ରଣାଳୀ
- C) ସମ୍ପୂର୍ଣ୍ଣ-ଭାଗ ପ୍ରଣାଳୀ
- D) ସମ୍ପୂର୍ଣ୍ଣ-ଭାଗ-ସମ୍ପୂର୍ଣ୍ଣ ପ୍ରଣାଳୀ

40) Which of the following is a feature of teaching aid?

- A) They offer additional support to both the teacher and the students
- B) They offer additional support to only the teacher
- C) They offer additional support only to the students
- D) They can be only used by the management and teachers

40) ନିମ୍ନଲିଖିତ ମଧ୍ୟରୁ କେଉଁଟି ଶିକ୍ଷାଦାନ ଉପକରଣର ବିଶେଷତା ଅଟେ?

- A) ସେଗୁଡ଼ିକ ଉଭୟ ଶିକ୍ଷକ ଏବଂ ଛାତ୍ରମାନଙ୍କୁ ଅତିରିକ୍ତ ସହାୟତା ପ୍ରଦାନ କରନ୍ତି।
- B) ସେଗୁଡ଼ିକ କେବଳ ଶିକ୍ଷକଙ୍କୁ ଅତିରିକ୍ତ ସହାୟତା ପ୍ରଦାନ କରନ୍ତି।
- C) ସେଗୁଡ଼ିକ କେବଳ ଛାତ୍ରମାନଙ୍କୁ ଅତିରିକ୍ତ ସହାୟତା ପ୍ରଦାନ କରନ୍ତି।
- D) ସେଗୁଡ଼ିକ କେବଳ ପରିଚାଳନା ଏବଂ ଶିକ୍ଷକମାନଙ୍କ ଦ୍ଵାରା ବ୍ୟବହୃତ ହୋଇପାରେ।

41) Each skill can be broken into three parts. The correct order of the three parts is

- A) Recovery-Action-Preparation
- B) Action-Recovery-Preparation
- C) Preparation-Action-Recovery
- D) Preparation-Recovery-Action

41) ପ୍ରତ୍ୟେକ କୌଶଳକୁ ତିନି ଭାଗରେ ବିଭକ୍ତ କରାଯାଇପାରେ। ତିନୋଟି ଭାଗର ସଠିକ୍ କ୍ରମ ହେଉଛି-

- A) ପୁନରୁଦ୍ଧାର-କାର୍ଯ୍ୟ-ପ୍ରସ୍ତୁତି
- B) କାର୍ଯ୍ୟ-ପୁନରୁଦ୍ଧାର-ପ୍ରସ୍ତୁତି
- C) ପ୍ରସ୍ତୁତି-କାର୍ଯ୍ୟ-ପୁନରୁଦ୍ଧାର
- D) ପ୍ରସ୍ତୁତି-ପୁନରୁଦ୍ଧାର-କାର୍ଯ୍ୟ

42) Under which of the following circumstances is the Demonstration Method likely to fail?

- A) The object being displayed during demonstration is very small.
- B) During the demonstration clear language is used
- C) The pupils ask questions to teachers in order to remove their difficulties.
- D) Goals and objections of demonstration are very clear.

42) ନିମ୍ନଲିଖିତ ମଧ୍ୟରୁ କେଉଁ ପରିସ୍ଥିତିରେ ପ୍ରଦର୍ଶନ ପଦ୍ଧତି ବିଫଳ ହେବାର ସମ୍ଭାବନା ଅଛି?

- A) ପ୍ରଦର୍ଶନ ସମୟରେ ପ୍ରଦର୍ଶିତ ହେଉଥିବା ବସ୍ତୁଟି ବହୁତ ଛୋଟ ଅଟେ
- B) ପ୍ରଦର୍ଶନ ସମୟରେ ସ୍ପଷ୍ଟ ଭାଷା ବ୍ୟବହୃତ ହୁଏ
- C) ଶିଷ୍ୟାଂଶୀମାନେ ସେମାନଙ୍କର ଅସୁବିଧା ଦୂର କରିବା ପାଇଁ ଶିକ୍ଷକମାନଙ୍କୁ ପ୍ରଶ୍ନ ପଚାରିବେ
- D) ପ୍ରଦର୍ଶନର ଲକ୍ଷ୍ୟ ଏବଂ ଆପତ୍ତି ବହୁତ ସ୍ପଷ୍ଟ ଅଟେ

43) Which of the following is the main objective of using teaching aids?

- A) Tools and materials make the teaching-learning process more expensive
- B) tools and materials make the teaching-learning process more complex
- C) Tools and materials make the teaching-learning process more interesting
- D) tools and materials make the teaching-learning process more exhausting

43) ନିମ୍ନଲିଖିତ ମଧ୍ୟରୁ କେଉଁଟି ଶିକ୍ଷାଦାନ ଉପକରଣ ବ୍ୟବହାର କରିବାର ମୁଖ୍ୟ ଉଦ୍ଦେଶ୍ୟ?

- A) ସାଧନ ଏବଂ ସାମଗ୍ରୀ ଶିକ୍ଷାଦାନ-ଶିକ୍ଷଣ ପ୍ରକ୍ରିୟାକୁ ଅଧିକ ମହତ୍ତ୍ୱାନ୍ୱିତ କରିଥାଏ
- B) ସାଧନ ଏବଂ ସାମଗ୍ରୀ ଶିକ୍ଷାଦାନ-ଶିକ୍ଷଣ ପ୍ରକ୍ରିୟାକୁ ଅଧିକ ଜଟିଳ କରିଥାଏ
- C) ସାଧନ ଏବଂ ସାମଗ୍ରୀ ଶିକ୍ଷାଦାନ-ଶିକ୍ଷଣ ପ୍ରକ୍ରିୟାକୁ ଅଧିକ ଆକର୍ଷଣୀୟ କରିଥାଏ
- D) ସାଧନ ଏବଂ ସାମଗ୍ରୀ ଶିକ୍ଷାଦାନ-ଶିକ୍ଷଣ ପ୍ରକ୍ରିୟାକୁ ଅଧିକ କ୍ଷୁଦ୍ର କରିଥାଏ

44) At which stage should a teacher decide about what teaching method she should adopt teacher centred or child centered?

- A) Feedback stage
- B) Evaluation stage
- C) Assessment stage
- D) Planning stage

44) କେଉଁ ପର୍ଯ୍ୟାୟରେ ଜଣେ ଶିକ୍ଷକ ଶିକ୍ଷକ କୈନ୍ଦ୍ରିକ କିମ୍ବା ଶିଶୁ କୈନ୍ଦ୍ରିକ କେଉଁ ଶିକ୍ଷାଦାନ ପଦ୍ଧତି ଗ୍ରହଣ କରିବା ଉଚିତ୍ ସେ ବିଷୟରେ ନିଷ୍ପତ୍ତି ନେବା ଉଚିତ୍?

- A) ପ୍ରତିପୁଷ୍ଟି ପର୍ଯ୍ୟାୟ
- B) ମୂଲ୍ୟାୟନ ପର୍ଯ୍ୟାୟ
- C) ନିର୍ଦ୍ଧାରଣ ପର୍ଯ୍ୟାୟ
- D) ଯୋଜନା ପର୍ଯ୍ୟାୟ

45) in swimming, the learner would practices the complete stroke, then isolate a weak component, such as the kick and uses a float in the hands to ensure using only the legs, before putting the whole stroke back together. In this scenario the swimmer is using

- A) Whole method
- B) Progressive Part method
- C) Part method
- D) Whole-part-whole method

45) ପହଁରିବାରେ, ଶିକ୍ଷାର୍ଥୀ ସମ୍ପୂର୍ଣ୍ଣ ଷ୍ଟୋକ୍ ଅଭ୍ୟାସ କରେ, ତା'ପରେ କିଏ ପରି ଏକ ଦୁର୍ବଳ ଉପାଦାନକୁ ପୃଥକ କରେ ଏବଂ ପୁରା ଷ୍ଟୋକ୍ କୁ ପଛକୁ ଏକାଠି ରଖିବା ପୂର୍ବରୁ କେବଳ ଗୋଟିଏ ବ୍ୟବହାର କରିବା ନିଶ୍ଚିତ କରିବାକୁ ହାତରେ ଏକ ପ୍ଲେଟ୍ ବ୍ୟବହାର କରେ। ଏହି ପରିପ୍ରେକ୍ଷୀରେ ସନ୍ତରଣକାରୀ ବ୍ୟବହାର କରୁଛନ୍ତି

- A) ସମ୍ପୂର୍ଣ୍ଣ ପ୍ରଣାଳୀ
- B) ପ୍ରଗତିଶୀଳ ଭାଗ ପ୍ରଣାଳୀ
- C) ଭାଗ ପ୍ରଣାଳୀ
- D) ସମ୍ପୂର୍ଣ୍ଣ-ଭାଗ-ସମ୍ପୂର୍ଣ୍ଣ ପ୍ରଣାଳୀ

46) The sorting of the teams and fitting them in the fixtures so that the stronger teams do not meet each other in earlier rounds is known as

- A) Bye
- B) Seeding a team
- C) Eliminating a team
- D) Draw

46) ଦଳଗୁଡ଼ିକର ସର୍ତ୍ତ ଏବଂ ସେମାନଙ୍କୁ ଫିକ୍ସଚରରେ ଫିଟ୍ କରିବା, ଯାହା ଦ୍ଵାରା ଶକ୍ତିଶାଳୀ ଦଳଗୁଡ଼ିକ ପୂର୍ବ ରାଉଣ୍ଡରେ ପରସ୍ପରକୁ ଭେଟିବେ ନାହିଁ, ତାହାକୁ କ'ଣ କୁହାଯାଏ?

- A) ବାଇ
- B) ଶିଡିଙ୍ଗ ଏ ଟିମ୍
- C) ଏଲିମିନେଟିଂ ଏ ଟିମ୍
- D) ଡ୍ରା

47) Physical education programs tend to become successful and minimize lapses when there is

- A) efficient staffing
- B) inadequate food
- C) lethargic supervision
- D) lack of proper direction

47) କେଉଁ କାରଣ ଯୋଗୁଁ ଶାରୀରିକ ଶିକ୍ଷା କାର୍ଯ୍ୟକ୍ରମ ଗୁଡ଼ିକ ସଫଳ ହେବାକୁ ଲାଗେ ଏବଂ ସେଠାରେ ଥିବା ଅଭାବକୁ କମ୍ କରିଥାଏ?

- A) ଦକ୍ଷ କର୍ମଚାରୀ
- B) ଅପର୍ଯ୍ୟାପ୍ତ ଖାଦ୍ୟ
- C) ଅଳସୁଆ ତଦାରଖ
- D) ଉପଯୁକ୍ତ ନିର୍ଦ୍ଦେଶନାର ଅଭାବ

48) Different committees work together for the smooth conduct of the sports events. Who is responsible to welcome the Chief Guest and spectators at opening and closing ceremonies?

- A) Transport committee
- B) Boarding and lodging committee
- C) Ground and equipment committee
- D) Reception committee

48) କ୍ରୀଡ଼ା ଇଭେଣ୍ଟ ଗୁଡ଼ିକର ସୁରୁଖୁରୁରେ ପରିଚାଳନା ପାଇଁ ବିଭିନ୍ନ କମିଟି ମିଳିତ ଭାବରେ କାର୍ଯ୍ୟ କରନ୍ତି। ଉଦଘାଟନୀ ଏବଂ ଉଦଯାପନୀ ସମାରୋହରେ ମୁଖ୍ୟ ଅତିଥି ଏବଂ ଦର୍ଶକଙ୍କୁ ସ୍ୱାଗତ କରିବା ପାଇଁ କିଏ ଦାୟୀ?

- A) ପରିବହନ କମିଟି
- B) ବୋର୍ଡିଂ ଏବଂ ଲଜିଂ କମିଟି
- C) ଗ୍ରାଉଣ୍ଡ ଏବଂ ଉପକରଣ କମିଟି
- D) ଅଭ୍ୟର୍ଥନା କମିଟି

49) All of the following are objectives in planning school sports events EXCEPT:

- A) To provide proper co-ordination among the committees
- B) Proper coordination with least mistakes
- C) To promote innovative ideas
- D) To increase pressure on all the participants

49) ନିମ୍ନଲିଖିତ ମଧ୍ୟରୁ କେବଳ ଏହି ଗୋଟିକ ବ୍ୟତୀତ ଅନ୍ୟ ସମସ୍ତ ବିଦ୍ୟାଳୟ କ୍ରୀଡ଼ା ଇଭେଣ୍ଟ ଯୋଜନା କରିବାର ଉଦ୍ଦେଶ୍ୟ ଅଟନ୍ତି :

- A) କମିଟି ମଧ୍ୟରେ ଉପଯୁକ୍ତ ସମନ୍ୱୟ ପ୍ରଦାନ କରିବା
- B) ସର୍ବନିମ୍ନ ତ୍ରୁଟି ସହିତ ସଠିକ୍ ସମନ୍ୱୟ ରକ୍ଷା କରିବା
- C) ଅଭିନବ ଚିନ୍ତାଧାରାକୁ ପ୍ରୋତ୍ସାହିତ କରିବା
- D) ସମସ୍ତ ଅଂଶଗ୍ରହଣକାରୀଙ୍କ ଉପରେ ଚାପ ବୃଦ୍ଧି କରିବା

50) Which of the following statements fails to describe the features of atournament?

- A) It is a competition involving limited number of competitors
- B) It is a series of contests with several rounds in which contestants compete
- C) It provides ample recreation to the spectators
- D) It helps in building qualities such as cooperation, tolerance, sympathy, group cohesion

50) ନିମ୍ନଲିଖିତ ମଧ୍ୟରୁ କେଉଁ ଉଚ୍ଚି ଏକ ଦୁର୍ନାମୋଷ୍ଟର ବୈଶିଷ୍ଟ୍ୟ ବର୍ଣ୍ଣନା କରିବାରେ ବିଫଳ ହୁଏ?

- A) ଏହା ସୀମିତ ସଂଖ୍ୟକ ପ୍ରତିଯୋଗୀକୁ ନେଇ ଏକ ପ୍ରତିଯୋଗିତା।
- B) ଏହା ଅନେକ ରାଉଣ୍ଡ ସହିତ ପ୍ରତିଯୋଗିତାର ଏକ ସିରିଜ୍ , ଯେଉଁଥିରେ ପ୍ରତିଯୋଗୀମାନେ ପ୍ରତିସ୍ପନ୍ଦିତା କରନ୍ତି।
- C) ଏହା ଦର୍ଶକଙ୍କୁ ପର୍ଯ୍ୟାପ୍ତ ମନୋରଞ୍ଜନ ଯୋଗାଇଥାଏ।
- D) ଏହା ସହଯୋଗ, ସହନଶୀଳତା, ସହାନୁଭୂତି, ଗୋଷ୍ଠୀ ସମନ୍ବୟ ଭଳି ଗୁଣ ଗଠନ କରିବାରେ ସାହାଯ୍ୟ କରେ।



Section 5 - Paper II Physical Education

No. of Questions: 100

51) What is the main cause of the Malaria Disease in general?

- A) Viral Infection
- B) Bacterial Infection
- C) Bites of female honey bees
- D) Bites of infected female Anopheles mosquitoes

51) ସାଧାରଣତଃ ମ୍ୟାଲେରିଆ ରୋଗର ମୁଖ୍ୟ କାରଣ କ'ଣ?

- A) ଭୂତାଣୁ ସଂକ୍ରମଣ
- B) ଜୀବାଣୁ ସଂକ୍ରମଣ
- C) ମାଛ ମହୁମାଛି କାମୁଡ଼ିବା
- D) ସଂକ୍ରମିତ ମାଛ ଆନୋଫିଲିସ ମଶା କାମୁଡ଼ିବା

52) Which of the following options is a water soluble vitamin?

- A) Vitamin C
- B) Vitamin K
- C) Vitamin A
- D) Vitamin E

52) ନିମ୍ନଲିଖିତ ବିକଳ୍ପଗୁଡ଼ିକ ମଧ୍ୟରୁ କେଉଁଟି ଜଳରେ ଦ୍ରବନୀୟ ଭିଟାମିନ୍ ଅଟେ?

- A) ଭିଟାମିନ୍ C
- B) ଭିଟାମିନ୍ K
- C) ଭିଟାମିନ୍ A
- D) ଭିଟାମିନ୍ E

53) Which vitamin among the following options is usually formed in a human body when it is exposed to sunlight?

- A) Vitamin K
- B) Vitamin B12
- C) Vitamin D
- D) Vitamin C

53) ନିମ୍ନଲିଖିତ ବିକଳଗୁଡ଼ିକ ମଧ୍ୟରୁ କେଉଁ ଭିଟାମିନ୍ ସାଧାରଣତଃ ମଣିଷ ଶରୀର ସୂର୍ଯ୍ୟକିରଣର ସଂସ୍ପର୍ଶରେ ଆସି ସୃଷ୍ଟି ହୁଏ?

- A) ଭିଟାମିନ୍ K
- B) ଭିଟାମିନ୍ B12
- C) ଭିଟାମିନ୍ D
- D) ଭିଟାମିନ୍ C

54) Tetanus bacteria can be found in which part of the human body?

- A) Throat
- B) Nose
- C) Intestine
- D) Liver

54) ମାନବ ଶରୀରର କେଉଁ ଅଂଶରେ ଟିଟାନସ୍ ଜୀବାଣୁ ମିଳିପାରିବ?

- A) ଗଳା
- B) ନାକ
- C) ଅନ୍ତନଳୀ
- D) ଯକୃତ

55) How many litres of blood approximately is pumped by a healthy human heart in one minute while resting for a normal person?

- A) 10 Litres
- B) 08 Litres
- C) 05 Litres
- D) 01 Litres

55) ଜଣେ ସାଧାରଣ ବ୍ୟକ୍ତିଙ୍କ ପାଇଁ ବିଶ୍ରାମ ନେବାବେଳେ ଏକ ସୁସ୍ଥ ମଣିଷ ହୃଦୟ ଦ୍ୱାରା ଏକ ମିନିଟରେ ପ୍ରାୟ କେତେ ଲିଟର ରକ୍ତ ପମ୍ପ ହୋଇଥାଏ?

- A) 10 ଲିଟର
- B) 08 ଲିଟର
- C) 05 ଲିଟର
- D) 01 ଲିଟର

56) Hypertension usually indicates:

- A) Increase in gastric issues
- B) Increase in Blood Sugar
- C) Increase in Blood Pressure
- D) Increase in height of a human body

56) ସାଧାରଣତଃ ଉଚ୍ଚ ରକ୍ତଚାପ କ'ଣ ସୂଚିତ କରେ?

- A) ଗ୍ୟାସ୍ଟ୍ରିକ୍ ସମସ୍ୟାର ବୃଦ୍ଧି
- B) ରକ୍ତ ଶର୍କରାର ବୃଦ୍ଧି
- C) ରକ୍ତଚାପର ବୃଦ୍ଧି
- D) ମାନବ ଶରୀରର ଉଚ୍ଚତାରେ ବୃଦ୍ଧି

57) Which of the following statements is INCORRECT with respect to the advantages of a correct posture in general?

- A) Increases the energy level of the body
- B) Increases the flexibility
- C) Increases reaction time
- D) Increases intelligence levels

57) ନିମ୍ନଲିଖିତ ଉଚ୍ଚିଗୁଡ଼ିକ ମଧ୍ୟରୁ ସାଧାରଣତଃ ଏକ ସଠିକ୍ ମୁଦ୍ରାର ସୁବିଧା ବିଷୟରେ କେଉଁଟି ଭୁଲ ଅଟେ?

- A) ଶରୀରର ଶକ୍ତି ସ୍ତର ବୃଦ୍ଧି କରେ
- B) ନମନୀୟତା ବୃଦ୍ଧି କରେ
- C) ପ୍ରତିକ୍ରିୟା ସମୟ ବୃଦ୍ଧି କରେ
- D) ବୁଦ୍ଧି ସ୍ତର ବୃଦ୍ଧି କରେ

58) During the activity of the muscles in a human body the cause of the fatigue is usually the production of chemical substance called as

- A) Lactic Acid
- B) Citric Acid
- C) Alcohol
- D) Nitric Acid

58) ମଣିଷ ଶରୀରରେ ମାଂସପେଶୀର କାର୍ଯ୍ୟକଳାପ ସମୟରେ ଥକାପଣର କାରଣ ସାଧାରଣତଃ କେଉଁ ରାସାୟନିକ ପଦାର୍ଥର ଉତ୍ପାଦନ ବୋଲି କୁହାଯାଏ?

- A) ଲାକ୍ଟିକ୍ ଏସିଡ୍
- B) ସାଇଟ୍ରିକ୍ ଏସିଡ୍
- C) ଆଲକୋହଲ
- D) ନାଇଟ୍ରିକ୍ ଏସିଡ୍

59) The most common cause of acute and persistent diarrhoea in humans is:

- A) Bite of a mosquito
- B) Viral Infection
- C) Increase in glucose levels
- D) Bite of an ant

59) ମଣିଷର ତୀବ୍ର ଏବଂ କ୍ରମାଗତ ଝାଡ଼ା ହେବାର ସାଧାରଣ କାରଣ ହେଉଛି:

- A) ଏକ ମଶା କାମୁଡ଼ିବା
- B) ଭୂତାଣୁ ସଂକ୍ରମଣ
- C) ଗ୍ଲୁକୋଜ୍ ସ୍ତରରେ ବୃଦ୍ଧି
- D) ଏକ ପିମ୍ପୁଡ଼ି କାମୁଡ଼ିବା

60) Which of the following statements is NOT a key role of the physical education teacher in School Health Programmes?

- A) To teach children the fundamentals of healthful living
- B) To teach children the fundamentals of Artificial Intelligence
- C) To protect each child from acquiring disease from one another
- D) To provide data concerning the status of each child

60) ନିମ୍ନଲିଖିତ ଉଚ୍ଚଗୁଡ଼ିକ ମଧ୍ୟରୁ କେଉଁଟି ବିଦ୍ୟାଳୟ ସ୍ତରୀୟ କାର୍ଯ୍ୟକ୍ରମର ଶାରୀରିକ ଶିକ୍ଷା ଶିକ୍ଷକଙ୍କ ପ୍ରମୁଖ ଭୂମିକା ନୁହେଁ?

- A) ପିଲାମାନଙ୍କୁ ସୁସ୍ଥ ଜୀବନଯାପନର ମୌଳିକତା ଶିଖାଇବା
- B) ପିଲାମାନଙ୍କୁ କୃତ୍ରିମ ବୁଦ୍ଧିର ମୌଳିକତା ଶିଖାଇବା
- C) ପ୍ରତ୍ୟେକ ଶିଶୁକୁ ପରସ୍ପର ରୋଗରୁ ସଂକ୍ରମିତ ହେବାରୁ ରକ୍ଷା କରିବା
- D) ପ୍ରତ୍ୟେକ ଶିଶୁର ସ୍ଥିତି ସମ୍ବନ୍ଧୀୟ ତଥ୍ୟ ପ୍ରଦାନ କରିବା

61) Which hormones usually decrease blood sugar levels in a human body?

- A) Glucagon
- B) Insulin
- C) Adrenaline
- D) Epinephrine

61) କେଉଁ ହର୍ମୋନ୍ ସାଧାରଣତଃ ମାନବ ଶରୀରରେ ରକ୍ତର ଶର୍କରା ସ୍ତରକୁ ହ୍ରାସ କରିଥାଏ?

- A) ଗ୍ଲୁକାଗନ୍
- B) ଇନସୁଲିନ୍
- C) ଆଡ୍ରେନାଲିନ୍
- D) ଏପିନେଫ୍ରାଇନ୍

62) Human Anatomy means

- A) Study of bacteria and virus
- B) Study of only the Joint Movements of a human body
- C) Study of human blood and its function
- D) Study of Structure of human body

62) ମାନବ ଶରୀରବିଜ୍ଞାନର ଅର୍ଥ ହେଉଛି -

- A) ଜୀବାଣୁ ଏବଂ ଭୂତାଣୁର ଅଧ୍ୟୟନ
- B) ମାନବ ଶରୀରର କେବଳ ଚଳ ସନ୍ଧିର ଅଧ୍ୟୟନ
- C) ମାନବ ରକ୍ତ ଏବଂ ଏହାର କାର୍ଯ୍ୟର ଅଧ୍ୟୟନ
- D) ମାନବ ଶରୀର ଗଠନର ଅଧ୍ୟୟନ

63) Measles is a disease that is usually caused by:

- A) Bite of an ant
- B) Viral Infection
- C) A bacteria called E. coli
- D) Bite of a mosquito

63) ମିଳିମିଳା ଏକ ରୋଗ ଯାହା ସାଧାରଣତଃ କାହା ଯୋଗୁ ହୋଇଥାଏ?

- A) ଏକ ପିମ୍ପୁଡ଼ି କାମୁଡ଼ିବା
- B) ଭୃତ୍ୟାଣୁ ସଂକ୍ରମଣ
- C) E. କୋଲି ନାମକ ଏକ ଜୀବାଣୁ
- D) ଏକ ମଶା କାମୁଡ଼ିବା

64) A phenomenon in distance running, such as marathons or road running(as well as other sports), whereby an athlete who is out of breath and too tired to continue suddenly finds the strength to press on at top performance with less exertion, is known as

- A) Second Wind
- B) Blood Pressure
- C) Extreme breath
- D) Pin and Needle effect

64) ଜଣେ ଆଥଲେଟ୍ ଦୂର ଦୌଡ଼ ଯେପରିକି ମାରାଥନ୍ କିମ୍ବା ରାସ୍ତା ଦୌଡ଼(ଏବଂ ଅନ୍ୟାନ୍ୟ କ୍ରୀଡ଼ା) ବେଳେ ନିଶ୍ୱାସ ନେଇ ନପାରନ୍ତି ଏବଂ ଦୌଡ଼ ଜାରୀ ରଖିବା ପାଇଁ ଅତ୍ୟଧିକ ଲାଜ ଅନୁଭବ କରନ୍ତି, ସେହି ସମୟରେ ଯଦି ହଠାତ୍ କମ୍ ପରିଶ୍ରମ ସହିତ ଶୀର୍ଷ ପ୍ରଦର୍ଶନ ଦେବାପାଇଁ ଶକ୍ତି ପାଆନ୍ତି, ଏହାକୁ କ'ଣ କୁହାଯାଏ?

- A) ଦ୍ୱିତୀୟ ଶ୍ୱାସ
- B) ରକ୍ତଚାପ
- C) ଅତ୍ୟଧିକ ଶ୍ୱାସନ
- D) ପିନ୍ ଏବଂ କ୍ଷୁଦ୍ରି ପ୍ରଭାବ

65) Name the instrument used for measuring Blood Pressure.

- A) X-Ray Machine
- B) Electrocardiograph
- C) MRI scanner
- D) Sphygmomanometer

65) ରକ୍ତଚାପ ମାପିବା ପାଇଁ ବ୍ୟବହୃତ ଯନ୍ତ୍ରର ନାମ କ'ଣ?

- A) ଏକ୍ସ-ରେ ମେସିନ୍
- B) ଇଲେକ୍ଟ୍ରୋକାର୍ଡିଓଗ୍ରାଫ୍
- C) MRI ସ୍କାନର୍
- D) ସ୍ପାଇଗ୍ମୋମାନୋମିଟର

66) The wrist joint of a human body is a type of

- A) Pivot joint
- B) Hinge joint
- C) Condyloid synovial joint
- D) Ball and socket joint

66) ମାନବ ଶରୀରର ମଣିବନ୍ଧ ସହି କେଉଁ ପ୍ରକାରର ଏକ ସହି ଅଟେ?

- A) କାଣିସହି
- B) କବ୍ ଜା ଯୁକ୍ତ ସହି
- C) ବର୍ତ୍ତୁଳାଭ ଖୋଳଯୁକ୍ତ ସହି
- D) କମ୍ପୁକ ଏବଂ ଗର୍ଭିକା ସହି

67) Which muscles get fatigued very easily and are a type of skeletal muscles that are controlled by neuromuscular signals from the brain that communicate with individual muscle fibers and cause them to contract?

- A) Cardiac Muscles
- B) Smooth Muscles
- C) Involuntary Muscles
- D) Voluntary Muscles

67) କେଉଁ ମାଂସପେଶୀ ଅତି ସହଜରେ ଥକା ହୋଇଯାଏ ଏବଂ ଏହା ଏକ ପ୍ରକାର କଳାଳ ମାଂସପେଶୀ ଯାହା ମସ୍ତିଷ୍କରୁ ସ୍ନାୟୁପେଶୀୟ ସଂକେତ ଦ୍ୱାରା ନିୟନ୍ତ୍ରିତ ହୋଇଥାଏ, ଯାହା ବ୍ୟକ୍ତିଗତ ମାଂସପେଶୀ ତତ୍ତ୍ୱ ସହିତ ଯୋଗାଯୋଗ କରିଥାଏ ଏବଂ ସେମାନଙ୍କୁ ସଂକୋଚିତ କରିଥାଏ?

- A) ହୃଦୀୟ ମାଂସପେଶୀ
- B) ମୃଦୁ ମାଂସପେଶୀ
- C) ଅନୈଚ୍ଛିକ ମାଂସପେଶୀ
- D) ଐଚ୍ଛିକ ମାଂସପେଶୀ

68) Cholera is commonly caused by

- A) Virus
- B) Bacteria
- C) Exchange of Things
- D) Protozoa

68) ସାଧାରଣତଃ କଲେରା କାହା ଦ୍ୱାରା ବ୍ୟାପୀ ଥାଏ?

- A) ଭୃତାଣୁ
- B) ଜୀବାଣୁ
- C) ଜିନିଷର ଆଦାନ ପ୍ରଦାନ
- D) ପ୍ରୋଟୋଜୋଆ

69) The longest muscle of the human body among the given options is

- A) Sartorius
- B) Iliopsoas
- C) Deltoid
- D) Pectoralis

69) ପ୍ରଦତ୍ତ ବିକଳଗୁଡ଼ିକ ମଧ୍ୟରେ ମାନବ ଶରୀରର ସବୁଠାରୁ ଲମ୍ବା ମାଂସପେଶୀ ହେଉଛି -

- A) ସାର୍ଟୋରିୟସ୍
- B) ଇଲିୟସୋଆସ
- C) ଡେଲ୍ଟଏଡ୍
- D) ପେକ୍ଟୋରାଲିସ୍

70) The approximate percentage of Carbohydrates in the diet of an athlete should usually be

- A) Equal to 10%
- B) Less than 30%
- C) Equal to 5%
- D) More than 55%

70) ଜଣେ ଆଥଲେଟ୍ ର ଖାଦ୍ୟରେ ଶ୍ୱେତସାରର ଆନୁମାନିକ ପ୍ରତିଶତ ସାଧାରଣତଃ କେତେ ହେବା ଉଚିତ୍?

- A) 10% ସହିତ ସମାନ
- B) 30% ରୁ କମ୍
- C) 5% ସହିତ ସମାନ
- D) 55% ରୁ ଅଧିକ

71) A 10-event contest which is spread over two days is called?

- A) Decathlon
- B) Triathlon
- C) Sprint
- D) Triple Jump

71) ଦୁଇ ଦିନ ଧରି ଚାଲିଥିବା 10-ଇଭେଣ୍ଟ ବିଶିଷ୍ଟ ଏକ ପ୍ରତିଯୋଗିତାକୁ କ'ଣ କୁହାଯାଏ?

- A) ଡେକାଥଲନ୍
- B) ଟ୍ରାଇଥଲନ୍
- C) ସ୍ପ୍ରିଣ୍ଟ
- D) ଟ୍ରିପଲ୍ ଜମ୍ପ

72) "It is a basis of developing a complete personality of a child". The given sentence is the definition of which of the following options?

- A) Music Education
- B) Social Science
- C) Mental Education
- D) Physical Education

72) "ଏହା ଏକ ଶିଶୁର ସମ୍ପୂର୍ଣ୍ଣ ବ୍ୟକ୍ତିତ୍ୱର ବିକାଶର ଏକ ଆଧାର" ପ୍ରଦତ୍ତ ବାକ୍ୟଟି ନିମ୍ନଲିଖିତ ବିକଳ୍ପଗୁଡ଼ିକ ମଧ୍ୟରୁ କେଉଁଟିର ସଂଜ୍ଞା ଅଟେ?

- A) ସଙ୍ଗୀତ ଶିକ୍ଷା
- B) ସାମାଜିକ ବିଜ୍ଞାନ
- C) ମାନସିକ ଶିକ୍ଷା
- D) ଶାରୀରିକ ଶିକ୍ଷା

73) Agha Khan cup is associated with which game in India?

- A) Cricket
- B) Basketball
- C) Hockey
- D) Kho Kho

73) ଭାରତର କେଉଁ ଖେଳ ସହିତ ଆଗା ଖାନ କପ୍ ଜଡ଼ିତ?

- A) କ୍ରିକେଟ୍
- B) ବାସ୍କେଟବଲ୍
- C) ହକି
- D) ଖୋ ଖୋ

74) Which is the highest sports award in India?

- A) Arjuna Award
- B) Dronacharya Award
- C) Major Dhyanchand Khel Ratan Award
- D) Rashtriya Khel Protsahan Puraskar

74) ଭାରତର ସର୍ବୋଚ୍ଚ କ୍ରୀଡ଼ା ପୁରସ୍କାରର ନାମ କ'ଣ?

- A) ଅର୍ଜୁନ ପୁରସ୍କାର
- B) ଦ୍ରୋଣାଚାର୍ଯ୍ୟ ପୁରସ୍କାର
- C) ମେଜର ଧ୍ୟାନଚନ୍ଦ ଖେଳ ରତ୍ନ ପୁରସ୍କାର
- D) ରାଷ୍ଟ୍ରୀୟ ଖେଳ ପ୍ରୋତ୍ସାହନ ପୁରସ୍କାର

75) Nehru Trophy is associated with which game?

- A) Hockey
- B) Polo
- C) Kho Kho
- D) Volleyball

75) ନେହେରୁ ତ୍ରଫି କେଉଁ ଖେଳ ସହିତ ଜଡ଼ିତ?

- A) ହକି
- B) ପୋଲୋ
- C) ଖୋ ଖୋ
- D) ଭଲିବଲ୍

76) In which game 30 yard circle term is used?

- A) Hockey
- B) Rugby
- C) Kho Kho
- D) Cricket

76) କେଉଁ ଖେଳରେ 30 ଯାର୍ଡ ସର୍କିଲ୍ ଶବ୍ଦ ବ୍ୟବହୃତ ହୁଏ?

- A) ହକି
- B) ରଗ୍ବୀ
- C) ଖୋ ଖୋ
- D) କ୍ରିକେଟ୍

77) Abhinav Bindra won the gold medal in the Olympics in which year?

- A) 2008
- B) 2009
- C) 2007
- D) 2000

77) କେଉଁ ବର୍ଷ ଅଲିମ୍ପିକ୍ସରେ ଅଭିନବ୍ ବିନ୍ଦ୍ରା ସ୍ୱର୍ଣ୍ଣ ପଦକ ଜିତିଥିଲେ?

- A) 2008
- B) 2009
- C) 2007
- D) 2000

78) The development of which among the given traits can be defined as Physical Education?

- A) Moral, Physical, Introversion
- B) Mental, Shyness, Cold
- C) Physical, Mental, Social, Emotional, Moral
- D) Social, Detached, Timid

78) ପ୍ରଦତ୍ତ ଗୁଣଗୁଡ଼ିକ ମଧ୍ୟରୁ କେଉଁଠିର ବିକାଶକୁ ଶାରୀରିକ ଶିକ୍ଷା ଭାବରେ ବ୍ୟାଖ୍ୟା କରାଯାଇପାରିବ?

- A) ନୈତିକ, ଶାରୀରିକ, ଅନ୍ତର୍ମୁଖତା
- B) ମାନସିକ, ଲଜ୍ଜା, ଥଣ୍ଡା
- C) ଶାରୀରିକ, ମାନସିକ, ସାମାଜିକ, ସଂବେଗମୂଳକ, ନୈତିକ
- D) ସାମାଜିକ, ବିଚ୍ଛିନ୍ନ, ଭୟାଳୁ

79) Which game is played in the Arun Jaitley Stadium and which city is it situated in?

- A) Football and New Delhi
- B) Crikect and New Delhi
- C) Hockey and Mumbai
- D) Track and field events and Chennai

79) ଅରୁଣ ଜେଟଲି ଷ୍ଟାଡ଼ିୟମରେ କେଉଁ ଖେଳ ଖେଳାଯାଏ ଏବଂ କେଉଁ ସହରରେ ଏହା ଅବସ୍ଥିତ?

- A) ଫୁଟବଲ୍ ଏବଂ ନୂଆଦିଲ୍ଲୀ
- B) କ୍ରିକେଟ୍ ଏବଂ ନୂଆଦିଲ୍ଲୀ
- C) ହକି ଏବଂ ମୁମ୍ବାଇ
- D) ଟ୍ରାକ୍ ଏବଂ ଫିଲ୍ଡ ଇଭେଣ୍ଟ୍ସ ଏବଂ ଚେନ୍ନାଇ

80) Which among the following option is NOT a method of teaching in physical education?

- A) Command method
- B) Lecture method
- C) Initation method
- D) Financial method

80) ନିମ୍ନଲିଖିତ ବିକଳଗୁଡ଼ିକ ମଧ୍ୟରୁ କେଉଁଟି ଶାରୀରିକ ଶିକ୍ଷା ଶିକ୍ଷାଦାନର ଏକ ପଦ୍ଧତି ନୁହେଁ?

- A) କମାଣ୍ଡ ପଦ୍ଧତି
- B) ଅଧ୍ୟାପନା ପଦ୍ଧତି
- C) ପ୍ରାରମ୍ଭ ପଦ୍ଧତି
- D) ଆର୍ଥିକ ପଦ୍ଧତି

81) The RTE Act emphasizes which of the following factors regarding physical education: Choose among the given options the correct factors.

- a) Supply of play materials, games and sports equipment to schools
- b) Physical instructors NOT compulsory in schools
- c) Playground for each school

- A) Only a
- B) Only c
- C) Only a and b
- D) Only a and c

81) RTE ଅଧିନିୟମ ଶାରୀରିକ ଶିକ୍ଷା ସମ୍ବନ୍ଧରେ ନିମ୍ନଲିଖିତ ମଧ୍ୟରୁ କେଉଁ କାରଣଭେଦରେ ଗୁରୁତ୍ୱାରୋପ କରେ? ପ୍ରଦତ୍ତ ବିକଳଗୁଡ଼ିକ ମଧ୍ୟରୁ ସଠିକ୍ କାରଣଗୁଡ଼ିକ ବାଛିନ୍ତୁ।

- a) ବିଦ୍ୟାଳୟଗୁଡ଼ିକୁ ଖେଳ ସାମଗ୍ରୀ, ଖେଳ ଏବଂ ଖେଳ ଉପକରଣ ଯୋଗାଇ
- b) ବିଦ୍ୟାଳୟରେ ଶାରୀରିକ ଶିକ୍ଷାଦାତା ବାଧ୍ୟତାମୂଳକ ନୁହେଁ
- c) ପ୍ରତ୍ୟେକ ବିଦ୍ୟାଳୟ ପାଇଁ ଖେଳ ପଡ଼ିଆ

- A) କେବଳ a
- B) କେବଳ c
- C) କେବଳ a ଏବଂ b
- D) କେବଳ a ଏବଂ c

82) Select the option which is NOT a traditional game of Odisha.

- A) Guchi Tandu
- B) Badminton
- C) Bohu Chori
- D) Danga Pani

82) କେଉଁ ଖେଳ ଓଡ଼ିଶାର ପାରମ୍ପାରିକ ଖେଳ ନୁହେଁ?

- A) ଗୁଚି ଡାଣ୍ଡୁ
- B) ବ୍ୟାଡମିଣ୍ଟନ୍
- C) ବୋହୁ ଚୋରୀ
- D) ଡଙ୍ଗା ପାଣି

83) Gross motor development involves skills that require the coordination of the

- A) Hand with toys
- B) Small muscles
- C) Kinaesthetic senses
- D) Big muscles

83) ସକଳ ଗତ୍ୟାତ୍ମକ ବିକାଶରେ କୌଶଳ ଅନ୍ତର୍ଭୁକ୍ତ ଅଟେ, ଯେଉଁଥିରେ କାହାର ସମନ୍ୱୟ ଆବଶ୍ୟକ କରେ?

- A) ଖେଳନା ସହିତ ହାତ
- B) କ୍ଷୁଦ୍ର ମାଂସପେଶୀ
- C) ପେଶୀୟ ଗତି ସଂବେଦନା
- D) ବଡ଼ ମାଂସପେଶୀ

84) Education without Physical Education is like

- A) Anxiety in Fear
- B) Emotions without Tears
- C) Body without Soul
- D) Pressure without Sweat

84) ଶାରୀରିକ ଶିକ୍ଷା ବିନା ଶିକ୍ଷା କିପରି ଅଟେ?

- A) ଭୟରୁ ଉଦ୍ୱେଗ
- B) ଲୁହ ବିନା ଭାବନା
- C) ଆତ୍ମା ବିନା ଶରୀର
- D) ଝାଳ ବିନା ଚାପ

85) A game of Judo is played on which of the following grounds?

- A) Court
- B) Mat
- C) Field
- D) Diamond

85) ନିମ୍ନଲିଖିତ କେଉଁ ପ୍ରକାରର ପଡ଼ିଆରେ ଜୁଡୋ ଖେଳ ଖେଳାଯାଏ?

- A) କୋର୍ଟ
- B) ମ୍ୟାଟ୍
- C) ପଡ଼ିଆ
- D) ଡାଇନିଂ

86) To measure fitness of cardiovascular fitness we have to perform which test?

- A) Chair stand test
- B) Aahper Test
- C) Rikli and Jones Test
- D) Harvard step Test

86) ହୃଦ୍-ବାହିନୀ ଫିଟନେସର ଉପଯୁକ୍ତତା ମାପିବା ପାଇଁ ଆମକୁ କେଉଁ ପରୀକ୍ଷା କରିବାକୁ ପଡ଼ିବ?

- A) ଚେୟାର ଷ୍ଟାଣ୍ଡ ପରୀକ୍ଷା
- B) ଆହାପର୍ ପରୀକ୍ଷା
- C) ରିକ୍ଲି ଏବଂ ଜୋନ୍ସ ପରୀକ୍ଷା
- D) ହାର୍ଭାର୍ଡ ଷ୍ଟେପ୍ ପରୀକ୍ଷା

87) Cash Amount given in Orissa State Sports Award Biju Patnaik Sports Award for Life-time Achievement in promotion of Sports and Games is

- A) 100000
- B) 200000
- C) 300000
- D) 400000

87) କ୍ରୀଡ଼ା ଏବଂ ଖେଳର ପ୍ରୋତ୍ସାହନରେ ଆଜୀବନ-ସମୟ ସଫଳତା ପାଇଁ ଓଡ଼ିଶା ରାଜ୍ୟ କ୍ରୀଡ଼ା ପୁରସ୍କାର ବିଜୁ ପଟ୍ଟନାୟକ କ୍ରୀଡ଼ା ପୁରସ୍କାରରେ ଦିଆଯାଉଥିବା ନଗଦ ଅର୍ଥ ରାଶି ହେଉଛି-

- A) 100000
- B) 200000
- C) 300000
- D) 400000



88) A footrace over an obstacle course that includes such obstacles as water ditches, open ditches, and fences. Choose among the following options the name of the race?

- A) Relay Race
- B) Hurdling
- C) Sprint
- D) Steeplechase

88) ଏକ ପ୍ରତିବନ୍ଧକ ପାଠ୍ୟକ୍ରମ ଉପରେ ଏକ ଦୌଡ ପ୍ରତିଯୋଗୀତା ଯାହା ଜଳଥୂବା ଖାଲ, ଖୋଲା ଖାଲ ଏବଂ ବାଡ଼ ପରି ପ୍ରତିବନ୍ଧକ ଅନ୍ତର୍ଭୁକ୍ତ କରେ। ଦୌଡ଼ର ନାମ ନିମ୍ନଲିଖିତ ବିକଳଗୁଡ଼ିକ ମଧ୍ୟରୁ ବାଛନ୍ତୁ?

- A) ରିଲେ ଦୌଡ
- B) ହର୍ଡଲିଂଗ୍
- C) ସ୍ପ୍ରିଣ୍ଟ
- D) ଷ୍ଟିପଲ୍‌ଚେସ୍

89) The Test used to measure the fitness of Senior Citizens is

- A) Aahper Test
- B) Rikli and Jones Test
- C) Borrow moter fitness Test
- D) Howard fitness Test

89) ବରିଷ୍ଠ ନାଗରିକଙ୍କ ଫିଟନେସ୍ ମାପିବା ପାଇଁ ବ୍ୟବହୃତ ପରୀକ୍ଷା ହେଉଛି -

- A) ଆହାପର୍ ପରୀକ୍ଷା
- B) ରିକ୍ଲି ଏବଂ ଜୋନ୍ସ ପରୀକ୍ଷା
- C) ବୋରୋ ମୋଟର ଫିଟନେସ୍ ପରୀକ୍ଷା
- D) ହାୱାର୍ଡ ଫିଟନେସ୍ ପରୀକ୍ଷା

90) Incentive given by Sports Ministry on achieving Bronze Medal at Tokyo Olympics, 2020 for Ms P.V. Sindhu, Bajrang Punia and Ms Lovlina Borgohain?

- A) 2000000
- B) 3000000
- C) 4000000
- D) 5000000

90) ପି.ଭି. ସିନ୍ଧୁ, ବଜରଙ୍ଗ ପୁନିଆ ଏବଂ ଲଭଲିନା ବୋରୋଗୋହେନ କୁ ଟୋକିଓ ଅଲିମ୍ପିକ୍ସ 2020 ରେ ଟ୍ରୋଫି ପଦକ ହାସଲ କରିବା ପାଇଁ, କ୍ରୀଡ଼ା ମନ୍ତ୍ରଣାଳୟ ଦ୍ଵାରା କେତେ ପ୍ରୋତ୍ସାହନ ରାଶି ପ୍ରଦାନ କରାଯାଇଥିଲା ?

- A) 2000000
- B) 3000000
- C) 4000000
- D) 5000000

91) In Football, who is the only player allowed to wear a different colour kit?

- A) Defender
- B) Forwards
- C) Goalkeeper
- D) Midfielder

91) ଫୁଟବଲରେ, ଏକ ଭିନ୍ନ ରଙ୍ଗ କିର୍ ପିନ୍ଧିବାକୁ ଅନୁମତି ଦିଆଯାଇଥିବା ଏକମାତ୍ର ଖେଳାଳି କିଏ?

- A) ଡିଫେଣ୍ଡର
- B) ଫରୱାର୍ଡ
- C) ଗୋଲକିପର
- D) ମିଡଫିଲ୍ଡର

92) In which of the following games the term 'Libero'/'Libro' is used?

- A) Handball
- B) Ludo
- C) Basketball
- D) Volleyball

92) ନିମ୍ନଲିଖିତ ଖେଳଗୁଡ଼ିକ ମଧ୍ୟରୁ କେଉଁଟିରେ 'ଲିବେରୋ' / 'ଲିବ୍ରୋ' ଶବ୍ଦ ବ୍ୟବହୃତ ହୁଏ?

- A) ହ୍ୟାଣ୍ଡବଲ୍
- B) ଲୁଡୋ
- C) ବାସ୍କେଟବଲ୍
- D) ଭଲିବଲ୍

93) The terminology 'Leg Umpire' is used in which of the given sports?

- A) Football
 - B) Hockey
 - C) Lawn Tennis
 - D) Cricket
-

93) ପ୍ରଦତ୍ତ କ୍ରୀଡ଼ାର କେଉଁଠିରେ 'ଲେଗ୍ ଅଫିସାର୍' ଶବ୍ଦ ବ୍ୟବହୃତ ହୁଏ?

- A) ଫୁଟବଲ୍
 - B) ହକି
 - C) ଲନ୍ ଟେନିସ୍
 - D) କ୍ରିକେଟ୍
-

94) In the 2020 Olympics, the number of medals India won ONLY in the Track and Field events are?

- A) 0
 - B) 1
 - C) 2
 - D) 3
-

94) 2020 ଅଲିମ୍ପିକ୍ସରେ, କେବଳ ଟ୍ରାକ୍ ଏବଂ ଫିଲ୍ଡ ଇଭେଣ୍ଟରେ ଭାରତ ଜିତିଥିବା ପଦକ ସଂଖ୍ୟା କେତେ?

- A) 0
 - B) 1
 - C) 2
 - D) 3
-

95) A game without an umpire or a referee presiding over the players cannot be played, which committing is responsible in engaging the umpire or the referee?

- A) Programme Committee
- B) Committee for Officials
- C) Reception Committee
- D) Ground and Court Committee

95) ଖେଳାଳିଙ୍କୁ ପରିଚାଳନା କରୁଥିବା ଆମ୍ପାଇର କିମ୍ବା ରେଫରୀ ବିନା ଏକ ଖେଳ ଖେଳାଯାଇପାରିବ ନାହିଁ, ଆମ୍ପାଇର କିମ୍ବା ରେଫରୀଙ୍କୁ ନିୟୋଜିତ କରିବାରେ ଦାୟିତ୍ଵ କେଉଁ କମିଟିର ଅଟେ?

- A) କାର୍ଯ୍ୟକ୍ରମ କମିଟି
- B) ଅଧିକାରୀଙ୍କ ପାଇଁ କମିଟି
- C) ଅଭ୍ୟର୍ଥନା କମିଟି
- D) ଗ୍ରୀଭଣ୍ଟ ଏବଂ କୋର୍ଟ କମିଟି

96) In Olympics, athletes cover a whole lot of sports in the Track and Field events, which among the following options is a Track and Field sport?

- A) Long Jump
- B) Cricket
- C) Base Ball
- D) Kabbadi

96) ଅଲିମ୍ପିକ୍ସରେ ଆଥଲେଟ୍ସମାନେ ଗ୍ରୀକ୍ ଏବଂ ଫିଲ୍ଡ ଇଭେଣ୍ଟରେ ଅନେକ ଗୁଡିଏ କ୍ରୀଡାକୁ କଭର କରନ୍ତି, ନିମ୍ନଲିଖିତ ବିକଳ୍ପଗୁଡ଼ିକ ମଧ୍ୟରୁ କେଉଁଟି ଗ୍ରୀକ୍ ଏବଂ ଫିଲ୍ଡ ଖେଳ ଅଟେ?

- A) ଲଙ୍ଗ୍ ଜମ୍ପ୍
- B) କ୍ରିକେଟ୍
- C) ବେସ୍ ବଲ୍
- D) କବାଡି

97) In the game of Hockey, which among the given options is the most important attacking position?

- A) Inside-Forward
- B) Goal Keeper
- C) Centre-Forward
- D) Right Winger

97) ବିଆୟାଲଥିବା ବିକଳ୍ପଗୁଡ଼ିକ ମଧ୍ୟରୁ କେଉଁଟି ହକି ଖେଳର ସବୁଠାରୁ ଗୁରୁତ୍ଵପୂର୍ଣ୍ଣ ଆକ୍ରମଣକାରୀ ସ୍ଥିତି ଅଟେ?

- A) ଇନସାଇଡ-ଫରୱାର୍ଡ
- B) ଗୋଲ ରକ୍ଷକ
- C) ସେଣ୍ଟର୍-ଫରୱାର୍ଡ
- D) ରାଇଟ୍ ୱିଙ୍ଗର

98) In adult competitive Badminton matches, the number of points a player must reach is

- A) 16
- B) 22
- C) 21
- D) 18

98) ବୟସ୍କ ପ୍ରତିଯୋଗିତାମୂଳକ ବ୍ୟାଡମିଣ୍ଟନ୍ ମ୍ୟାଚ୍ ରେ ଜଣେ ଖେଳାଳୀ ପାଇଁ ପହଞ୍ଚିବାକୁ ଥିବା ପଏଣ୍ଟ ସଂଖ୍ୟା ନିଶ୍ଚିତ ଭାବରେ କେତେ ଥିବା ଉଚିତ୍?

- A) 16
- B) 22
- C) 21
- D) 18

99) Round Robin tournament is also known as

- A) Mixed Tournament
- B) Knock out Tournament
- C) Ladder Tournament
- D) League Tournament

99) ରାଉଣ୍ଡ ରବିନ୍ ଟୁର୍ନାମେଣ୍ଟ ନିମ୍ନଲିଖିତ ଭାବେ ମଧ୍ୟ ଜଣାଶୁଣା

- A) ମିଶ୍ରିତ ଟୁର୍ନାମେଣ୍ଟ
- B) ନକ୍ ଆଉଟ୍ ଟୁର୍ନାମେଣ୍ଟ
- C) ଲେଡର୍ ଟୁର୍ନାମେଣ୍ଟ
- D) ଲିଗ୍ ଟୁର୍ନାମେଣ୍ଟ

100) India participated in the Olympics in 1928 and won the gold in which of the following sport?

- A) Football
- B) Hockey
- C) Kabaddi
- D) Kho Kho

100) 1928 ମସିହାରେ ଭାରତ ଅଲିମ୍ପିକ୍ସରେ ଅଂଶଗ୍ରହଣ କରିଥିଲା ଏବଂ ନିମ୍ନ କ୍ରୀଡ଼ାର କେଉଁଠିରେ ସ୍ପର୍ଶ କରିଥିଲା?

- A) ପୁଟବଲ୍
- B) ହକି
- C) କବାଡ଼ି
- D) ଖୋ ଖୋ

101) Which among the following is an example of Isometric Training?

- A) Running
- B) Plank
- C) Swimming
- D) Walking

101) ନିମ୍ନଲିଖିତ ମଧ୍ୟରୁ କେଉଁଟି ଆଇସୋମେଟ୍ରିକ୍ ଚାଲିମର ଏକ ଉଦାହରଣ?

- A) ଦୌଡ଼ିବା
- B) ପ୍ଲାଙ୍କ
- C) ପହଁରିବା
- D) ଚାଲିବା

102) Though there is no standard weight of a cricket bat, the typical weight of a cricket bat international level players usually use is?

- A) 1.1 to 1.4 KG
- B) 120 - 150 Grams
- C) 1.5 to 1.0 KG
- D) 400 - 440 Grams

102) ଯଦିଓ କ୍ରିକେଟ୍ ବ୍ୟାଟ୍ ର କୌଣସି ମାନକ ଓଜନ ନାହିଁ, ସାଧାରଣତଃ ଆନ୍ତର୍ଜାତୀୟ ସ୍ତରର ଖେଳାଳିଙ୍କ ଦ୍ୱାରା ବ୍ୟବହୃତ କ୍ରିକେଟ୍ ବ୍ୟାଟ୍ ର ଓଜନ କେତେ?

- A) 1.1 ରୁ 1.4 କେଜି
- B) 120 - 150 ଗ୍ରାମ
- C) 1.5 ରୁ 1.0 କେଜି
- D) 400 - 440 ଗ୍ରାମ

103) A common injury, but not limited to, a Shoulder sprain happens in which of the given sports:

- a) Volleyball
- b) Wrestling
- c) Baseball

- A) Only a
- B) Only b and c
- C) Only c
- D) All a, b, c

103) ଏକ ସାଧାରଣ ଆଘାତ, କିନ୍ତୁ ସୀମିତ ନୁହେଁ, ନିମ୍ନରେ ଦିଆଯାଇଥିବା କେଉଁ କ୍ରୀଡ଼ାର କାନ୍ଧରେ ସ୍ପ୍ରେନ୍ (ମୋତ) ହୁଏ :

- a) ଭଲିବଲ୍
- b) ରେସଲିଂ
- c) ବେସବଲ୍

- A) କେବଳ a
- B) କେବଳ b ଏବଂ c
- C) କେବଳ c
- D) a, b, c ସମସ୍ତ

104) A form of exercise that consists of timed exercise performed with varying amounts of rest between each exercise, what kind of training is this?

- A) Isometric Training
- B) Isotonic Training
- C) Isokinetic Training
- D) Circuit Training

104) ବ୍ୟାୟାମର ଏକ ରୂପ ଯାହା ପ୍ରତ୍ୟେକ ବ୍ୟାୟାମ ମଧ୍ୟରେ ବିଭିନ୍ନ ପରିମାଣର ବିଶ୍ରାମ ସହିତ ସଂପନ୍ନ ସମୟ ବ୍ୟାୟାମକୁ ନେଇ ଗଠିତ, ଏହା କି ପ୍ରକାର ପ୍ରଶିକ୍ଷଣ?

- A) ଆଇସୋମେଟ୍ରିକ୍ ଟ୍ରେନିଂ
- B) ଆଇସୋଟୋନିକ୍ ଟ୍ରେନିଂ
- C) ଆଇସୋକିନେଟିକ୍ ଟ୍ରେନିଂ
- D) ସର୍କିଟ୍ ଟ୍ରେନିଂ

105) CHOOSE among the given points the traits that are common to all great coaches:
 a) Eagerness to learn
 b) Motivational skills
 c) Suppression of communication

- A) a,b,c
 B) a,c
 C) Only c
 D) a,b

105) ଦିଆଯାଇଥିବା ପଦ୍ମଗୁଡ଼ିକ ମଧ୍ୟରୁ ଗୁଣଗୁଡ଼ିକୁ ବାଛନ୍ତୁ ଯାହା ସମସ୍ତ ମହାନ ପ୍ରଶିକ୍ଷକଙ୍କ ପାଇଁ ସାଧାରଣ ଗୁଣ ଅଟେ :

- a) ଶିଖିବାକୁ ଆଗ୍ରହ
 b) ପ୍ରେରଣାଦାୟକ କୌଶଳ
 c) ଯୋଗାଯୋଗର ଦମନ

- A) a, b, c
 B) a, c
 C) କେବଳ c
 D) a, b

106) In the running events, what does the referee say to get the runners ready, after which, the starting device is fired to begin the race?

- A) On your hands
 B) On your paws
 C) On your marks
 D) On your scores

106) ଏକ ଦୌଡ଼ ଇଭେଣ୍ଟରେ ରେଫରୀ ଦୌଡ଼ାଳି ମାନଙ୍କୁ ପ୍ରସ୍ତୁତ ହେବା ପାଇଁ କଣ କହନ୍ତି, ଯାହା ପରେ ଦୌଡ଼ ଆରମ୍ଭ କରିବା ପାଇଁ ପ୍ରାରମ୍ଭିକ ଉପକରଣକୁ ଫାୟାର୍ କରାଯାଏ?

- A) ତୁମ ହାତରେ
 B) ତୁମ ପଞ୍ଜା ଉପରେ
 C) ତୁମ ମାର୍କ ଉପରେ
 D) ତୁମ ସ୍କୋରରେ

107) Which governing body is in charge of implementing sports scheme and promoting sports in India?

- A) Khel Bharat
- B) Sports of India
- C) Sports Authority of India
- D) Sports Centres in India

107) କ୍ରୀଡ଼ା ଯୋଜନା କାର୍ଯ୍ୟକାରୀ କରିବା ଏବଂ ଭାରତରେ କ୍ରୀଡ଼ାକୁ ପ୍ରୋତ୍ସାହିତ କରିବା ପାଇଁ କେଉଁ ପ୍ରଶାସକ ଦାୟିତ୍ୱ ରେ ଅଛନ୍ତି?

- A) ଖେଲ୍ ଭାରତ
- B) ଭାରତର କ୍ରୀଡ଼ା
- C) ଭାରତର କ୍ରୀଡ଼ା ପ୍ରାଧିକରଣ
- D) ଭାରତରେ କ୍ରୀଡ଼ା କେନ୍ଦ୍ର

108) Bonus line is a term used in which of the following games.

- A) Swimming
- B) Kabaddi
- C) High Jump
- D) Volleyball

108) ବୋନସ୍ ଲାଇନ୍ ହେଉଛି ଏକ ଶବ୍ଦ ଯାହାକି ନିମ୍ନଲିଖିତ ଖେଳଗୁଡ଼ିକ ମଧ୍ୟରୁ କେଉଁଟିରେ ବ୍ୟବହୃତ ହୁଏ?

- A) ପହୁଁରିବା
- B) କବାଡ଼ି
- C) ହାଇ ଜମ୍ପ୍
- D) ଭଲିବଲ୍

109) This type of training is also called as Speed play. Name the training.

- A) Circuit Training
- B) Weight Training
- C) Interval Training
- D) Fartlek Training

109) ଏକ ପ୍ରଶିକ୍ଷଣ ଯାତ୍ରାକୁ ସ୍ଥିତ ପ୍ଲେ ମଧ୍ୟ କୁହାଯାଏ। ଏହି ପ୍ରଶିକ୍ଷଣଟିର ନାମ କ'ଣ?

- A) ସର୍କିଟ ଡାଲିମ
- B) ଓଜନ ପ୍ରଶିକ୍ଷଣ
- C) ଆଭ୍ୟନ୍ତରୀଣ ଡାଲିମ
- D) ଫାର୍ଟଲେକ୍ ଟ୍ରେନିଂ

110) In the game of Kho Kho, a player who pursues the players of the opposite side i.e. defenders with a view to tag and touches them is known as an

- A) Chaser
- B) Sitting Block
- C) Defender
- D) Attacker

110) ଖୋ ଖୋ ଖେଳରେ ଜଣେ ଖେଳାଳୀ ଯିଏ ବିପରୀତ ଦଳର ଖେଳାଳୀଙ୍କୁ ଅର୍ଥାତ୍ ଡିଫେଣ୍ଡରମାନଙ୍କୁ ଟ୍ୟାଗ୍ ଏବଂ ସ୍ପର୍ଶ କରିବା ଉଦ୍ଦେଶ୍ୟରେ ଅନୁସରଣ କରେ ସେମାନଙ୍କୁ କ'ଣ କୁହାଯାଏ?

- A) ଚେଜର୍
- B) ସିଟିଙ୍ଗ୍ ବ୍ଲକ୍
- C) ଡିଫେଣ୍ଡର
- D) ଆଟାକର୍

111) THE COMMITTEE WHICH LOOKS AFTER PLAYERS REST AND FOOD IS CALLED

- A) TRANSPORTING COMMITTEE
- B) RECEPTION COMMITTEE
- C) BOARDING AND LODGING COMMITTEE
- D) MAINTENANCE COMMITTEE

111) ଖେଳାଳିଙ୍କ ବିଶ୍ରାମ ଏବଂ ଖାଦ୍ୟ ପେୟ ଯେଉଁ କମିଟି ତଦାରଖ କରେ, ସେହି କମିଟି କଣ?

- A) ପରିବହନ କମିଟି
- B) ଅଭ୍ୟର୍ଥନା କମିଟି
- C) ବୋର୍ଡିଂ ଏବଂ ଲଜିଂ କମିଟି
- D) ରକ୍ଷଣାବେକ୍ଷଣ କମିଟି

112) WHICH TOURNAMENT IS ALSO CALLED 'BERGER SYSTEM'?

- A) KNOCK OUT TOURNAMENT
- B) LADDER TOURNAMENT
- C) LEAGUE TOURNAMENT
- D) COMBINATION TOURNAMENT

112) କେଉଁ ଟୁର୍ନାମେଣ୍ଟକୁ 'ବର୍ଗର୍ ସିଷ୍ଟମ' ବୋଲି କୁହାଯାଏ?

- A) ନକ୍ ଆଉଟ୍ ଟୁର୍ନାମେଣ୍ଟ
- B) ଲେଡର୍ ଟୁର୍ନାମେଣ୍ଟ
- C) ଲିଗ୍ ଟୁର୍ନାମେଣ୍ଟ
- D) ମିଶ୍ରଣ ଟୁର୍ନାମେଣ୍ଟ

113) MIDWICKET IS A TERM usually USED IN WHICH GAME?

- A) BASKETBALL
- B) FOOTBALL
- C) KHO KHO
- D) CRICKET

113) ମିଡ଼ୱିକେଟ୍ ପଦଟି ସାଧାରଣତଃ କେଉଁ ଖେଳରେ ବ୍ୟବହୃତ ହୁଏ?

- A) ବାସ୍କେଟବଲ୍
- B) ଫୁଟବଲ୍
- C) ଖୋ ଖୋ
- D) କ୍ରିକେଟ୍

114) IN A KNOCK OUT TOURNAMENT IF THE NUMBER OF TEAMS ARE 12 THEN NUMBER OF MATCHES WILL BE

- A) 11
- B) 12
- C) 14
- D) 13

114) ଏକ ନକ୍ ଆଉଟ୍ ଟୁର୍ନାମେଣ୍ଟରେ ଯଦି ଏକ ଟିମ୍ ର ସଂଖ୍ୟା 12 ଥାଏ, ତା'ହେଲେ ମ୍ୟାଚ୍ ସଂଖ୍ୟା କେତେ ହେବ?

- A) 11
- B) 12
- C) 14
- D) 13

115) Planning in sports can usually reduce

- A) performance
- B) efficiency
- C) chance of mistakes
- D) Number of players

115) କ୍ରୀଡ଼ାରେ ଯୋଜନା ସାଧାରଣତଃ _____ ହ୍ରାସ କରେ?

- A) କାର୍ଯ୍ୟଦକ୍ଷତା
- B) ଦକ୍ଷତା
- C) ଭୁଲ୍ ର ସୁଯୋଗ
- D) ଖେଳାଳିଙ୍କ ସଂଖ୍ୟା

116) WHO IS KNOWN AS THE FLYING SIKH?

- A) NAVJOOT SINGH SIDHU
- B) BHAGWAT MAAN
- C) MILKHA SINGH
- D) PAN SINGH

116) "ଫ୍ଲାଇଂ ଶିଖ୍" ଭାବେ କିଏ ପରିଚିତ?

- A) ଅବଲୋତ ସିଂ ଶିନ୍ଧୁ
- B) ଭଗବତ୍ ମାନ୍
- C) ମିଲ୍ଲା ସିଂ
- D) ପାନ୍ ସିଂ

117) BONUS LINE IS REFERRED IN WHICH GAME?

- A) KHO KHO
- B) KABADDI
- C) FOOTBALL
- D) NETBALL

117) କେଉଁ ଖେଳରେ ବୋନସ୍ ଲାଇନ୍ ରେଫର୍ କରାଯାଇଛି?

- A) ଖୋ ଖୋ
- B) କବାଡ଼ି
- C) ଫୁଟବଲ୍
- D) ନେଟବଲ୍

118) IN A VOLLEYBALL MATCH the NUMBER OF PLAYERS usually in each team on one side of a court at any one time IS

- A) 6
- B) 7
- C) 8
- D) 5

118) ଏକ ଭଲିବଲ୍ ମ୍ୟାଚ୍ ରେ ସାଧାରଣତଃ ପ୍ରତ୍ୟେକ ଦଳରେ ଯେକୌଣସି ସମୟରେ କୋର୍ଟର ଗୋଟିଏ ପାର୍ଶ୍ୱରେ ଥିବା ଖେଳାଳି ସଂଖ୍ୟା କେତେ?

- A) 6
- B) 7
- C) 8
- D) 5

119) EXTRAMURAL MEANS IN SPORTS

- A) GAMES PLAYED within a SCHOOL
- B) GAMES PLAYED within a CLASS
- C) GAMES PLAYED IN DISTRICT TOURNAMENT
- D) GAMES PLAYED AT HOME

119) କ୍ରିଡ଼ାରେ ଏକ୍ସଟ୍ରାମୁରାଲର ଅର୍ଥ କଣ?

- A) ଏକ ବିଦ୍ୟାଳୟ ମଧ୍ୟରେ ଖେଳାଯାଇଥିବା ଖେଳ
- B) କ୍ଲବ୍ ମଧ୍ୟରେ ଖେଳାଯାଇଥିବା ଖେଳ
- C) ଜିଲ୍ଲା ଚୁନାମେଣ୍ଟରେ ଖେଳାଯାଇଥିବା ଖେଳ
- D) ଘରେ ଖେଳାଯାଇଥିବା ଖେଳ

120) Which of the following options is an example of passive recreation activity?

- A) 100 mtr race
- B) Strolling
- C) MARATHON
- D) RELAY RACE

120) ନିମ୍ନଲିଖିତ ବିକଳଗୁଡ଼ିକ ମଧ୍ୟରୁ କେଉଁଟି ନିଷ୍ପ୍ରୟ ମନୋରଞ୍ଜନ କାର୍ଯ୍ୟକଳାପର ଉଦାହରଣ ଅଟେ?

- A) 100 ମିଟର ଦୌଡ଼
- B) ସ୍ଟ୍ରଲିଂ
- C) ମାରାଥନ୍
- D) ରିଲେ ଦୌଡ଼

121) WHO WON THE 1ST T20 CRICKET WORLD CUP, played in South Africa in 2007?

- A) AUSTRALIA
- B) PAKISTAN
- C) BANGLADESH
- D) INDIA

121) 2007 ରେ ଦକ୍ଷିଣ ଆଫ୍ରିକାରେ ଖେଳାଯାଇଥିବା ପ୍ରଥମ ଟି20 କ୍ରିକେଟ୍ ଖାଲ୍ଟି କପ୍ କିଏ ଜିତିଥିଲା?

- A) ଅଷ୍ଟ୍ରେଲିୟା
- B) ପାକିସ୍ତାନ
- C) ବଙ୍ଗଳାଦେଶ
- D) ଭାରତ

122) As on January 2022, the CHAIRMAN OF BCCI (THE BOARD OF CONTROL FOR CRICKET IN INDIA) IS

- A) JAYESH SHAH
- B) SAURAV GANGULY
- C) AMIT SHAH
- D) RAHUL DRAVID

122) ଜାନୁୟାରୀ 2022 ସୁଦ୍ଧା, ବିସିସିଆଇ(ବୋର୍ଡ ଅଫ କଣ୍ଟ୍ରୋଲ ଫର୍ କ୍ରିକେଟ୍ ଇନ୍ ଇଣ୍ଡିଆ) ର ଚେୟାରମ୍ୟାନ୍ କି ନାମ କଣ?

- A) ଜୟେଶ ଶାହା
- B) ସୌରଭ ଗାଙ୍ଗୁଲି
- C) ଅମିତ ସାହା
- D) ରାହୁଲ ଡ୍ରବିଡ଼

123) A Third UMPIRE is MAINLY USED IN WHICH GAME?

- A) FOOTBALL
- B) HANDBALL
- C) KABADDI
- D) CRICKET

123) କେଉଁ ଖେଳରେ ମୁଖ୍ୟତଃ ଏକ ତୃତୀୟ ଅଫିସିଆର ଥାଏ ?

- A) ଫୁଟବଲ୍
- B) ହ୍ୟାଣ୍ଡବଲ୍
- C) କବାଡ଼ି
- D) କ୍ରିକେଟ୍

124) HOW MANY PLAYERS ARE THERE IN each Football TEAM?

- A) 8
- B) 11
- C) 16
- D) 22

124) ଏକ ଫୁଟବଲ୍ ଟିମରେ କେତେଜଣ ଖେଳାଳି ରହନ୍ତି?

- A) 8
- B) 11
- C) 16
- D) 22

125) FOR EFFECTIVE ADMINISTRATION A PHYSICAL EDUCATION TEACHER MUST HAVE

- A) HIGH QUALIFICATION
- B) Pleasant Looks
- C) TECHNICAL KNOWLEDGE AND SKILLS
- D) a very tall height of 6 feet

125) ଫଳପ୍ରସ୍ତୁତ ପ୍ରଶାସନ ପାଇଁ ଜଣେ ଶାରୀରିକ ଶିକ୍ଷା ଶିକ୍ଷକର କି ଗୁଣ ରହିବା ଆବଶ୍ୟକ?

- A) ଉଚ୍ଚ ଯୋଗ୍ୟତା
- B) ଆନନ୍ଦଦାୟକ ଚେହେରା
- C) ବୈଷୟିକ ଜ୍ଞାନ ଏବଂ ଦକ୍ଷତା
- D) 6 ଫୁଟ ଲମ୍ବର ଉଚ୍ଚତା

126) Which statement among the following is INCORRECT about the extramural activities?

- A) The exposure of extramural competition helps the players to play in different situations
- B) One institution can play with other institution for practice and both the teams get exposure of competition
- C) Any player from any institution or department can participate
- D) The extramural tournaments promote voluntary participation and competition within the same institution

126) ନିମ୍ନଲିଖିତ ମଧ୍ୟରୁ କେଉଁ ଉକ୍ତିଟି ପାଠ୍ୟକ୍ରମ ଅତିରିକ୍ତ କାର୍ଯ୍ୟକଳାପ ସମ୍ବନ୍ଧରେ ଭୁଲ ଅଟେ?

- A) ପାଠ୍ୟକ୍ରମ ଅତିରିକ୍ତ ପ୍ରତିଯୋଗିତାର ଏକ୍ସପୋଜର, ଖେଳାଳୀଙ୍କୁ ବିଭିନ୍ନ ପରିସ୍ଥିତିରେ ଖେଳିବାକୁ ସାହାଯ୍ୟ କରେ
- B) ଅଭ୍ୟାସ ପାଇଁ, ଗୋଟିଏ ଅନୁଷ୍ଠାନ ଅନ୍ୟ ଅନୁଷ୍ଠାନ ସହିତ ଖେଳିପାରେ ଏବଂ ଉଭୟ ଦଳ ପ୍ରତିଯୋଗିତାର ଏକ୍ସପୋଜର ପାଆନ୍ତି
- C) ଯେକୌଣସି ଅନୁଷ୍ଠାନ କିମ୍ବା ବିଭାଗର ଯେକୌଣସି ଖେଳାଳି ଅଂଶଗ୍ରହଣ କରିପାରିବେ
- D) ଅତିରିକ୍ତ ଦୂର୍ନାମେଣ୍ଟ ଗୁଡ଼ିକ ସମାନ ଅନୁଷ୍ଠାନ ମଧ୍ୟରେ ସ୍ୱେଚ୍ଛାକୃତ ଅଂଶଗ୍ରହଣ ଏବଂ ପ୍ରତିଯୋଗିତାକୁ ପ୍ରୋତ୍ସାହିତ କରେ

127) TO RECEIVE PLAYERS FROM RAILWAY STATION IS A WORK OF WHICH COMMITTEE?

- A) RECEPTION COMMITTEE
- B) WELCOME COMMITTEE
- C) TRANSPORTATION COMMITTEE
- D) BOARDING COMMITTEE

127) ରେଲୱେ ଷ୍ଟେସନରୁ ଖେଳାଳୀଙ୍କୁ ଗ୍ରହଣ କରିବା କେଉଁ କମିଟିର କାର୍ଯ୍ୟ?

- A) ଅଭ୍ୟର୍ଥନା କମିଟି
- B) ଅଭିନନ୍ଦନ କମିଟି
- C) ପରିବହନ କମିଟି
- D) ବୋର୍ଡ଼ କମିଟି

128) Select the activity which comes under Intramural category.

- A) INTER DISTRICT TOURNAMENT
- B) INTERSTATE CHAMPIONSHIP
- C) INTER HOUSE SCHOOL GAMES
- D) INTERNATIONAL CHAMPIONSHIP

128) ଇନ୍ଟ୍ରାମୁରାଲ୍ ବର୍ଗ ଅଧୀନରେ ଆସୁଥିବା କାର୍ଯ୍ୟକ୍ରମକୁ ବାଛିନ୍ତୁ।

- A) ଆନ୍ତ ଜିଲ୍ଲା ଟୁର୍ନାମେଣ୍ଟ
- B) ଆନ୍ତ ରାଜ୍ୟ ଚାମ୍ପିୟନଶିପ୍
- C) ଆନ୍ତ ବିଦ୍ୟାଳୟ ଖେଳ
- D) ଆନ୍ତର୍ଜାତୀୟ ଚାମ୍ପିୟନଶିପ୍

129) In a Knock out tournament, THE FIRST BYE is ALWAYS GIVEN TO

- A) FIRST TEAM OF UPPER HALF
- B) LAST TEAM OF LOWER HALF
- C) FIRST TEAM OF LOWER HALF
- D) LAST TEAM OF UPPER HALF

129) ଏକ ନକ୍ ଆଉଟ୍ ଟୁର୍ନାମେଣ୍ଟରେ, ପ୍ରଥମ ବାଲ୍ ସର୍ବଦା କେଉଁ ଦଳକୁ ପ୍ରଦାନ କରାଯାଏ?

- A) ଉପର ଅଧାର ପ୍ରଥମ ଦଳ
- B) ନିମ୍ନ ଅଧାର ଶେଷ ଦଳ
- C) ନିମ୍ନ ଅଧାର ପ୍ରଥମ ଦଳ
- D) ଉପର ଅଧାର ଶେଷ ଦଳ

130) Any tournament whether it is knock-out or league, is arranged according to a set procedure which is known as

- A) FIXTURE
- B) MATCH PLANNING
- C) Bye
- D) STRATEGY OF GAME

130) ଯେକୌଣସି ଟୁର୍ନାମେଣ୍ଟ ଯାହା ନକ୍ ଆଉଟ୍ ହେଉ କିମ୍ବା ଲିଗ୍, ଏକ ନିର୍ଦ୍ଧାରିତ ପଦ୍ଧତି ଅନୁଯାୟୀ ବ୍ୟବସ୍ଥିତ ହୋଇଥାଏ ,ତାହାକୁ କଣ କୁହାଯାଏ?

- A) ଅନ୍ତିମ ତାଲିକା(ଫିକ୍ସଚର)
- B) ମ୍ୟାଚ୍ ଯୋଜନା
- C) ବାଲ୍
- D) ଖେଳର ରଣନୀତି

131) Which of the following refers to the physical growth and strengthening of a child's bones, muscles and ability to move and touch his/her surroundings?

- A) Emotional Development
- B) Moral Development
- C) Motor Development
- D) Social Development

131) ନିମ୍ନଲିଖିତ ମଧ୍ୟରୁ କେଉଁଟି ଶିଶୁର ଶରୀରର ହାଡ, ମାଂସପେଶୀର ଅଭିବୃଦ୍ଧି ଏବଂ ଦୃଢତା ଏବଂ ନିଜ ଚାରିପାଖରେ ବୁଲିବାର କ୍ଷମତା ଏବଂ ସ୍ପର୍ଶ କରିବାକୁ ସୂଚିତ କରେ?

- A) ସଂବେଗାତ୍ମକ ବିକାଶ
- B) ନୈତିକ ବିକାଶ
- C) ଗତ୍ୟାତ୍ମକ ବିକାଶ
- D) ସାମାଜିକ ବିକାଶ

132) Which of the following options is NOT one of the important objectives of Physical Education?

- A) Mental Development
- B) Political Development
- C) Social Development
- D) Emotional Development

132) ନିମ୍ନଲିଖିତ ବିକଳଗୁଡ଼ିକ ମଧ୍ୟରୁ କେଉଁଟି ଶାରୀରିକ ଶିକ୍ଷାର ଏକ ଗୁରୁତ୍ୱପୂର୍ଣ୍ଣ ଉଦ୍ଦେଶ୍ୟ ନୁହେଁ?

- A) ମାନସିକ ବିକାଶ
- B) ରାଜନୈତିକ ବିକାଶ
- C) ସାମାଜିକ ବିକାଶ
- D) ସଂବେଗାତ୍ମକ ବିକାଶ

133) The SGFI commits itself to provide quality physical education to promote healthy competition, and social and cultural vivacity amongst athletes in India. What does SGFI stand for?

- A) Social Games Formation of India
- B) Society of Games Federation of India
- C) School Games Federation of India
- D) Society of Games Formation of India

133) ଭାରତର ଆଥଲେଟ ମାନଙ୍କ ମଧ୍ୟରେ ସୁସ୍ଥ ପ୍ରତିଯୋଗିତା ଏବଂ ସାମାଜିକ ତଥା ସାଂସ୍କୃତିକ ଜୀବନ୍ତତାକୁ ପ୍ରୋତ୍ସାହିତ କରିବା ପାଇଁ ଗୁଣାତ୍ମକ ଶାରୀରିକ ଶିକ୍ଷାର ପ୍ରଦାନ କରିବାକୁ SGFI ପ୍ରତିଶ୍ରୁତି ଦେଇଥାଏ । SGFI ର ପୂର୍ଣ୍ଣରୂପ କ'ଣ?

- A) ସୋସିଆଲ ଗେମ୍ସ ଫରମେସନ ଅଫ ଇଣ୍ଡିଆ
- B) ସୋସାଇଟି ଅଫ ଗେମ୍ସ ଫେଡେରେସନ୍ ଅଫ ଇଣ୍ଡିଆ
- C) ସ୍କୁଲ ଗେମ୍ସ ଫେଡେରେସନ୍ ଅଫ ଇଣ୍ଡିଆ
- D) ସୋସାଇଟି ଅଫ ଗେମ୍ସ ଫରମେସନ ଅଫ ଇଣ୍ଡିଆ

134) Which among the following options is NOT a key role of physical education teacher in general?

- A) To give knowledge regarding health and hygiene
- B) To make player mentally fit
- C) To make good spectators
- D) To create awareness regarding drugs and medicine

134) ନିମ୍ନଲିଖିତ ବିକଳଗୁଡ଼ିକ ମଧ୍ୟରୁ କେଉଁଟି ସାଧାରଣତଃ ଶାରୀରିକ ଶିକ୍ଷା ଶିକ୍ଷକଙ୍କର ଏକ ପ୍ରମୁଖ ଭୂମିକା ନୁହେଁ?

- A) ସ୍ୱାସ୍ଥ୍ୟ ଏବଂ ସ୍ୱଚ୍ଛତା ସମ୍ବନ୍ଧରେ ଜ୍ଞାନ ଦେବା
- B) ଖେଳାଳୀଙ୍କୁ ମାନସିକ ସ୍ତରରେ ସୁସ୍ଥ କରିବା
- C) ଭଲ ଦର୍ଶକ ତିଆରି କରିବା
- D) ଦ୍ରବ୍ୟ ଏବଂ ଔଷଧ ବିଷୟରେ ସଚେତନତା ସୃଷ୍ଟି କରିବା

135) Who among the following is the youngest player to get individual gold medal in Asian Games (2018) for the Shooting sport?

- A) Saurabh Chaudhary
- B) Tajinder Pal
- C) Major Ashish Malik
- D) Saina Nehwal

135) ଶୁଟିଂ କ୍ରୀଡ଼ା ପାଇଁ ଏସୀୟ ଗେମ୍ସ (2018) ରେ ବ୍ୟକ୍ତିଗତ ସ୍ୱର୍ଣ୍ଣ ପଦକ ପାଇଥିବା ସର୍ବକନିଷ୍ଠ ଖେଳାଳି କିଏ?

- A) ସୌରଭ ଚୌଧୁରୀ
- B) ଡେଜିନ୍ଦର ପାଲ
- C) ମେଜର ଆଶିଷ ମଲିକ
- D) ସାଇନା ନେହୱାଲ

136) What is the name of the Asana in Yoga given in the picture below that usually modifies the blood flow in the lower pelvic region and increases the efficiency of the digestive system?



- A) Chakrasana
- B) Sukasana
- C) Vajrasana
- D) Trikonasana

136) ନିମ୍ନ ଚିତ୍ରରେ ଦିଆଯାଇଥିବା ଯୋଗାସନର ନାମ କ'ଣ ଯାହା ସାଧାରଣତଃ ନିମ୍ନ ପେଲଭିକ୍ ଅଞ୍ଚଳରେ ରକ୍ତ ପ୍ରବାହକୁ ପରିବର୍ତ୍ତନ କରିଥାଏ ଏବଂ ହଜମ ପ୍ରକ୍ରିୟାର ଦକ୍ଷତାକୁ ବଢାଇ ଥାଏ?



- A) ଚକ୍ରାସନ
- B) ସୁକାସନ
- C) ବକ୍ରାସନ
- D) ତ୍ରିକୋଣାସନ

137) According to the International Olympic Committee, Gold medal presented during the Tokyo Summer Olympics weighs around

- A) 950 grams
- B) 755 grams
- C) 645 grams
- D) 556 grams

137) ଆନ୍ତର୍ଜାତୀୟ ଅଲିମ୍ପିକ୍ କମିଟି ଅନୁଯାୟୀ ଟୋକିଓ ଗ୍ରୀଷ୍ମ ଅଲିମ୍ପିକ୍ସ ସମୟରେ ଉପସ୍ଥାପିତ ହୋଇଥିବା ସ୍ୱର୍ଣ୍ଣ ପଦକର ଓଜନ ପ୍ରାୟ:

- A) 950 ଗ୍ରାମ
- B) 755 ଗ୍ରାମ
- C) 645 ଗ୍ରାମ
- D) 556 ଗ୍ରାମ

138) After the independence of our country, efforts were made for unification of the Scout and Guide Associations functioning in India. The Final merger of Scout and Guide Associations took place in India, in the year

- A) 1977
- B) 1990
- C) 1950
- D) 1960

138) ଆମ ଦେଶର ସ୍ଵାଧୀନତା ପରେ, ଭାରତରେ କାର୍ଯ୍ୟରତ ଥିବା ସ୍କାଉଟ୍ ଏବଂ ଗାଇଡ୍ ଆସୋସିଏସନ୍ର ଏକୀକରଣ ପାଇଁ ପ୍ରୟାସ କରାଯାଇଥିଲା। କେଉଁ ବର୍ଷ ସ୍କାଉଟ୍ ଏବଂ ଗାଇଡ୍ ଆସୋସିଏସନ୍ର ଅନ୍ତିମ ମିଶ୍ରଣ ଭାରତରେ ହୋଇଥିଲା?

- A) 1977
- B) 1990
- C) 1950
- D) 1960

139) Under which ministry National Cadet Corps(NCC) came into existence?

- A) Ministry of Railways
- B) Ministry of Civil Aviation
- C) Ministry of Defence
- D) Ministry of Home Affairs

139) କେଉଁ ମନ୍ତ୍ରଣାଳୟ ଅଧୀନରେ ନ୍ୟାସନାଲ କ୍ୟାଡେଟ କର୍ପସ (NCC) ସୃଷ୍ଟି ହେଲା?

- A) ରେଳ ମନ୍ତ୍ରଣାଳୟ
- B) ବେସାମରିକ ବିମାନ ଚଳାଚଳ ମନ୍ତ୍ରଣାଳୟ
- C) ପ୍ରତିରକ୍ଷା ମନ୍ତ୍ରଣାଳୟ
- D) ଗୃହ ମନ୍ତ୍ରଣାଳୟ

140) Which of the following is NOT a leadership quality inculcated by participating in adventure sports generally?

- A) Communication skills
- B) Calligraphy skills
- C) Decisiveness
- D) Friendliness

140) ନିମ୍ନଲିଖିତ ମଧ୍ୟରୁ କେଉଁ ନେତୃତ୍ଵ ଗୁଣ ଦୁଃସାହସିକ କ୍ରୀଡ଼ାରେ ଅଂଶଗ୍ରହଣ ଦ୍ଵାରା ସାଧାରଣତଃ ସଞ୍ଚାରିତ ହୋଇ ନଥାଏ?

- A) ଯୋଗାଯୋଗ କୌଶଳ
- B) ଶୂଳିପି କୌଶଳ
- C) ନିର୍ଣ୍ଣାୟକତା
- D) ବନ୍ଧୁତା

141) The development of the neuromuscular coordination is important for the success in Power or Strength based Sports. Choose among the following an example of this type of sport.

- A) Powerlifting
- B) Baseball
- C) Tennis
- D) Golf

141) ଶକ୍ତି କିମ୍ବା ସମର୍ଥ୍ୟ ଭିତ୍ତିକ କ୍ରୀଡ଼ାରେ ସଫଳତା ପାଇଁ ସ୍ନାୟୁପେଶୀୟ ସମନ୍ୱୟର ବିକାଶ ଗୁରୁତ୍ୱପୂର୍ଣ୍ଣ ଅଟେ। ଏହି ପ୍ରକାର ଖେଳର ଏକ ଉଦାହରଣ ନିମ୍ନଲିଖିତ ମଧ୍ୟରେ ବାଛନ୍ତୁ।

- A) ପାୱାରଲିଫ୍ଟିଙ୍ଗ୍
- B) ବେସବଲ୍
- C) ଟେନିସ୍
- D) ଗଲ୍ଫ୍

142) A hockey player might reasonably expect that previous experience of striking a ball with a hockey stick will transfer positively to learning a golf swing. This is an example of:

- A) Transfer of Learning
- B) Interference Learning
- C) Coordination Learning
- D) Skill Learning

142) ଜଣେ ହକି ଖେଳାଳି ଯୁକ୍ତିଯୁକ୍ତ ଭାବରେ ଆଶା କରିପାରନ୍ତି ଯେ ହକି ଝିକ୍ ସହିତ ବଲ୍ ମାରିବାର ପୂର୍ବ ଅଭିଜ୍ଞତାକୁ, ସେ ଗଲ୍ଫ୍ ସୁଇଙ୍ଗ୍ ଶିଖିବା ପାଇଁ ସକରାତ୍ମକ ସ୍ଥାନାନ୍ତର କରିପାରିବେ। ଏହା କାହାର ଏକ ଉଦାହରଣ?

- A) ଶିକ୍ଷଣର ସ୍ଥାନାନ୍ତର
- B) ହସ୍ତକ୍ଷେପ ଶିକ୍ଷଣ
- C) ସମନ୍ୱୟ ଶିକ୍ଷଣ
- D) କୌଶଳ ଶିକ୍ଷଣ

143) AGGRESSION IN SPORT IS GENERALLY DISTINGUISHED BETWEEN

- A) Contentment and Gaiety
- B) Rookie and Gorilla
- C) Jock and Superjock
- D) Instrumental and Hostile

143) ସାଧାରଣତଃ କ୍ରୀଡ଼ାରେ ଆକ୍ରୋଶ କାହା କାହା ମଧ୍ୟରେ ପ୍ରଭେଦ ଅଟେ?

- A) ସବୁଷ୍ଟତା ଏବଂ ପ୍ରଫୁଲ୍ଲତା
- B) ରକ୍ତି ଏବଂ ଗୋରିଲା
- C) ଜଳ ଏବଂ ସୁପରଜଳ
- D) ସାଧନ ଏବଂ ଶତ୍ରୁତା

144) Which among the following options is an important factor of Sports Psychology?

- a) Development of physiological capacities
- b) Strengthening the mind
- c) Play the game without a goal setting mindset

- A) Only a
- B) Only c
- C) Only b and c
- D) Only a and b

144) ନିମ୍ନଲିଖିତ ବିକଳଗୁଡ଼ିକ ମଧ୍ୟରୁ କେଉଁଟି କ୍ରୀଡ଼ା ମନୋବିଜ୍ଞାନର ଏକ ଗୁରୁତ୍ୱପୂର୍ଣ୍ଣ କାରକ ଅଟେ?

- a) ଶାରୀରିକ ଦକ୍ଷତାର ବିକାଶ
- b) ମନକୁ ଶକ୍ତିଶାଳୀ କରିବା
- c) କୌଣସି ଲକ୍ଷ୍ୟ ସ୍ଥିର ମାନସିକତା ବିନା ଖେଳ ଖେଳନ୍ତୁ

- A) କେବଳ a
- B) କେବଳ c
- C) କେବଳ b ଏବଂ c
- D) କେବଳ a ଏବଂ b

145) MOTIVATION AMONGST SPORTS PEOPLE CAN BE OF HOW MANY TYPES?

- A) 1
- B) 2
- C) 3
- D) 4

145) କ୍ରୀଡ଼ାବିତ୍ ମାନଙ୍କ ମଧ୍ୟରେ ଅଭିପ୍ରେରଣ କେତେ ପ୍ରକାରର ହୋଇପାରେ?

- A) 1
- B) 2
- C) 3
- D) 4

146) Which among the following is a mental aspect of Sports Psychology?

- A) Personality
- B) Rewards
- C) Simulation
- D) Intrinsic

146) ନିମ୍ନଲିଖିତ ମଧ୍ୟରୁ କେଉଁଟି କ୍ରୀଡ଼ା ମନୋବିଜ୍ଞାନର ଏକ ମାନସିକ ଦିଗ ଅଟେ?

- A) ବ୍ୟକ୍ତିତ୍ୱ
- B) ପୁରସ୍କାର
- C) ଅନୁକରଣ
- D) ଅନ୍ତର୍ନିହିତ

147) This type of body tends to be athletic and strong due to their high muscle-to-fat ratio, which might give them a muscular chest, shoulders, and limbs. Choose among the given options the body type

- A) ENDOMORPH
- B) ECTOMORPH
- C) MESOMORPH
- D) BOTH ENDOMORPH AND ECTOMORPH

147) ଏହି ପ୍ରକାରର ଶରୀର ସେମାନଙ୍କର ଉଚ୍ଚ ମାଂସପେଶୀ-ଚର୍ବି ଅନୁପାତ ହେତୁ ଆଥଲେଟିକ୍ ଏବଂ ଶକ୍ତିଶାଳୀ ହୋଇଥାଏ, ଯାହା ସେମାନଙ୍କୁ ଏକ ପେଶୀୟ ଛାତି, କାନ୍ଧ ଏବଂ ଅବୟବ ଦେଇପାରେ। ଦିଆଯାଇଥିବା ବିକଳଗୁଡ଼ିକ ମଧ୍ୟରୁ ଏହି ଶରୀରର ପ୍ରକାର ବାଛନ୍ତୁ?

- A) ଏଣ୍ଡୋମର୍ଫ
- B) ଏକ୍ଟୋମର୍ଫ
- C) ମେସୋମର୍ଫ
- D) ଉଭୟ ଏଣ୍ଡୋମର୍ଫ ଏବଂ ଏକ୍ଟୋମର୍ଫ

148) A sportsperson can be motivated by which of the following methods given in the options?

- A) PUNISHMENT
- B) PRAISE
- C) BLAME
- D) RECOGNITION

148) ନିମ୍ନଲିଖିତ ବିକଳ୍ପ ଗୁଡ଼ିକରେ ଦିଆଯାଇଥିବା ପଦ୍ଧତିଗୁଡ଼ିକ ମଧ୍ୟରୁ କେଉଁ ପଦ୍ଧତି ଦ୍ଵାରା ଜଣେ କ୍ରୀଡ଼ାବିତ୍ କୁ ଉତ୍ସାହିତ କରାଯାଇପାରେ?

- A) ଦଣ୍ଡ
- B) ପ୍ରଶଂସା
- C) ଦୋଷ
- D) ମାନ୍ୟତା

149) This is the mental process that initiates, sustains or guides an athlete's behavior, Choose among the options the correct option.

- A) Recognition
- B) Motivation
- C) Anxiety
- D) Emotional

149) ଏହା ଏକ ମାନସିକ ପ୍ରକ୍ରିୟା ଯାହା ଜଣେ ଆଥଲେଟ୍ କୁ ଆଚରଣକୁ ଆରମ୍ଭ କରେ, ବଜାୟ ରଖେ କିମ୍ବା ମାର୍ଗଦର୍ଶନ ଦିଏ, ନିମ୍ନଲିଖିତ ମଧ୍ୟରୁ ସେହି ସଠିକ୍ ବିକଳ୍ପଟି କେଉଁଟି?

- A) ପ୍ରତ୍ୟକ୍ଷଜ୍ଞାନ
- B) ଅଭିପ୍ରେରଣ
- C) ଉତ୍ତେଜ
- D) ସଂବେଗାତ୍ମକ

150) Choose among the following options an example of Intrinsic Motivation.

- A) Internal Enjoyment
- B) Receiving Cars
- C) Receiving Praise
- D) High Salary

150) ନିମ୍ନଲିଖିତ ବିକଳଗୁଡ଼ିକ ମଧ୍ୟରୁ ଅନ୍ତର୍ନିହିତ ଅଭିପ୍ରେରଣର ଏକ ଉଦାହରଣ ବାଛିନ୍ତୁ?

- A) ଆତ୍ୟନ୍ତରୀଣ ଉପଭୋଗ
- B) କାର୍ ଗ୍ରହଣ
- C) ପ୍ରଶଂସା ଗ୍ରହଣ
- D) ଉଚ୍ଚ ଦରମା



Question Paper No:

76276_3

Answer Key

1	D	31	B	61	B	91	C	121	D
2	A	32	B	62	D	92	D	122	B
3	A	33	A	63	B	93	D	123	D
4	D	34	A	64	A	94	B	124	B
5	D	35	A	65	D	95	B	125	C
6	B	36	C	66	C	96	A	126	D
7	C	37	D	67	D	97	C	127	C
8	C	38	A	68	B	98	C	128	C
9	A	39	B	69	A	99	D	129	B
10	D	40	A	70	D	100	B	130	A
11	D	41	C	71	A	101	B	131	C
12	D	42	A	72	D	102	A	132	B
13	B	43	C	73	C	103	D	133	C
14	A	44	D	74	C	104	D	134	C
15	D	45	D	75	A	105	D	135	A
16	A	46	B	76	D	106	C	136	C
17	B	47	A	77	A	107	C	137	D
18	C	48	D	78	C	108	B	138	C
19	C	49	D	79	B	109	D	139	C
20	A	50	A	80	D	110	D	140	B
21	A	51	D	81	D	111	C	141	A
22	C	52	A	82	B	112	C	142	A
23	C	53	C	83	D	113	D	143	D
24	D	54	C	84	C	114	A	144	D
25	C	55	C	85	B	115	C	145	B
26	B	56	C	86	D	116	C	146	C
27	C	57	C	87	C	117	B	147	C
28	A	58	A	88	D	118	A	148	B
29	D	59	B	89	B	119	C	149	B
30	C	60	B	90	B	120	B	150	A

