

←

**CHT- TGT ARTS 2022**

**E-BOOK-PDF**

**6,000 MCQ**

**EXPLANATION**

**1,500 ଟି ପୂର୍ବ ବର୍ଷର ପ୍ରଶ୍ନ**

**100% ସଫଳତା**



CHT- CONTRACTUAL TEACHER (TGT ARTS) 2022 EXAM !! E-BOOK (PDF) 6,000 BEST MCQ !! CHAPTER WISE QUESTIONS & ANSWER

more

₹199.00 ₹99.00

Validity- 1 Year

English- 1500 (MCQ)...

more

ADD TO CART BUY NOW

[Click Here](#)

←

**CHT- TGT CBZ 2022**


**E-BOOK-PDF**

**6,000 MCQ**

**EXPLANATION**

**750 ଟି ପୂର୍ବ ବର୍ଷର ପ୍ରଶ୍ନ**

**100% ସଫଳତା**



CHT- CONTRACTUAL TEACHER (TGT CBZ SCIENCE) 2022 EXAM !! E-BOOK (PDF) 6,000 BEST MCQ !! CHAPTER WISE QUESTIONS & ANSWER

more

₹199.00 ₹99.00

Validity- 1 Year

Previous Year Question- 750 (2022, 2021 & 2019 Year)...

more

ADD TO CART BUY NOW

[Click Here](#)

←

**CHT- TGT PCM 2022**


**E-BOOK-PDF**

**6,000 MCQ**

**EXPLANATION**

**1,350 ଟି ପୂର୍ବ ବର୍ଷର ପ୍ରଶ୍ନ**

**100% ସଫଳତା**



CHT- CONTRACTUAL TEACHER (TGT PCM SCIENCE) 2022 EXAM !! E-BOOK (PDF) 6,000 BEST MCQ !! CHAPTER WISE QUESTIONS & ANSWER

more

₹199.00 ₹99.00

Validity- 1 Year

Previous Year Question- 1,350 (2022, 2021 & 2019 Year)...

more

ADD TO CART BUY NOW

[Click Here](#)

← Tech of World

HOME VIDEOS PLAYLISTS COMMUNITY

**ଆମ Channel ରେ ଦେଖନ୍ତୁ Video**

**ASO** ଓଡ଼ିଶା ପୋଷାଳ **CT ଓ B.Ed**

ଓଡ଼ିଶା ପୋଲିସ **SSC GD Railway**



**Tech of World**

SUBSCRIBE

315K subscribers • 928 videos

Hello ସାଙ୍ଗ ମାନେ !! ଆମେ ଏହି Channel ରେ ପ୍ରଚାରଣ Educational Video Free ରେ ଯୋଗାଇଦେବେ ଯେଉଁ ଚେତନାକରି ନିଜର ଏହି "Tech Of World" Channel କୁ ...

**+2 କିମ୍ବା +3 ପଢ଼ିବା ପରେ କେମିତି ଜଣେ ଶିକ୍ଷକ ହେଇପାରିବେ ? CT ଓ B.Ed ପରେ କଣ ?**

18:50

How To Become A Teacher After +2 Or +3 In Odisha ? How To Get A Teacher Job In Odisha ?

Tech of World · 176K views · 3 years ago

Home Shorts Subscriptions Library

[Click Here](#)

←

**Tech Of World- (Odisha Exam CT)**

Tech Of World

Uninstall Open

Your Review

sujit kumar naik ★★★★★ 6/29/21

Edit your review

Developer contact

About this app

Tech Of World (Odisha Exam) Provides Mock Test & E-Books For Different Exams

Education

3.8 ★ 422 reviews 422 reviews Rated for 3+ 50K+ Downlo.

TECH OF WORLD Mock Test

[Click Here](#)

← Tech Of World 4.1K subscribers

538 Sujit, 9:42 AM

Leave a comment

ASO English 2022 By... 8.7 MB PDF

ASO General Knowledge 2022... 4.9 MB PDF

ASO Math 2022 By Techofworld.in.pdf 4.6 MB PDF

ASO Odia Language 2022 By... 2.9 MB PDF

ASO Reasoning 2022 By... 4.6 MB PDF

508 · 9:47 AM

3 comments

Broadcast

[Click Here](#)

Section 1 - Paper I General Knowledge and Current Affairs

No. of Questions: 15

1) In January 2022, the Government of Odisha has extended maternity leave for all eligible women employees of aided colleges under Higher Education Department (from 90 days) to how many days?

- A) 180 days
- B) 125 days
- C) 240 days
- D) 150 days

1) ଜାନୁଆରୀ 2022 ରେ, ଓଡ଼ିଶା ସରକାରଙ୍କ ଉଚ୍ଚଶିକ୍ଷା ବିଭାଗ ଅଧୀନରେ ଥିବା ସହାୟକ ମହାବିଦ୍ୟାଳୟ ଗୁଡ଼ିକର ସମସ୍ତ ଯୋଗ୍ୟ ମହିଳା କର୍ମଚାରୀଙ୍କ ପାଇଁ ମାତୃତ୍ୱ ଛୁଟି (90 ଦିନରୁ) କେତେ ଦିନକୁ ବୃଦ୍ଧି କରିଛନ୍ତି?

- A) 180 ଦିନ
- B) 125 ଦିନ
- C) 240 ଦିନ
- D) 150 ଦିନ

2) Lovlina Borgohain won a bronze medal at the Tokyo Olympics held during July-August 2021 for which of the following sports?

- A) Wrestling
- B) Badminton
- C) Boxing
- D) Snooker

2) ନିମ୍ନଲିଖିତ କେଉଁ କ୍ରୀଡ଼ା ପାଇଁ ଜୁଲାଇ-ଅଗଷ୍ଟ 2021 ରେ ଅନୁଷ୍ଠିତ ଟୋକିଓ ଅଲିମ୍ପିକ୍ସରେ ଲୋଭଲିନା ବୋରଗୋହାୟନ୍ ବ୍ରୋଞ୍ଜ ପଦକ ଜିତିଥିଲେ?

- A) କୁସ୍ତି
- B) ବ୍ୟାଡମିଣ୍ଟନ୍
- C) ବକ୍ସିଂ
- D) ସ୍ନୁକର

3) In July 2021, which among the following food delivery companies received approval from SEBI and launched its initial public offering (IPO)?

- A) Swiggy
- B) Zomato
- C) Uber Eats
- D) Ola Foods

3) ଜୁଲାଇ 2021 ରେ, ନିମ୍ନଲିଖିତ ଖାଦ୍ୟ ବିତରଣ କମ୍ପାନୀଗୁଡ଼ିକ ମଧ୍ୟରୁ କେଉଁଟି SEBI ରୁ ଅନୁମୋଦନ ଲାଭ କଲା ଏବଂ ଏହାର ପ୍ରାରମ୍ଭିକ ସର୍ବସାଧାରଣ ଅଫର୍ (IPO) ଆରମ୍ଭ କଲା?

- A) ସ୍ଵିଗି
- B) ଜୋମାଟୋ
- C) ଉବର ୟୁଡ଼ି
- D) ଓଲା ଫୁଡ଼ି

4) Which of the following districts in Odisha has been declared as child-marriage free in January 2022?

- A) Angul
- B) Sonapur
- C) Balasore
- D) Ganjam

4) ଜାନୁଆରୀ 2022 ରେ ଓଡ଼ିଶାର ନିମ୍ନଲିଖିତ ଜିଲ୍ଲା ମଧ୍ୟରୁ କେଉଁଟି ବାଲ୍ୟ ବିବାହ ମୁକ୍ତ ଘୋଷିତ ହୋଇଛି?

- A) ଅନୁଗୁଳ
- B) ସୋନପୁର
- C) ବାଲେଶ୍ଵର
- D) ଗଞ୍ଜାମ

5) Which term fits for given definition, 'process which results in the transformation of social institutions in a manner which improves the capacity of the society to fulfil its aspirations'?

- A) Sustainable Development
- B) Social Development
- C) Fiscal Consolidation
- D) Economic Inclusion

5) ପ୍ରବର ପରିଭାଷା ପାଇଁ କେଉଁ ଶବ୍ଦଟି ପ୍ରଯୁଜ୍ୟ ଅଟେ, 'ଏହି ପ୍ରକ୍ରିୟା ଦ୍ୱାରା ସାମାଜିକ ଅନୁଷ୍ଠାନଗୁଡ଼ିକର ରୂପାନ୍ତରାକରଣ ହୁଏ ଯାହା ସମାଜର ଆକାଂକ୍ଷା ପୂରଣ କରିବାର କ୍ଷମତାକୁ ଉନ୍ନତ କରେ'?

- A) ଧାରଣୀୟ ବିକାଶ
- B) ସାମାଜିକ ବିକାଶ
- C) ଆର୍ଥିକ ଏକୀକରଣ
- D) ଅର୍ଥନୈତିକ ଏକୀକରଣ

6) The Net Enrolment Rate in primary education is calculated for which of the following age group?

- A) 3-6 years
- B) 4-7 years
- C) 2-6 years
- D) 6-10 years

6) ନିମ୍ନରେ ଦିଆଯାଇଥିବା ବୟସ ଶ୍ରେଣୀ ମଧ୍ୟରୁ କେଉଁଟି ପାଇଁ ପ୍ରାଥମିକ ଶିକ୍ଷା କ୍ଷେତ୍ରରେ ନେଟ୍ ନାମଲେଖା ହାର ଗଣନା କରାଯାଏ?

- A) 3-6 ବର୍ଷ
- B) 4-7 ବର୍ଷ
- C) 2-6 ବର୍ଷ
- D) 6-10 ବର୍ଷ

7) What is the colour of Oxygen when it is in liquid state?

- A) Pale Blue
- B) Melon Orange
- C) Lime Yellow
- D) Moss Green

7) ଡରଳ ଅବସ୍ଥାରେ ଥିବାବେଳେ ଅମ୍ଳଜାନର ରଙ୍ଗ କଣ?

- A) ଫିକା ନୀଳ
- B) ଫୁଟି କମଳା
- C) ରୂନ ହଳଦିଆ
- D) ଶୈବାଳ ସବୁଜ

8) Which of the following chemical compounds commonly used in dentistry is known as 'Laughing Gas'?

- A) Freon
- B) Acetylene
- C) Nitrous Oxide
- D) Sodium Nitrate

8) ଦନ୍ତ ଚିକିତ୍ସାରେ ସାଧାରଣତଃ ବ୍ୟବହୃତ ହେଉଥିବା ନିମ୍ନଲିଖିତ ରାସାୟନିକ ଯୌଗିକ ମଧ୍ୟରୁ କେଉଁଟି 'ଲାଫିଙ୍ଗ ଗ୍ୟାସ୍' ଭାବରେ ଜଣାଶୁଣା?

- A) ଫ୍ରିଅନ୍
- B) ଏସିଟିଲିନ୍
- C) ନାଇଟ୍ରସ୍ ଅକ୍ସାଇଡ୍
- D) ସୋଡିୟମ୍ ନାଇଟ୍ରେଟ୍

9) Which British officer played a prominent role in capture of Balasore district of Odisha?

- A) Colonel Peach
- B) Major Fletcher
- C) Captain Morgan
- D) Lt. Colonel Campbell

9) କେଉଁ ବ୍ରିଟିଶ ଅଧିକାରୀ ଓଡ଼ିଶାର ବାଲେଶ୍ଵର ଜିଲ୍ଲାକୁ ଅଧିକାର କରିବାରେ ପ୍ରମୁଖ ଭୂମିକା ଗ୍ରହଣ କରିଥିଲେ?

- A) କର୍ଣ୍ଣେଲ ପିଚ୍
- B) ମେଜର ଫ୍ଲେଟ୍ଚର୍
- C) କ୍ୟାପଟେନ ମୋର୍ଗାନ୍
- D) ଲେଫଟନାଣ୍ଟ କର୍ଣ୍ଣେଲ କ୍ୟାମ୍ପବେଲ୍

10) During the 8th Century, the rulers from Kalinga extended the empire to Southeast Asian island of Java that is now in Indonesia, and established an empire known as

- A) Shailendra Empire
- B) Anantavarman Empire
- C) Dutta Empire
- D) Kharavela Empire

10) ଅଷ୍ଟମ ଶତାବ୍ଦୀରେ, କଳିଙ୍ଗର ଶାସକମାନେ ସାମ୍ରାଜ୍ୟକୁ ଦକ୍ଷିଣ ପୂର୍ବ ଏସୀୟ ଜାଭା ଦ୍ୱୀପକୁ ବିସ୍ତାର କରି ଏକ ସାମ୍ରାଜ୍ୟ ପ୍ରତିଷ୍ଠା କରିଥିଲେ ଯାହା ବର୍ତ୍ତମାନର ଇଣ୍ଡୋନେସିଆରେ ଅଛି । ତାହାର ନାମ କଣ?

- A) ଶୈଳେନ୍ଦ୍ର ସାମ୍ରାଜ୍ୟ
- B) ଅନନ୍ତଭରମାନ ସାମ୍ରାଜ୍ୟ
- C) ଦତ୍ତ ସାମ୍ରାଜ୍ୟ
- D) ଖାରବେଳ ସାମ୍ରାଜ୍ୟ

11) The Harshacharita, is the biography of Indian emperor Harshavardhana written by

- A) Tulsidas
- B) Banabhatta
- C) Kabir
- D) Abul Fazal

11) ଭାରତୀୟ ସମ୍ରାଟ ହର୍ଷବର୍ଦ୍ଧନଙ୍କ ଜୀବନୀ ହର୍ଷଚରିତ, କାହା ଦ୍ୱାରା ଲେଖା ଯାଇଥିଲା?

- A) ତୁଳସିଦାସ
- B) ବାଣଭଟ୍ଟ
- C) କବୀର
- D) ଅବୁଲ ଫଜଲ୍

12) What is the Cartography?

- A) Study of River meandering and it's established pattern
- B) Art and science of making maps
- C) Computer program to assimilate and manage many layers of Soil strata
- D) Technology that acquires data about the earth's surface through aerial photographs

12) କାର୍ଟୋଗ୍ରାଫି କ'ଣ?

- A) ନଦୀ ଭ୍ରମଣର ଅଧ୍ୟୟନ ଏବଂ ଏହା ଦ୍ୱାରା ସ୍ଥାପିତ ତାତ୍ତ୍ୱ
- B) ମାନଚିତ୍ର ତିଆରି କରିବାର କଳା ଏବଂ ବିଜ୍ଞାନ
- C) ମୃତ୍ତିକାର ଅନେକ ସ୍ତରକୁ ଅନୁକରଣ କରିବା ଏବଂ ପରିଚାଳନା କରିବା ପାଇଁ କମ୍ପ୍ୟୁଟର ପ୍ରୋଗ୍ରାମ
- D) ଟେକ୍ନୋଲୋଜି ଯାହା ଏରିଆଲ୍ ଫଟୋଗ୍ରାଫି ମାଧ୍ୟମରେ ପୃଥିବୀ ପୃଷ୍ଠ ବିଷୟରେ ତଥ୍ୟ ହାସଲ କରେ

13) A bowl-shaped circular depression caused by the destruction of the peak of a volcano is known by which of the following term?

- A) Aquifer
- B) Isthmus
- C) Atoll
- D) Caldera

13) ଆଗ୍ନେୟଗିରିର ଶିଖର ଧ୍ବଂସ ହେତୁ ଏକ ପାତ୍ର ଆକୃତିର ବୃତ୍ତାକାର ଅବସାଦ ନିମ୍ନ ଶବ୍ଦ ମଧ୍ୟରୁ କେଉଁଟି ଦ୍ୱାରା ଜଣାଶୁଣା?

- A) ଆକ୍ୱିଫର
- B) ଇଷ୍ଟମସ୍
- C) ଅଟୋଲ୍
- D) କାଲଡେରା

14) Which of the following options is the CORRECT explanation of the word 'Sovereign' mentioned in the Preamble of the Indian Constitution?

- A) Every citizen in India is equal in the eyes of the state
- B) There is no state or official religion in India
- C) India has its own independent authority
- D) There is absence of a hereditary head of the state

14) ନିମ୍ନଲିଖିତ ମଧ୍ୟରୁ କେଉଁ ବିକଳ୍ପଟି ଭାରତୀୟ ସମ୍ବିଧାନର ପ୍ରସ୍ତାବନାରେ ଉଲ୍ଲେଖ କରାଯାଇଥିବା 'ସାର୍ବଭୌମତ୍ୱ' ଶବ୍ଦର ସଠିକ୍ ବ୍ୟାଖ୍ୟା ଅଟେ?

- A) ଭାରତର ପ୍ରତ୍ୟେକ ନାଗରିକ ରାଜ୍ୟ ଦୃଷ୍ଟିରେ ସମାନ
- B) ଭାରତରେ କୌଣସି ରାଜ୍ୟ କିମ୍ବା ସରକାରୀ ଧର୍ମ ନାହିଁ
- C) ଭାରତର ନିଜସ୍ୱ ସ୍ୱାଧୀନ କର୍ତ୍ତୃପକ୍ଷ ଅଛି
- D) ଦେଶର ବଂଶାନୁକ୍ରମିକ ମୁଖ୍ୟଙ୍କ ଅନୁପସ୍ଥିତି ରହିଛି

15) Who has the authority to regulate the rights of citizenship by law under Article 11 of the Indian Constitution?

- A) The Supreme Court
- B) The Prime Minister
- C) The President
- D) The Parliament

15) ଭାରତୀୟ ସମିଧାନର ଧାରା 11 ଅନୁଯାୟୀ ନାଗରିକତ୍ୱର ଅଧିକାରକୁ ଆଇନ ଅନୁଯାୟୀ ନିୟନ୍ତ୍ରଣ କରିବାର ଅଧିକାର କାହାର ଅଛି?

- A) ସୁପ୍ରିମକୋର୍ଟ
- B) ପ୍ରଧାନମନ୍ତ୍ରୀ
- C) ରାଷ୍ଟ୍ରପତି
- D) ସଂସଦ





Section 2 - Paper I Reasoning Ability

No. of Questions: 10

16) The average marks of 25 students in physics is 20 whereas the average marks of first 12 students was 16 and that of last 12 students was 24. What was the marks scored by the 13<sup>th</sup> student?

- A) 16
- B) 18
- C) 20
- D) 22

16) 25 ଜଣ ଛାତ୍ରଛାତ୍ରୀଙ୍କର ପଦାର୍ଥ ବିଜ୍ଞାନରେ ହାରାହାରି ନମ୍ବର 20 ରହିଛି ଯେତେବେଳେ କି ପ୍ରଥମ 12 ଜଣ ଛାତ୍ରଛାତ୍ରୀଙ୍କର ହାରାହାରି ନମ୍ବର 16 ଏବଂ ଶେଷ 12 ଜଣ ଛାତ୍ରଛାତ୍ରୀଙ୍କର ହାରାହାରି ନମ୍ବର 24 ରହିଥିଲା। ତେବେ 13ତମ ଛାତ୍ର ରଖୁଥିବା ନମ୍ବର କେତେ ଥିଲା?

- A) 16
- B) 18
- C) 20
- D) 22

17) The average height of A, B, C and D is 58 inches and that of B, C, D and E is 60 inches. If the ratio of heights of A and E is at 7:8, what would be the height of E?

- A) 64 inches
- B) 62 inches
- C) 56 inches
- D) 48 inches

17) A, B, C ଏବଂ D ଙ୍କର ହାରାହାରି ଉଚ୍ଚତା ହେଉଛି 58 ଇଞ୍ଚ ଓ B, C, D ଏବଂ E ଙ୍କର ହାରାହାରି ଉଚ୍ଚତା ହେଉଛି 60 ଇଞ୍ଚ। ଯଦି A ଏବଂ E ଙ୍କର ଉଚ୍ଚତାର ଅନୁପାତ ହେଉଛି 7:8, ତେବେ E ଙ୍କର ଉଚ୍ଚତା କେତେ ହେବ?

- A) 64 ଇଞ୍ଚ
- B) 62 ଇଞ୍ଚ
- C) 56 ଇଞ୍ଚ
- D) 48 ଇଞ୍ଚ

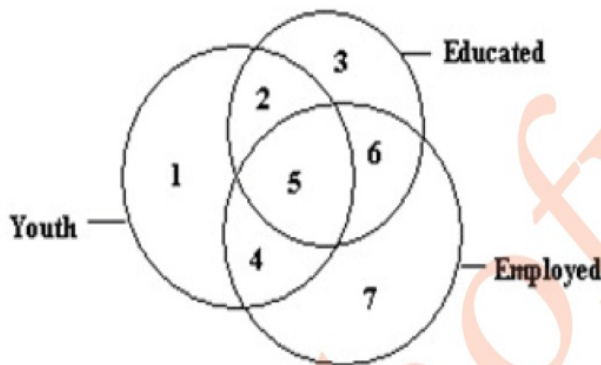
18) A telephone operator of a clinic on an average receives 90 calls on Sundays and 60 calls on the other days. What would be the average number of calls in a month of 30 days if the month commences with a Monday?

- A) 52
- B) 56
- C) 60
- D) 64

18) ଗୋଟିଏ କ୍ଲିନିକ୍ ର ଟେଲିଫୋନ୍ ଅପରେଟର ହାରାହାରି ରବିବାର ଦିନ 90ଟି କଲ୍ ଏବଂ ଅନ୍ୟ ଦିନରେ 60ଟି କଲ୍ ପାଇଥାନ୍ତି। ଡେବେ ସୋମବାର ଦିନ ଆରମ୍ଭ ହେଉଥିବା ଏକ 30 ଦିନିଆ ମାସର ହାରାହାରି କଲ୍ ସଂଖ୍ୟା କେତେ ହୋଇଥିବ?

- A) 52
- B) 56
- C) 60
- D) 64

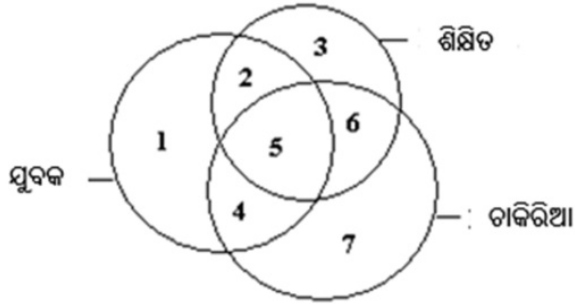
19) Study the diagram carefully and answer the question:



Which numbered region in the diagram represents the youth who are educated as well as employed?

- A) 3
- B) 4
- C) 5
- D) 6

19) ଚିତ୍ରଟିକୁ ଧ୍ୟାନପୂର୍ବକ ଅଧ୍ୟୟନ କରନ୍ତୁ ଏବଂ ନିମ୍ନରେ ଦିଆଯାଇଥିବା ପ୍ରଶ୍ନର ଉତ୍ତର ଦିଅନ୍ତୁ :

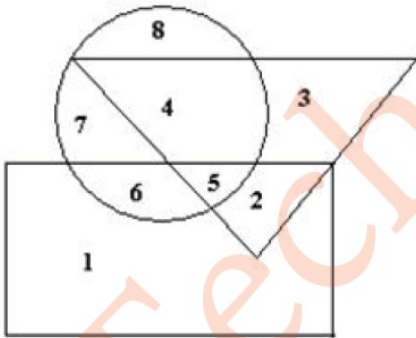


ଚିତ୍ରରେ କେଉଁ ସଂଖ୍ୟାଯୁକ୍ତ ଅଞ୍ଚଳ ଶିକ୍ଷିତ ଚଥା ଚାକିରୀ କରୁଥିବା ଯୁବକମାନଙ୍କୁ ପ୍ରତିନିଧିତ୍ୱ କରେ?

- A) 3
- B) 4
- C) 5
- D) 6

20) Study the diagram carefully and answer the question:

Here in this diagram the triangle represents doctors. The circle represents players. The rectangle represents artists.

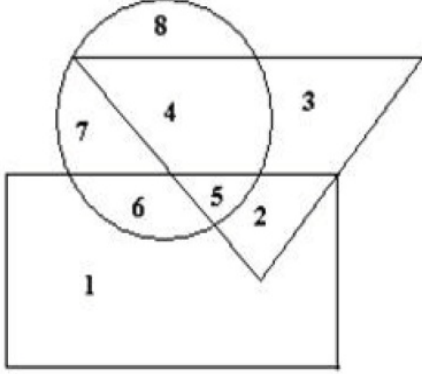


Which number represents doctors who are neither players nor artists?

- A) 2
- B) 3
- C) 4
- D) 5

20) ନିମ୍ନରେ ଦିଆଯାଇଥିବା ଚିତ୍ରକୁ ଅଧ୍ୟୟନ କରନ୍ତୁ ଏବଂ ପ୍ରଶ୍ନର ଉତ୍ତର ଦିଅନ୍ତୁ :

ଏହି ଚିତ୍ରରେ ତ୍ରିଭୁଜ ଡାଇରମାନଙ୍କୁ ଉପସ୍ଥାପିତ କରୁଛି। ବୃତ୍ତ ଖେଳାଳିମାନଙ୍କୁ ଉପସ୍ଥାପିତ କରୁଛି। ଆୟତକ୍ଷେତ୍ର କଳାକାରମାନଙ୍କୁ ଉପସ୍ଥାପିତ କରୁଛି।



କେଉଁ ସଂଖ୍ୟାଟି ସେହି ଡାଇରମାନଙ୍କୁ ସୂଚିତ କରୁଛି ଯେଉଁମାନେ କି ଖେଳାଳି ନୁହଁନ୍ତି କିମ୍ବା କଳାକାର ନୁହଁନ୍ତି ?

- A) 2
- B) 3
- C) 4
- D) 5

21) What is the next term of the series given below?

4, 9, 16, 25, .....

- A) 28
- B) 36
- C) 40
- D) 49

21) ନିମ୍ନରେ ଦିଆଯାଇଥିବା ସିରିଜ୍ ର ପରବର୍ତ୍ତୀ ପଦ କ'ଣ ହେବ?

4, 9, 16, 25, .....

- A) 28
- B) 36
- C) 40
- D) 49

22) What is the next term in the following series:

-1, 35, 143, 323, \_\_\_\_.

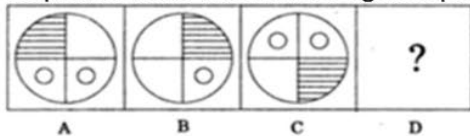
- A) 667
- B) 575
- C) 483
- D) 625

22) ନିମ୍ନଲିଖିତ ସିରିଜ୍ ର ପରବର୍ତ୍ତୀ ପଦ କ'ଣ ହେବ ?

-1, 35, 143, 323, \_\_\_\_.

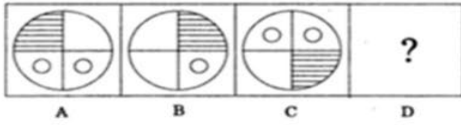
- A) 667
- B) 575
- C) 483
- D) 625

23) Three figures that follow a certain sequence or pattern are given. Find the next figure 'D' in the sequence from the answer figures provided below.



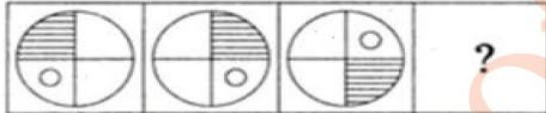
- A)
- B)
- C)
- D)

23) ଡିନୋଟି ଚିତ୍ର ଏକ ନିର୍ଦ୍ଦିଷ୍ଟ କ୍ରମ ବା ଶୈଳୀ ଅନୁସରଣ କରନ୍ତି। ନିମ୍ନରେ ଦିଆଯାଇଥିବା ଉତ୍ତର ଚିତ୍ରଗୁଡ଼ିକ ମଧ୍ୟରୁ କ୍ରମରେ ପରବର୍ତ୍ତୀ ଚିତ୍ର 'D' କୁ ବାଛନ୍ତୁ।



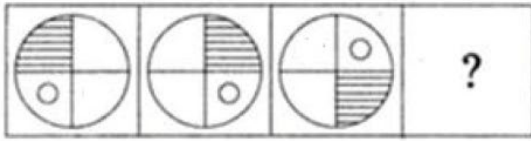
- A)
- B)
- C)
- D)

24) Which is the next figure in the series given below?



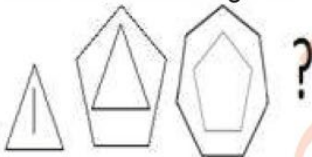
- A)
- B)
- C)
- D)

24) ନିମ୍ନରେ ଦିଆଯାଇଥିବା ସିରିଜ୍ ପାଇଁ ପରବର୍ତ୍ତୀ ଚିତ୍ର କେଉଁଟି ହେବ?

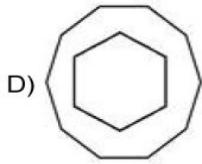
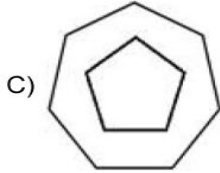
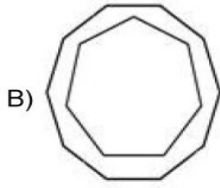


- A)
- B)
- C)
- D)

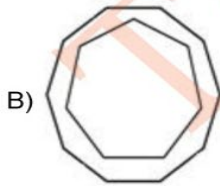
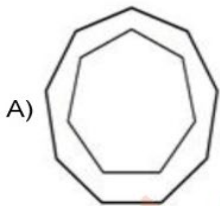
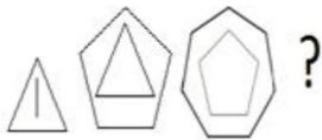
25) Which is the next figure in the series given below?



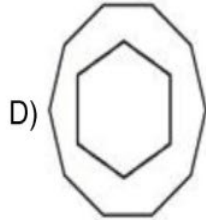
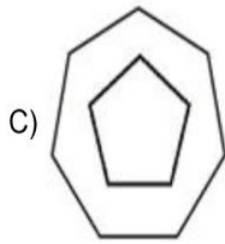
- A)



25) ନିମ୍ନରେ ଦିଆଯାଇଥିବା ସିରିଜ୍ ପାଇଁ ପରବର୍ତ୍ତୀ ଚିତ୍ର କେଉଁଟି ହେବ?







TOW



Section 3 - Paper I Computer Literacy

No. of Questions: 10

26) Which of the following option eases the process of formatting the text if the same formatting has to be applied at various places in a word document?

- A) Paragraph dialog box
- B) Font dialog box
- C) Format Painter
- D) Style dialog box

26) ଯଦି ଏକ WORD ଡକ୍ୟୁମେଣ୍ଟରେ ବିଭିନ୍ନ ସ୍ଥାନରେ ସମାନ formatting ପ୍ରୟୋଗ କରିବାକୁ ପଡ଼ିବ, ନିମ୍ନଲିଖିତ ମଧ୍ୟରୁ କେଉଁ ବିକଳ୍ପ ଖାର୍ଜ୍ ଫର୍ମାଟ୍ କରିବାର ପ୍ରକ୍ରିୟାକୁ ସହଜ କରିଥାଏ?

- A) Paragraph ଡାଇଲଗ୍ ବକ୍ସ
- B) Font ଡାଇଲଗ୍ ବକ୍ସ
- C) Format Painter
- D) Style ଡାଇଲଗ୍ ବକ୍ସ

27) Which tab will help you in applying a Theme to all the existing slides in MS-PowerPoint 2013 ?

- A) Home
- B) Format
- C) Design
- D) Review

27) କେଉଁ ଟ୍ୟାବ୍ ତୁମକୁ MS-PowerPoint 2013 ରେ ସମସ୍ତ ବିଦ୍ୟମାନ ସ୍ଲାଇଡ୍‌ରେ ଏକ Theme ପ୍ରୟୋଗ କରିବାରେ ସାହାଯ୍ୟ କରିବ?

- A) Home
- B) Format
- C) Design
- D) Review

28) What is named as gigabyte?

- A) 1024 bytes
- B) 512 GB
- C) 1024 megabytes
- D) 1024 bits

28) ଗିଗାବାଇଟ୍ ଭାବରେ କଣ ନାମିତ ହୋଇଛି?

- A) 1024 ବାଇଟ୍
- B) 512 ଡିବି
- C) 1024 ମେଗାବାଇଟ୍
- D) 1024 ବିଟ୍

29) How many pins exists in an adaptor for a Parallel port?

- A) 20
- B) 25
- C) 30
- D) 40

29) ପାରାଲଲ୍ ପୋର୍ଟ ପାଇଁ ଏକ ଆଡାପ୍ଟର ରେ କେତୋଟି ପିନ୍ ଥାଏ?

- A) 20
- B) 25
- C) 30
- D) 40

30) The Largest Storage Unit among the following are

- A) Terabyte
- B) Kilobyte
- C) Megabyte
- D) Gigabyte

30) ନିମ୍ନଲିଖିତ ମଧ୍ୟରେ ସର୍ବବୃହତ୍ ଷ୍ଟୋରେଜ୍ ୟୁନିଟ୍ ହେଉଛି

- A) Terabyte
- B) Kilobyte
- C) Megabyte
- D) Gigabyte



31) Which among the following is a freeware video-editing software from the Microsoft Windows essential suite?

- A) Windows Movie Maker
  - B) Microsoft Movie Maker
  - C) Windows Media Maker
  - D) Microsoft Media Maker
- 

31) ନିମ୍ନଲିଖିତ ମଧ୍ୟରୁ କେଉଁଟି Microsoft Windows essential suite ରୁ ଏକ ଫ୍ରିୱେୟାର୍ ଭିଡିଓ-ଏଡିଟିଂ ସଫ୍ଟୱେୟାର୍ ଅଟେ?

- A) Windows Movie Maker
  - B) Microsoft Movie Maker
  - C) Windows Media Maker
  - D) Microsoft Media Maker
- 

32) **ROM stands for:**

- A) Rewrite only memory
  - B) Read only memory
  - C) Retrieve only memory
  - D) ReadWrite Only Memory
- 

32) **ROM** ର ଫୁଲଫର୍ମ୍ କଣ:

- A) Rewrite only memory
  - B) Read only memory
  - C) Retrieve only memory
  - D) ReadWrite Only Memory
- 

33) Which among the following is a special initiative to address the needs of the educated unemployed in Jammu & Kashmir (J&K), that focuses on youth of the state, who are graduate, post graduate and three year diploma engineers.

- A) UMANG
  - B) UDAAN
  - C) DIKSHYA
  - D) SIKSHYA
- 



33) ନିମ୍ନଲିଖିତ ମଧ୍ୟରୁ ଜାଣୁ କାଶ୍ମୀର (ଜେ ଆଣ୍ଡ କେ)ରେ ଶିକ୍ଷିତ ବେକାରଙ୍କ ଆବଶ୍ୟକତାକୁ ସମାଧାନ କରିବା ପାଇଁ ଏକ ସ୍ୱତନ୍ତ୍ର ପଦକ୍ଷେପ, ଯାହା ସ୍ନାତକ, ସ୍ନାତକୋତ୍ତର ଏବଂ ତିନି ବର୍ଷର ଡିପ୍ଲୋମା ଇଞ୍ଜିନିୟର ଥିବା ରାଜ୍ୟର ଯୁବକମାନଙ୍କ ଉପରେ ଧ୍ୟାନ ଦେଇଥାଏ ।

- A) UMANG
- B) UDAAN
- C) DIKSHYA
- D) SIKSHYA

34) Which of the following is a correct format of an email address?

- A) name@domain.com
- B) name@domain@com
- C) name.domain.com
- D) name.domain@com

34) ନିମ୍ନଲିଖିତ ମଧ୍ୟରୁ କେଉଁଟି ଏକ ଇମେଲ ଠିକଣାର ସଠିକ ଫର୍ମାଟ ଅଟେ?

- A) name@domain.com
- B) name@domain@com
- C) name.domain.com
- D) name.domain@com

35) Which is the correct option that represents a form of interactive media by which users can communicate with each other through posts, content, photos, and videos?

- A) Social Media
- B) Print Media
- C) Interactive Media
- D) Digital Media

35) କେଉଁଟି ସଠିକ୍ ବିକଳ୍ପ ଯାହା ଇଣ୍ଟରାକ୍ଟିଭ ମିଡିଆର ଏକ ରୂପକୁ ପ୍ରତିନିଧିତ୍ୱ କରେ ଯାହା ଦ୍ୱାରା ଉପଭୋକ୍ତାମାନେ ପୋଷ୍ଟ, ବିଷୟବସ୍ତୁ, ଫଟୋ, ଏବଂ ଭିଡିଓ ମାଧ୍ୟମରେ ପରସ୍ପର ସହିତ ଯୋଗାଯୋଗ କରିପାରିବେ?

- A) ସାମାଜିକ ଗଣମାଧ୍ୟମ
- B) ପ୍ରିଣ୍ଟ ମିଡିଆ
- C) ଇଣ୍ଟରାକ୍ଟିଭ ମିଡିଆ
- D) ଡିଜିଟାଲ୍ ମିଡିଆ

Section 4 - Paper I Pedagogy and Evaluation

No. of Questions: 15

36) Scaffolding was developed by

- A) Vygotsky
- B) Carl Rogers
- C) Piaget
- D) Pavlov

36) ସ୍କାଫୋଲ୍ଡିଂ କାହା ଦ୍ୱାରା ବିକଶିତ ହୋଇଥିଲା?

- A) ୱାଲଟର ପିଆଜେଟ୍
- B) କାର୍ଲ ରୋଜର୍ସ
- C) ପିଆଜେଟ୍
- D) ପାଭଲୋଭ

37) Adjustment to a new environment is known as

- A) assimilation
- B) accommodation
- C) adaptation
- D) acquisition

37) ଏକ ନୂତନ ପରିବେଶ ସହିତ ସମନ୍ୱୟ ନିମ୍ନଲିଖିତ ଭାବରେ ଜଣାଶୁଣା

- A) ନିଜସ୍ୱୀକରଣ
- B) ଉପଯୋଜନ
- C) ଆନୁକୂଲ୍ୟ
- D) ଅଧିଗ୍ରହଣ

38) Problem solving engages learners in

- A) investigations
- B) failures
- C) disappointments
- D) irritation

38) ସମସ୍ୟା ସମାଧାନ ଶିକ୍ଷାର୍ଥୀମାନଙ୍କୁ କେଉଁଥିରେ ଜଡ଼ିତ କରେ?

- A) ଅନୁସନ୍ଧାନ
- B) ବିଫଳତା
- C) ନିରାଶା
- D) ବିରକ୍ତି

39) Assessments that are constructed by an individual teacher or a group of teachers in order to measure the outcome of classroom instruction are known as

- A) Standardized tests are conducted
- B) Achievement test
- C) Teacher-made test
- D) Self-evaluation test

39) ଶ୍ରେଣୀଗୃହର ଶିକ୍ଷାର ଫଳାଫଳ ମାପିବା ପାଇଁ ଏକ ବ୍ୟକ୍ତିଗତ ଶିକ୍ଷକ କିମ୍ବା ଶିକ୍ଷକଙ୍କ ଗୋଷ୍ଠୀ ଦ୍ୱାରା ନିର୍ମିତ ନିର୍ଦ୍ଧାରଣଗୁଡ଼ିକ ନିମ୍ନଲିଖିତ ଭାବରେ ଜଣାଶୁଣା

- A) ମାନକ ପରୀକ୍ଷା କରାଯାଏ
- B) ଉପଲବ୍ଧି ପରୀକ୍ଷା
- C) ଶିକ୍ଷକ ଦ୍ୱାରା ପ୍ରସ୍ତୁତ ପରୀକ୍ଷା
- D) ଆତ୍ମ-ନିର୍ଦ୍ଧାରଣ ପରୀକ୍ଷା

40) One of the disadvantages of self-assessment is

- A) Very demanding for the teacher
- B) Doesn't allow for diagnosis
- C) Increases student effort
- D) Discourages learning

40) ଆତ୍ମ-ନିର୍ଦ୍ଧାରଣର ଏହା ଏକ ଅସୁବିଧା ଅଟେ -

- A) ଶିକ୍ଷକଙ୍କ ପାଇଁ ବହୁତ ଚାହିଦା
- B) ନିରାକରଣ ପାଇଁ ଅନୁମତି ଦିଏ ନାହିଁ
- C) ଛାତ୍ରମାନଙ୍କ ଉଦ୍ୟମକୁ ବୃଦ୍ଧି କରେ
- D) ଶିକ୍ଷଣକୁ ନିରୁତ୍ସାହିତ କରେ

41) Which of the following process starts from the very beginning of designing instruction and continues till the end of the course/instruction?

- A) Summative Assesment
- B) Placement evaluation
- C) Diagnostic evaluation
- D) Formative Assesment

41) ନିମ୍ନଲିଖିତ ପ୍ରକ୍ରିୟା ମଧ୍ୟରୁ କେଉଁଟି ଡିଜାଇନ୍ ନିର୍ଦ୍ଦେଶନାମା ଆରମ୍ଭ ହେବା ଠାରୁ ଆରମ୍ଭ ହୁଏ ଏବଂ ପାଠ୍ୟକ୍ରମ / ନିର୍ଦ୍ଦେଶର ଶେଷ ପର୍ଯ୍ୟନ୍ତ ଚାଲେ?

- A) ସମାପ୍ତି ସୂଚକ ନିର୍ଦ୍ଧାରଣ
- B) ବ୍ୟବସ୍ଥାନ ମୂଲ୍ୟାୟନ
- C) ନୈବାନିକ ମୂଲ୍ୟାୟନ
- D) ଗଠନମୂଳକ ନିର୍ଦ୍ଧାରଣ

42) Which of the following is the ODD man out?

- A) Portfolio Review
- B) State assessments
- C) End-of-unit or chapter tests
- D) Homework

42) ନିମ୍ନଲିଖିତ ମଧ୍ୟରୁ କେଉଁଟି ଅନ୍ୟ ମାନକଠାରୁ ଅଲଗା ଅଟେ?

- A) ପୋର୍ଟଫୋଲିଓ ସମୀକ୍ଷା
- B) ସ୍ୱେଚ୍ଛା ନିର୍ଦ୍ଧାରଣ
- C) ଶେଷ-ୟୁନିଟ୍ କିମ୍ବା ଅଧ୍ୟାୟ ପରୀକ୍ଷା
- D) ଗୃହକାର୍ଯ୍ୟ

43) Find the ODD man out

- A) Brainstorming
- B) Cooperative Learning
- C) Inquiry Approach
- D) Discussion Method



43) ଭିନ ବିକଳଗତିକୁ ବାଛନ୍ତୁ।

- A) ମାନସ ମନ୍ତନ
- B) ସହଯୋଗ ଭିତ୍ତିକ ଶିକ୍ଷଣ
- C) ଅନୁସନ୍ଧାନ ଉପଗମ
- D) ଆଲୋଚନା ପଦ୍ଧତି

44) Out of the following, which one is included in Henry Murray's Theory of Motivation?

- A) Achievement Needs
- B) Psychogenic Needs
- C) Self-Actualization Needs:
- D) Aesthetic Needs

44) ନିମ୍ନଲିଖିତ ମଧ୍ୟରୁ କେଉଁଟି ହେନେରୀ ମୁରେଙ୍କ ଅଭିପ୍ରେରଣର ସିଦ୍ଧାନ୍ତ (ଥ୍ଓରି ଅଫ୍ ମୋଟିଭେସନ୍) ରେ ଅନ୍ତର୍ଭୁକ୍ତ ?

- A) ଉପଲବ୍ଧିର ଆବଶ୍ୟକତା
- B) ମନୋଜାତ ଆବଶ୍ୟକତା
- C) ଆତ୍ମ-ବାସ୍ତବିକକରଣ ଆବଶ୍ୟକତା
- D) ସୌନ୍ଦର୍ଯ୍ୟ ରୁଚି ସମ୍ପନ୍ନ ଆବଶ୍ୟକତା

45) Which of the following did Vygotsky's propose?

- A) Relationship between Language and thought
- B) Relationship between language and speech
- C) Relationship between thought and speech
- D) Relationship between language and learning

45) ନିମ୍ନଲିଖିତ ମଧ୍ୟରୁ କେଉଁଟି ସାଲଗୋଟସ୍କିଙ୍କ ପ୍ରସ୍ତାବ ଥିଲା?

- A) ଭାଷା ଏବଂ ଚିନ୍ତା ମଧ୍ୟରେ ସମ୍ପର୍କ
- B) ଭାଷା ଏବଂ ବକ୍ତବ୍ୟ ମଧ୍ୟରେ ସମ୍ପର୍କ
- C) ଚିନ୍ତା ଏବଂ ବକ୍ତବ୍ୟ ମଧ୍ୟରେ ସମ୍ପର୍କ
- D) ଭାଷା ଏବଂ ଶିକ୍ଷଣ ମଧ୍ୟରେ ସମ୍ପର୍କ

46) Which of the following is a fundamental component in formative assessment?

- A) Perspective
- B) Propoganda
- C) Sample set
- D) Feedback

46) ନିମ୍ନଲିଖିତ ମଧ୍ୟରୁ କେଉଁଟି ଗଠନମୂଳକ ମୂଲ୍ୟାୟନର ଏକ ମୌଳିକ ଉପାଦାନ?

- A) ଦୃଷ୍ଟିକୋଣ
- B) ମତ ପ୍ରଚାର
- C) ନମୁନା ସେଟ୍
- D) ପ୍ରତିପୁଷ୍ଟି

47) Which of the following type of questions require cognitive skills and knowledge?

- A) Higher Order Thinking Skills (HOTS)
- B) Objective type
- C) Dictation type
- D) Read and Repeat

47) ନିମ୍ନଲିଖିତ ବିଭିନ୍ନ ପ୍ରକାରର ପ୍ରଶ୍ନଗୁଡ଼ିକ ମଧ୍ୟରୁ କେଉଁଟି ବୌଦ୍ଧିକ କୌଶଳ ଏବଂ ଜ୍ଞାନ ଆବଶ୍ୟକ କରେ?

- A) ଉଚ୍ଚକୋଟି ଚିନ୍ତନ କୌଶଳ (HOTS)
- B) ବସ୍ତୁନିଷ୍ଠ ପ୍ରକାର
- C) ଶୁଭଲିଖନ ପ୍ରକାର
- D) ପଢ଼ ଏବଂ ପୁନରାବୃତ୍ତି କର

48) Studnets from several races, cultures and linguistic background in a classroom constitute

- A) Classroom diversity
- B) Heterogeniety
- C) Multi-disciplinary
- D) Spontaneous

48) ଏକ ଶ୍ରେଣୀଗୃହରେ ବିଭିନ୍ନ ଜାତି, ସଂସ୍କୃତି ଏବଂ ଭାଷାଭିତ୍ତିକ ପୃଷ୍ଠଭୂମି କ'ଣ ଗଠନ କରେ?

- A) ଶ୍ରେଣୀଗୃହର ବିବିଧତା
- B) ବିଭିନ୍ନ ଜାତୀୟତା
- C) ଏକାଧିକ-ଅନୁଶାସନ
- D) ସ୍ୱତଃସ୍ପୃତ

49) Which of the following is a serious problem that can affect the learning and emotional growth amongst children?

- A) Co-curricular activities
- B) Class Debates
- C) Bullying
- D) Using props

49) ନିମ୍ନଲିଖିତ ମଧ୍ୟରୁ କେଉଁଟି ଏକ ଗୁରୁତ୍ୱପୂର୍ଣ୍ଣ ସମସ୍ୟା ଯାହା ପିଲାମାନଙ୍କ ମଧ୍ୟରେ ଶିକ୍ଷଣ ଏବଂ ଭାବପ୍ରବଣତା ଉପରେ ପ୍ରଭାବ ପକାଇପାରେ?

- A) ସହ-ପାଠ୍ୟକ୍ରମ କାର୍ଯ୍ୟକଳାପ
- B) ଶ୍ରେଣୀ ବିତର୍କ
- C) ନିଜ ବଳ ପ୍ରୟୋଗ କରି ଅନ୍ୟକୁ ଡରାଇବା (ବୁଲିଂଗ)
- D) ତଦନ୍ତର ବ୍ୟବହାର କରିବା

50) All true learning is based on

- A) competition
- B) purpose
- C) grades
- D) school

50) ସମସ୍ତ ପ୍ରକୃତ ଶିକ୍ଷଣ କାହା ଉପରେ ଆଧାରିତ?

- A) ପ୍ରତିଯୋଗିତା
- B) ଉଦ୍ଦେଶ୍ୟ
- C) ଗ୍ରେଡ୍
- D) ବିଦ୍ୟାଳୟ

## Section 5 - Paper II Sanskrit

No. of Questions: 100

अस्ति मगधदेशे चम्पकवती नामा अरण्यानी तस्यां, चिरात् महता स्नेहेन मृगकाकौ निवसतः। स च मृगः स्वेच्छया भ्राम्यन् हृष्टपुष्टाङ्गः केनचित् शृगालेन अवलोकितः। तं दृष्ट्वा शृगालः अचिन्तयत्- आः कथं एतत् मासं सुललितं भक्षयामि? भवतु, विश्वासं तावत् उत्पादयामि। इति आलोच्य उपसृत्य अव्रवीत् - मित्र! कुशलं ते? मृगेण उक्तम्- कः त्वम्? स ब्रूते क्षुद्रबुद्धिनामा जम्बुकः अहम्। अत्र अरण्ये बन्धुहीनः मृतवत् निवसामि। इदानीं त्वां मित्रं आसाद्य पुनः सुबन्धुः जीवलोकं प्रविष्ट अस्मि। अधुना तव अनुचरेण मया सर्वथा भवितव्यम्। मृगेण उक्तम्- "एवमस्तु"। ततः पश्चात् अस्तंगते सवितरि भगवति मरीचिमालिनि तौ मृगस्य वासभूमिं गतौ। तत्र चम्पकवृक्षशाखायां सुबुद्धिनामा काको मृगस्य चिरमित्रं निवसति। तौ दृष्ट्वा काकः अवदत्- "सखे चित्राङ्ग। कः अयं द्वितीयः? मृगः ब्रूते- "जम्बुकः अयम्। अस्मात् सख्यं इच्छन् आगतः।" काकः ब्रूते- "मित्र! अकस्मात् आगन्तुना सह मैत्री न युक्ता।

(Q.No. 51 to 58)

मगधदेशे स्थितायाः अरण्यान्याः नाम किम् अस्ति।

51)

- A) चम्पकवती
- B) अरण्यवती
- C) उज्जयिनी
- D) काशी

हृष्टपुष्टाङ्गः कः आसीत्।

52)

- A) काकः
  - B) मृगः
  - C) शृगालः
  - D) एतेषु कोऽपि नास्ति
- 

“कः त्वम्” इति केन कथितम्?

53)

- A) शृगालेन
  - B) मृगेण
  - C) काकेन
  - D) एतेषु कोऽपि नास्ति
- 

सखे चित्राङ्ग! कः अयं द्वितीयः इति केन उक्तम्

54)

- A) काकेन
- B) शृगालेन
- C) मृगेण
- D) एतेषु कोऽपि नास्ति

55) सवितरि रूपं कुत्र भवति

- A) चतुर्थी विभक्तौ
  - B) पञ्चमी विभक्तौ
  - C) षष्ठी विभक्तौ
  - D) सप्तमी विभक्तौ
- 

56) महता शब्दे विभक्तिः अस्ति

- A) चतुर्थी
  - B) पञ्चमी
  - C) तृतीया
  - D) एतेषु कोऽपि नास्ति
- 

57) अब्रवीत् अस्ति

- A) ब्रूञ् धातोः लङ् लकारस्य प्रथम पुरुषस्य एकवचनस्य
- B) ब्रूञ् धातोः लङ् लकारस्य मध्यमपुरुषस्य एकवचनस्य
- C) ब्रूञ् धातोः लङ् लकारस्य उत्तमपुरुषस्य एकवचनस्य
- D) एतेषु कोऽपि नास्ति ।

आगतः इत्यस्य शुद्धं अस्ति

58)

- A) आङ् + गतः
- B) आङ्+गम् +क्त
- C) आङ् + गम्+त
- D) एतेषु कोऽपि नास्ति

---

कश्चित् कान्ताविरहगुरुणा स्वाधिकारात् प्रमत्तः ।

शापेनास्तंगमितमहिमा वर्षभोग्येण भर्तुः ॥

यक्षश्चक्रे जनकतनयास्नानपुण्योदकेषु,

स्निग्धच्छायातरुषु वसतिं रामगिर्याश्रमेषु ॥

(Q.No.: 59 to 66)

---

कान्ताविरहगुरुणा स्वाधिकारात् प्रमत्तः कः आसीत् ।

59)

- A) कश्चित्
- B) यक्षः
- C) कुबेरः
- D) एतेषु कोऽपि नास्ति

60) यक्षः किम् चक्रे ।

- A) क्रियाम्
  - B) महिमाम्
  - C) वसतिम्
  - D) एतेषु कोऽपि नास्ति
- 

61) स्नानपुण्योदकेषु इत्यस्य शुद्धः आशयः अस्ति ।

- A) स्नानपुण्यवस्त्रेषु,
  - B) स्नानपुण्य पदार्थेषु
  - C) स्नानपुण्य भोजनेषु
  - D) एतेषु कोऽपि नास्ति ।
- 

62) जनकतनया का आसीत्

- A) शकुन्तला
- B) द्रौपदी
- C) सीता
- D) एतेषु कोऽपि नास्ति



चक्रे इति पदं भवति ।  
63)

- A) लिट् लकारे
  - B) लोट् लकारे
  - C) लङ् लकारे
  - D) एतेषु कोऽपि नास्ति ।
- 

कश्चित् पदस्य शुद्धः सन्धिविच्छेदः अस्ति  
64)

- A) कः + चित्
  - B) कष् + चित्
  - C) कश् + चित्
  - D) एतेषु कोऽपि नास्ति
- 

स्वाधिकारात् इत्यस्य शुद्धं  
सन्धिविच्छेदः अस्ति ।  
65)

- A) स्वा+धिकारात्
- B) स्व+धिकारात्
- C) स्वा+अधिकारात्
- D) स्व+  
अधिकारात्

भर्तुः पदे विभक्तिः अस्ति ।

66)

- A) तृतीया
- B) चतुर्थी
- C) षष्ठी
- D) एतेषु कोऽपि नास्ति ।

67) प्रथमं भाषाकौशलं भवति –

- A) श्रवणम्
- B) लेखनम्
- C) पठनम्
- D) भाषणम्

68) माध्यमिक शिक्षायोगस्य अपरं नाम वर्तते

- A) मुदालियरायोगः कौशलम्
- B) दीर्घायोगः
- C) संवेदनयोगः
- D) आंग्लभाषा योगः

संस्कृतशिक्षणे मौखिकाभिव्यक्तेः साधनमस्ति –  
69)

- A) वाद—विवादः
  - B) कथावाचनम्
  - C) कविता पाठः
  - D) सर्वे
- 

त्रिभाषा सूत्रे संस्कृतस्य स्थानं अस्ति –  
70)

- A) अनिवार्यम्
  - B) आवश्यकम्
  - C) किमपि नास्ति
  - D) वैकल्पिकम्
- 

छात्रैः न क्रियते ?  
सामान्यम्  
71)

- A) आदर्शवाचनम्
- B) अनुकरण— वाचनम्
- C) मौनवाचनम्
- D) सामूहिक— वाचनम्

72) संस्कृतशिक्षणोपयोगी सिद्धान्तं वर्तते –

- A) रुचेः सिद्धान्तम्
- B) क्रियाशीलतायाः सिद्धान्तम्
- C) स्वाभाविकतायाः सिद्धान्तम्
- D) उपर्युक्तं सर्वम्

73) ब्लूममहोदयः सम्पूर्णानि शैक्षिकोद्देश्यानि कतिभागेषु विभाजितवान्

- A) त्रिषु भागेषु
- B) पञ्चभागेषु
- C) षड्भागेषु
- D) एतेषु कोऽपि नास्ति

74) संस्कृत शिक्षणस्य प्रमुखमुद्देश्यमस्ति –

- A) ज्ञानात्मकम्
- B) सृजनात्मकम्
- C) रचनात्मकम्
- D) उपर्युक्तं सर्वम्

75) भाषाकौशलेषु कठिनतमं कौशलं वर्तते –

- A) श्रवणम्
- B) पठनम्
- C) लेखनम्
- D) भाषणम्

76) भाषाकौशलानि सन्ति–

- A) सप्त
- B) षट्
- C) पञ्च
- D) चत्वारि

77) अद्यतनशिक्षायाः प्रमुखमुद्देश्यमस्ति –

- A) सामाजिक नागरिकतायाः विकासः
- B) दण्डदानम्
- C) व्यक्तिविकासः
- D) भाषाकौशलस्य विकासः

78) माध्यमिक – कक्षायां भाषा शिक्षणे अत्यन्तं प्राधान्यम् अस्ति –

- A) अर्थकाठिन्यस्य
- B) तत्वालोचनस्य
- C) भाषाज्ञानं भावनिर्माण- सामर्थ्यस्य च
- D) जीवनस्य जटिलतायाः ज्ञानस्य

79) संस्कृतलेखनस्य प्रधानपक्षः वर्तते –

- A) सुलेखः
- B) पाठ्यवस्तु
- C) भाषा
- D) एते सर्वे

80) छात्राः अधिकज्ञानं समुपार्जयन्ति –

- A) पठनेन
- B) लेखनेन
- C) श्रवणेन
- D) भाषणेन

81) भाषाशिक्षणस्य केन्द्रमस्ति –

- A) विद्यालयः
- B) अभिभावकः
- C) अध्यापकः
- D) छात्रः

82) शिक्षकप्रशिक्षणं अत्यधिकं महत्त्वं वर्तते –

- A) शिक्षण कौशलस्य कृते
- B) अभ्यासस्य
- C) शिक्षकस्य
- D) छात्रस्य

83) नवीनशिक्षणपद्धत्यां व्याकरणशिक्षणस्य सर्वाधिकरूचिकरो विधिः मन्यते –

- A) पारायणम्
- B) सूत्रकण्ठस्थीकरणम्
- C) आगमननिगमनम्
- D) अर्थाय बोधनम्

आगमन निगमन विधिमाश्रित्य कस्य शिक्षणस्य पाठयोजना करणीया –  
84)

- A) गद्यशिक्षणस्य
  - B) पद्यशिक्षणस्य
  - C) अनुवादशिक्षणस्य
  - D) व्याकरणशिक्षणस्य
- 

85) प्रत्यक्षविधौ एतद् न क्रियते–

- A) व्याकरणस्य शिक्षणम्
  - B) पुस्तकस्य प्रयोगः
  - C) मातृभाषायाः प्रयोगः
  - D) दृश्य–श्रव्य संसाधनानां प्रयोगः
- 

कस्मिन् शिक्षण– सूत्रे आगमन विधेः (आरोह) प्रयोगः क्रियते ?  
86)

- A) पूर्णात् अंशं प्रति
- B) स्थूलात् सूक्ष्मं प्रति
- C) विश्लेषणात् संश्लेषणं प्रति
- D) विशिष्टात् सामान्यं प्रति



व्याकरणशिक्षणस्य यत् उद्देश्यं किम् वर्तते अस्ति –

87)

- A) लेखन- सौन्दर्यम्
- B) भाषा-दोषाणां ज्ञानम्
- C) श्रवणे दक्षत्वम्
- D) शब्द भण्डारस्य वृद्धिः

'दण्डान्वय विधौ' 'दण्डः कस्य सूचकः अस्ति

88)

- A) शब्दस्य
- B) अर्थस्य
- C) शदार्थयोः
- D) वाक्यस्य

बालकस्य अवस्था या नवजन्मनः कालः उच्यते, यस्यां आकस्मिक परिवर्तनानि भवन्ति, सा कथ्यते –

89)

- A) शैशवावस्था भाषाप्रशिक्षण
- B) किशोरावस्था
- C) बाल्यावस्था
- D) प्रौढावस्था



भाषाशिक्षणे बलहीनविद्यार्थिनां कृते का पद्धतिः उपयुक्ता ?

90)

- A) व्यक्तिगतशिक्षणम्
- B) समूहशिक्षणम्
- C) युग्मशिक्षणम्
- D) सर्वमपि उपयुक्तम्

“व्यवहार- कौशलम्” इत्यस्य गुणस्य ग्रहणम् कस्मात् विधेः भवति ?

91)

- A) पाठ्यपुस्तक विधिद्वारा
- B) व्याकरणानुवाद- विधिद्वारा
- C) पाठशाला- विधिद्वारा
- D) प्रत्यक्षविधिद्वारा

कस्मिन् स्तरे बालकानां विभिन्न वस्तूनां ज्ञानम् अनिश्चितं अस्पष्टं च भवति-

92)

- A) उच्चस्तरे
- B) माध्यमिकस्तरे
- C) उच्चमाध्यमिकयोः
- D) प्राथमिकस्तरे

पद्यस्य प्रमुखम् उद्देश्यं नास्ति –  
93)

- A) सौन्दर्यानुभूतिः
- B) रसानुभूति
- C) रूच्युत्पादनम्
- D) संस्कार शिक्षणम्

शिक्षकः “सरलविषयं पूर्वं पाठयति तत्पश्चात् कठिन विषयम्” इति विशेषता कस्य शिक्षणसूत्रस्य अस्ति ?  
94)

- A) सरलात् कठिनं प्रति
- B) विशिष्टात् सामान्यं प्रति
- C) स्थूलात् सूक्ष्मं प्रति
- D) पूर्णात् अंशं प्रति

व्याकरणशिक्षणस्य प्रधानोद्देश्यमस्ति –  
95)

- A) भाषादोषाणां ज्ञानम्
- B) शब्द-भण्डारस्य वृद्धिः
- C) निर्दुष्टभाषायाः प्रयोगस्य क्षमतोत्पादम्
- D) उपर्युक्तं सर्वम्

96) पद्यशिक्षणस्य विधिः अस्ति –

- A) प्रदर्शनम्
- B) द्रुतपठनम्
- C) खण्डान्वयनम्
- D) मौन वाचनम्

97) व्याकरणस्य पर्यायोऽस्ति –

- A) राष्ट्रानुशासनम्
- B) शब्दानुशासनम्
- C) मानवानुशासनम्
- D) सैनिकानुशासनम्

98) प्रत्यक्षविधेः प्रवर्तकः कः अस्ति

- A) वोकिल महोदयः
- B) भण्डारकर महोदयः
- C) प्रबोबेल महोदयः
- D) आम्टे महोदयः

ग्रीष्मावकाशे शिक्षणस्य उद्देश्यम्  
99)

- A) नूतनशब्दैः वाक्यरचना- योग्यतायाः विकासः
  - B) संस्कृत- ध्वनीनां शुद्धोच्चारणस्य ज्ञानम्
  - C) सरल वार्तालापस्य योग्यतायाः विकासः
  - D) उपर्युक्तं सर्वम्
- 

प्रश्नोत्तर कौशलस्य प्रथमं सोपानम् अस्ति-  
100)

- A) प्रश्नानां निर्माणम्
  - B) प्रश्नानामुत्तराणां विश्लेषणम्
  - C) कक्षायां वितरणम्
  - D) एतेषु कोऽपि नास्ति
- 

पठन कौशलस्य श्रेष्ठः विधिः वर्तते -  
101)

- A) पद-विधिः
- B) वाक्य-विधिः
- C) वर्ण-विधिः
- D) कथा-विधिः

केन कौशलमाध्य- मेनअध्यापकः विषयवस्तु स्पष्टीकरणस्य प्रयासं करोति ?  
102)

- A) प्रवाहकौशलेन
  - B) भाषणकौशलेन
  - C) प्रश्नोत्तरकौशलेन
  - D) श्रवणकौशलेन
- 

गद्यस्य प्रमुखम् उद्देश्यं वर्तते  
103)

- A) श्रवणम्
  - B) अभिव्यक्तिः
  - C) ग्रहणाभिव्यक्तिः
  - D) भाषाज्ञानम्
- 

पद्य-पाठ योजनायां कीदृशाः प्रश्नाः न भवन्ति ?  
104)

- A) सौन्दर्यानुभूति- प्रश्नाः
  - B) केन्द्रीयभावस्य प्रश्नाः
  - C) तुलनात्मकप्रश्नाः
  - D) विचार- विश्लेषणात्मक प्रश्नाः
-

शिक्षकः स्वशिक्षणस्य मूल्यांकनार्थं छात्रेभ्यः किं प्रददाति—

105)

- A) गृहकार्यम्
- B) पठनकार्यम्
- C) भ्रमण कार्यम्
- D) श्रवणकार्यम्

शिक्षकस्य नेतृत्वे छात्रैः क्रियते —

106)

- A) आदर्श वाचनम्
- B) अनु वाचनम्
- C) अनुकरण वाचनम्
- D) मौन वाचनम्

कक्षा शिक्षणस्य प्राणतत्त्वम् किं अस्ति

107)

- A) समस्यात्मकप्रश्नः
- B) निबन्धात्मकप्रश्नः
- C) वस्तु निष्ठ प्रश्नः
- D) लघूत्तरात्मकप्रश्नः

लघुत्तरात्मक प्रश्नानाम् उत्तरसीमा भवति

108)

- A) एकस्मिन् पदे
- B) एकस्मिन् वाक्ये
- C) वाक्यत्रये वाक्यचटुष्टये वा
- D) दश वा द्वादशवाक्येषु

पद्य शिक्षणस्य प्रमुखं अंगं अस्ति

109)

- A) भावबोधः
- B) शब्दार्थबोध
- C) सरलार्थबोधः
- D) पठनबोधः

प्रस्तावना प्रश्नानां घटकं नास्ति

110)

- A) पूर्वज्ञान परीक्षणम्
- B) उद्देश्य- प्रकटनम्
- C) अभिप्रेरण सम्पादनम्
- D) मूल्यांकनम्



पठन कौशलस्य विधिः वर्तते –  
111)

- A) शिक्षण विधिः
  - B) शैक्षिक भ्रमण विधिः
  - C) कथन विधिः
  - D) अभिव्यक्ति विधिः
- 

साक्षात्कारे का परीक्षा आयोज्यते ?  
112)

- A) वस्तुनिष्ठपरीक्षा
  - B) मौखिकपरीक्षा
  - C) निबन्धरूप परीक्षा
  - D) निदानात्मकपरीक्षा
- 

संस्कृत पद्याशिक्षणस्य विधयः सन्ति–  
113)

- A) तुलनात्मक विधिः
- B) समीक्षाविधिः
- C) संग्रन्थन विधिः
- D) सर्वे

अन्तिमं वाचनं वर्तते –

114)

- A) आदर्श वाचनम्
  - B) अनु वाचनम्
  - C) अनुकरण वाचनम्
  - D) मौन वाचनम्
- 

“वारि विना जीवनं न तिष्ठति।” इत्यस्य शुद्धं वाक्यं अस्ति।

115)

- A) वारिणा विना जीवनं न तिष्ठति।
  - B) वारिणि विना जीवनं न तिष्ठति।
  - C) वारिणे विना जीवनं न तिष्ठति।
  - D) एतेषु कोऽपि नास्ति।
- 

मधुनि रूपं कुत्र भवति

116)

- A) षष्ठी विभक्तौ
- B) सप्तमी विभक्तौ
- C) द्वितीया विभक्तौ

D) एतेषु कोऽपि नास्ति

---

वारिणा रूपं कुत्र भवति ।  
117)

- A) द्वितीया विभक्तौ
  - B) तृतीया विभक्तौ
  - C) चतुर्थी विभक्तौ
  - D) पञ्चमी विभक्तौ
- 

बालकशब्दस्य षष्ठीविभक्तेः बहुवचने किं रूपं भवति ।  
118)

- A) बालकस्य
  - B) बालकयोः,
  - C) बालकानाम्,
  - D) एतेषु कोऽपि नास्ति ।
- 

“अस्याः बालिकानां पुस्तकानि सन्ति” इत्यस्य शुद्धं वाक्यं अस्ति ।  
119)

- A) अस्याः बालिकायाः पुस्तकानि सन्ति ।
- B) अस्याः बालिकां पुस्तकानि सन्ति ।

C) अस्याः बालिकानाम् पुस्तकानि सन्ति ।

D) एतेषु कोऽपि नास्ति ।

120) "बालकः पित्रा विभ्यति" इत्यस्य शुद्धं वाक्यं अस्ति ।

A) बालकः पितरं विभ्यति ।

B) बालकः पितुः विभ्यति ।

C) बालकः पितरि विभ्यति ।

D) बालकः पितृणां विभ्यति ।

121) गम् धातोः लङ्लकारस्य उत्तमपुरुषस्य एकवचने किम् रूपं भवति ।

A) अगच्छम्

B) अगच्छः,

C) अगच्छताम्

D) अगच्छन्

122) लताशब्दस्य सप्तमीविभक्तेः एकवचने किं रूपं भवति ।

A) लतायाम्,

B) लतायाः

C) लताषु

D) एतेषु कोऽपि नास्ति।

---

अभवत् इति रूपं कुत्र भवति  
123)

A) भू धातोः लोटलकारस्य मध्यमपुरुषस्य बहुवचने

B) भू धातोः लटलकारस्य मध्यमपुरुषस्य बहुवचने

C) भू धातोः लिटलकारस्य मध्यमपुरुषस्य बहुवचने

D) भू धातोः लङलकारस्य मध्यमपुरुषस्य बहुवचने

---

“त्वं अस्माकं सह चलतु” इत्यस्य शुद्धं वाक्यं अस्ति?  
124)

A) त्वं अहम् सह चलतु।

B) त्वं माम् सह चलतु।

C) त्वं मया सह चलतु।

D) त्वं महयं सह चलतु।

125)

सः धेनोः दुग्धं दोग्धि ।  
इत्यस्य शुद्धं वाक्यं अस्ति ।

- A) सः धेनुः दुग्धं दोग्धि ।
- B) सः धेनुं दुग्धं दोग्धि ।
- C) धेनवे दुग्धं दोग्धि ।
- D) सः धेनौ दुग्धं दोग्धि ।

---

द्विशब्दस्य स्त्रीलिङ्गे प्रथमा विभक्तेः द्विवचने किम् रूपं भवति ।

126)

- A) द्वि
- B) द्वे
- C) द्वौ
- D) एतेषु कोऽपि नास्ति

---

अस्य शब्दस्य षष्ठी विभक्तेः बहुवचने किम् भवति ।

127)

- A) अस्मत्
- B) अस्माकम्
- C) अस्मासु
- D) अस्मभ्यम्

स्त्रीलिङ्गे चतसृणां रूपं कुत्र भवति

128)

- A) चतुर् शब्दस्य पञ्चमी विभक्तौ
- B) चतुर् शब्दस्य षष्ठी विभक्तौ
- C) चतुर् शब्दस्य सप्तमी विभक्तौ
- D) एतेषु कोऽपि नास्ति।

कुमारी शब्दे कः प्रत्ययः अस्ति।

129)

- A) डीप्
- B) डीष्
- C) डीन्
- D) एतेषु कोऽपि नास्ति।

“मुनिं दानं देहि” इत्यस्य शुद्धं वाक्यं अस्ति।

130)

- A) मुनी दानं देहि।
- B) मनये दानं देहि।
- C) मुनेः दानं देहि।

D) मुनौ दानं देहि ।

---

इदं शब्दस्य स्त्रीलिङ्गे सप्तमी विभक्ते एकवचने किम् रूपं भवति  
131)

- A) अस्याः
  - B) आसाम्
  - C) अनया
  - D) अस्याम्
- 

“भानुं नमः” इत्यस्य शुद्धं वाक्यं अस्ति ।  
132)

- A) भानूनाम् नमः ।
  - B) भानुना नमः ।
  - C) भानवे नमः ।
  - D) भानौ नमः ।
- 

“सः पञ्च फलं खादतु” इत्यस्य शुद्धं वाक्यं अस्ति ।  
133)

- A) सः पञ्च फले खादतु ।
- B) सः पञ्च फलैः खादतु ।
- C) सः पञ्च फलानि खादतु ।



D) एतेषु कोऽपि नास्ति ।

शप्यम् इत्यत्र शुद्धः प्रत्ययः अस्ति ।

134)

A) शप्+क्यप्

B) शप्+यत्

C) शप्+ष्यञ्

D) एतेषु कोऽपि नास्ति ।

भवभूतिना कानि ग्रन्थरत्नानि विरचितानि ।

135)

A) उत्तररामचरितम् स्वप्नवासवदत्तम् राघवाभ्युदयम्

B) उत्तररामचरितं वेणीसंहारम् मुद्राराक्षसम्

C) उत्तररामचरितं, महावीरचरितम् मालती माधवम्

D) उत्तररामचरितम् मालविकाग्निमित्रं मालतीमाधवम्

136)

“अस्ति समस्तनगरी निकषायमाणा

शश्वदगण्यपण्यविस्तारित

मणिगणादिवस्तुजातव्याख्यात रत्नाकरमाहात्म्या

मगधदेशे शेखरीभूता पुष्पपुरी नाम नगरी ।”

गद्यमिदं दशकुमारचरितस्य कस्मिन् उच्छवासे

वर्तते ।

A) द्वितीयोच्छवासे

- B) तृतीयोच्छ्वासे
  - C) प्रथमोच्छ्वासे
  - D) एतेषु कोऽपि नास्ति।
- 

137)

उदयनवेन्दुसवर्णावासवदत्ता बलस्य त्वाम्  
पद्मावतीर्णपूर्णो वसन्तकम्प्रौ भुजौ पाताम्  
इत्यत्र मङ्गलाचरणे भासेन कस्य स्मरणं  
कृतम्

- A) श्रीकृष्णस्य
  - B) शिवस्य
  - C) बलरामस्य
  - D) विष्णोः
- 

त्रिविक्रमभट्टस्य रचना का वर्तते।

138)

- A) नलचम्पूः
- B) हर्षचरितम्
- C) उत्तररामचरितम्
- D) एतेषु कोऽपि नास्ति।

139)

मणिमयमकरमनोहरकुण्डल मण्डितगण्डमुदारम्  
पीतवसनमनुगतमुनिमनुजसुरासुरवर परिवारम् ।  
इत्यत्र मनुज शब्दस्य कः अर्थः अस्ति ।

- A) पशुः
- B) कीटकः
- C) मनुष्यः
- D) एतेषु कोऽपि नास्ति ।

140)

आ परितोषाद् विदुषां न साधु मन्ये  
प्रयोगविज्ञानम् ।  
बलुवदपि शिक्षितानां आत्मन्यप्रत्ययं  
चेतः । पद्यमिदं अभिज्ञानशाकुन्तले केन  
कथितम् ।

- A) नट्या
- B) शकुन्तलया
- C) सूत्रधारेण
- D) एतेषु कोऽपि नास्ति ।

141)

अतिचिरकाललग्नमतिक्रान्त-  
कृनुपति-सहस्र-सम्पर्क कलङ्कमिव  
क्षालयन्ती यस्य विमले कृपाणधारानले  
चिरमुवास राजलक्ष्मीः ।" इत्यत्र उवास  
शब्दः कस्मिन् लकारे भवति ।

- A) लट् लकारे
- B) लिट् लकारे
- C) लङ् लकारे
- D) एतेषु कोऽपि नास्ति ।

142)

"साहित्यसङ्गीतकला विहीनः,  
साक्षात् पशुः पुच्छविषाणहीनः । इति  
पंक्तिः अस्ति ।

- A) जयदेवस्य
- B) श्रीहर्षस्य
- C) भर्तृहरेः
- D) कालिदासस्य

गीतगोविन्दस्य प्रथमसर्गस्य नाम किम् अस्ति ।

143)

- A) सामोद-दामोदरः
- B) धृष्ट-वैकुण्ठः
- C) नागरनारायणः

D) एतेषु कोऽपि नास्ति ।

---

144)

“रजोजुषे जन्मनि सत्ववृत्तये स्थितौ  
प्रजानां प्रलये तमः स्पृशे ।” इत्यत्र जन्मनि  
पदे का विभक्तिः वर्तते ।

- A) प्रथमा
  - B) द्वितीया
  - C) चतुर्थी
  - D) सप्तमी
- 

“नमः सर्वविदे तस्मै व्यासाय कविवेधसे ।” इत्यत्र कविवेधसे पदे का विभक्तिः वर्तते ।  
145)

- A) प्रथमा
  - B) द्वितीया
  - C) तृतीया
  - D) चतुर्थी
- 

146)

“धूमज्योतिः सलिलामरुतां सन्निपातः क्व मेघः ।”  
पंक्तिरियं कालिदासेन कस्मिन् ग्रन्थे कथितम् ।

- A) अभिज्ञान शाकुन्तले
- B) मेघदूते

- C) कुमारसम्भवे  
D) एतेषु कोऽपि नास्ति।
- 

147) काव्यादर्शः कस्य रचना वर्तते?

- A) कालिदासस्य  
B) दण्डिनः  
C) भासस्य  
D) श्री हर्षस्य
- 

148) “विद्या विहीनः पशुः” इति पंक्तिः कुत्र वर्तते।

- A) नीतिशतके  
B) कादम्बर्याम्  
C) गीतगोविन्दे  
D) एतेषु कोऽपि नास्ति।
- 

149)

जनकानां रघूणां च सम्बन्धः कस्य न  
प्रियः।  
यत्र दाता ग्रहीता च स्वयं  
कुशिकनन्दनः।  
पद्मिदं उत्तररामचरितस्य कस्मिन्  
अङ्के वर्तते।

- A) प्रथमेऽङ्के

- B) द्वितीयेऽङ्के
- C) तृतीयेऽङ्के
- D) चतुर्थेऽङ्के

150)

परिहरतु भवान् नृपापवादं न परुषमाश्रमवासिसु  
प्रयोज्यम् नगरपरिभवान् विभोक्तुमेते वनमभिगम्य  
मनस्विनो वसन्ति इत्यत्र विमोक्तुम् पदे प्रत्ययः अस्ति

- A) वि+मुच+तुम्
- B) वि+मुच् तुमुन्
- C) वि+मुच्+मोक्तुम्
- D) एतेषु कोऽपि नास्ति ।

World.In



Question Paper No: 76275\_3

Answer Key

|    |   |    |   |    |   |     |   |     |   |
|----|---|----|---|----|---|-----|---|-----|---|
| 1  | A | 31 | A | 61 | D | 91  | D | 121 | A |
| 2  | C | 32 | B | 62 | C | 92  | D | 122 | A |
| 3  | B | 33 | B | 63 | A | 93  | D | 123 | D |
| 4  | D | 34 | A | 64 | A | 94  | A | 124 | C |
| 5  | B | 35 | A | 65 | D | 95  | D | 125 | B |
| 6  | D | 36 | A | 66 | C | 96  | C | 126 | B |
| 7  | A | 37 | C | 67 | A | 97  | B | 127 | B |
| 8  | C | 38 | A | 68 | A | 98  | A | 128 | B |
| 9  | C | 39 | C | 69 | D | 99  | D | 129 | A |
| 10 | A | 40 | A | 70 | D | 100 | A | 130 | B |
| 11 | B | 41 | D | 71 | C | 101 | B | 131 | D |
| 12 | B | 42 | D | 72 | D | 102 | C | 132 | C |
| 13 | D | 43 | C | 73 | A | 103 | C | 133 | C |
| 14 | C | 44 | B | 74 | D | 104 | D | 134 | B |
| 15 | D | 45 | A | 75 | D | 105 | A | 135 | C |
| 16 | C | 46 | D | 76 | D | 106 | B | 136 | C |
| 17 | A | 47 | A | 77 | A | 107 | C | 137 | C |
| 18 | D | 48 | A | 78 | C | 108 | C | 138 | A |
| 19 | C | 49 | C | 79 | D | 109 | A | 139 | C |
| 20 | B | 50 | B | 80 | A | 110 | D | 140 | C |
| 21 | B | 51 | A | 81 | C | 111 | A | 141 | B |
| 22 | B | 52 | B | 82 | A | 112 | B | 142 | C |
| 23 | C | 53 | B | 83 | C | 113 | D | 143 | A |
| 24 | C | 54 | A | 84 | D | 114 | D | 144 | D |
| 25 | A | 55 | D | 85 | C | 115 | A | 145 | D |
| 26 | C | 56 | C | 86 | D | 116 | B | 146 | B |
| 27 | C | 57 | A | 87 | B | 117 | B | 147 | B |
| 28 | C | 58 | B | 88 | D | 118 | C | 148 | A |
| 29 | B | 59 | B | 89 | B | 119 | A | 149 | A |
| 30 | A | 60 | C | 90 | A | 120 | B | 150 | B |

