

←

CHT- TGT ARTS 2022

E-BOOK-PDF

6,000 MCQ

EXPLANATION

1,500 ଟି ପୂର୍ବ ବର୍ଷର ପ୍ରଶ୍ନ

100% ସଫଳତା



CHT- CONTRACTUAL TEACHER (TGT ARTS) 2022 EXAM !! E-BOOK (PDF) 6,000 BEST MCQ !! CHAPTER WISE QUESTIONS & ANSWER

more

₹199.00 ₹99.00

Validity- 1 Year

English- 1500 (MCQ)...

more

ADD TO CART BUY NOW

[Click Here](#)

←

CHT- TGT CBZ 2022


E-BOOK-PDF

6,000 MCQ

EXPLANATION

750 ଟି ପୂର୍ବ ବର୍ଷର ପ୍ରଶ୍ନ

100% ସଫଳତା



CHT- CONTRACTUAL TEACHER (TGT CBZ SCIENCE) 2022 EXAM !! E-BOOK (PDF) 6,000 BEST MCQ !! CHAPTER WISE QUESTIONS & ANSWER

more

₹199.00 ₹99.00

Validity- 1 Year

Previous Year Question- 750 (2022, 2021 & 2019 Year)...

more

ADD TO CART BUY NOW

[Click Here](#)

←

CHT- TGT PCM 2022


E-BOOK-PDF

6,000 MCQ

EXPLANATION

1,350 ଟି ପୂର୍ବ ବର୍ଷର ପ୍ରଶ୍ନ

100% ସଫଳତା



CHT- CONTRACTUAL TEACHER (TGT PCM SCIENCE) 2022 EXAM !! E-BOOK (PDF) 6,000 BEST MCQ !! CHAPTER WISE QUESTIONS & ANSWER

more

₹199.00 ₹99.00

Validity- 1 Year

Previous Year Question- 1,350 (2022, 2021 & 2019 Year)...

more

ADD TO CART BUY NOW

[Click Here](#)

← Tech of World

HOME VIDEOS PLAYLISTS COMMUNITY

ଆମ Channel ରେ ଦେଖନ୍ତୁ Video

ASO ଓଡ଼ିଶା ପୋଷାଳ **CT ଓ B.Ed**

ଓଡ଼ିଶା ପୋଲିସ **SSC GD Railway**



Tech of World

SUBSCRIBE

315K subscribers • 928 videos

Hello ସାଙ୍ଗ ମାନେ !! ଆମେ ଏହି Channel ରେ ପ୍ରଚାରଣ Educational Video

Free ରେ ଚୋଷପାଇବେ ଯେଉଁ ଚୋଷକରଣ କରନ୍ତି ଏହି "Tech Of World" Channel କୁ ...

+2 କିମ୍ବା +3 ପଢ଼ିବା ପରେ

କେମିତି ଜଣେ ଶିକ୍ଷକ

ହେଇପାରିବେ ?

CT ଓ B.Ed ପରେ କଣ ?



How To Become A Teacher After +2 Or +3 In Odisha ? How To Get A Teacher Job In Odisha ?

Tech of World · 176K views · 3 years ago

Home Shorts Subscriptions Library

[Click Here](#)

←

Tech Of World- (Odisha Exam CT)

Tech Of World

Uninstall Open

Your Review

sujit kumar naik ★★★★★ 6/29/21

Edit your review

Developer contact

About this app

Tech Of World (Odisha Exam) Provides Mock Test & E-Books For Different Exams

Education

3.8 ★ 422 reviews 422 reviews Rated for 3+ 50K+ Downlo.

TECH OF WORLD Mock Test

[Click Here](#)

← Tech Of World 4.1K subscribers

538 Sujit, 9:42 AM

Leave a comment

ASO English 2022 By... 8.7 MB PDF

ASO General Knowledge 2022... 4.9 MB PDF

ASO Math 2022 By Techofworld.In.pdf 4.6 MB PDF

ASO Odia Language 2022 By... 2.9 MB PDF

ASO Reasoning 2022 By... 4.6 MB PDF

508 · 9:47 AM

3 comments

Broadcast

[Click Here](#)

Section 1 - Paper I General Knowledge and Current Affairs

No. of Questions: 15

1) Who of the following took charge as the Director of Vikram Sarabhai Space Centre?

- A) Dr. K Sivan
 - B) Dr. S. Unnikrishnan Nair
 - C) Madhavan Chandradathan
 - D) Sreedhara Panicker Somanath
-

1) ବିକ୍ରମ ସାରାଭାଇ ସ୍ପେସ୍ ସେଣ୍ଟରର ନିର୍ଦ୍ଦେଶକ ଭାବେ ନିମ୍ନଲିଖିତ ମଧ୍ୟରୁ କିଏ ଦାୟିତ୍ଵ ଗ୍ରହଣ କଲେ?

- A) ଡକ୍ଟର କେ ସିବନ୍
 - B) ଡକ୍ଟର ଏସ୍ ଉନ୍ନିକ୍ରିଷ୍ଣନ୍ ନାୟାର
 - C) ମାଧବନ ଚନ୍ଦ୍ରାଦତ୍ତନ
 - D) ଶ୍ରୀଧର ପାନିକର୍ ସୋମନାଥ
-

2) Who among the following created history as she was crowned 'Miss Universe 2021' beating contestants from 80 countries?

- A) Andrea Meza
 - B) Harnaaz Sandhu
 - C) Lalela Mswane
 - D) Nadia Ferreira
-

2) 80 ଟି ଦେଶରୁ ପ୍ରତିଯୋଗୀଙ୍କୁ ପରାସ୍ତ କରି 'ମିସ୍ ୟୁନିଭର୍ସ 2021' ମୁକ୍ତ ପିକିଂରେ ନିମ୍ନଲିଖିତ ମଧ୍ୟରୁ କିଏ ଇତିହାସ ସୃଷ୍ଟି କରିଥିଲେ?

- A) ଆଣ୍ଡ୍ରିଆ ମେଜା
 - B) ହର୍ନାଜ୍ ସାନ୍ଧୁ
 - C) ଲାଲେଲା ମିସ୍ଵାନେ
 - D) ନାଦିଆ ଫରେରା
-

3) Which of the following country ranks first in 2020 Human Development Report published by UNDP?

- A) Norway
- B) Sweden
- C) USA
- D) Japan

3) ଯୁବନତିପି ହାରା ପ୍ରକାଶିତ 2020 ମାନବ ବିକାଶ ରିପୋର୍ଟରେ ନିମ୍ନ ଦେଶ ମଧ୍ୟରୁ କେଉଁ ଦେଶ ପ୍ରଥମ ସ୍ଥାନ ଅଧିକାର କରିଛି?

- A) ନରୱେ
- B) ସ୍ୱିଡେନ
- C) ଯୁକ୍ତରାଷ୍ଟ୍ର
- D) ଜାପାନ

4) Which of the following branches of Science includes programming, software engineering, information theory, algorithms, databases and graphics?

- A) Computer Science
- B) Applied Mechanics
- C) Structural Engineering
- D) Mechatronics Engineering

4) ବିଜ୍ଞାନର ନିମ୍ନଲିଖିତ ଶାଖାଗୁଡ଼ିକ ମଧ୍ୟରୁ କେଉଁଟି ପ୍ରୋଗ୍ରାମିଂ, ସଫ୍ଟୱେୟାର ଇଞ୍ଜିନିୟରିଂ, ସୂଚନା ସିଦ୍ଧାନ୍ତ, ଆଲଗୋରିଦମ, ଡାଟାବେସ୍ ଏବଂ ଗ୍ରାଫିକ୍ସକୁ ଅନ୍ତର୍ଭୁକ୍ତ କରେ?

- A) କମ୍ପ୍ୟୁଟର ବିଜ୍ଞାନ
- B) ପ୍ରଯୋଗାତ୍ମକ ମେକାନିକ୍ସ
- C) ଗଠନମୂଳକ ଇଞ୍ଜିନିୟରିଂ
- D) ମେକାଟ୍ରୋନିକ୍ସ ଇଞ୍ଜିନିୟରିଂ

5) Which of the following acts or reforms was introduced during the tenure of Lord Minto I as Governor General in India?

- A) Govt. of India Act. 1935
- B) Morley Minto Reform 1909
- C) Charter Act of 1813
- D) Indian Council Act 1861

5) ଭାରତରେ ଗଭର୍ଣ୍ଣର ଜେନେରାଲ ଭାବରେ ଲର୍ଡ ମିଷ୍ଟେଙ୍କ କାର୍ଯ୍ୟକାଳ ସମୟରେ ନିମ୍ନଲିଖିତ କାର୍ଯ୍ୟ କିମ୍ବା ସଂସ୍କାର ମଧ୍ୟରୁ କେଉଁଟି ପ୍ରବର୍ତ୍ତିତ ହୋଇଥିଲା?

- A) ଭାରତ ସରକାର ଆକ୍ଟ 1935
- B) ମର୍ଲେ ମିଷ୍ଟେ ସଂସ୍କାର 1909
- C) 1813 ର ଚାର୍ଟର ଆକ୍ଟ
- D) ଭାରତୀୟ ପରିଷଦ ଅଧିନିୟମ 1861

6) Jallianwala Bagh Massacre that happened on April 13, 1919 took place at which of the following places in India?

- A) Amritsar
- B) Delhi
- C) Ahmedabad
- D) Lucknow

6) ଜାଲିଆନୱାଲା ବାଗ ହତ୍ୟାକାଣ୍ଡ ଯାହା ଏପ୍ରିଲ 13, 1919 ରେ ଘଟିଥିଲା, ଭାରତର ନିମ୍ନଲିଖିତ ସ୍ଥାନଗୁଡ଼ିକ ମଧ୍ୟରୁ କେଉଁଠାରେ ଘଟିଥିଲା?

- A) ଅମୃତସର
- B) ଦିଲ୍ଲୀ
- C) ଅହମ୍ମଦାବାଦ
- D) ଲକ୍ନୋ

7) Klondike Gold fields is located in which of the following country?

- A) Brazil
- B) Argentina
- C) Canada
- D) Chile

7) କ୍ଲୋଣାଇକ୍ ଗୋଲ୍ଡ ଫିଲ୍ଡ ନିମ୍ନୋକ୍ତ ମଧ୍ୟରୁ କେଉଁ ଦେଶରେ ଅବସ୍ଥିତ?

- A) ବ୍ରାଜିଲ
- B) ଆର୍ଜେଣ୍ଟିନା
- C) କାନାଡା
- D) ଚିଲି

8) As per the Indian Constitution, what is the minimum age of qualification for membership in a State Legislative Assembly?

- A) 25 years
- B) 30 years
- C) 21 years
- D) 35 years

8) ଭାରତୀୟ ସମ୍ବିଧାନ ଅନୁଯାୟୀ, ରାଜ୍ୟ ବିଧାନସଭା ସଦସ୍ୟତା ପାଇଁ ଯୋଗ୍ୟତାର ସର୍ବନିମ୍ନ ବୟସ କେତେ?

- A) 25 ବର୍ଷ
- B) 30 ବର୍ଷ
- C) 21 ବର୍ଷ
- D) 35 ବର୍ଷ

9) Which of the following statements is INCORRECT with reference to Directive Principles stated in the Constitution of India?

- A) These are not enforceable in the courts and do not create any justiciable rights in favour of individuals
- B) These are the directives which are the guidelines for the Government to lead the country
- C) These are the principles that aim at providing social and economic justice and set the path towards the welfare state
- D) These can never be implemented by legislation and are justiciable rights in favour of individuals

9) ନିମ୍ନଲିଖିତ ମଧ୍ୟରୁ କେଉଁ ଉକ୍ତି ଭାରତର ସମ୍ବିଧାନରେ ଦର୍ଶାଯାଇଥିବା ନିର୍ଦ୍ଦେଶନାମା ନୀତି ସମ୍ବନ୍ଧରେ ଭୁଲ୍ ଅଟେ?

- A) ଏଗୁଡ଼ିକ ଅଦାଲତରେ ପ୍ରବର୍ତ୍ତନୀୟ ନୁହେଁ ଏବଂ ବ୍ୟକ୍ତିବିଶେଷଙ୍କ ସପକ୍ଷରେ କୌଣସି ଯଥାର୍ଥ ଅଧିକାର ସୃଷ୍ଟି କରେ ନାହିଁ
- B) ଏଗୁଡ଼ିକ ହେଉଛି ନିର୍ଦ୍ଦେଶନାମା ଯାହା ସରକାରଙ୍କ ପାଇଁ ଦେଶର ନେତୃତ୍ୱ ନେବାର ନିର୍ଦ୍ଦେଶାବଳୀ ଅଟେ।
- C) ଏଗୁଡ଼ିକ ହେଉଛି ସେହି ନୀତି ଯାହା ସାମାଜିକ ଏବଂ ଅର୍ଥନୈତିକ ନ୍ୟାୟ ପ୍ରଦାନ କରିବା ଏବଂ କଲ୍ୟାଣକାରୀ ରାଜ୍ୟ ଦିଗରେ ମାର୍ଗ ସ୍ଥିର କରିବାକୁ ଲକ୍ଷ୍ୟ ରଖିଛି।
- D) ଏଗୁଡ଼ିକ କଦାପି ଆଇନ ଦ୍ୱାରା କାର୍ଯ୍ୟକାରୀ ହୋଇପାରିବ ନାହିଁ ଏବଂ ବ୍ୟକ୍ତିବିଶେଷଙ୍କ ସପକ୍ଷରେ ଯଥାର୍ଥ ଅଧିକାର ଅଟେ।

10) Identify the name of the 3-day festival celebrated across Odisha in June 2021 to honour womanhood.

- A) Chandan Yatra
- B) Makar Mela
- C) Raja Parba
- D) Naukhai

10) ନାରୀଭକ୍ତ ସମ୍ମାନ ଦେବା ପାଇଁ ଜୁନ୍ 2021 ରେ ଓଡ଼ିଶାରେ ପାଳନ କରାଯାଉଥିବା 3 ଦିନିଆ ଉତ୍ସବର ନାମ ଚିହ୍ନଟ କରନ୍ତୁ?

- A) ଚନ୍ଦନ ଯାତ୍ରା
- B) ମକର ମେଳା
- C) ରଜ ପର୍ବ
- D) ନୂଆଁଖାଇ

11) Which of the following options is the main objective of Nirman Kusum Yojana 2022 currently being implemented by Odisha Government?

- A) To provide financial assistance for improving the literacy rate of elderly citizens in the state
- B) To provide financial assistance to the children of landless labourers for basic education
- C) To provide financial assistance for primary education of children from minority communities
- D) To provide financial assistance to the children of construction labourers to pursue technical education

11) ନିମ୍ନଲିଖିତ ବିକଳଗୁଡ଼ିକ ମଧ୍ୟରୁ କେଉଁଟି ନିର୍ମାଣ କୁସୁମ ଯୋଜନା 2022 ର ମୁଳ ଉଦ୍ଦେଶ୍ୟ ଅଟେ, ଯାହା ବର୍ତ୍ତମାନ ଓଡ଼ିଶା ସରକାରଙ୍କ ଦ୍ୱାରା କାର୍ଯ୍ୟକାରୀ ହେଉଛି?

- A) ରାଜ୍ୟରେ ବୃଦ୍ଧ ନାଗରିକଙ୍କ ସାକ୍ଷରତା ହାରରେ ଉନ୍ନତି ଆଣିବା ପାଇଁ ଆର୍ଥିକ ସହାୟତା ପ୍ରଦାନ କରିବା।
- B) ମୌଳିକ ଶିକ୍ଷା ପାଇଁ ଭୂମିହୀନ ଶ୍ରମିକମାନଙ୍କ ପିଲାମାନଙ୍କୁ ଆର୍ଥିକ ସହାୟତା ପ୍ରଦାନ କରିବା।
- C) ସଂଖ୍ୟାଲଘୁ ସମ୍ପ୍ରଦାୟର ପିଲାମାନଙ୍କର ପ୍ରାଥମିକ ଶିକ୍ଷା ପାଇଁ ଆର୍ଥିକ ସହାୟତା ପ୍ରଦାନ କରିବା
- D) ବୈଷୟିକ ଶିକ୍ଷା ପାଇଁ ନିର୍ମାଣ ଶ୍ରମିକମାନଙ୍କ ପିଲାମାନଙ୍କୁ ଆର୍ଥିକ ସହାୟତା ଯୋଗାଇବା

12) What is UBI with respect to Social and Economic development?

- A) Unified Broad Incentives
- B) Universal Basic Income
- C) Universal Basic Investment
- D) Unilateral Broad Investment

12) ସାମାଜିକ ଏବଂ ଅର୍ଥନୈତିକ ବିକାଶ ସମ୍ବନ୍ଧରେ UBI କଣ?

- A) ୟୁନିଫାଏଡ୍ ବ୍ରଡ୍ ଇଂସେଣ୍ଟିଭ୍
- B) ୟୁନିଭର୍ସାଲ୍ ବେସିକ୍ ଇନକମ୍
- C) ୟୁନିଭର୍ସାଲ୍ ବେସିକ୍ ଇଂଭେଷ୍ଟମେଣ୍ଟ୍
- D) ୟୁନିଲାଟେରାଲ୍ ବ୍ରଡ୍ ଇଂଭେଷ୍ଟମେଣ୍ଟ୍

13) Which of the following gases is essential for the process of combustion to take place?

- A) Carbon dioxide
- B) Hydrogen
- C) Nitrogen
- D) Oxygen

13) ଜାଳେଣି ପ୍ରକ୍ରିୟା ପାଇଁ ନିମ୍ନଲିଖିତ ଗ୍ୟାସ ମଧ୍ୟରୁ କେଉଁଟି ଜରୁରୀ?

- A) ଅକ୍ସିଜେନ୍
- B) ହାଇଡ୍ରୋଜେନ୍
- C) ନାଇଟ୍ରୋଜେନ୍
- D) ଅମ୍ଳଜାନ

14) The First Battle of Panipat was fought between the forces of which Mughal Emperor and Ibrahim Lodhi?

- A) Babur
- B) Akbar
- C) Jahangir
- D) Aurangzeb

14) ପାନିପତର ପ୍ରଥମ ଯୁଦ୍ଧ କେଉଁ ମୋଗଲ ସମ୍ରାଟ ଏବଂ ଇବ୍ରାହିମ ଲୋଧିଙ୍କ ମଧ୍ୟରେ ହୋଇଥିଲା?

- A) ବାବର୍
- B) ଆକବର୍
- C) ଜାହାଙ୍ଗୀର୍
- D) ଔରଙ୍ଗଜେବ

15) The highest peaks of Himalayas like Mount Everest, Nanga Parbat, Kanchenjunga are located in which of the following ranges?

- A) Himachal
- B) Siwaliks
- C) Himadri
- D) Aravallis

15) ଏଭରେଷ୍ଟ ଶୃଙ୍ଗ, ନାଙ୍ଗା ପାର୍ବତ, କାଞ୍ଚନଯଙ୍ଗା ପରି ହିମାଳୟର ସର୍ବୋଚ୍ଚ ଶିଖରଗୁଡ଼ିକ ନିମ୍ନ ପର୍ବତମାଳା ମଧ୍ୟରୁ କେଉଁଟିରେ ଅବସ୍ଥିତ?

- A) ହିମାଚଳ
- B) ସିଝାଲିକ୍ସ
- C) ହିମାଦ୍ରୀ
- D) ଆରାବଲି

Section 2 - Paper I Reasoning Ability

No. of Questions: 10

16) If P exceeds Q by x%, then which of the following is CORRECT?

- A) $P - Q = x / 100$
- B) $P - Q = x + 100$
- C) $Q = P + 100x$
- D) $P = Q + (Qx / 100)$

16) ଯଦି P ଠାରୁ Q ର ପରିମାଣ x% ଅଧିକ ହୋଇଥାଏ, ତେବେ ନିମ୍ନଲିଖିତ ମଧ୍ୟରୁ କେଉଁଟି ସଠିକ୍?

- A) $P - Q = x / 100$
- B) $P - Q = x + 100$
- C) $Q = P + 100x$
- D) $P = Q + (Qx / 100)$

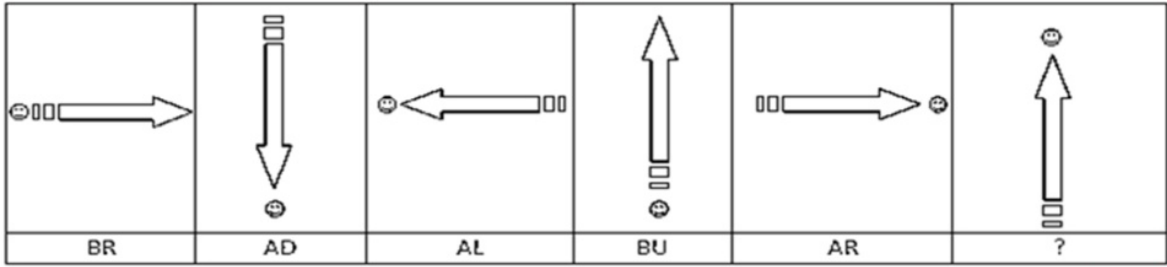
17) If 14 cranes are required to build a tower 966 feet high, how many cranes are required to build a tower 552 feet high?

- A) 9
- B) 6
- C) 7
- D) 8

17) ଯଦି ଏକ 966 ଫୁଟ ଉଚ୍ଚ ଟାୱାର ତିଆରି କରିବା ପାଇଁ 14ଟି କ୍ରେନ୍ ଆବଶ୍ୟକ ହୁଏ ତେବେ ଏକ 552 ଫୁଟ ଉଚ୍ଚ ଟାୱାର ତିଆରି କରିବା ପାଇଁ କେତୋଟି କ୍ରେନ୍ ଆବଶ୍ୟକ ହୋଇଥାଏ?

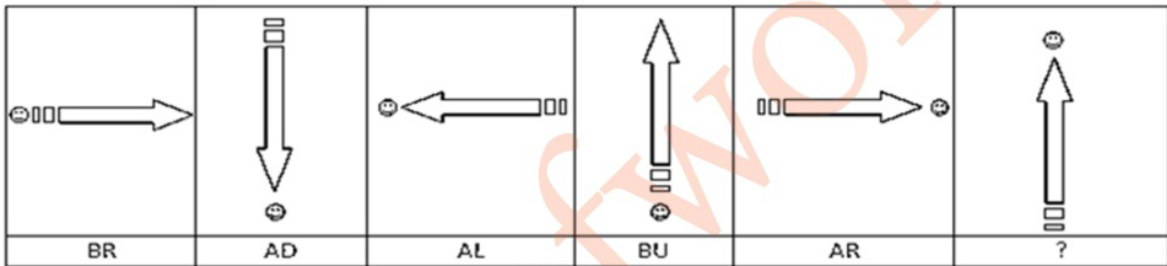
- A) 9
- B) 6
- C) 7
- D) 8

18) Observe the figures below with their corresponding codes and find the correct code for the last figure.



- A) UA
- B) UD
- C) AU
- D) DU

18) ନିମ୍ନରେ ଦିଆଯାଇଥିବା ଚିତ୍ରଗୁଡ଼ିକ ଓ ତାହାର ସମ୍ପର୍କିତ କୋଡ୍ ଗୁଡ଼ିକୁ ଧ୍ୟାନ ଦିଅ ଏବଂ ଶେଷ ଚିତ୍ର ପାଇଁ ସଠିକ୍ କୋଡ୍ ନିର୍ଣ୍ଣୟ କରନ୍ତୁ।



- A) UA
- B) UD
- C) AU
- D) DU

19) Select one of the following four options that will make the 2nd pair analogous to the 1st pair given

Metal : Ore :: Rubber : ?

- A) Latex
- B) Plastic
- C) Tree
- D) Larvae

19) ନିମ୍ନଲିଖିତ ଚାରୋଟି ବିକଳ୍ପ ମଧ୍ୟରୁ ଗୋଟିଏ ଚୟନ କରନ୍ତୁ ଯାହାକି ଦିଆଯାଇଥିବା 1ମ ଯୋଡ଼ା ସଦୃଶ 2ୟ ଯୋଡ଼ା ପ୍ରସ୍ତୁତ କରିବ

ଧାତୁ : ଧାତୁପିଣ୍ଡ :: ରବର : ?

- A) ଲାଟେକ୍ସ
- B) ପ୍ଲାଷ୍ଟିକ୍
- C) ଗଛ
- D) ଲାଭା

20) Select one of the following four options that will make the 2nd pair analogous to the 1st pair given

Ants : Anthill :: Bees : ?

- A) Herd
- B) Flock
- C) Hive
- D) Family

20) ନିମ୍ନଲିଖିତ ଚାରୋଟି ବିକଳ୍ପ ମଧ୍ୟରୁ ଗୋଟିଏ ଚୟନ କରନ୍ତୁ ଯାହାକି ଦିଆଯାଇଥିବା 1ମ ଯୋଡ଼ା ସଦୃଶ 2ୟ ଯୋଡ଼ା ପ୍ରସ୍ତୁତ କରିବ

ପିମ୍ପୁଡ଼ି : ବଲ୍ଲୀକ (ପିମ୍ପୁଡ଼ି ଗାତ) :: ମହୁମାଛି : ?

- A) ପଶୁ ଗୋଠ
- B) ଗୋଠ
- C) ମହୁଫେଣା
- D) ପରିବାର

21) A bike is insured for the $\frac{3}{4}$ th of its original value with a premium rate of 1.2 percent of the value. If the amount of premium is ₹ 720, what was the original value of the bike?

- A) ₹ 60,000
- B) ₹ 72,000
- C) ₹ 80,000
- D) ₹ 84,000

21) ଗୋଟିଏ ବାଇକକୁ ଏହାର ମୂଲ୍ୟର $\frac{3}{4}$ ଅଂଶ ପାଇଁ ବୀମାଭୁକ୍ତ କରାଯାଇଛି, ଯାହାର ପ୍ରିମିୟମ୍ ହାର ବାଇକ୍ ମୂଲ୍ୟର 1.2 ପ୍ରତିଶତ ହାରରେ ରହିଛି। ଯଦି ପ୍ରିମିୟମ୍ ପରିମାଣ ହେଉଛି ₹ 720, ତେବେ ବାଇକ୍ ମୂଲ୍ୟ କ'ଣ ଥିଲା?

- A) ₹ 60,000
- B) ₹ 72,000
- C) ₹ 80,000
- D) ₹ 84,000

22) The $\frac{4}{5}$ th of a number exceeds the 65 percent of the same by 27. What would be the number?

- A) 140
- B) 160
- C) 170
- D) 180

22) ଗୋଟିଏ ସଂଖ୍ୟାର $\frac{4}{5}$ ଅଂଶ ସମାନ ସଂଖ୍ୟାର 65%ଠାରୁ 27 ଅଧିକ। ସଂଖ୍ୟାଟି କେତେ ହେବ?

- A) 140
- B) 160
- C) 170
- D) 180

23) A contractor engages 24 experts to verify the quality of some electrical components. Each expert can verify 30 components daily. On one particular day, 3 experts are absent. At the end of 2 weeks, how many components have the experts verified?

- A) 990
- B) 8000
- C) 9990
- D) 660

23) ଜଣେ କଣ୍ଟ୍ରାକ୍ଟର କେତେକ ବୈଦ୍ୟୁତିକ ଅଂଶର ଗୁଣବତ୍ତା ଯାଞ୍ଚ କରିବା ପାଇଁ 24 ଜଣ ବିଶେଷଜ୍ଞଙ୍କୁ ନିଯୁକ୍ତ କଲେ। ପ୍ରତ୍ୟେକ ବିଶେଷଜ୍ଞ ଦୈନିକ 30ଟି ଅଂଶ ଯାଞ୍ଚ କରିପାରିବେ। ଏକ ନିର୍ଦ୍ଦିଷ୍ଟ ଦିନରେ, 3 ଜଣ ବିଶେଷଜ୍ଞ ଅନୁପସ୍ଥିତ ରହିଛନ୍ତି। 2ୟ ସପ୍ତାହ ଶେଷରେ, ବିଶେଷଜ୍ଞମାନେ କେତୋଟି ଅଂଶ ଯାଞ୍ଚ କରିବେ?

- A) 990
- B) 8000
- C) 9990
- D) 660

24) If KRISHNA is coded as ZMSHRIP then RADHA will be coded as

- A) DSWZK
- B) ZSWZI
- C) ZMWZI
- D) IZWSB

24) ଯଦି KRISHNA କୁ ZMSHRIP ଭାବରେ କୋଡ୍ କରାଯାଇଛି, ତେବେ RADHA କୁ ନିମ୍ନଲିଖିତ ଭାବରେ କୋଡ୍ କରାଯିବ

- A) DSWZK
- B) ZSWZI
- C) ZMWZI
- D) IZWSB

25) Select one of the following four options that will make the 2nd pair analogous to the 1st pair given

Novelty : Oldness :: Newness: ?

- A) Model
- B) Antiquity
- C) Discovery
- D) Culture

25) ନିମ୍ନଲିଖିତ ଚାରୋଟି ବିକଳ୍ପ ମଧ୍ୟରୁ ଗୋଟିଏ ଚୟନ କରନ୍ତୁ ଯାହାକି ଦିଆଯାଇଥିବା 1ମ ଯୋଡ଼ା ସଦୃଶ 2ୟ ଯୋଡ଼ା ପ୍ରସ୍ତୁତ କରିବ

ନବୀନତା : ପୁରାତନତା :: ନୂତନତା : ?

- A) ମଡେଲ୍
- B) ପ୍ରାଚୀନତା
- C) ଆବିଷ୍କାର
- D) ସଂସ୍କୃତି

Section 3 - Paper I Computer Literacy

No. of Questions: 10

26) You need to save an existing word document in another name. Which of the following options will you use?

- A) Save As
- B) Save
- C) Edit
- D) Insert

26) ଏକ ବିଦ୍ୟମାନ ଖର୍ଚ୍ଚ ତତ୍ତ୍ୱମାନଙ୍କୁ ଅନ୍ୟ ନାମରେ SAVE କରିବା ଆବଶ୍ୟକ। ତୁମେ ନିମ୍ନଲିଖିତ ବିକଳ୍ପଗୁଡ଼ିକ ମଧ୍ୟରୁ କେଉଁଟି ବ୍ୟବହାର କରିବ?

- A) Save As
- B) Save
- C) Edit
- D) Insert

27) Which one of the following is the fastest memory in terms of speed ?

- A) RAM
- B) CACHE
- C) DVD
- D) HDD

27) ଗତି ଦୃଷ୍ଟିରୁ ନିମ୍ନଲିଖିତ ମଧ୍ୟରୁ କେଉଁଟି ଦ୍ରୁତତମ ମେମୋରୀ?

- A) RAM
- B) CACHE
- C) DVD
- D) HDD

28) Operating system acts as an interface between

- A) Hardware and software
- B) RAM and CPU
- C) Input and output devices
- D) Motherboard and display

28) ଅପରେଟିଂ ସିଷ୍ଟମ୍ କାହା କାହା ମଧ୍ୟରେ ଏକ ଇଣ୍ଟରଫେସ୍ ଭାବରେ କାର୍ଯ୍ୟ କରେ?

- A) ହାର୍ଡୱେୟାର୍ ଏବଂ ସଫ୍ଟୱେୟାର୍
- B) RAM ଏବଂ CPU
- C) ଇନପୁଟ୍ ଏବଂ ଆଉଟପୁଟ୍ ଡିଭାଇସ୍
- D) ମଦରବୋର୍ଡ୍ ଏବଂ ଡିସ୍କ୍

29) What is a web browser?

- A) A kind of spider.
- B) A computer that stores World Wide Web files.
- C) A person who likes to look at websites.
- D) A software program that allows you to access sites on the World Wide Web.

29) ଏକ web browser କଣ?

- A) ଏକ ପ୍ରକାର ସ୍ଥାଇଟର୍
- B) ଏକ କମ୍ପ୍ୟୁଟର, ଯାହା ୱାର୍ଲ୍ଡ୍ ୱାଇଡ୍ ୱେବ୍ ଫାଇଲ୍ ରହିତ କରେ
- C) ଜଣେ ବ୍ୟକ୍ତି ଯିଏ ୱେବସାଇଟ୍ ଗୁଡ଼ିକୁ ଦେଖିବାକୁ ପସନ୍ଦ କରନ୍ତି
- D) ଏକ ସଫ୍ଟୱେର୍ ପ୍ରୋଗ୍ରାମ୍ ଯାହା ଆପଣଙ୍କୁ ୱାର୍ଲ୍ଡ୍ ୱାଇଡ୍ ୱେବ୍ରେ ସାଇଟ୍ ଗୁଡ଼ିକୁ ଅଭିଗମ କରିବାକୁ ଅନୁମତି ଦିଏ

30) Who among the following is the Co-founder of Facebook ?

- A) Bill Gates
- B) Ashton Kutcher
- C) Mark Zuckerberg
- D) Steve Jobs

30) ନିମ୍ନଲିଖିତ ମଧ୍ୟରୁ କିଏ Facebook ର ସହ-ପ୍ରତିଷ୍ଠାତା?

- A) ବିଲ୍ ଗେଟ୍ସ
- B) ଆଷ୍ଟନ୍ କୁଚର୍
- C) ମାର୍କ ଜୁକର୍ବର୍ଗ
- D) ଷ୍ଟିଭ୍ ଜବ୍ସ

31) Excel provides protection at

- A) Only Worksheet level
- B) Only Workbook level
- C) Worksheet and Workbook level
- D) Cell Level

31) EXCEL କେଉଁଠାରେ ସୁରକ୍ଷା ପ୍ରଦାନ କରେ?

- A) କେବଳ Worksheet ସ୍ତର
- B) କେବଳ Workbook ସ୍ତର
- C) Worksheet ଏବଂ Workbook ସ୍ତର
- D) Cell ସ୍ତର

32) **Where is the System Time stored inside the computer?**

- A) CMOS
- B) Hard Disk
- C) RAM
- D) Cache

32) କମ୍ପ୍ୟୁଟର ଭିତରେ ସିଷ୍ଟମ୍ ଟାଇମ୍ କେଉଁଠାରେ ଗଠିତ ଥାଏ?

- A) CMOS
- B) ହାର୍ଡ ଡିସ୍କ
- C) RAM
- D) Cache

33) **The "e" in email stands for?**

- A) Everyday
- B) Electronic
- C) Easy
- D) Economical



33) **email** ରେ " e " ର ଅର୍ଥ କଣ?

- A) Everyday
- B) Electronic
- C) Easy
- D) Economical

34) Which of the following is under the ownership of Indian Railways, Ministry of Railways that provides ticketing, catering, and tourism services for the Indian Railways.

- A) Yatra
- B) BookMyTicket
- C) IRCTC
- D) MakeMyTrip

34) ନିମ୍ନଲିଖିତ ମଧ୍ୟରୁ କେଉଁଟି ଭାରତୀୟ ରେଳବାଇ, ରେଳ ମନ୍ତ୍ରାଳୟର ମାଲିକାନାରେ ଅଛି ଯାହା ଭାରତୀୟ ରେଳବାଇ ପାଇଁ ଟିକେଟ୍, କ୍ୟାଟରିଂ ଏବଂ ପର୍ଯ୍ୟଟନ ସେବା ପ୍ରଦାନ କରେ-

- A) Yatra
- B) BookMyTicket
- C) IRCTC
- D) MakeMyTrip

35) **What does the .com in the URL: www.abcd.com indicate?**

- A) Commercial
- B) Corporate
- C) Co-operative
- D) Conceal

35) **URL: www.abcd.com** ରେ . **com** କଣ ସୂଚିତ କରେ?

- A) ବାଣିଜ୍ୟିକ
- B) କର୍ପୋରେଟ୍
- C) ସମବାୟ
- D) ଗୋପନୀୟତା



Section 4 - Paper I Pedagogy and Evaluation

No. of Questions: 15

36) The term 'learning styles' corresponds to the understanding that every individual learns

- A) differently
- B) similarly
- C) readily
- D) internally

36) 'ଶିକ୍ଷଣ ଶୈଳୀ' ପଦଟି ବୁଝାମଣା ସହିତ ଅନୁରୂପ ଅଟେ ଯାହାର ଅର୍ଥ ପ୍ରତ୍ୟେକ ବ୍ୟକ୍ତି

- A) ଭିନ୍ନ ଭାବରେ ଶିଖନ୍ତି
- B) ସମାନ ଭାବରେ ଶିଖନ୍ତି
- C) ସହଜରେ ଶିଖନ୍ତି
- D) ଆଭ୍ୟନ୍ତରୀଣ ଭାବରେ ଶିଖନ୍ତି

37) Vygotsky believed that learners could achieve much greater level of learning through the help of

- A) More Knowledgeable Other
- B) More Known Other
- C) More Knowing Other
- D) More Knowledge Other

37) ୱାଗୋଟ୍ସ୍କିଙ୍କ ବିଶ୍ୱାସ ଅନୁଯାୟୀ ଶିକ୍ଷାର୍ଥୀମାନେ କାହା ସାହାଯ୍ୟରେ ଅଧିକ ଉଚ୍ଚ ସ୍ତରର ଶିକ୍ଷଣ ହାସଲ କରିପାରିବେ?

- A) ଅନ୍ୟ ଅପେକ୍ଷା ଅଧିକ ଜ୍ଞାନବାନ
- B) ଅନ୍ୟଠୁଁ ଅଧିକ ଜାଣି
- C) ଅନ୍ୟକୁ ଅଧିକ ଜାଣି
- D) ଅନ୍ୟ ଅପେକ୍ଷା ଅଧିକ ଜ୍ଞାନ

38) Formal and informal observation of the students in various activities is an example of

- 1) Formative evaluation
- 2) Diagnostic evaluation

- A) Only 2
- B) Only 1
- C) Both 1 and 2
- D) Neither 1 nor 2

38) ବିଭିନ୍ନ କାର୍ଯ୍ୟକଳାପ ଦ୍ୱାରା ଛାତ୍ରମାନଙ୍କର ଔପଚାରିକ ଏବଂ ଅନୌପଚାରିକ ପର୍ଯ୍ୟବେକ୍ଷଣ କରାଯାଉଛି, ଏହା ନିମ୍ନଲିଖିତର ଏକ ଉଦାହରଣ ଅଟେ

- 1) ଗଠନ ମୂଳକ ମୂଲ୍ୟାୟନ
- 2) ନୈଦାନିକ ମୂଲ୍ୟାୟନ

- A) କେବଳ 2
- B) କେବଳ 1
- C) ଉଭୟ 1 ଏବଂ 2
- D) 1 କିମ୍ବା 2 କୌଣସି ବି ନୁହେଁ

39) From constructivist perspective what is a deciding factor in learning?

- A) Pre- Assessment Scores
- B) Post Assessment Scores
- C) Previous Learning
- D) Previous experience

39) ଗଠନମୂଳକ ଦୃଷ୍ଟିକୋଣରୁ ଶିକ୍ଷଣରେ ଏକ ନିର୍ଣ୍ଣାୟକ କାରକ କ'ଣ?

- A) ନିର୍ଦ୍ଧାରଣ-ପୂର୍ବ ସ୍କୋର
- B) ନିର୍ଦ୍ଧାରଣ ପରବର୍ତ୍ତୀ ସ୍କୋର
- C) ପୂର୍ବବର୍ତ୍ତୀ ଶିକ୍ଷଣ
- D) ପୂର୍ବବର୍ତ୍ତୀ ଅଭିଜ୍ଞତା

40) As a teacher, there are some common group activities that you can carry out in your class. Which of the following is NOT one such activity?

- A) Individual Homework
- B) Think-Pair-Share
- C) Role Play
- D) Jigsaw

40) ଜଣେ ଶିକ୍ଷକ ଭାବରେ, କିଛି ସାଧାରଣ ଗୋଷ୍ଠୀ କାର୍ଯ୍ୟକଳାପ ଅଛି, ଯାହାକୁ ତୁମେ ନିଜ ଶ୍ରେଣୀରେ କରିପାରିବ। ନିମ୍ନଲିଖିତ ମଧ୍ୟରୁ କେଉଁଟି ଏପରି କାର୍ଯ୍ୟକଳାପ ନୁହେଁ?

- A) ବ୍ୟକ୍ତିଗତ ଗୃହକାର୍ଯ୍ୟ
- B) ଭାବ -ପେୟାର କର -ସେୟାର କର
- C) ଭୂମିକା ଅଭିନୟ
- D) ଜିଗ୍ସା

41) Diagnostic evaluation focuses on

- A) Strengths of the teacher
- B) misconceptions of the learner
- C) Competitiveness of the subject
- D) Patience of the learner

41) ନୈଦାନିକ ମୂଲ୍ୟାୟନ କାହା ଉପରେ ଧ୍ୟାନ ଦେଇଥାଏ?

- A) ଶିକ୍ଷକଙ୍କ ଶକ୍ତି
- B) ଶିକ୍ଷାର୍ଥୀଙ୍କର ଭ୍ରାନ୍ତ ଧାରଣା
- C) ବିଷୟର ପ୍ରତିଯୋଗୀତା
- D) ଶିକ୍ଷାର୍ଥୀଙ୍କର ଯୈର୍ଯ୍ୟ

42) Which of the following is an important component of group work?

- A) size
- B) problem
- C) supervision
- D) expense

42) ନିମ୍ନଲିଖିତ ମଧ୍ୟରୁ କେଉଁଟି ଗୋଷ୍ଠୀ କାର୍ଯ୍ୟର ଏକ ଗୁରୁତ୍ୱପୂର୍ଣ୍ଣ ଉପାଦାନ?

- A) ଆକାର
- B) ସମସ୍ୟା
- C) ତଦାରଖ
- D) ଖର୍ଚ୍ଚ

43) Which of the following is an advantage of group learning

- A) encourages individuality
- B) creates confusion
- C) reduces participation
- D) encourages collaboration

43) ନିମ୍ନଲିଖିତ ମଧ୍ୟରୁ କେଉଁଟି ଗୋଷ୍ଠୀ ଶିକ୍ଷଣର ଏକ ଲାଭ ଅଟେ?

- A) ବ୍ୟକ୍ତିଗତତାକୁ ଉତ୍ସାହିତ କରେ
- B) ବୁଝି ସୃଷ୍ଟି କରେ
- C) ଅଂଶଗ୍ରହଣକୁ ହ୍ରାସ କରେ
- D) ସହଯୋଗକୁ ଉତ୍ସାହିତ କରେ

44) Which of the following factors hinders inclusion practices?

- A) Sensitisation
- B) Capacity building
- C) Parent involvement
- D) Segregation

44) ନିମ୍ନଲିଖିତ କାରଣଗୁଡ଼ିକ ମଧ୍ୟରୁ କେଉଁଟି ଅନ୍ତର୍ଭୁକ୍ତି ମୂଲ୍ୟବୋଧର ବାଧା ହୋଇଥାଏ?

- A) ସମ୍ବେଦନଶୀଳତା
- B) ଦକ୍ଷତା ବୃଦ୍ଧି
- C) ପିତାମାତାଙ୍କ ଯୋଗଦାନ
- D) ବିଭାଜନ

45) Which of the following is a feature of a standardized test?

- A) They are commercially prepared
- B) They have no uniform procedures
- C) They are scored on the bases of requirement
- D) They can be used only on a small group

45) ନିମ୍ନଲିଖିତ ମଧ୍ୟରୁ କେଉଁଟି ଏକ ମାନକ ପରୀକ୍ଷଣର ବୈଶିଷ୍ଟ୍ୟ ଅଟେ?

- A) ସେଗୁଡ଼ିକ ବ୍ୟବସାୟିକ ଭାବରେ ପ୍ରସ୍ତୁତ
- B) ସେମାନଙ୍କର କୌଣସି ଏକା ଧରଣର ପ୍ରଣାଳୀ ନାହିଁ
- C) ସେଗୁଡ଼ିକ ଆବଶ୍ୟକତା ଆଧାରରେ ଷ୍ଟୋର କରାଯାଏ
- D) ସେଗୁଡ଼ିକ କେବଳ ଏକ ଛୋଟ ଗୋଷ୍ଠୀରେ ବ୍ୟବହାର କରାଯାଇପାରିବ

46) Assessment as Learning occurs when

- A) Learners progress is monitored by peers
- B) Learners progress is monitored by teachers
- C) Learners personally monitor their own learning
- D) Learners progress is monitored by parents

46) ଶିକ୍ଷଣ ପରି ନିର୍ଦ୍ଧାରଣ ସେତେବେଳେ ହୁଏ, ଯେତେବେଳେ

- A) ଶିକ୍ଷାର୍ଥୀମାନଙ୍କର ଅଗ୍ରଗତି ସାଥୀମାନଙ୍କ ଦ୍ୱାରା ତଦାରଖ କରାଯାଏ।
- B) ଶିକ୍ଷାର୍ଥୀମାନଙ୍କ ଅଗ୍ରଗତି ଶିକ୍ଷକମାନଙ୍କ ଦ୍ୱାରା ତଦାରଖ କରାଯାଏ।
- C) ଶିକ୍ଷାର୍ଥୀମାନେ ବ୍ୟକ୍ତିଗତ ଭାବରେ ସେମାନଙ୍କର ନିଜ ଶିକ୍ଷଣ ଉପରେ ନଜର ରଖନ୍ତି।
- D) ପିତାମାତାଙ୍କ ଦ୍ୱାରା ଶିକ୍ଷାର୍ଥୀମାନଙ୍କର ଅଗ୍ରଗତି ଉପରେ ନଜର ରଖାଯାଏ।

47) Examine the Following Statements and identify which of the statements is TRUE.

- I) Learning is possible only when a certain stage of maturation is also reached.
 - II) Exercise and training become fruitful only when a certain stage of maturation is attained
- A) Only I is true
 - B) Only II is true
 - C) Both I & II are true
 - D) Nither I and II are true

47) ନିମ୍ନଲିଖିତ ବିବୃତ୍ତିଗୁଡ଼ିକୁ ପରୀକ୍ଷା କରନ୍ତୁ ଏବଂ ବିବୃତ୍ତିଗୁଡ଼ିକ ମଧ୍ୟରୁ କେଉଁଟି ସତ୍ୟ ଚିହ୍ନଟ କରନ୍ତୁ।

I) ପରିପକ୍ୱତାର ଏକ ନିର୍ଦ୍ଦିଷ୍ଟ ପର୍ଯ୍ୟାୟରେ ପହଞ୍ଚିବା ପରେ ହିଁ ଶିକ୍ଷଣ ସମ୍ଭବ ହୁଏ।

II) ବ୍ୟାୟାମ ଏବଂ ତାଲିମ କେବଳ ଫଳପ୍ରସ୍ତୁତ ହୁଏ ଯେତେବେଳେ ପରିପକ୍ୱତାର ଏକ ନିର୍ଦ୍ଦିଷ୍ଟ ପର୍ଯ୍ୟାୟ ପ୍ରାପ୍ତ ହୁଏ।

A) କେବଳ I ସତ୍ୟ ଅଟେ

B) କେବଳ II ସତ୍ୟ ଅଟେ

C) ଉଭୟ I ଏବଂ II ସତ୍ୟ ଅଟେ

D) I ଏବଂ II ମଧ୍ୟରୁ କେଉଁଟି ବି ସତ୍ୟ ନୁହେଁ

48) Match the Following names with the the theories they created:

Names	Theory
1) Maslow's	a) Theory of Cognitive Developmental
2) Henry Murray's	b) Theory of Motivation
3) Piaget	c) Theory of hierarchy

A) 1-a 2-c 3-b

B) 1-b 2-a 3 c

C) 1-c 2-a 3-b

D) 1-c 2-b 3-a

48) ନିମ୍ନଲିଖିତ ନାମଗୁଡ଼ିକ ସହିତ ସେମାନେ ସୃଷ୍ଟି କରିଥିବା ସିଦ୍ଧାନ୍ତର ମେଳ କରନ୍ତୁ :

ନାମଗୁଡ଼ିକ	ସିଦ୍ଧାନ୍ତ
1) ମାସଲୋସ୍	a) ବୈଦିକ ବିକାଶର ସିଦ୍ଧାନ୍ତ
2) ହେନରୀ ମ୍ୟୁରୀସ୍	b) ଅଭିପ୍ରେରଣାର ସିଦ୍ଧାନ୍ତ
3) ପିଆଜେ	c) ପଦାନୁକ୍ରମର ସିଦ୍ଧାନ୍ତ

A) 1-a 2-c 3-b

B) 1-b 2-a 3-c

C) 1-c 2-a 3-b

D) 1-c 2-b 3-a

49) Which of the following should be given importance in school based evaluations?

- A) Teach and test learners frequently
- B) Exam centric approach
- C) Less autonomy and focus on learners
- D) Provide constructive feedback to improve learning

49) ବିଦ୍ୟାଳୟ ଭିତ୍ତିକ ମୂଲ୍ୟାୟନରେ ନିମ୍ନଲିଖିତ ମଧ୍ୟରୁ କେଉଁଟିକୁ ଗୁରୁତ୍ୱ ଦିଆଯିବା ଉଚିତ୍?

- A) ଶିକ୍ଷାର୍ଥୀମାନଙ୍କୁ ବାରମ୍ବାର ଶିକ୍ଷାଦାନ ଦେବା ଏବଂ ପରୀକ୍ଷା କରିବା
- B) ପରୀକ୍ଷା କେନ୍ଦ୍ରିକ ଆଭିମୁଖ୍ୟ
- C) କମ୍ ସ୍ୱାୟତ୍ତତା ଏବଂ ଶିକ୍ଷାର୍ଥୀମାନଙ୍କ ଉପରେ ଧ୍ୟାନ ଦେବା
- D) ଶିକ୍ଷଣରେ ଉନ୍ନତି ଆଣିବା ପାଇଁ ଗଠନମୂଳକ ମତାମତ ପ୍ରଦାନ କରିବା

50) Which of the following is a learner centered activity?

- A) A student role plays
- B) A student listens to a lecture
- C) A student follows instructions of the teacher
- D) A student copies notes from the board

50) ନିମ୍ନଲିଖିତ ମଧ୍ୟରୁ କେଉଁଟି ଏକ ଶିକ୍ଷାର୍ଥୀ କେନ୍ଦ୍ରିକ କାର୍ଯ୍ୟକଳାପ?

- A) ଛାତ୍ର ଜଣକ ଭୂମିକା ନିଭାଇଥାଏ
- B) ଛାତ୍ର ଜଣକ ଏକ ବକ୍ତୃତା ଶୁଣେ
- C) ଛାତ୍ର ଜଣକ ଶିକ୍ଷକଙ୍କ ନିର୍ଦ୍ଦେଶକୁ ଅନୁସରଣ କରେ
- D) ଛାତ୍ର ଜଣକ ବୋର୍ଡ଼ରୁ ନୋଟ୍ ନକଲ କରେ

Section 5 - Paper II History and Political Science

No. of Questions: 15

51) Who was the Royal Doctor (Raj Vaidya) in the court of Kanishka?

- A) Sushruta
- B) Charaka
- C) Varahamihira
- D) Patanjali

52) Who was the leader of Bolshevic Party in Russian Revolution?

- A) Stalin
- B) Trotsky
- C) Lenin
- D) Kerensky

53) Pulakesin II posed a great threat to Harshavardhan near the river Narmada, which dynasty does Pulakesin II belong to?

- A) Maitrakas
- B) Gurjaras
- C) Malwas
- D) Chalukyas

54) Who coined the name "Safety Valve" for the Indian National Congress?

- A) A.O. Hume
- B) Swami Vivekanand
- C) Lala Lajpat Rai
- D) Annie Beasant

55) Where was Peacock Throne housed?

- A) Diwan-i-khas
 - B) Diwan-I-Aam
 - C) Jama Masjid
 - D) Taj Mahal
-

56) Which of the following were the beneficial works of Firoz Tughlaq?

- A) Diwan-i-Kherat,
- B) Darul Shafa,
- C) Rationing of the market

- A) Only A and B
 - B) Only B and C
 - C) Only A and C
 - D) Only A ,B and C
-

57) Where are the famous Caves, (a group of 15 caves) known as Khandagiri Caves situated?

- A) Lonawala
 - B) Bhubaneshwar
 - C) Cherrapunji
 - D) Vijaywada
-

58) What is the correct Chronological order of all the following communal activities taking place in India?

- a) Atlee's Declaration,
- b) Cabinet Mission,
- c) August Offer,
- d) Direct Action Day

- A) a,b,c,d
 - B) b,c,d,a
 - C) c,b,d,a
 - D) a,c,d,b,
-

59) Which of the following option is chronologically correct regarding the annexation of indian States by Lord Dalhousie through his policy of Doctrine Of Lapse?

- a) Satara, b) Nagpur, c) Sambhalpur, d) Jhansi

- A) a,b,c,d
 - B) a,c,d,b
 - C) d,c,b,a
 - D) d,b,c,a
-



60) Which of the cities were bombarded by America in the Second World war?

- A) Hiroshima and Nagasaki
 - B) Beijing and Shanghai
 - C) Taipei City and Keelung
 - D) New York and Chikago
-

61) Identify the INCORRECT option with reference to Article 19 of the Constitution of India.

- A) Right to assemble peaceably and without arms
 - B) Right to move freely throughout the territory of India
 - C) Right to acquire, hold and dispose of property in any part of India
 - D) Right to form associations or unions
-

62) To be appointed as a Judge of a Supreme Court, a person should have served a minimum of how many years as a Judge of a High Court?

- A) 2 years
 - B) 5 years
 - C) 3 years
 - D) 10 years
-

63) In which year did the United Nations General Assembly adopt the Universal Declaration of Human Rights (UDHR)?

- A) 1948
 - B) 1952
 - C) 1956
 - D) 1945
-

64) As per the Constitution of India, in general, the minimum and maximum strength of the Legislative Assembly of a State is:

- A) 50 and 450 respectively
 - B) 50 and 500 respectively
 - C) 60 and 500 respectively
 - D) 40 and 450 respectively
-

65) Who quoted these lines, "We should repay the favours of others by acts of kindness; so also should we return evil for evil in which there is no sin, for it is necessary to pay a wicked man in his own coin"?

- A) Kautilya
- B) Jawaharlal Nehru
- C) Mahatma Gandhi
- D) Varahamihira



Section 6 - Paper II Geography and Economics

No. of Questions: 15

66) What is called when rainfall caused due to presence of the mountains in the way of winds?

- A) Cyclone rain
- B) Advectional rain
- C) Convectional rain
- D) Orographic rain

67) What is known as when the tide-producing forces of the sun and moon act in a straight line complementing each other?

- A) Normal tides
- B) Tidal bones
- C) Spring tides
- D) Neap tides

68) Which of the following city experiences rainfall during November December, i.e. Retreating Monsoons?

- A) Mumbai
- B) Bangalore
- C) Chennai
- D) Kochi

69) Identify the season based on the situation.

The snowy season is finished and the evenings are light again.
I don't like the dark evening.

I love the flowers in the parks and gardens, and seeing the leaves grow on the trees.

- A) Spring
- B) Summer
- C) Monsoon
- D) Autumn

70) Which state has facing land degradation due to over irrigation in India?

- A) Madhya Pradesh
- B) Odisha
- C) Gujarat
- D) Punjab

71) When average of weather conditions over a long period say over ten years more are chartered on a map known as _____.

- A) Weather map
- B) Climate map
- C) Meteorology map
- D) Physical map

72) Why does temperature generally decrease toward the poles?

- A) Air movement is generally towards the equator
- B) Cold polar air masses prevent surface heating of the land
- C) Cold surface does not absorb solar energy as readily as warm
- D) Less solar energy per unit area falls in the polar region

73) Why does people suffer from nose and ear bleed at higher altitude on the mountains?

- A) Since the atmospheric pressure decreases with increasing altitude
- B) Since the atmospheric pressure increases with increasing altitude
- C) Since the atmospheric pressure decreases with decreasing altitude
- D) Since there is no change occur in the atmospheric pressure

74) Observe the house built in the hilly areas and why do people build this type of house?



- A) Hilly area experiences lot of rain and snow
- B) Hilly area experiences lot of heat from the Sun
- C) Hilly area has less place to create the house
- D) Hilly area has more wood to built wood house

75) Chotanagpur plateau region has the maximum concentration of iron and steel industries. These include:

- i) low cost of iron ore
- ii) high grade raw materials in proximity
- iii) cheap labour
- iv) vast growth potential in the home market

Choose the code below:

- A) (i) and (ii) are correct
- B) (iii) and (iv) are correct
- C) (i) (ii) (iii) are correct
- D) (i) (ii) (iii) (iv) are correct

76) What is the calories intake in rural and urban areas respectively in India?

- A) 2400:2100 calories
 - B) 2100:2400 calories
 - C) 1800:2100 calories
 - D) 2100:1800 calories
-

77) Annual rate of interest of Inflation was highest in which of the following years in India?

- A) 2009-2010
 - B) 2010-2011
 - C) 2011-2012
 - D) 2012-2013
-

78) Which year did the Kyoto protocol come into force on efforts to control Global warming?

- A) 2005
 - B) 2008
 - C) 2010
 - D) 2011
-

79) Which of the following economies envisages "Socialist Pattern "?

- A) Dictatorship or Fascism
 - B) Mixed Economy
 - C) Free Economy
 - D) Public sector
-

80) Which of the following committee is related to Banking Sector recommendations?

- A) Kothari committee
- B) Sarkaria committee
- C) Narasimham committee
- D) Sawant committee

Section 7 - Paper II English

No. of Questions: 35

Read the Poem and answer the questions. (Q.No. 81 to 87)

The Solitary Reaper

Behold her, single in the field,
Yon solitary Highland Lass!
Reaping and singing by herself;
Stop here, or gently pass!
Alone she cuts and binds the grain,
And sings a melancholy strain;
O listen! for the Vale profound
Is overflowing with the sound.

No Nightingale did ever chaunt
More welcome notes to weary bands
Of travellers in some shady haunt,
Among Arabian sands:
A voice so thrilling ne'er was heard
In spring-time from the Cuckoo-bird,
Breaking the silence of the seas
Among the farthest Hebrides.

...

Whate'er the theme, the Maiden sang
As if her song could have no ending;
I saw her singing at her work,
And o'er the sickle bending; —
I listened, motionless and still;
And, as I mounted up the hill,

The music in my heart I bore,
Long after it was heard no more.

81) The poem indicates that the worker is a _____.

- A) boy
 - B) girl
 - C) old man
 - D) old woman
-

82) The reaper is working _____.

- A) alone
 - B) with a friend
 - C) with a group
 - D) with her family
-

83) The reaper is singing what kind of a song?

- A) A happy song
 - B) A popular song
 - C) A sad song
 - D) A victorious song
-

84) The Reaper is using which of the following instruments?

- A) A machine
 - B) A knife
 - C) A cutter
 - D) A sickle
-

85) The poet says that even after he left the place he

- A) was unhappy about the song
 - B) remembered the song for a short time
 - C) remembered the song for a long time
 - D) was trying to understand the song
-

86) The poem indicates that the worker is working in a

- A) hillside
 - B) seaside
 - C) vilage
 - D) crowded place
-

87) The poet finds the song _____.

- A) irritating
 - B) annoying
 - C) enchanting
 - D) intrusive
-

Read the Passage and answer the questions: (Q.No.: 88 to 95)

Nile River

The Nile is a major north-flowing river in north-eastern Africa. It flows into the Mediterranean Sea. The longest river in Africa, it has historically been considered the longest river in the world. The Nile is amongst the smallest of the major world rivers by measure of cubic metres flowing annually. About 6,650 km long, its drainage basin covers eleven countries: Tanzania, Uganda, Rwanda, Burundi, the Democratic Republic of the Congo, Kenya, Ethiopia, Eritrea, South Sudan, Republic of the Sudan, and Egypt. The Nile has two major tributaries – the White Nile, which begins at Jinja, Lake Victoria, and the Blue Nile. The White Nile is traditionally considered to be the headwaters stream. However, the Blue Nile is the source of most of the water of Nile downstream, containing 80% of the water and silt. The White Nile is longer and rises in the Great Lakes region. It begins from Uganda Lake Victoria, Uganda and South Sudan. The Blue Nile begins at Lake Tana in Ethiopia and flows into Sudan from the southeast. The two rivers meet at the Sudanese capital of Khartoum. The northern section of the river flows north almost entirely through the Sudanese desert to Egypt, where Cairo is located on its large delta and the river flows into the Mediterranean Sea at Alexandria. Nearly all the cultural and historical sites of Ancient Egypt developed and are found along river banks.

88) The Nile flows towards the _____.

- A) north
 - B) south
 - C) east
 - D) west
-

89) The Nile has _____ major tributaries.

- A) 5
- B) 4
- C) 3
- D) 2

90) The Nile flows through _____ countries.

- A) 3
- B) 5
- C) 7
- D) 11

91) The Nile is among the smallest rivers in terms of _____.

- A) length
- B) volume
- C) width
- D) depth

92) The two major tributaries of the Nile merge at _____.

- A) Egypt
- B) Cairo
- C) Khartoum
- D) Alexandria

93) Lake Tana is in the country of _____.

- A) Egypt
- B) Uganda
- C) Sudan
- D) Ethiopia

94) The city of Khartoum is in the country of _____.

- A) Egypt
- B) Uganda
- C) Sudan
- D) Ethiopia

95) The Nile merges into _____

- A) Lake Tana
 - B) The Blue Nile
 - C) Lake Victoria
 - D) The Mediterranean Sea
-

96) Select the correct form of tense of the highlighted verb.

She **has eaten** a pomegranate.

- A) Present perfect past continuous
 - B) Present simple
 - C) Present Continuous
 - D) Present Perfect
-

97) Identify the given kind of sentence.

What an awesome picture!

- A) Exclamatory
 - B) Declarative
 - C) Imperative
 - D) Interrogative
-

98) Choose the correctly punctuated sentence. . . .

- A) Maya said, " Get out of my room."
 - B) Maya said " Get out of my room."
 - C) Maya said, Get out of my room.
 - D) Maya said: Get out of my room.
-

99) Choose the direct speech of the given sentence:

I asked him why he wasn't working hard.

- A) I said to him, "Why is you working so hard?"
 - B) I said to him, "Why don't you work so hard?"
 - C) I said to him, "Why are you not working hard?"
 - D) I said to him, "Why are they working so hard?"
-

100) Choose any one of the correct sentence to make passive voice of the given sentence.

The report was prepared by her.

- A) She prepared the report.
 - B) She prepares the report.
 - C) She preparing the reports.
 - D) She did preparing of report.
-

101) Choose the correct form of verb to complete the sentence.

The birds had _____ high up in the sky.

- A) flown
 - B) flew
 - C) fly
 - D) are flying
-

102) Choose the correct clause pattern for the given sentence.

Sumit's family hikes the Himalayan Mountain Trail every year.

- A) subject + verb + direct object + indirect object
 - B) subject + verb + direct object
 - C) subject + verb + linking verb
 - D) subject + verb + complimentary verb
-

103) Choose the word that is correctly spelt.

- A) disinvestmentt
 - B) disadvantage
 - C) disagreeedd
 - D) diameterre
-

104) Choose the passive voice of the given sentence.

He was serving cold drinks.

- A) Cold drinks serving he did
 - B) He served the cold drinks.
 - C) He serves cold drinks.
 - D) Cold Drinks were being served by him.
-

105) Choose the correctly punctuated sentence.

- A) Ketan wants to visit Paris, Italy, Germany, and China.
 - B) Ketan; wants to visit Paris, Italy, Germany, and China.
 - C) Ketan wants to visit, Paris, Italy, Germany, and China.
 - D) Ketan wants to visit Paris, Italy, Germany, China.
-

106) Identify the given kind of sentence.

Do not give her the medicine.

- A) Exclamatory
 - B) Declarative
 - C) Imperative
 - D) Interrogative
-

107) Choose the word that is correctly spelt. .

- A) antibiotic
 - B) anttibiotic
 - C) antibiotick
 - D) anttibioticc
-

108) Identify the correct sentence:;..

- A) Rich must help poor.
 - B) The rich must help poor.
 - C) Rich must help the poor.
 - D) The rich must help the poor.
-

109) Identify the correct sentence:;...

- A) I don't know lest he will come.
 - B) I don't know though he will come.
 - C) I don't know however he will come.
 - D) I don't know whether he will come.
-

110) In which of the following is the underlined letter pronounced as in the given word: UNION

- A) UNLIKE
 - B) UNIFORM
 - C) UNABLE
 - D) UNDER
-

111) In which of the following is the underlined letter pronounced as in the given word: TRADE

- A) TRACK
 - B) TRAIN
 - C) TRAVEL
 - D) TRASH
-

112) Teachers can devise a marking code, so as to maintain uniformity in

- A) correction
 - B) reading
 - C) thinking
 - D) recitation
-

113) The two kinds of reading skills are

- A) silent reading and intensive reading
 - B) silent reading and reading aloud
 - C) reading aloud and extensive reading
 - D) intensive and extensive reading
-

114) It is preferable to begin reading only after developing

- A) basic knowledge in speaking
 - B) comprehension skills
 - C) fluency in speaking
 - D) good writing skills
-

115) The structural approach in English is also known as

- 1) New approach
- 2) Aural-Oral Approach

- A) Only 1
- B) Only 2
- C) Both 1 & 2
- D) Neither 1 nor 2



Section 8 - Paper II Odia

No. of Questions: 35

ପଦ୍ମ କବିତାଂଶକୁ ଧ୍ୟାନ ଦେଇ ପଢ଼ନ୍ତୁ ଏବଂ ସମ୍ବନ୍ଧିତ ପ୍ରଶ୍ନ ଗୁଡ଼ିକର ସଠିକ୍ ଉତ୍ତର ଚୟନ କରନ୍ତୁ। (Q.No.: 116 to 120)

ଦୂରେ ତାଳବଣ ଆକାଶେ ଶୁଣାଏ ମାଟିର କବିତା କି ସେ

ଏ ଗ୍ରାମର ପଥ ଚହଁ ଦିଗନ୍ତେ ମିଶେ

କ୍ଷେତ ପରେ କ୍ଷେତ

କାଶ ପୁଲ ଆଉ ବେଶାରେ ଜଟିଳ ପାଟ,

ପାଟ ପରେ ବଣ, ବଣ ପାରିହେଲେ ମାମୁଁଘର ଗାଆଁ ଦିଶେ ।

ପଥର ସେ ପାଖେ ବୁଣା ହରଡ଼ ଓ ବୁଟ

ଆଗରେ ଚାରଣ ପଢ଼ିଆ ଗୋରୁର ଗୋଠ,

ଶିମୁଳି ଶାଖାରେ ବାହୁନେ କପୋତା

ଉଠୁ ପୁତ ଉଠୁ

ଉଠୁ ପୁରିଲାଣି ମାଣ ।

ଏପାଖେ କଇଁର ଗାଧୁଆ ପୋଖରୀ ତୁଠ

ଭୁଆସୁଣୀ ମାଜେ ପାଦର ପାହୁଡ଼ ଏଠି

ମୁକୁଳା ବେଶାରେ ପଖାଳେ ଦେଇଣ ମେଥୁ

ନଶାଦ ତାହାର ଅଧିକ ଚତୁରୀ

ଗାଳରେ ହଳଦୀ ମାଖେ

ହଲିଲା ପାଣିରେ ମୁହଁର ଛାଇକି ଦେଖୁ ।

ପୋଇଶାଗ ଆଉ ପାଣିକଖାରୁର ଲତା

ମାଡ଼ି ମାଡ଼ି ଆସି ଚପିଲାଣି ଘର ମଥା

ସଜନାର ଶାଗୁଁ

ଝଡ଼ିପଡ଼େ କେତେ ପୁଲ

ବାଡ଼ ଦେହେ ପୁଣି ଅପରାଜିତାର ଛଟା

ସେଇପଥେ ଯେରେ ଗ୍ରାମବଧୂ ସାରି ସକାଳ ସ୍ନାହାନ ଏକା

ଧୂଳିରେ ଆଜି ସଜଳ ଚରଣ ରେଖା ।

116) କବିତା ବର୍ଣ୍ଣିତ ପ୍ରସଙ୍ଗ ଅନୁଯାୟୀ ଦିଗନ୍ତରେ କ'ଣ ମିଶେ ବୋଲି କବି କହିଛନ୍ତି?

- A) ଦୂର ତାଳବଣ
- B) ଗ୍ରାମର ପଥ
- C) ପାଟ ଆଉ ବଣ
- D) ଦିଗନ୍ତବିସ୍ତାରୀ ପଥ

117) ଶିମୁଳି ଶାଖାରେ କପୋତୀ କ'ଣ କହି ବାହୁନେ?

- A) ଉଠ୍ ପୁତ ଉଠ୍ ଉଠ୍ ପୁରିଲାଣି ମାଣ
- B) ଉଠ୍ ପୁରିଲାଣି ମାଣ
- C) ଉଠ୍ ପୁତ ଉଠ୍
- D) ଉଠିଯା ମାଣ ପୁରିଲାଣି

118) ଘରର ମଥା କିଏ ଚପିଲାଣି?

- A) ପୋଇଶାଗ ଏବଂ ପାଣିକଖାରୁର ଲତା
- B) ପାଣିକଖାରୁ ଲତା
- C) ପୋଇଶାଗ ଏବଂ କଖାରୁ ଲତା
- D) ପୋଇଶାଗ ଓ ସଜନା ଗଛ

119) 'ଭୁଆସୁଣୀ' ଶବ୍ଦଟି କବିତାରେ କେଉଁ ଅର୍ଥରେ ପ୍ରୟୋଗ କରାଯାଇଛି?

- A) ନାରୀ
- B) ଯୁବତୀ
- C) ବୃଦ୍ଧା
- D) ନବବଧୂ

120) 'ଦିଗନ୍ତ' କୁ ସନ୍ଧିବିଚ୍ଛେଦ କଲେ କ'ଣ ହେବ?

- A) ଦିଗ + ଅନ୍ତ
- B) ଦିକ୍ + ଅନ୍ତ

- C) ଦିଲ୍ + ଅନ୍ତ
D) ଦିଃ + ଗନ୍ତ

ପ୍ରବନ୍ଧ ଅନୁଲେଖକଙ୍କୁ ଧ୍ୟାନ ଦେଇ ପଢ଼ନ୍ତୁ ଏବଂ ସମ୍ବନ୍ଧିତ ପ୍ରଶ୍ନ ଗୁଡ଼ିକର ସଠିକ୍ ଉତ୍ତର ଚୟନ କରନ୍ତୁ। (Q.No.: 121 to 125)

ବିଜ୍ଞାନ ଦୃଷ୍ଟିରେ ଅରଣ୍ୟର ଅବସ୍ଥିତି ଦ୍ଵାରା ଦେଶର ତଥା ମାନବ ସମାଜର ବହୁବିଧ ଉପକାର ସାଧିତ ହୋଇଥାଏ। ମାନବର ଜୀବନଧାରଣ ନିମିତ୍ତ ଜଳ ତଥା ଶସ୍ୟ ଅତ୍ୟନ୍ତ ପ୍ରୟୋଜନୀ। ତେବେ ଏହି ଦୁଇଟି ଉପାଦାନ ମୂଳତଃ ମେଘବର୍ଷାରୁ ମିଳିଥାଏ। ଘଞ୍ଚ ଅରଣ୍ୟ ଥିବା ଅଞ୍ଚଳରେ ପ୍ରଚୁର ବୃକ୍ଷପାତ ହୁଏ। ଏହି କାରଣରୁ ଓଡ଼ିଶାର ଅରଣ୍ୟ ଓଡ଼ିଶା ନିମିତ୍ତ ଖୁବ୍ ଉପାଦେୟ। ଅରଣ୍ୟ ମଧ୍ୟ ମୃତ୍ତିକା ସଂରକ୍ଷଣରେ ବିଶେଷ ଭାବରେ ସହାୟକ ହୁଏ। ତେବେ ଆମ ଓଡ଼ିଶାର ପ୍ରାୟ ୪୭ ହଜାର ବର୍ଗ କିଲୋମିଟର ଅଞ୍ଚଳ ମୂଲ୍ୟବାନ୍ ଅରଣ୍ୟରେ ପରିପୂର୍ଣ୍ଣ । ଅରଣ୍ୟରୁ ଲକ୍ଷ ମୂଲ୍ୟବାନ କାଠ, ଝୁଣା, ମହୁଲ, ଲାଖ ଔଷଧୀୟ ସାମଗ୍ରୀ ଆମର ଅନେକ ଉପକାରରେ ଲାଗିଥାଏ। ବାର୍ଷିକ ପ୍ରାୟ ୧୦୮ କୋଟି ଟଙ୍କା ମୂଲ୍ୟର ଅରଣ୍ୟ ସଂପଦ ଓଡ଼ିଶାର ଅରଣ୍ୟରୁ ହିଁ ସଂଗୃହୀତ ହୋଇଥାଏ। ଶାଳମଞ୍ଜି ଓ କେନ୍ଦୁପତ୍ର ସଂଗ୍ରହରୁ ମଧ୍ୟ ବାର୍ଷିକ ଏକଶହ କୋଟି ଟଙ୍କାର ରାଜସ୍ଵ ଆଦାୟ ହୋଇଥାଏ। ଅରଣ୍ୟରେ ବାସ କରୁଥିବା ପଶୁପକ୍ଷୀ ମଧ୍ୟ ଆମ ନିମିତ୍ତ ମୂଲ୍ୟବାନ୍ ସାମଗ୍ରୀ ଭାବରେ ପରିଗଣିତ ହୋଇଥାଏ। ଅରଣ୍ୟଯାତ କଞ୍ଚାମାଲ ମଧ୍ୟ ହସ୍ତଶିଳ୍ପ ପାଇଁ ବେଶ୍ ଦରକାରରେ ଆସିଥାଏ। ଏଥିସହିତ ଅରଣ୍ୟ ଆମର ଜଳବାୟୁ ନିୟନ୍ତ୍ରଣରେ ଓ ପରିବେଶ ସୁରକ୍ଷାରେ ସହାୟକ ହୋଇଥାଏ।

121) ବିଜ୍ଞାନ ଦୃଷ୍ଟିରେ ଦେଶ ତଥା ମାନବ ସମାଜର କିପରି ବହୁବିଧ ଉପକାର ହୁଏ?

- A) ବିଜ୍ଞାନର ବିକାଶ
B) ଆର୍ଥିକ ବିକାଶ
C) ଅରଣ୍ୟର ଅବସ୍ଥିତି
D) ମାନବ ସମ୍ବଳର ଅବସ୍ଥିତି

122) ଆମ ଓଡ଼ିଶାରେ କେତେ ଅଞ୍ଚଳ ମୂଲ୍ୟବାନ୍ ଅରଣ୍ୟରେ ପରିପୂର୍ଣ୍ଣ?

- A) ୪୭୦ ବର୍ଗ କିମି
B) ୪୭୦୦ ବର୍ଗ କିମି
C) ୪୭୦୦୦ ବର୍ଗ କିମି
D) ୪୭୦୦୦୦ ବର୍ଗ କିମି

123) ମାନବର ଜୀବନ ଧାରଣ ପାଇଁ କ'ଣ ଅତ୍ୟନ୍ତ ପ୍ରୟୋଜନୀ?

- A) ଅର୍ଥ
B) ବାସଗୃହ
C) ପୋଷାକ ପରିଚ୍ଛଦ
D) ଜଳ ତଥା ଶସ୍ୟ

124) ଓଡ଼ିଶାର ଅରଣ୍ୟରୁ କେତେ ଟଙ୍କା ମୂଲ୍ୟର ଅରଣ୍ୟ ସଂପଦ ସଂଗୃହୀତ ହୋଇଥାଏ?

- A) ପ୍ରାୟ ୧୪୭ କୋଟି
- B) ପ୍ରାୟ ୧୦୮ କୋଟି
- C) ପ୍ରାୟ ୧୮ କୋଟି
- D) ପ୍ରାୟ ୧୮୦ କୋଟି

125) ଜଳ ଓ ଶସ୍ୟ କେଉଁଥିରୁ ମିଳିଥାଏ?

- A) ସମୁଦ୍ର
- B) ନଦୀ
- C) ବାୟୁ ମଣ୍ଡଳ
- D) ମେଘବର୍ଷା

126) ନିମ୍ନଲିଖିତ ବାକ୍ୟ ମଧ୍ୟରୁ କେଉଁଟି ଯୌଗିକ ବାକ୍ୟ ଚିହ୍ନଟ କର ।

- A) ଯେଉଁ ଛାତ୍ରମାନେ ପରିଶ୍ରମ କରନ୍ତି, ସେମାନେ ପରୀକ୍ଷାରେ କୃତକାର୍ଯ୍ୟ ହୁଅନ୍ତି।
- B) ପରିଶ୍ରମୀ ଛାତ୍ରମାନେ ପରୀକ୍ଷାରେ କୃତକାର୍ଯ୍ୟ ହୁଅନ୍ତି।
- C) ପରିଶ୍ରମୀ ଛାତ୍ରମାନେ ପରିଶ୍ରମ କରନ୍ତି ଓ ପରୀକ୍ଷାରେ କୃତକାର୍ଯ୍ୟ ହୁଅନ୍ତି।
- D) ଛାତ୍ର ମାନେ ଯଦି ପରିଶ୍ରମ କରିବେ ତେବେ ପରୀକ୍ଷାରେ କୃତକାର୍ଯ୍ୟ ହେବେ ଏବଂ ପୁରସ୍କାର ପାଇ ବିଦ୍ୟାଳୟର ନାମ ରଖିବେ।

127) 'ପୁରୋହିତକୁ ଦକ୍ଷିଣା ଦିଅ' - ରେଖାଙ୍କିତ ପଦର ବିଭକ୍ତି ନିର୍ଣ୍ଣୟ କର ।

- A) ଦ୍ଵିତୀୟା
- B) ତୃତୀୟା
- C) ଚତୁର୍ଥୀ
- D) ପଞ୍ଚମୀ

128) ତୁ ନାଥ' ପର'ମ ଦୟାଳୁ'

ଦୁଷ୍ଟ ନି'ବାରି' ସକ୍ଷ ପାଳୁ' - ଉକ୍ତ ପଦ୍ୟାଂଶଟି କେଉଁ ଛନ୍ଦରେ ରଚିତ?

- A) ବଙ୍ଗଳାଶ୍ରୀ
- B) ଗୁଞ୍ଜରୀ ବା ଭାଗବତ ବାଣୀ
- C) ଦାଣ୍ଡିବୃତ୍ତ
- D) ନଟବାଣୀ

129) 'ଆଗରେ ଜନ୍ମିଅଛି ଯେ' ଏକପଦରେ ପ୍ରକାଶ କଲେ ହେବ -

- A) ଅଗ୍ରଜାତ
- B) ଅଗ୍ରଜନ୍ମିତ
- C) ଅଗ୍ରଜ
- D) ଅଗ୍ରଜନ୍ମ

130) 'କମଳା ବ୍ୟାକରଣ ପଦୁଅଛି' ରେଖାଙ୍କିତ ପଦର କାରକ ନିର୍ଣ୍ଣୟ କର।

- A) କର୍ମ
- B) କର୍ତ୍ତା
- C) ଅପାଦାନ
- D) ଅଧିକରଣ

131) 'ମନ ଦେଇ ପାଠ ପଢ଼ା' ରେଖାଙ୍କିତ କୃଦନ୍ତ ପଦର ଧାତୁ ଓ ପ୍ରତ୍ୟୟ ଚିହ୍ନଟ କର।

- A) ପାଠ୍+ଅ
- B) ପାଠ୍+ଆ
- C) ପଠ୍+ଅ
- D) ପଠ୍+ଆ

132) 'ସ୍ତୁତି ଚିନ୍ତାମଣି' ଗ୍ରନ୍ଥ କିଏ ରଚନା କରିଥିଲେ?

- A) ଅରକ୍ଷିତ ଦାସ
- B) ଭୀମ ଭୋଇ
- C) ଉପେନ୍ଦ୍ର ଭଞ୍ଜ
- D) ସାରଳା ଦାସ

133) ଏକାଧିକ ପଦ ଦ୍ୱାରା ସୃଷ୍ଟ କ୍ରିୟାକୁ କ'ଣ କୁହାଯାଏ?

- A) ମିଶ୍ର କ୍ରିୟା
- B) ଅମିଶ୍ର କ୍ରିୟା
- C) ସକର୍ମକ କ୍ରିୟା
- D) ଅକର୍ମକ କ୍ରିୟା

134) ନିମ୍ନୋକ୍ତ ମଧ୍ୟରୁ ଶୁଦ୍ଧ ଶବ୍ଦଟିକୁ ବାଛା, , ,

- A) ଲପ୍ସିତ
- B) ଲପ୍ସିତ
- C) ଲପ୍ସୀତ
- D) ଲପ୍ସୀତ

135) ନିମ୍ନୋକ୍ତ ମଧ୍ୟରୁ ଶୁଦ୍ଧ ଶବ୍ଦଟିକୁ ବାଛା, , ,

- A) ଆଶ୍ରୀବାଦ
- B) ଆଶ୍ରିବାଦ
- C) ଆଶିର୍ବାଦ
- D) ଆଶୀର୍ବାଦ

136) 'ଦେବାସୁର' - ଏଠାରେ କେଉଁ ସମାସ ହୋଇଛି?

- A) ଦ୍ୱିଗୁ
- B) ବହୁ
- C) ବହୁତ୍ରୀହି
- D) କର୍ମଧାରୟ

137) 'ନିବେଦିତା ଜଣେ ମେଧାବୀ ଛାତ୍ରୀ' ରେଖାଙ୍କିତ ଶବ୍ଦଟିରେ କେଉଁ ପ୍ରତ୍ୟୟ ବ୍ୟବହୃତ ହୋଇଛି?

- A) ଈ
- B) ବିନ୍
- C) ବୀ
- D) ଈବ୍

138) 'କରିଥାଇ ପୂର୍ବରେ ଯେ ଯେଉଁ କର୍ମ

କାଳେ ତାକୁ ତା ଭୋଗ କରାଏ ଧର୍ମ ।

କରାଇ ଯେ ଥିଲେ ଶିବଙ୍କୁ ବିଷପାନ

କେତେବେଳେ ସେ କଥା ନୋହିଲା ଆନ' (ରସକଲ୍ଲୋଳ)

ଉକ୍ତ ପଦ୍ୟାଂଶଟିରେ କେଉଁ ଅଳଙ୍କାର ପ୍ରୟୋଗ ହୋଇଛି?

- A) ଉପମା
- B) ରୂପକ
- C) ଅର୍ଥାନ୍ତରନ୍ୟାସ
- D) ଉତ୍ପ୍ରେକ୍ଷା

139) 'ରାମ ସୁଗ୍ରୀବଙ୍କ ସହିତ ମିତ୍ରତା ସ୍ଥାପନ କରିଥିଲେ।' - କେଉଁ ଅର୍ଥରେ ଏଠାରେ ଶ୍ରୀ ବିଭକ୍ତି ହୋଇଛି?

- A) ମିତ୍ରତା ଅର୍ଥରେ
- B) ସମ୍ବନ୍ଧ ଅର୍ଥରେ
- C) ସହାର୍ଥକ ଶବ୍ଦଯୋଗେ
- D) ଯୋଗ୍ୟ ଅର୍ଥରେ

140) 'ଲବ୍ୟପୁତ୍ର'ର ଠିକ୍ ଅର୍ଥଟି ଚୟନ କର ।

- A) ପୁତ୍ରଷ୍ଟା ପାଇବା ପାଇଁ ଯେ ଚେଷ୍ଟିତ
- B) ପୁତ୍ରଷ୍ଟା ଯାହାର ହାତ ପାଖରେ
- C) ପୁତ୍ରଷ୍ଟା ଲାଭ କରିଅଛନ୍ତି ଯେ
- D) ପୁତ୍ରଷ୍ଟା ଯାହାର ଅତି ଆବଶ୍ୟକ

141) 'ବିବେକାନନ୍ଦଙ୍କ ବକ୍ରବ୍ୟ ସୂଦୟସ୍ୱର୍ଣୀ ଥିଲା।' ରେଖାଙ୍କିତ ଶବ୍ଦଟିର ଧାତୁ ପ୍ରତ୍ୟୟ ଚିହ୍ନଟା।

- A) ବକ୍+ତବ୍ୟ
- B) ବକ୍ର+ୟ
- C) ବକ୍+ତବ୍ୟ
- D) ବର୍+ତବ୍ୟ

142) "ବିଲଙ୍କା ରାମାୟଣ" ଗ୍ରନ୍ଥ କିଏ ରଚନା କରିଛନ୍ତି?

- A) ବ୍ୟାସ ଦେବ
- B) ଜଗନ୍ନାଥ ଦାସ
- C) ସାରଳା ଦାସ
- D) ଦୀନକୃଷ୍ଣ ଦାସ

143) 'ରାମ ପଢୁ ପଢୁ ଶୋଇପଡ଼ିଲା।' ରେଖାଙ୍କିତ ପଦଟିର ସଠିକ୍ ପ୍ରକରଣ ନିର୍ଣ୍ଣୟ କର।

- A) ସମାପିକା
- B) ଅସମାପିକା
- C) ଅକର୍ମକ
- D) କର୍ମକ

144) 'ଅହୈର୍ ର ପାଠଶାଠ କିଛିନାହିଁ ଖାଲି ଖେଳରେ ମନ।' ରେଖାଙ୍କିତ ଶବ୍ଦଟି କି ପ୍ରକାର ପଦ ଅଟେ?

- A) ବିଶେଷ୍ୟ
- B) ବିଶେଷଣ
- C) ସର୍ବନାମ
- D) ଅବ୍ୟୟ

145) 'ଆଖି ପକାଇବା' ରଢ଼ିର ଅର୍ଥ କ'ଣ?

- A) ଆଖି ଖୋଲିଦେବା
- B) ଲୋଭ କରିବା
- C) ଆଖି ଛୁଇଁବା
- D) ଆଖି ବୁଜିଦେବା

146) ନିମ୍ନୋକ୍ତ ମଧ୍ୟରୁ ଶୁଦ୍ଧ ବନାନ ଥିବା ବାକ୍ୟଟି ଚୟନ କରା, , ,

- A) ପୁସ୍କରିଣିରେ ଅନେକ ପତ୍ତାପୁଲ ଫୁଟିଛି।
- B) ପୁଷରାଣିରେ ଅନେକ ପତ୍ତାପୁଲ ଫୁଟିଛି।
- C) ପୁସ୍କରଣୀରେ ଅନେକ ପତ୍ତାପୁଲ ଫୁଟିଛି।
- D) ପୁଷରିଣୀରେ ଅନେକ ପତ୍ତାପୁଲ ଫୁଟିଛି।

147) ନିମ୍ନୋକ୍ତ ମଧ୍ୟରୁ ଶୁଦ୍ଧ ବନାନ ଥିବା ବାକ୍ୟଟି ଚୟନ କରା, , , , ,

- A) କୁଳର ସମିପକୁ ଉପକୁଳ କହନ୍ତି।
- B) କୁଳର ସମୀପକୁ ଉପକୁଳ କହନ୍ତି।
- C) କୁଳର ସାମିପ୍ୟକୁ ଉପକୁଳ କହନ୍ତି।
- D) କୁଳର ସମୀପକୁ ଉପକୁଳ କହନ୍ତି।

148) 'କାମନା ରୂପକ ଅଗ୍ନି' ଉକ୍ତ ବିଗ୍ରହବାକ୍ୟର ସମାସ ନିଷ୍କଳ ପଦ ନିର୍ଣ୍ଣୟ କର ।

- A) କାମାଗ୍ନି
- B) କାମ୍ୟାଗ୍ନି
- C) କାମନାଗ୍ନି
- D) କାମରୂପାଗ୍ନି

149) 'ନୟନ' କୁ ସନ୍ଧି ବିଚ୍ଛେଦ କଲେ ହେବ -

- A) ନୈ + ଅନ
- B) ନୈ + ଯନ
- C) ନ + ଯନ
- D) ନେ + ଅନ

150) 'ବୀରପଣ'- ଉକ୍ତ ଚର୍ଚ୍ଚିତାନ୍ତ ଶବ୍ଦଟିରେ କେଉଁ ଅର୍ଥରେ 'ପଣ' ପ୍ରତ୍ୟୟ ଲାଗିଛି ନିର୍ଦ୍ଦେଶ କର।

- A) ଅଭ୍ୟାସ
- B) ଭାବ
- C) ସ୍ୱଭାବ
- D) ସମ୍ପନ୍ନ



Question Paper No:

76441_26

Answer Key

1	B	31	C	61	C	91	B	121	C
2	B	32	A	62	B	92	C	122	C
3	A	33	B	63	A	93	D	123	D
4	A	34	C	64	C	94	C	124	B
5	C	35	A	65	A	95	D	125	D
6	A	36	A	66	D	96	D	126	C
7	C	37	A	67	C	97	A	127	C
8	A	38	B	68	C	98	A	128	B
9	D	39	D	69	A	99	C	129	C
10	C	40	A	70	D	100	A	130	B
11	D	41	B	71	B	101	A	131	C
12	B	42	A	72	D	102	A	132	B
13	D	43	D	73	A	103	B	133	A
14	A	44	D	74	A	104	D	134	B
15	C	45	A	75	D	105	A	135	D
16	D	46	C	76	A	106	C	136	B
17	D	47	C	77	A	107	A	137	B
18	C	48	D	78	A	108	D	138	C
19	A	49	D	79	B	109	D	139	C
20	C	50	A	80	C	110	B	140	C
21	C	51	B	81	B	111	B	141	D
22	D	52	C	82	A	112	A	142	C
23	C	53	D	83	C	113	B	143	B
24	B	54	C	84	D	114	A	144	D
25	B	55	A	85	C	115	C	145	B
26	A	56	A	86	A	116	B	146	D
27	B	57	B	87	C	117	A	147	D
28	A	58	C	88	A	118	A	148	C
29	D	59	B	89	D	119	D	149	D
30	C	60	A	90	D	120	B	150	B

