

←

CHT- TGT ARTS 2022

E-BOOK-PDF

6,000 MCQ

EXPLANATION

1,500 ଟି ପୂର୍ବ ବର୍ଷର ପ୍ରଶ୍ନ

100% ସଫଳତା



CHT- CONTRACTUAL TEACHER (TGT ARTS) 2022 EXAM !! E-BOOK (PDF) 6,000 BEST MCQ !! CHAPTER WISE QUESTIONS & ANSWER

more

₹199.00 ₹99.00

Validity- 1 Year

English- 1500 (MCQ)...

more

ADD TO CART BUY NOW

[Click Here](#)

←

CHT- TGT CBZ 2022


E-BOOK-PDF

6,000 MCQ

EXPLANATION

750 ଟି ପୂର୍ବ ବର୍ଷର ପ୍ରଶ୍ନ

100% ସଫଳତା



CHT- CONTRACTUAL TEACHER (TGT CBZ SCIENCE) 2022 EXAM !! E-BOOK (PDF) 6,000 BEST MCQ !! CHAPTER WISE QUESTIONS & ANSWER

more

₹199.00 ₹99.00

Validity- 1 Year

Previous Year Question- 750 (2022, 2021 & 2019 Year)...

more

ADD TO CART BUY NOW

[Click Here](#)

←

CHT- TGT PCM 2022


E-BOOK-PDF

6,000 MCQ

EXPLANATION

1,350 ଟି ପୂର୍ବ ବର୍ଷର ପ୍ରଶ୍ନ

100% ସଫଳତା



CHT- CONTRACTUAL TEACHER (TGT PCM SCIENCE) 2022 EXAM !! E-BOOK (PDF) 6,000 BEST MCQ !! CHAPTER WISE QUESTIONS & ANSWER

more

₹199.00 ₹99.00

Validity- 1 Year

Previous Year Question- 1,350 (2022, 2021 & 2019 Year)...

more

ADD TO CART BUY NOW

[Click Here](#)

← Tech of World

HOME VIDEOS PLAYLISTS COMMUNITY

ଆମ Channel ରେ ଦେଖନ୍ତୁ Video

ASO ଓଡ଼ିଶା ପୋଷାଳ **CT ଓ B.Ed**

ଓଡ଼ିଶା ପୋଲିସ **SSC GD Railway**



Tech of World

SUBSCRIBE

315K subscribers • 928 videos

Hello ସାଙ୍ଗ ମାନେ !! ଆମେ ଏହି Channel ରେ ପ୍ରଚାରଣ Educational Video

Free ରେ ଚୋଷପାଇବେ ଯେଉଁ ଚେନେଲର ନାମଟି ଏହି "Tech Of World" Channel କୁ ...

+2 କିମ୍ବା +3 ପଢ଼ିବା ପରେ

କେମିତି ଜଣେ ଶିକ୍ଷକ

ହେଇପାରିବେ ?

CT ଓ B.Ed ପରେ କଣ ?



How To Become A Teacher After +2 Or +3 In Odisha ? How To Get A Teacher Job In Odisha ?

Tech of World · 176K views · 3 years ago

Home Shorts Subscriptions Library

[Click Here](#)

←

Tech Of World- (Odisha Exam CT)

Tech Of World

Uninstall Open

Your Review

sujit kumar naik ★★★★★ 6/29/21

Edit your review

Developer contact

About this app

Tech Of World (Odisha Exam) Provides Mock Test & E-Books For Different Exams

Education

3.8 ★ 422 reviews 422 reviews Rated for 3+ 50K+ Downlo.

TECH OF WORLD Mock Test

[Click Here](#)

← Tech Of World 4.1K subscribers

ASO English 2022 By... 8.7 MB PDF

ASO General Knowledge 2022... 4.9 MB PDF

ASO Math 2022 By Techofworld.in.pdf 4.6 MB PDF

ASO Odia Language 2022 By... 2.9 MB PDF

ASO Reasoning 2022 By... 4.6 MB PDF

3 comments

Broadcast

[Click Here](#)

Section 1 - Paper I General Knowledge and Current Affairs

No. of Questions: 15

1) In August 2021, nine new judges were administered the oath of office as judges of the Supreme Court by Chief Justice of India N.V. Ramana. How many judges among them were women?

- A) Five
- B) Two
- C) Three
- D) Six

1) ଅଗଷ୍ଟ 2021 ରେ, ଭାରତର ପ୍ରଧାନ ବିଚାରପତି ଏନଭି ରମଣାଙ୍କ ଦ୍ୱାରା ନଅ ଜଣ ନୂତନ ବିଚାରପତିଙ୍କୁ ସୁପ୍ରିମକୋର୍ଟର ବିଚାରପତି ଭାବରେ ଶପଥ ପାଠ କରାଯାଇଥିଲା। ସେମାନଙ୍କ ମଧ୍ୟରୁ କେତେ ଜଣ ବିଚାରପତି ମହିଳା ଥିଲେ?

- A) ପାଞ୍ଚ
- B) ଦୁଇଟି
- C) ତିନି
- D) ଛଅ

2) The CoWIN platform was made open-source as a public good to help the world combat Covid-19 at the CoWIN Global Conclave held in July 2021. Which of the following statements is CORRECT with reference to CoWIN?

- A) It is India's COVID-19 contact tracing, syndromic mapping and self-assessment mobile app
- B) It is a Government of India web portal for COVID-19 vaccination registration
- C) It is a smartwatch app that monitors the spread of COVID-19 by collecting pulse rate, body temperature and sleep patterns
- D) It is India's first indigenous, wireless physiological parameters monitoring system for COVID-19 patients

2) ଜୁଲାଇ 2021 ରେ ଅନୁଷ୍ଠିତ କୋଓିନ୍ ଗ୍ଲୋବାଲ୍ କନକ୍ଲେଭରେ ବିଶ୍ୱକୁ କୋଭିଡ୍-19 ର ମୁକାବିଲା କରିବାରେ ସାହାଯ୍ୟ କରିବା ପାଇଁ କୋଓିନ୍ ପ୍ଲାଟଫର୍ମକୁ ସାର୍ବଜନୀନ ସାମଗ୍ରୀର ମୁକ୍ତ ଉତ୍ସ ଭାବରେ ପ୍ରସ୍ତୁତ କରାଯାଇଥିଲା। କୋଓିନ୍ ସନ୍ଦର୍ଭରେ ନିମ୍ନଲିଖିତ ମଧ୍ୟରୁ କେଉଁ ଉକ୍ତି ସଠିକ୍ ଅଟେ?

- A) ଏହା ହେଉଛି ଭାରତର କୋଭିଡ୍ -19 କମ୍ପ୍ୟୁଟ୍ରେସିଂ, ସିଣ୍ଡ୍ରୋମିକ୍ ମ୍ୟାପିଂ ଏବଂ ଆତ୍ମ-ମୂଲ୍ୟାଙ୍କନର ମୋବାଇଲ୍ ଆପ୍।
- B) କୋଭିଡ୍ -19 ଟୀକାକରଣ ଏବଂ ପଞ୍ଜୀକରଣ ପାଇଁ ଏହା ଭାରତ ସରକାରଙ୍କ ୱେବ୍ ପୋର୍ଟାଲ୍।
- C) ଏହା ଏକ ସ୍ମାର୍ଟୱାଚ୍ ଆପ୍ ଯାହା ନାଡିର ହାର, ଶରୀରର ତାପମାତ୍ରା ଏବଂ ଶୋଇବା ଶୈଳୀ ସଂଗ୍ରହ କରି କୋଭିଡ୍ -19 ର ବିସ୍ତାର ଉପରେ ନଜର ରଖେ।
- D) କୋଭିଡ୍ -19 ରୋଗୀଙ୍କ ପାଇଁ ଏହା ହେଉଛି ଭାରତର ପ୍ରଥମ ସ୍ୱଦେଶୀ, ବେତାର ଶାରୀରିକ ମାପଦଣ୍ଡର ମନିଟରିଂ ପ୍ରଣାଳୀ।

3) Pradhan Mantri Jeevan Jyoti Bima Yojna is a renewable insurance scheme, offering life insurance coverage upto which of the following sum?

- A) Rs. 12 lakhs on death
- B) Rs. 20 lakhs on death
- C) Rs. 5 lakhs on death
- D) Rs. 2 lakhs on death

3) ପ୍ରଧାନମନ୍ତ୍ରୀ ଜୀବନ ଜ୍ୟୋତି ବିମା ଯୋଜନା ଏକ ନବୀକରଣଯୋଗ୍ୟ ବୀମା ଯୋଜନା, ଯାହା ନିମ୍ନ ରାଶି ମଧ୍ୟରୁ କେତେଟଙ୍କା ପର୍ଯ୍ୟନ୍ତ ଜୀବନ ବୀମା କଭରେଜ୍ ପ୍ରଦାନ କରେ?

- A) ମୃତ୍ୟୁ ହେଲେ 12 ଲକ୍ଷ ଟଙ୍କା
- B) ମୃତ୍ୟୁ ହେଲେ 20 ଲକ୍ଷ ଟଙ୍କା
- C) ମୃତ୍ୟୁ ହେଲେ 5 ଲକ୍ଷ ଟଙ୍କା
- D) ମୃତ୍ୟୁ ହେଲେ 2 ଲକ୍ଷ ଟଙ୍କା

4) Which among the following options is the most abundant element found in the sea / ocean water?

- A) Iodine
- B) Magnesium
- C) Potassium
- D) Chlorine

4) ନିମ୍ନଲିଖିତ ବିକଳଗୁଡ଼ିକ ମଧ୍ୟରୁ କେଉଁଟି ସମୁଦ୍ର / ସମୁଦ୍ର ଜଳରେ ପ୍ରଚୁର ମାତ୍ରାରେ ମିଳିଥାଏ?

- A) ଆୟୋଡିନ୍
- B) ମ୍ୟାଗ୍ନେସିୟମ୍
- C) ପୋଟାସିୟମ୍
- D) କ୍ଲୋରିନ୍

5) Punjab University and Allahabad University came into existence during the rule of which of the following British Viceroy?

- A) Lord Reading
- B) Lord Chelmsford
- C) Lord Wavell
- D) Lord Ripon

5) ନିମ୍ନଲିଖିତ କେଉଁ ବ୍ରିଟିଶ ଭାଇସରାୟଙ୍କ ଶାସନକାଳରେ ପଞ୍ଜାବ ବିଶ୍ୱବିଦ୍ୟାଳୟ ଏବଂ ଆହ୍ଲାବାଦ ବିଶ୍ୱବିଦ୍ୟାଳୟ ସୃଷ୍ଟି ହୋଇଥିଲା?

- A) ଲର୍ଡ ରିଡିଂ
- B) ଲର୍ଡ ଚେମସଫୋର୍ଡ
- C) ଲର୍ଡ ଷ୍ଟେଭେଲ୍
- D) ଲର୍ଡ ରିପନ୍

6) The Great Emperor Ashoka was the son of which of the following rulers?

- A) Chandragupta Maurya
- B) Bindusara
- C) Mahapadmananda
- D) Srutayudha

6) ନିମ୍ନଲିଖିତ ଶାସକମାନଙ୍କ ମଧ୍ୟରୁ, ମହାନ ସମ୍ରାଟ ଅଶୋକ କାହାର ପୁତ୍ର ଥିଲେ?

- A) ଚନ୍ଦ୍ରଗୁପ୍ତ ମୌର୍ଯ୍ୟ
- B) ବିନ୍ଦୁସାର
- C) ମହାପଦ୍ମାନନ୍ଦ
- D) ଶ୍ରୁତାୟୁଧ

7) Which of the following is the largest Island in the world?

- A) Kyushu
- B) Tasmania
- C) Sri Lanka
- D) Greenland

7) ନିମ୍ନଲିଖିତ ମଧ୍ୟରୁ କେଉଁଟି ବିଶ୍ୱର ବୃହତ୍ତମ ଦ୍ୱୀପ?

- A) କ୍ୟୁସୁ
- B) ଟାସମାନିଆ
- C) ଶ୍ରୀଲଙ୍କା
- D) ଗ୍ରୀନଲ୍ୟାଣ୍ଡ

- 8) How many members are nominated by the President in the Council of States of the Indian Parliament?
- A) 15
 - B) 22
 - C) 18
 - D) 12

8) ଭାରତୀୟ ସଂସଦର ରାଜ୍ୟସଭାକୁ ରାଷ୍ଟ୍ରପତି କି ଦ୍ଵାରା କେତେ ଜଣ ସଦସ୍ୟ ମନୋନୀତ ହୁଅନ୍ତି?

- A) 15
- B) 22
- C) 18
- D) 12

9) In case a Judge of a High Court wants to resign, to whom must he/she address the resignation letter?

- A) The Governor
- B) The Chief Minister of his/her State
- C) The Chief Justice of his/her High Court
- D) The President

9) ଯଦି ହାଇକୋର୍ଟର ଜଣେ ବିଚାରପତି ଇସ୍ତଫା ଦେବାକୁ ଚାହାଁନ୍ତି, ତେବେ ସେ ଇସ୍ତଫା ପତ୍ରରେ କାହାକୁ ସମ୍ବୋଧିତ କରିବେ?

- A) ରାଜ୍ୟପାଳ
- B) ତାଙ୍କ ରାଜ୍ୟର ମୁଖ୍ୟମନ୍ତ୍ରୀ
- C) ତାଙ୍କ ହାଇକୋର୍ଟର ମୁଖ୍ୟ ବିଚାରପତି
- D) ରାଷ୍ଟ୍ରପତି

10) On 15th August 2021, Prime Minister Narendra Modi announced a 100-lakh crore national master plan for holistic infrastructure development in India. Identify the name of this scheme.

- A) SVANidhi scheme
- B) UDAAN scheme
- C) MUDRA scheme
- D) Gati Shakti scheme

10) 15 ଅଗଷ୍ଟ 2021 ରେ ପ୍ରଧାନମନ୍ତ୍ରୀ ନରେନ୍ଦ୍ର ମୋଦୀ ଭାରତରେ ସାମଗ୍ରିକ ଭିତ୍ତିଭୂମି ବିକାଶ ପାଇଁ 100 ଲକ୍ଷ କୋଟି ଟଙ୍କାର ଜାତୀୟ ମାଷ୍ଟରପ୍ଲାନ ଘୋଷଣା କରିଛନ୍ତି। ଏହି ଯୋଜନାର ନାମ ଚିହ୍ନଟ କରନ୍ତୁ?

- A) SVANidhi ଯୋଜନା
- B) UDAAN ଯୋଜନା
- C) MUDRA ଯୋଜନା
- D) Gati Shakti ଯୋଜନା

11) In May 2021, who among the following political leaders was sworn in as the Chief Minister of Tamil Nadu?

- A) M. K. Alagiri
- B) M. K. Stalin
- C) C. Rajagopalachari
- D) C. N. Annadurai

11) ମେ 2021 ରେ, ନିମ୍ନଲିଖିତ ରାଜନୈତିକ ନେତାଙ୍କ ମଧ୍ୟରୁ କିଏ ତାମିଲନାଡୁର ମୁଖ୍ୟମନ୍ତ୍ରୀ ଭାବରେ ଶପଥ ଗ୍ରହଣ କରିଥିଲେ?

- A) ଏମ.କେ. ଆଲାଗିରି
- B) ଏମ୍ କେ ଷ୍ଟାଲିନ୍
- C) C. ରାଜାଗୋପାଲାଚାରି
- D) ସି. ଏନ୍ ଆନାଦୁରାଇ

12) Which of the following is the cause of regional disparity in India?

- A) Industrial growth
- B) Literacy
- C) Agricultural growth
- D) Poor governance

12) ନିମ୍ନଲିଖିତ ମଧ୍ୟରୁ କେଉଁଟି ଭାରତରେ ଆଞ୍ଚଳିକ ପାର୍ଥକ୍ୟର କାରଣ?

- A) ଶିଳ୍ପ ଅଭିବୃଦ୍ଧି
- B) ସାକ୍ଷରତା
- C) କୃଷି ଅଭିବୃଦ୍ଧି
- D) ଖରାପ ଶାସନ

13) Which of the following is the smallest unit of length?

- A) Femtometer
- B) Nanometer
- C) Picometer
- D) Micrometer

13) ନିମ୍ନଲିଖିତ ମଧ୍ୟରୁ କେଉଁଟି ଦୈର୍ଘ୍ୟର କ୍ଷୁଦ୍ରତମ ଏକକ ଅଟେ?

- A) ଫେମଟୋମିଟର
- B) ନାନୋମିଟର
- C) ପିକୋମିଟର
- D) ମାଇକ୍ରୋମିଟର

14) Which of the following pairs is INCORRECT with respect to moderate and extremist leaders of the Indian National Congress?

- A) Madan Mohan Malaviya - Moderate leader
- B) Gopal Krishna Gokhale - Moderate leader
- C) Dadabhai Naoroji - Extremist leader
- D) Bipin Chandra Pal - Extremist leader

14) ଭାରତୀୟ ଜାତୀୟ କଂଗ୍ରେସର ଉଦାରବାଦୀ ତଥା ଉଗ୍ରବାଦୀ ନେତାଙ୍କ ସହ ନିମ୍ନଲିଖିତ ଯୋଡ଼ି ମଧ୍ୟରୁ କେଉଁଟି ଭୁଲ ଅଟେ?

- A) ମଦନ ମୋହନ ମାଲବୀୟା - ଉଦାରବାଦୀ ନେତା
- B) ଗୋପାଳ କୃଷ୍ଣ ଗୋଖାଲେ - ଉଦାରବାଦୀ ନେତା
- C) ଦାଦାଭାଇ ନାଓରୋଜି - ଉଗ୍ରବାଦୀ ନେତା
- D) ବିପିନ ଚନ୍ଦ୍ର ପାଲ - ଉଗ୍ରବାଦୀ ନେତା

15) Which term rightly fits for the given definition, "the two days each year when the sun is directly overhead at the equator and is the beginning of autumn and spring"?

- A) Epicentre
- B) La Nina
- C) Equinox
- D) Meridian

15) କେଉଁ ଶବ୍ଦ ଚି ପ୍ରଦତ୍ତ ସଂଜ୍ଞା ପାଇଁ ପ୍ରଯୁଜ୍ୟ ଅଟେ, "ପ୍ରତିବର୍ଷ ଦୁଇ ଦିନ, ଯେତେବେଳେ ସୂର୍ଯ୍ୟ ସିଧାସଳଖ ବିଷୁବ ରେଖାରେ ସିଧା ଗୁଣ୍ଠ ଉପରେ ଆସେ ସେତେବେଳେ ଶରତ ଏବଂ ବସନ୍ତ ଋତୁର ଆରମ୍ଭରେ ହୁଏ " ?

- A) ଏପିସେନ୍ଦ୍ର
- B) ଲା ନିମା
- C) ଇକ୍ୱିନକ୍ସ
- D) ମେରିଡିୟନ୍



Section 2 - Paper I Reasoning Ability

No. of Questions: 10

16) What same number must be added to each of the terms 7 and 13 so that the resultant ratio is 2:3 ?

- A) 1
- B) 2
- C) 3
- D) 5

16) ସଂଖ୍ୟା 7 ଏବଂ 13 ପ୍ରତିଟିରେ କେଉଁ ସମାନ ସଂଖ୍ୟା ଯୋଗକଲେ ଫଳାଫଳର ନୂତନ ଅନୁପାତ 2:3 ହେବ?

- A) 1
- B) 2
- C) 3
- D) 5

17) Given below a question followed by 2 statements numbered I and II. Select

- 1, if Statement (I) ALONE is sufficient, but statement (II) alone is NOT sufficient to answer the question
- 2, if Statement (II) ALONE is sufficient, but statement (I) alone is NOT sufficient to answer the question
- 3, if BOTH statements TOGETHER are sufficient, but NEITHER statement ALONE is sufficient to answer the question
- 4, if Statements (I) and (II) TOGETHER are NOT sufficient to answer the question

A box of oranges costs ₹ 50. What percentage of the cost of an orange is the selling price of an orange?

Statement I: A box can hold 20 oranges.

Statement II: Each orange is to be sold at ₹ 5.

- A) 1
- B) 2
- C) 3
- D) 4

17) ନିମ୍ନରେ ଏକ ପ୍ରଶ୍ନ ଓ ତାହା ଚଳେ । ଏବଂ II ସଂଖ୍ୟା ଦ୍ୱାରା ଚିହ୍ନିତ 2ଟି ବକ୍ତବ୍ୟ ଦିଆଯାଇଛି । ଚୟନ କରନ୍ତୁ

- 1 , ଯଦି ପ୍ରଶ୍ନର ଉତ୍ତର ଦେବା ପାଇଁ କେବଳ ବକ୍ତବ୍ୟ (I) ଯଥେଷ୍ଟ ହୋଇଥାଏ କିନ୍ତୁ କେବଳ ବକ୍ତବ୍ୟ (II) ଉତ୍ତର ଦେବା ପାଇଁ ଯଥେଷ୍ଟ ହୋଇନଥାଏ
- 2, ଯଦି ପ୍ରଶ୍ନର ଉତ୍ତର ଦେବା ପାଇଁ କେବଳ ବକ୍ତବ୍ୟ (II) ଯଥେଷ୍ଟ ହୋଇଥାଏ କିନ୍ତୁ କେବଳ ବକ୍ତବ୍ୟ (I) ଯଥେଷ୍ଟ ହୋଇନଥାଏ
- 3, ଯଦି ଉଭୟ ବକ୍ତବ୍ୟ ମିଳିତ ଭାବରେ ପ୍ରଶ୍ନର ଉତ୍ତର ଦେବା ପାଇଁ ଯଥେଷ୍ଟ ହୋଇଥାଏ କିନ୍ତୁ ଏକକ ଭାବରେ କୌଣସି ଗୋଟିଏ ବକ୍ତବ୍ୟ ପ୍ରଶ୍ନର ଉତ୍ତର

ଦେବା ପାଇଁ ଯଥେଷ୍ଟ ହୋଇନଥାଏ

4, ଯଦି ବକ୍ତବ୍ୟ (I) ଏବଂ (II) ମିଳିତ ଭାବରେ ଉତ୍ତର ଦେବା ପାଇଁ ଯଥେଷ୍ଟ ନୁହେଁ

ଗୋଟିଏ ପେଟି କମଳାର ଦାମ୍ ₹ 50। ଗୋଟିଏ କମଳାର କିଣା ମୂଲ୍ୟର ଶତକଡ଼ା କେତେ ହେଉଛି ଏକ କମଳାର ବିକ୍ରୟ ମୂଲ୍ୟ?

ବକ୍ତବ୍ୟ I : ଗୋଟିଏ ବାକ୍ସରେ 20ଟି କମଳା ରଖାଯାଇପାରିବ।

ବକ୍ତବ୍ୟ II : ପ୍ରତିଟି କମଳା ₹ 5 ରେ ବିକ୍ରି କରାଯିବ।

- A) 1
- B) 2
- C) 3
- D) 4

18) If the word 'CODE' is coded as 'DQGI', then what is the code for 'DECODE'?

- A) EGFSIK
- B) EGDQGI
- C) EGFRIK
- D) EFGRIK

18) ଯଦି ଶବ୍ଦ 'CODE' କୁ 'DQGI' ଭାବରେ କୋଡ୍ କରାଯାଇଛି, ତେବେ 'DECODE' ର କୋଡ୍ କ'ଣ ହେବ?

- A) EGFSIK
- B) EGDQGI
- C) EGFRIK
- D) EFGRIK

19) Ramesh pushes his hand cart 50 metres south from the Market. He takes a u-turn and pushes his cart for 25 metres. Ramesh then takes a right and pushes the cart a further 30 metres. In which direction is Ramesh with respect to the Market?

- A) North-East
- B) South-East
- C) North-West
- D) South-West

19) ରମେଶ ତାଙ୍କର ହାତ ଶଗଡ଼ିକୁ ବଜାରର ଦକ୍ଷିଣ ଦିଗରେ 50 ମିଟର ଠେଲି ଠେଲି ନିଅନ୍ତି। ତା' ପରେ ସେ ଏକ ୟୁ ଟର୍ନ ନେଇ ବା ପଛକୁ ବୁଲି ପୁଣି 25 ମିଟର ତାଙ୍କର ଶଗଡ଼ି ଠେଲି ଠେଲି ନିଅନ୍ତି। ରମେଶ ତା' ପରେ ତାହାଙ୍କୁ ମୋଡ଼ି ଏବଂ ଆଉ 30 ମିଟର ଶଗଡ଼ି ଠେଲି ଠେଲି ନିଅନ୍ତି। ତେବେ ରମେଶ ବର୍ତ୍ତମାନ ମାର୍କେଟର କେଉଁ ଦିଗରେ ଅଛନ୍ତି?

- A) ଉତ୍ତର-ପୂର୍ବ
- B) ଦକ୍ଷିଣ-ପୂର୍ବ
- C) ଉତ୍ତର- ପଶ୍ଚିମ
- D) ଦକ୍ଷିଣ-ପଶ୍ଚିମ

20) Ajay walks out of his house, takes his bicycle and cycles 2 kilometres west. He then turns left and cycles a further 3 kilometres. He turns left again and cycles another 4 kilometres. Which direction is Ajay now from his house?

- A) North-West
- B) North-East
- C) South-West
- D) South-East

20) ଅଜୟ ଘରୁ ବାହାରି, ତାଙ୍କର ବାଇସାଇକେଲ୍ ନେଇ ପଶ୍ଚିମ ଦିଗରେ 2 କିଲୋମିଟର ସାଇକେଲ୍ ରେ ଯାତ୍ରା କରନ୍ତି। ତାହା ପରେ ସେ ବାମକୁ ମୋଡ଼ି ସାଇକେଲ୍ ରେ ଆଗକୁ 3 କିଲୋମିଟର ଯାଆନ୍ତି। ତାହା ପରେ ସେ ପୁଣି ବାମକୁ ମୋଡ଼ି ସାଇକେଲ୍ ରେ ଆଉ 4 କିଲୋମିଟର ଯାଆନ୍ତି। ତେବେ ଅଜୟ ତାଙ୍କର ଘରଠାରୁ ବର୍ତ୍ତମାନ କେଉଁ ଦିଗରେ ଅଛନ୍ତି?

- A) ଉତ୍ତର- ପଶ୍ଚିମ
- B) ଉତ୍ତର-ପୂର୍ବ
- C) ଦକ୍ଷିଣ-ପଶ୍ଚିମ
- D) ଦକ୍ଷିଣ-ପୂର୍ବ

21) Three positive numbers are in the ratio 3 : 5 : 8, sum of whose squares is 3528. The numbers are

- A) 18, 20, 32
- B) 15, 18, 48
- C) 18, 30, 48
- D) 21, 35, 56

21) ତିନୋଟି ଧନାତ୍ମକ ସଂଖ୍ୟା 3 : 5 : 8, ଅନୁପାତରେ ରହିଛି, ସେଗୁଡ଼ିକର ବର୍ଗର ଯୋଗଫଳ ହେଉଛି 3528। ତେବେ ସଂଖ୍ୟାଗୁଡ଼ିକ ହେଉଛି

- A) 18, 20, 32
- B) 15, 18, 48
- C) 18, 30, 48
- D) 21, 35, 56

22) In a college, the ratio of the number of boys to number of girls is 8 : 5. If the number of girls in the college is 160, what is the total number of boys and girls in the college?

- A) 192
- B) 256
- C) 260
- D) 416

22) ଗୋଟିଏ ମହାବିଦ୍ୟାଳୟରେ ବାଳକଙ୍କ ସହିତ ବାଳିକାଙ୍କର ସଂଖ୍ୟାର ଅନୁପାତ ହେଉଛି 8 : 5। ଯଦି ଏହି ମହାବିଦ୍ୟାଳୟରେ 160 ଜଣ ବାଳିକା ଥାଆନ୍ତି ତେବେ ମହାବିଦ୍ୟାଳୟର ମୋଟ ଛାତ୍ରଛାତ୍ରୀଙ୍କ ସଂଖ୍ୟା କେତେ?

- A) 192
- B) 256
- C) 260
- D) 416

23) Given below a question followed by 2 statements numbered I and II. Select

- 1, if Statement (I) ALONE is sufficient, but statement (II) alone is NOT sufficient to answer the question
- 2, if Statement (II) ALONE is sufficient, but statement (I) alone is NOT sufficient to answer the question
- 3, if BOTH statements TOGETHER are sufficient, but NEITHER statement ALONE is sufficient to answer the question
- 4, if Statements (I) and (II) TOGETHER are NOT sufficient to answer the question

What is the value of $a + b$?

Statement I: $a : b = 4 : 5$

Statement II: $(a + 2) : (b + 6) = 5 : 6$

- A) 1
- B) 2
- C) 3
- D) 4

23) ନିମ୍ନରେ ଏକ ପ୍ରଶ୍ନ ଓ ତାହା ତଳେ I ଏବଂ II ସଂଖ୍ୟା ଦ୍ୱାରା ଚିହ୍ନିତ 2ଟି ବକ୍ତବ୍ୟ ଦିଆଯାଇଛି। ଚୟନ କରନ୍ତୁ

- 1, ଯଦି ପ୍ରଶ୍ନର ଉତ୍ତର ଦେବା ପାଇଁ କେବଳ ବକ୍ତବ୍ୟ (I) ଯଥେଷ୍ଟ ହୋଇଥାଏ କିନ୍ତୁ କେବଳ ବକ୍ତବ୍ୟ (II) ଉତ୍ତର ଦେବା ପାଇଁ ଯଥେଷ୍ଟ ହୋଇନଥାଏ
- 2, ଯଦି ପ୍ରଶ୍ନର ଉତ୍ତର ଦେବା ପାଇଁ କେବଳ ବକ୍ତବ୍ୟ (II) ଯଥେଷ୍ଟ ହୋଇଥାଏ କିନ୍ତୁ କେବଳ ବକ୍ତବ୍ୟ (I) ଯଥେଷ୍ଟ ହୋଇନଥାଏ

3, ଯଦି ଉତ୍ତର ବକ୍ରବ୍ୟ ମିଳିତ ଭାବରେ ପ୍ରଶ୍ନର ଉତ୍ତର ଦେବା ପାଇଁ ଯଥେଷ୍ଟ ହୋଇଥାଏ କିନ୍ତୁ ଏକକ ଭାବରେ କୌଣସି ଗୋଟିଏ ବକ୍ରବ୍ୟ ପ୍ରଶ୍ନର ଉତ୍ତର ଦେବା ପାଇଁ ଯଥେଷ୍ଟ ହୋଇନଥାଏ

4, ଯଦି ବକ୍ରବ୍ୟ (I) ଏବଂ (II) ମିଳିତ ଭାବରେ ଉତ୍ତର ଦେବା ପାଇଁ ଯଥେଷ୍ଟ ନୁହେଁ

$a + b$ ର ମାନ କେତେ?

ବକ୍ରବ୍ୟ I : $a : b = 4 : 5$

ବକ୍ରବ୍ୟ II : $(a + 2):(b + 6) = 5 : 6$

- A) 1
- B) 2
- C) 3
- D) 4

24) If COUNTDOWN is coded as XLFMGWLDM, how will ENTHUSIASM be coded?

- A) VMGSFHRZHN
- B) VMGTGHRZHL
- C) VMGSFHSZHN
- D) UMGSFHRYHL

24) ଯଦି COUNTDOWN କୁ XLFMGWLDM ଭାବରେ କୋଡ୍ କରାଯାଏ, ତେବେ ENTHUSIASM କୁ କେଉଁ ଭାବରେ କୋଡ୍ କରାଯିବ?

- A) VMGSFHRZHN
- B) VMGTGHRZHL
- C) VMGSFHSZHN
- D) UMGSFHRYHL

25) Anita rides her scooter South for 7 miles from her office. She then turns left, picks up her friend, turns right and travels for 3 miles more. She then takes another right turn and rides 15 miles more to drop her friend. She then turns right and travels for 10 miles more. Which direction is she with respect to her office?

- A) South
- B) South-East
- C) West
- D) North-East

25) ଅନିତା ତାଙ୍କ ଅଫିସଠାରୁ ଦକ୍ଷିଣ ଦିଗରେ 7 ମାଇଲ୍ ଷ୍ଟର ଚଳାଇ ଯାଆନ୍ତି। ତା' ପରେ ସେ ବାମକୁ ମୋଡ଼ି, ତାଙ୍କ ବନ୍ଧୁଙ୍କୁ ସାଙ୍ଗରେ ନିଅନ୍ତି, ତାହାଣକୁ ମୋଡ଼ି ଏବଂ ଆଉ 3 ମାଇଲ୍ ଯାତ୍ରା କରନ୍ତି। ତା' ପରେ ସେ ଆଉ ଏକ ତାହାଣ ବୁଲାଇ କୁ ଯାଇ ତାଙ୍କ ସାଙ୍ଗକୁ ଛାଡ଼ିବା ପାଇଁ ଆଉ 15 ମାଇଲ୍ ଯାତ୍ରା କରନ୍ତି। ତା' ପରେ ସେ ତାହାଣକୁ ମୋଡ଼ି ଏବଂ ଆଉ 10 ମାଇଲ୍ ଯାତ୍ରା କରନ୍ତି। ତେବେ ସେ ବର୍ତ୍ତମାନ ତାଙ୍କର ଅଫିସଠାରୁ କେଉଁ ଦିଗରେ ଅଛନ୍ତି?

- A) ଦକ୍ଷିଣ
- B) ଦକ୍ଷିଣ-ପୂର୍ବ
- C) ପଶ୍ଚିମ
- D) ଉତ୍ତର-ପୂର୍ବ



Section 3 - Paper I Computer Literacy

No. of Questions: 10

26) Current format - **Welcome to the world of Microsoft**

Required format - **Welcome To The World Of Microsoft**

If you need to display the text in the Required Format, which of the following options needs to be checked in the given window?

- A) Sentence case
- B) Lower case
- C) Uppercase
- D) Title case

26) କରେଣ୍ଟ ଫର୍ମାଟ୍ - **Welcome to the world of Microsoft**

ଆବଶ୍ୟକୀୟ ଫର୍ମାଟ୍ - **Welcome To The World Of Microsoft**

ଯଦି ଆପଣ ଆବଶ୍ୟକୀୟ ଫର୍ମାଟ୍ରେ ଟେକ୍ସ୍ଟ ପ୍ରଦର୍ଶନ କରିବାକୁ ଆବଶ୍ୟକ କରନ୍ତି, ତେବେ ଦିଆଯାଇଥିବା ଓପିୟନରେ ନିମ୍ନଲିଖିତ ବିକଳ୍ପଗୁଡ଼ିକ ମଧ୍ୟରୁ କେଉଁଟି ଯାଞ୍ଚ କରିବା ଆବଶ୍ୟକ କରନ୍ତି?

- A) Sentence case
- B) Lower case
- C) Uppercase
- D) Title case

27) **What is the function of Plotter ?**

- A) Acts as a Printer
- B) Acts as a Scanner
- C) Acts as a Processor
- D) Acts as a Monitor

27) **Plotter** ର କାର୍ଯ୍ୟ କ'ଣ?

- A) ପ୍ରିଣ୍ଟର୍ ଭାବେ କାର୍ଯ୍ୟ କରେ
- B) ସ୍କାନର୍ ଭାବେ କାର୍ଯ୍ୟ କରେ
- C) ପ୍ରୋସେସର୍ ଭାବେ କାର୍ଯ୍ୟ କରେ
- D) ଏକ ମନିଟର୍ ଭାବେ କାର୍ଯ୍ୟ କରେ

28) Which of the following defines a sequence of instructions written to solve a problem?

- A) Software
- B) Hardware
- C) Program
- D) Process

28) ନିମ୍ନଲିଖିତ ମଧ୍ୟରୁ କେଉଁଟି ଏକ ସମସ୍ୟାର ସମାଧାନ ପାଇଁ ଲେଖାଯାଇଥିବା ନିର୍ଦ୍ଦେଶାବଳୀର ଏକ କ୍ରମକୁ ବ୍ୟାଖ୍ୟା କରେ?

- A) ସଫ୍ଟୱେୟାର୍
- B) ହାର୍ଡୱେୟାର୍
- C) ପ୍ରୋଗ୍ରାମ୍
- D) ପ୍ରକ୍ରିୟା

29) Which among the following is an utility software?

- A) Tally
- B) Disk Cleanup
- C) MS Office
- D) Adobe Photoshop

29) ନିମ୍ନଲିଖିତ ମଧ୍ୟରୁ କେଉଁଟି ଏକ ଯୁଟିଲିଟି ସଫ୍ଟୱେୟାର୍?

- A) Tally
- B) Disk Cleanup
- C) MS Office
- D) Adobe Photoshop

30) What is social networking site?

- A) Any Web site that enables users to create public profiles within that Web site and form relationships with other users
- B) Connecting a wide network
- C) Connection between two users via network
- D) Communicate over network

30) ସୋସିଆଲ୍ ନେଟୱାର୍କିଂ ସାଇଟ୍ କଣ?

- A) ଯେକୌଣସି ୱେବସାଇଟ୍ ଯାହା ଉପଭୋକ୍ତାମାନଙ୍କୁ ସେହି ୱେବସାଇଟ୍ ମଧ୍ୟରେ ସର୍ବସାଧାରଣ ପ୍ରୋଫାଇଲ୍ ସୃଷ୍ଟି କରିବାକୁ ଏବଂ ଅନ୍ୟ ଉପଭୋକ୍ତାମାନଙ୍କ ସହିତ ସମ୍ପର୍କ ସ୍ଥାପନ କରିବାକୁ ସମ୍ମତ କରେ
- B) ଏକ ବ୍ୟାପକ ନେଟୱାର୍କକୁ ସଂଯୋଗ କରିବା
- C) ନେଟୱାର୍କ ମାଧ୍ୟମରେ ଦୁଇ ଉପଭୋକ୍ତାଙ୍କ ମଧ୍ୟରେ ସଂଯୋଗ
- D) ନେଟୱାର୍କ ଦ୍ଵାରା ଯୋଗାଯୋଗ

31) Which of the following functions gives the same result as totaling a range of values and dividing the result by the number of values in the range?

- A) SUM
- B) AVERAGE
- C) MEAN
- D) COUNT

31) ନିମ୍ନଲିଖିତ ମଧ୍ୟରୁ କେଉଁ Function, Values ର ଏକ ପରିସରକୁ Total କରିବା ଏବଂ ପରିସରର ମୂଲ୍ୟସଂଖ୍ୟା ଦ୍ଵାରା ଫଳାଫଳକୁ ବିଭାଜିତ କରିବା ସହିତ ସମାନ ଫଳାଫଳ ଦେଇଥାଏ?

- A) SUM
- B) AVERAGE
- C) MEAN
- D) COUNT

32) Which of the following devices is used to send and receive computer information over a telephone line or high speed cable?

- A) Modem
- B) Switch
- C) Mouse
- D) Routers

32) ନିମ୍ନଲିଖିତ ମଧ୍ୟରୁ କେଉଁ ଡିଭାଇସ୍ ଟେଲିଫୋନ୍ ଲାଇନ୍ କିମ୍ବା ହାଇସ୍ପିଡ୍ କେବୁଲ୍ ଉପରେ କମ୍ୟୁଟର ସୂଚନା ପ୍ରେରଣ ଏବଂ ପ୍ରାପ୍ତ କରିବା ପାଇଁ ବ୍ୟବହୃତ ହୁଏ?

- A) ମୋଡମ୍
- B) ସ୍ପ୍ରିନ୍
- C) ମାଉସ୍
- D) ରାଉଟର୍

33) RAM means

- A) Read access memory
- B) Retrieve alternate memory
- C) Random access memory
- D) Registry access memory

33) RAM ର ଅର୍ଥ ହେଉଛି:

- A) Read access memory
- B) Retrieve alternate memory
- C) Random access memory
- D) Registry access memory

34) Which among the following is an Indian digitization online service provided by Ministry of Electronics and Information Technology (MeitY) to access authentic documents/certificates such as driving license, vehicle registration, academic mark sheet in digital format ?

- A) AWS Cloud
- B) Dropbox
- C) DigiLocker
- D) Google Drive

34) ନିମ୍ନଲିଖିତ ମଧ୍ୟରୁ କେଉଁଟି ହେଉଛି ଇଲେକ୍ଟ୍ରୋନିକ୍ସ ଏବଂ ସୂଚନା ପ୍ରଯୁକ୍ତି ମନ୍ତ୍ରାଳୟ (MeitY) ଦ୍ୱାରା ପ୍ରଦାନ କରାଯାଇଥିବା ଏକ ଭାରତୀୟ ଡିଜିଟାଇଜେସନ୍ ଅନଲାଇନ୍ ସେବା ଯେଉଁଠାରୁ ଡ୍ରାଇଭିଂ ଲାଇସେନ୍ସ, ଯାନ ପଞ୍ଜିକରଣ, ଡିଜିଟାଲ୍ ପର୍ମାଟରେ ଶିକ୍ଷାଗତ ମାର୍କ ସିଟ୍ ପରି ପ୍ରାମାଣିକ ଡକ୍ୟୁମେଣ୍ଟ/ସାର୍ଟିଫିକେଟ୍ ଆକସେସ୍ କରିହେବ?

- A) AWS Cloud
- B) Dropbox
- C) DigiLocker
- D) Google Drive

35) Which of the following is a Search engine?

- A) GMAIL
 - B) Bing
 - C) Outlook
 - D) Google Chrome
-

35) ନିମ୍ନଲିଖିତ ମଧ୍ୟରୁ କେଉଁଟି ଏକ ସର୍ଚ୍ଚ ଇଞ୍ଜିନ୍?

- A) GMAIL
- B) Bing
- C) Outlook
- D) Google Chrome



Section 4 - Paper I Pedagogy and Evaluation

No. of Questions: 15

36) Which of the following does NOT form a part of an inclusive classroom?

- A) Diverse learners
 - B) Peer tutoring
 - C) Co-operative learning
 - D) Ethnic discrimination
-

36) ନିମ୍ନଲିଖିତ ମଧ୍ୟରୁ କେଉଁଟି ଅନ୍ତର୍ଭବେଶୀ ଶ୍ରେଣୀଗୃହର ଏକ ଅଂଶ ନୁହେଁ?

- A) ବିବିଧ ଶିକ୍ଷାର୍ଥୀ
 - B) ସାଥୀ ଶିକ୍ଷାଦାନ
 - C) ସହଯୋଗୀ ଶିକ୍ଷଣ
 - D) ନୂଜାତୀୟ ଭେଦଭାବ
-

37) When students of a class speak different languages we notice

- A) Linguistic Diversity
 - B) Socio-Cultural Diversity
 - C) Economic Diversity
 - D) Gender Diversity
-

37) ଯେତେବେଳେ ଏକ ଶ୍ରେଣୀର ଛାତ୍ରମାନେ ବିଭିନ୍ନ ଭାଷାରେ କଥା କୁହନ୍ତି, ଆମେ କ'ଣ ଲକ୍ଷ୍ୟ କରୁ

- A) ଭାଷାଭିତ୍ତିକ ବିବିଧତା
 - B) ସାମାଜିକ-ସାଂସ୍କୃତିକ ବିବିଧତା
 - C) ଆର୍ଥିକ ବିବିଧତା
 - D) ଲିଙ୍ଗିକ ବିବିଧତା
-

38) Summative assessment

- A) is an assessment administered at the end of a course.
- B) are tests that are conducted at the end of a class
- C) involves assessment for learning, of learning and as learning
- D) are asesments that develop good practices

38) ସମାପ୍ତି ସୂଚକ ନିର୍ଦ୍ଧାରଣ

- A) ଏକ ପାଠ୍ୟକ୍ରମର ଶେଷରେ ବ୍ୟବହୃତ ଏକ ନିର୍ଦ୍ଧାରଣ ଅଟେ
- B) ପରୀକ୍ଷାଗୁଡ଼ିକ ଯାହାକୁ ଏକ ଶ୍ରେଣୀର (କ୍ଲାସ) ଶେଷରେ କରାଯାଏ
- C) ଶିକ୍ଷକ ପାଇଁ, ଶିକ୍ଷକର ଏବଂ ଶିକ୍ଷକ ଭାବରେ ନିର୍ଦ୍ଧାରଣ ଅନ୍ତର୍ଭୁକ୍ତ ଥାଏ
- D) ଭଲ ଅଭ୍ୟାସଗୁଡ଼ିକ ବିକାଶ କରୁଥିବା ନିର୍ଦ୍ଧାରଣ ଅଟେ

39) Raju has scored 65 marks in a particular examination and Rohan has scored 50. Their individual scores are examples of

- A) Measurement
- B) Assessment
- C) Test
- D) Ranks

39) ରାଜୁ ଏକ ନିର୍ଦ୍ଦିଷ୍ଟ ପରୀକ୍ଷାରେ 65 ମାର୍କ ଏବଂ ରୋହନ 50 ମାର୍କ ସ୍କୋର କରିଛନ୍ତି। ସେମାନଙ୍କର ବ୍ୟକ୍ତିଗତ ମାର୍କ ଗୁଡ଼ିକ କାହାର ଉଦାହରଣ ଅଟେ?

- A) ମାପ
- B) ନିର୍ଦ୍ଧାରଣ
- C) ପରୀକ୍ଷା
- D) ରାଙ୍କସ୍

40) The concept of "Cone of Experiences" was given by

- A) Pierre Wayne
- B) Johnson Smith
- C) Henry
- D) Edgar Dale

40) "କୋନ ଅଫ୍ ଏକ୍ସପିରିଏନ୍ସ" ର ଧାରଣା କାହା ଦ୍ୱାରା ଦିଆଯାଇଥିଲା?

- A) ପିଏର୍ ୱେନ୍
- B) ଜନସନ ସ୍ମିଥ୍
- C) ହେନେରୀ
- D) ଏଡ୍ଗାର ଡେଲ୍

41) A procedure intended to establish the quality, performance or reliability of something, especially before it is taken into widespread use is known as

- A) research
- B) interview
- C) test
- D) evaluation

41) କୌଣସି ଜିନିଷର ଗୁଣବତ୍ତା, କାର୍ଯ୍ୟକ୍ଷମତା କିମ୍ବା ନିର୍ଭରଯୋଗ୍ୟତା ପ୍ରତିଷ୍ଠା କରିବା ପାଇଁ ଉଦ୍ଦିଷ୍ଟ ଏକ ପ୍ରଣାଳୀ, ବିଶେଷତଃ ଏହାକୁ ବ୍ୟାପକ ବ୍ୟବହାରରେ ନିଆଯିବା ପୂର୍ବରୁ କ'ଣ କୁହାଯାଏ?

- A) ଅନୁସନ୍ଧାନ
- B) ସାକ୍ଷାତକାର
- C) ପରୀକ୍ଷଣ
- D) ମୂଲ୍ୟାୟନ

42) A language teacher underlining well-written lines in studnets' essay is an example for

- A) negative reinforcement
- B) punishing the child
- C) Positive reinforcement
- D) teacher's lack of concern

42) ଶିକ୍ଷାର୍ଥୀଙ୍କ ପ୍ରବନ୍ଧରେ, ଜଣେ ଭାଷା ଶିକ୍ଷକ ଭଲ ଲେଖାଥିବା ଧାଡ଼ିଗୁଡ଼ିକୁ ଅଣ୍ଟରଲାଇନ୍ କଲେ, ଏହା ଏକ କେଉଁ ପ୍ରକାର ଉଦାହରଣ ଅଟେ?

- A) ନକାରାତ୍ମକ ଦୃଢ଼ୀକରଣ
- B) ଶିଶୁକୁ ଦଣ୍ଡ ଦେବା
- C) ସକାରାତ୍ମକ ଦୃଢ଼ୀକରଣ
- D) ଶିକ୍ଷକଙ୍କ ଚିନ୍ତାଶକ୍ତିର ଅଭାବ

43) A caring student-teacher relationship and a positive classroom climate are clearly important for

- A) students' motivation
- B) intellectual blocking
- C) preventing hard work
- D) increasing violence

43) ଏକ ଯତ୍ନଶୀଳ ଛାତ୍ର-ଶିକ୍ଷକ ସମ୍ପର୍କ ଏବଂ ଏକ ସକରାତ୍ମକ ଶ୍ରେଣୀଗୃହ ବାତାବରଣ ସୃଷ୍ଟି ଭାବରେ କ'ଣ ପାଇଁ ଗୁରୁତ୍ୱପୂର୍ଣ୍ଣ?

- A) ଛାତ୍ରମାନଙ୍କ ଅଭିପ୍ରେରଣ
- B) ବୌଦ୍ଧିକ ଅବରୋଧ
- C) କଠିନ ପରିଶ୍ରମକୁ ରୋକିବା
- D) ବହୁଥିବା ହିଂସା

44) Which of the following statements appropriately defines 'Diversity'?

- A) It promotes intolerance among people.
- B) It promotes discrimination among people.
- C) It recognises and accepts the differences among people
- D) It promotes inequality among people.

44) ନିମ୍ନଲିଖିତ ବିବୃତ୍ତି ମଧ୍ୟରୁ କେଉଁ ଉକ୍ତିଟି 'ବିବିଧତା' କୁ ଉପଯୁକ୍ତ ଭାବରେ ବ୍ୟାଖ୍ୟା କରେ?

- A) ଏହା ଲୋକମାନଙ୍କ ମଧ୍ୟରେ ଅସହିଷ୍ଣୁତାକୁ ପ୍ରୋତ୍ସାହିତ କରେ
- B) ଏହା ଲୋକମାନଙ୍କ ମଧ୍ୟରେ ଭେଦଭାବକୁ ପ୍ରୋତ୍ସାହିତ କରେ
- C) ଏହା ଲୋକମାନଙ୍କ ମଧ୍ୟରେ ଥିବା ପାର୍ଥକ୍ୟକୁ ଚିହ୍ନିଥାଏ ଏବଂ ଗ୍ରହଣ କରେ
- D) ଏହା ଲୋକମାନଙ୍କ ମଧ୍ୟରେ ଅସମାନତାକୁ ପ୍ରୋତ୍ସାହିତ କରେ

45) In a test, a student scores 95% marks in English but scores 50% next time and 90% the third time. This indicates that the test

- A) Lacks popularity
- B) Lacks reliability
- C) Lacks introspection
- D) Lacks affordability

45) ଏକ ପରୀକ୍ଷାରେ, ଜଣେ ଛାତ୍ର ଇଂରାଜୀରେ 95% ମାର୍କ ରଖିଥାଏ କିନ୍ତୁ ପରବର୍ତ୍ତୀ ସମୟରେ 50% ଏବଂ ତୃତୀୟ ଥର 90% ସ୍କୋର କରିଥାଏ। ଏହା ସୂଚିତ କରେ ଯେ ପରୀକ୍ଷାଟିରେ

- A) ଲୋକପ୍ରିୟତାର ଅଭାବ
- B) ବିଶ୍ୱସନୀୟତାର ଅଭାବ
- C) ଆନ୍ତରିକତାର ଅଭାବ
- D) ସାମର୍ଥ୍ୟତାର ଅଭାବ

46) Which of the following basically focuses on learners' achievement against some predefined outcomes and standards?

- A) assessment of learning
- B) assessment for learning
- C) assessment as learning

- A) Only C
- B) Only B
- C) A, B & C
- D) A & C

46) ନିମ୍ନଲିଖିତ ମଧ୍ୟରୁ କେଉଁଟି ମୂଳତଃ କିଛି ପୂର୍ବ ନିର୍ଦ୍ଧାରିତ ଫଳାଫଳ ଏବଂ ମାନଦଣ୍ଡ ବିରୁଦ୍ଧରେ ଶିକ୍ଷାର୍ଥୀମାନଙ୍କ ସଫଳତା ଉପରେ ଧ୍ୟାନ ଦେଇଥାଏ?

- A) ଶିକ୍ଷଣ ନିର୍ଦ୍ଧାରଣ
- B) ଶିକ୍ଷଣ ପାଇଁ ନିର୍ଦ୍ଧାରଣ
- C) ଶିକ୍ଷା ଭାବରେ ନିର୍ଦ୍ଧାରଣ

- A) କେବଳ C
- B) କେବଳ B
- C) A, B ଏବଂ C
- D) A ଏବଂ C

47) The following definition "Learning is the acquisition of habits, knowledge and attitudes. It involves new ways of doing things, and it operates in an individual's attempt to overcome obstacles or to adjust to new situations", was given by

- A) Gates & Others
- B) Crow & Crow
- C) Skinner
- D) Henry, P smith

47) "ଶିକ୍ଷା ହେଉଛି ଅଭ୍ୟାସ, ଜ୍ଞାନ ଏବଂ ମନୋବୃତ୍ତିର ଅଧିଗ୍ରହଣ ଅଟେ। ଏହା ଜିନିଷ କରିବାର ନୂତନ ଉପାୟ ଅନ୍ତର୍ଭୁକ୍ତ କରେ ଏବଂ ଏହା ପ୍ରତିବନ୍ଧକକୁ ଦୂର କରିବା ପାଇଁ କିମ୍ବା ନୂତନ ପରିସ୍ଥିତିକୁ ସୁଦୃଢ଼ କରିବା ପାଇଁ ଜଣେ ବ୍ୟକ୍ତିର ପ୍ରୟାସରେ କାର୍ଯ୍ୟ କରେ" ସଂଜ୍ଞା କାହାଦ୍ୱାରା ଦିଆଯାଇଥିଲା?

- A) ଗେଟ୍ସ ଏବଂ ଅନ୍ୟମାନେ
- B) କ୍ରୋ ଏବଂ କ୍ରୋ
- C) ସ୍କିନର୍
- D) ହେନେରୀ, ପି ସ୍ମିଥ

48) Use of computers in teaching learning is known as

- A) Computer Assisted Learning
 - B) Controlled Assimilated Learning
 - C) Common Place Teaching
 - D) Technology based Training
-

48) ଶିକ୍ଷାଦାନ ଏବଂ ଶିକ୍ଷଣରେ କମ୍ପ୍ୟୁଟରର ବ୍ୟବହାର କ'ଣ ଭାବରେ ଜଣାଶୁଣା?

- A) କମ୍ପ୍ୟୁଟର ସାହାଯ୍ୟରେ ଶିକ୍ଷଣ
 - B) ନିୟନ୍ତ୍ରିତ ସ୍ୱକୃତ ଶିକ୍ଷଣ
 - C) ସାଧାରଣ ସ୍ଥାନରେ ଶିକ୍ଷାଦାନ
 - D) ପ୍ରଯୁକ୍ତିବିଦ୍ୟା ଆଧାରିତ ତାଲିମ
-

49) Which of the following tools is NOT a formative assessment?

- A) Observation during in-class activities
 - B) Pre-tests on content and abilities
 - C) Homework exercises as review for exams and class discussions
 - D) Question and answer sessions, both formal and informal
-

49) ନିମ୍ନଲିଖିତ ଉପକରଣଗୁଡ଼ିକ ମଧ୍ୟରୁ କେଉଁଟି ଏକ ଗଠନମୂଳକ ନିର୍ଦ୍ଧାରଣ ନୁହେଁ?

- A) ଶ୍ରେଣୀ କାର୍ଯ୍ୟକଳାପ ସମୟରେ ପର୍ଯ୍ୟବେକ୍ଷଣ କରିବା
 - B) ବିଷୟବସ୍ତୁ ଏବଂ ଦକ୍ଷତା ଉପରେ ପୂର୍ବ-ପରୀକ୍ଷଣ କରିବା
 - C) ପରୀକ୍ଷା ଏବଂ ଶ୍ରେଣୀ ଆଲୋଚନା ପାଇଁ ସମୀକ୍ଷା ଭାବରେ ଗୃହକାର୍ଯ୍ୟ କରାଇବା
 - D) ଉତ୍ତର ଔପଚାରିକ ଏବଂ ଅନୌପଚାରିକ ଅଧିବେଶନରେ ପ୍ରଶ୍ନ ଏବଂ ଉତ୍ତର କରିବା
-

50) The most effective learning occurs when we use knowledge to perform

- A) meaningless tasks
- B) meaningful tasks
- C) menial tasks
- D) minimum tasks

50) ଆମେ ଯେତେବେଳେ ଜ୍ଞାନ ବ୍ୟବହାର କରି ନିମ୍ନଲିଖିତ କେଉଁଟିକୁ ସଂପାଦନ କରୁ, ସେତେବେଳେ ଶିକ୍ଷଣ ସବୁଠାରୁ ପ୍ରଭାବଶାଳୀ ହୁଏ?

- A) ଅର୍ଥହୀନ କାର୍ଯ୍ୟଗୁଡ଼ିକୁ
- B) ଅର୍ଥପୂର୍ଣ୍ଣ କାର୍ଯ୍ୟଗୁଡ଼ିକୁ
- C) ସେବକ କାର୍ଯ୍ୟଗୁଡ଼ିକୁ
- D) ସର୍ବନିମ୍ନ କାର୍ଯ୍ୟଗୁଡ଼ିକୁ



Section 5 - Paper II History and Political Science

No. of Questions: 15

51) Who wrote Harsha-Charita?

- A) Banabhatta
 - B) Harshvardhana
 - C) Kalidas
 - D) Dandin
-

52) Which event caused America to enter into the First World War?

- A) Unification of Germany
 - B) Balkan Wars
 - C) Unification of Italy
 - D) Germany's Submarine warfare
-

53) Who among the following were the son and daughter of Ashoka, who were sent to promote Buddhism?

- A) Mahadeva and Rakkhita
 - B) Sona and Uttara
 - C) Mahendra and Sanghamitra
 - D) Majjhima and Maharakkhita
-

54) Who took the command of the Revolt of 1857 in Oudh?

- A) Nana Saheb
 - B) Rani Laxmi Bai
 - C) Begam Hazrat Mahal
 - D) Tantiya Tope
-

55) Which among the following buildings is/are part of Fatehpur Sikri?

- A) Panch Mahal,
- B) Palace of Turkish Sultana,
- C) Tomb of Shaikh Salim Chishti

- A) Only A
- B) Only A and B
- C) Only A, B and C
- D) Only B and C

56) Who introduced Price Control Policy to maintain a permanent standing large army?

- A) Balban
- B) Alauddin Khilji
- C) Firoz Tughlaq
- D) Aibak

57) Which among the following architectures can be described as "a massive hemispherical tumulus intended to serve as a receptacle for the relics of the Buddha"?

- A) Caves
- B) Stupas
- C) Pillars
- D) Palaces

58) To support which particular Movement Gandhiji started Non-Cooperation Movement in 1920?

- A) Bang-Bhang Movement
- B) Khilafat Movement
- C) Home-Rule Movement
- D) Gadar Movement

59) Which among the following Judicial arrangements was the work of Warren Hastings in India?

- A) Zamindars became the in Charge of Justice
- B) The system of acceptance of fees by the Qazis, Muftis etc was accepted by Warren Hastings
- C) The system of preserving the records of judicial cases
- D) Regulating Act was abolished by Warren Hastings

60) Which among the following nations was/ were related to Axis Powers?

- A) Britain,
- B) Germany,
- C) France,
- D) Japan

- A) Only A and B
- B) Only B and D
- C) Only C and D
- D) Only A and D

61) Which of the following options is INCORRECT with reference to the types of jurisdiction the Supreme Court of India has as per the Constitution?

- A) Appellate
- B) Exclusive
- C) Advisory
- D) Original

62) On Nov 26th 1949, when the Constitution of India was adopted by the Constituent Assembly, the number of Articles and Schedules in it was:

- A) 395 Articles and 8 Schedules
- B) 315 Articles and 13 Schedules
- C) 315 Articles and 8 Schedules
- D) 385 Articles and 13 Schedules

63) In which year were the Fundamental Duties added in Part -IV A of the Constitution of India?

- A) 1975
- B) 1976
- C) 1977
- D) 1978

64) In which year were Panchsheel, or the Five Principles of Peaceful Co-existence presented by India, Yugoslavia and Sweden adopted by the United Nations General Assembly?

- A) 1951
- B) 1954
- C) 1960
- D) 1957

65) The first ever QUAD Summit was held virtually in March 2021 covering areas like vaccines, climate change, and emerging technologies. Which four nations were part of this summit?

- A) India, China, Japan and South Korea
- B) Russia, United States, France and India
- C) India, United States, Japan and Australia
- D) Australia, South Korea, India and Russia

Section 6 - Paper II Geography and Economics

No. of Questions: 15

66) Which is the correct example of metamorphic rocks?

- A) Limestone into slate
 - B) Marble into limestone
 - C) Sandstone into quartzite
 - D) Gneiss into granite
-

67) Which of the following is an example of an erosional landform created by winds?

- A) Mushroom rocks
 - B) Sand dunes
 - C) Moraines
 - D) Cirques
-

68) Choose the example of folded mountain.

- A) Western Ghat
 - B) Satpura Range
 - C) Aravalli Range
 - D) Vindhya Range
-

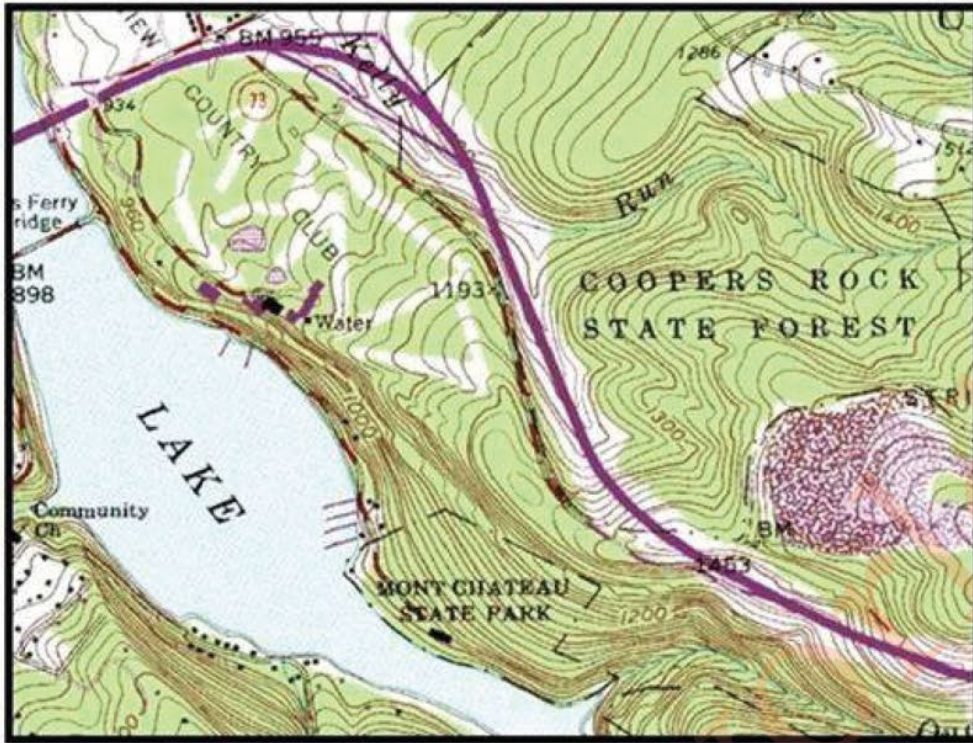
69) The longitudinal valley lying between lesser Himalaya and the Shiwaliks are known as _____.

- A) Pass
 - B) Range
 - C) Duns
 - D) Hill station
-

70) Which place is famous for coffee cultivation in India?

- A) Karnataka
- B) Assam
- C) Meghalaya
- D) Andhra Pradesh

71) The brown colour lines have highlighted some areas on the map. What does it represent in the real Earth?



- A) Water bodies
- B) Highland
- C) Settlement
- D) Vegetation

72) Canada has the world's longest coastline i.e. 243,042 km but Japan has only 29,751 km. Whereas Japan is producing more varieties of fishes than Canada. What is the reason behind it?

- A) The staple food in Japan is fish but in Canada people like meat
- B) Canada receives only cold currents whereas Japan receives warm and cold currents
- C) Canada water is saltier than Japan
- D) Japan and Canada experience warm currents only

73) Assertion (A): The gravitational pull of the moon and the sun on the surface of the earth causes tides.
Reason (R): Tides follow the apparent movement of the moon due to its closeness to the earth.

- A) Both A and R are true and R is the correct explanation of A
- B) Both A and R are true, but R is not the correct explanation of A
- C) A is correct, but R is wrong
- D) A is wrong, but R is correct

74) Identify the features from the following:

- The largest part of the northern plain
- This plain is formed of older alluvium
- It lies above the floodplains of the rivers and presents a terrace like feature

- Bhabar
- Terai
- Kankar
- Bhangar

75) Observe the map given below. Why is the jute industry concentrated in the Hooghly River Basin in Bangladesh?



- A) Easily available to hydro-electricity
 - B) It required easy transporation
 - C) Capital is easily available
 - D) Jute production required lots of water
-

76) Which of the following directly increases the GNP (Gross National Product)?

- A) A rise in Interest rate
 - B) An increase in Investment
 - C) Fall in National debt
 - D) Money distribution to people
-

77) What is the characteristic of Cyclical unemployment among the following?

- A) Occurs when moving
 - B) An absence of demand for a certain type of workers
 - C) Occurs during the recession in the economy
 - D) Job opportunities during certain months in the year
-

78) What was the Human Development Rank of India in 2010?

- A) 119
 - B) 135
 - C) 120
 - D) 143
-

79) What is the main reason for the retarded Economic Development in India?

- A) Poor Infrastructural facilities in every sector
 - B) Haphazard Industrialisation
 - C) Westernised social attitude
 - D) Inefficient & Insufficient agrarian system
-

80) Which of the following come under "Reserve Money "?

- (i) currency in circulation with the public
- (ii) deposits with RBI
- (iii) loan of IMF
- (iv) cash reserves of banks

- A) only (i) , (ii) and (iv)
- B) only (i) and (iii)
- C) only (i) , (ii) and (iii)
- D) only (i) and (iv)



Section 7 - Paper II English

No. of Questions: 35

Read the Poem and answer the questions. (Q.No.: 81 to 87)

O Captain! My Captain!

O Captain! my Captain! our fearful trip is done,
The ship has weather'd every rack, the prize we sought is won,
The port is near, the bells I hear, the people all exulting,
While follow eyes the steady keel, the vessel grim and daring;

But O heart! heart! heart!

O the bleeding drops of red,
Where on the deck my Captain lies,
Fallen cold and dead.

O Captain! my Captain! rise up and hear the bells;
Rise up—for you the flag is flung—for you the bugle trills,
For you bouquets and ribbon's wreaths—for you the shores a-crowding,
For you they call, the swaying mass, their eager faces turning;

Here Captain! dear father!

This arm beneath your head!
It is some dream that on the deck,
You've fallen cold and dead.

My Captain does not answer, his lips are pale and still,
My father does not feel my arm, he has no pulse nor will,
The ship is anchored safe and sound, its voyage closed and done,
From fearful trip the victor ship comes in with object won;

Exult O shores, and ring O bells!

But I with mournful tread,
Walk the deck my Captain lies,
Fallen cold and dead.

81) The poem is describing

- A) a road trip
 - B) a train journey
 - C) a journey by a ship
 - D) an air travel
-

82) At the end of the journey, the captain is _____

- A) dead
 - B) unconscious
 - C) happy
 - D) sad
-

83) The trip has concluded _____.

- A) in victory and joy
 - B) in victory and sorrow
 - C) in failure and sorrow
 - D) in vain
-

84) Whose hand is under the captain's head?

- A) the father's
 - B) The enemy's
 - C) The poet's
 - D) The sailor's
-

85) How did the The trip start?

- A) Joyfully
 - B) Fearfully
 - C) Victoriously
 - D) Bravely
-

86) Who does "My Father" in the poem refer to?

- A) The poet
- B) The captain
- C) The poet's father
- D) The captain's father

87) The poet is feeling _____.

- A) sad
- B) happy
- C) angry
- D) irritated

Read the Passage and answer the questions: (Q.No.: 88 to 95)

Black Holes

A black hole is a region of spacetime where gravity is so strong that nothing — no particles or even electromagnetic radiation such as light — can escape from it. The theory of general relativity predicts that a sufficiently compact mass can deform spacetime to form a black hole. The boundary of no escape is called the event horizon. Although it has an enormous effect on the fate and circumstances of an object crossing it, it has no locally detectable features according to general relativity. In many ways, a black hole acts like an ideal black body, as it reflects no light. The temperature of stellar blackholes is in the order of billionths of a kelvin, making it essentially impossible to observe directly. Black holes of stellar mass form when massive stars collapse at the end of their life cycle. After a black hole has formed, it can grow by absorbing mass from its surroundings. Supermassive black holes of millions of solar masses may form by absorbing other stars and merging with other black holes. There is consensus that supermassive black holes exist in the centres of most galaxies. The presence of a black hole can be inferred through its interaction with other matter and with electromagnetic radiation such as visible light. Any matter that falls onto a black hole can form an external accretion disk heated by friction, forming quasars, some of the brightest objects in the universe. Stars passing too close to a supermassive black hole can be shredded into streamers that shine very brightly before being swallowed.

88) _____ is the strongest in black holes.

- A) Space
- B) Time
- C) Gravity
- D) Relativity

89) _____ can escape from black holes.

- A) Radiation
- B) Light
- C) Particles
- D) Nothing



90) Scientist believe that _____ exist in the centre of most galaxies.

- A) a massive sun
 - B) stars
 - C) a supermassive blackhole
 - D) gravity
-

91) _____ are the brightest things in the universe.

- A) Stars
 - B) Sun
 - C) Quasars
 - D) Streamers
-

92) The point of no escape from a black hole is called?

- A) Event horizon
 - B) Quasars
 - C) Stellar blackhole
 - D) Accretion disk
-

93) Any object that falls on a black hole produces a lot of _____.

- A) radiation
 - B) magnetic force
 - C) accretion disk
 - D) gravity
-

94) Black holes of stellar mass form when _____.

- A) space and time meet
 - B) gravities collapse
 - C) stars collapse
 - D) galaxies expand
-

95) In many ways, what acts like an ideal black body?

- A) A light hole
- B) A black hole
- C) A massive hole
- D) A radiation

96) Select the correct form of tense of the highlighted part.

He **is drinking** water from the bottle.

- A) present continuous
 - B) present perfect
 - C) past perfect
 - D) simple past
-

97) Choose the correctly punctuated sentence..

- A) Didn't you enjoy the ice-cream!
 - B) Did'not you enjoy the ice-cream?
 - C) Didn't you enjoy the ice-cream?
 - D) Didn't you enjoy the ice-cream.
-

98) Choose the correct spelling.

- A) Saadness
 - B) Sadnness
 - C) Scadness
 - D) Sadness
-

99) Choose the Correct Preposition:

Mala was climbing _____ the tree, when she lost balance and fell down.

- A) up
 - B) in
 - C) under
 - D) above
-

100) Choose the passive voice of the given sentence.

The police have arrested the criminals.

- A) The criminals have been arrested by the police.
- B) The criminals being arrested by the police.
- C) The police arrested the criminals.
- D) The criminals will get arrested by the police.

101) Identify the given kind of sentence.

The diabetic patients need diet food.

- A) Interrogative
 - B) Exclamatory
 - C) Declarative
 - D) Imperative
-

102) Choose the correct spelling

- A) Govarnament
 - B) Government
 - C) Governmint
 - D) Governnment
-

103) Identify the given kind of sentence.

The teacher asked, "Did you do your Home-Work?"

- A) Interrogative
 - B) Exclamatory
 - C) Declarative
 - D) Imperative
-

104) Choose the correctly punctuated sentence.

- A) Its' her birthday present.
 - B) It's her birthday present.
 - C) Its her birthday present.
 - D) It is her's birthday present.
-

105) Choose the correct verb to agree with the subject in the given sentence.

She _____ past the candy shop everyday.

- A) walks
- B) walk
- C) walking
- D) have walked

106) Choose the correct form of verb to complete the sentence.

She _____ in the garden every morning.

- A) walking
 - B) walks
 - C) walked
 - D) walk
-

107) Choose the correct verb to agree with the subject in the given sentence.

Both of my roommates _____ decided to leave the hostel.

- A) has
 - B) have
 - C) are
 - D) is
-

108) Identify the correct sentence:

- A) This house is belonging to my father.
 - B) This house have been belonged to my father.
 - C) This house belongs to my father.
 - D) This house belong to my father.
-

109) Identify the correct sentence:..

- A) Each of the candidates was interviewed by the Chairman.
 - B) Each of the candidates were interviewed by the Chairman.
 - C) Each of the candidates have been interviewed by the Chairman.
 - D) Each of the candidates had interviewed by the Chairman.
-

110) In which of the following is the underlined letter pronounced as in the given word: REPORT

- A) CENTURY
 - B) DECENT
 - C) BETTER
 - D) DEMAND
-

111) In which of the following is the underlined letter pronounced as in the given word: SINK

- A) SIGN
 - B) SIGHT
 - C) SILENT
 - D) SING
-

112) In Odisha English is given which of the following status?

- A) L1
 - B) L3
 - C) L4
 - D) L2
-

113) Teaching English language is considered as a challenging task because

- 1) conventional methods take maximum time
- 2) drilling, dealing with grammar and pronunciation take less time

- A) Only 2
 - B) Only 1
 - C) Both 1 & 2
 - D) Neither 1 nor 2
-

114) Lord Macaulay thought to teach English to Indian people mainly to produce cheap clerks. But English in India has become

- A) a neglected language by the people
 - B) a part and parcel of the people
 - C) an unwanted language to the government
 - D) an unnecessary language in schools
-

115) English plays a very major role in our educational system. It is taught as a compulsory language

- A) Only in South India
- B) Only in North India
- C) Most parts of India
- D) West and Eastern parts but not central parts

Section 8 - Paper II Odia

No. of Questions: 35

ପ୍ରଦତ୍ତ କବିତାଂଶକୁ ଧ୍ୟାନ ଦେଇ ପଢ଼ନ୍ତୁ ଏବଂ ସମ୍ବନ୍ଧିତ ପ୍ରଶ୍ନ ଗୁଡ଼ିକର ସଠିକ୍ ଉତ୍ତର ଚୟନ କରନ୍ତୁ। (Q.No.: 116 to 120)

ଦେଖାଇ ନେତ୍ର ଯାହା ଚଉଦିଗର

ସେ ସର୍ବର ଅଟଇ ମୁଁ ଅଧୀଶ୍ଵର ।

ମହୀମଣ୍ଡଳେ ନାହିଁ ଏମନ୍ତ ଜନ

ମୋ ଅଧିକାର ଲୋଭେ କରିବ ରଣ ।

ଚାରିଆଡ଼ରେ ନୀଳ ସମୁଦ୍ର ଯାଏ

ପୁଲଫଳ ଶୋଭିତ ବନଲତାଏ ।

କୀଟ, ପତଙ୍ଗ, ପକ୍ଷୀ, କେଶରୀ, କରୀ

ପଶୁସୃଷ୍ଟି ଯେତେକ ସବୁ ମୋହରି ।

ବିଜନତା! କାହିଁ ତୋ ବେଶ ମୋହନ

ଯେ ବେଶେ ମୋହିଲୁ ତୁ ମୁନି-ନୟନ?

ବରଂ ନିବାସ ଭଲ ରଣକ୍ଷେତ୍ରରେ

ଭୟରେ ସଦା ଯହିଁ ହୃଦୟ ଥରେ ।

କିନ୍ତୁ ଏ ଭୀମକ୍ଷତ୍ର ରାଜ୍ୟ-ପ୍ରାପତି

ଅଟଇ ମୋ ବିଚାରେ ଅଧମଗତି ।

ସୁନ୍ଦର ଦେବତୁଲ୍ୟ ନର-ଆନନ

ଦେଖିବନାହିଁ ଆଉ ମୋର ନୟନ ।

ଲିଭିବ ଏଥୁ ମୋର ଜୀବନ-ଦୀପ

ଏ ବାରତା ନୟିବ ଜନ-ସମୀପ ।

କାହିଁ ବନ୍ଧୁତା କାହିଁ ପ୍ରେମ ସୁନ୍ଦର

ଯାର ପ୍ରାପତି ଯୋଗୁ ଦେବତା ନର ।

ଥାଆନ୍ତା ଯେବେ ମୋର ବିହଙ୍ଗ ପକ୍ଷ

ଲଘି ଭୀଷଣ ଗିରି ସମୁଦ୍ର ବନ୍ଧ ।

ଦେଖନ୍ତି ପ୍ରିୟଜନ ମୁଖ-କମଳ

ହୁଅନ୍ତା ସନ୍ତାପିତ ପ୍ରାଣ ଶୀତଳ ।

116) କବିତା ବର୍ଣ୍ଣିତ ପ୍ରସଙ୍ଗ ଅନୁଯାୟୀ କେଉଁଠି ନିବାସ ଭଲ ବୋଲି କୁହାଯାଇଛି?

- A) ମହାମଣ୍ଡଳରେ
- B) ବଣଜଙ୍ଗଲରେ
- C) ରଣକ୍ଷେତ୍ରରେ
- D) ନୀଳ-ସମୁଦ୍ରରେ

117) ନୟନ ଆଉ କ'ଣ ଦେଖିବ ନାହିଁ ବୋଲି କୁହାଯାଇଛି?

- A) ସୁନ୍ଦର ଆନନ
- B) ସୁନ୍ଦର ଦେବତୁଲ୍ୟ ନର ଆନନ
- C) ନର ଆନନ
- D) ଦେବତୁଲ୍ୟ ଆନନ

118) ବିହଙ୍ଗ ପକ୍ଷ ଥିଲେ କ'ଣ ଲଘି ହୋଇଥାନ୍ତା?

- A) ସମୁଦ୍ର ବନ୍ଧ
- B) ଗିରିବନ୍ଧ
- C) ଭୀଷଣ ଅରଣ୍ୟ
- D) ଭୀଷଣ ଗିରି-ସମୁଦ୍ର ବନ୍ଧ

119) 'ବିଜନତା' ଶବ୍ଦଟି କବିତାରେ କେଉଁ ଅର୍ଥରେ ପ୍ରୟୋଗ କରାଯାଇଛି?

- A) ନିବିଡ଼ତା
- B) ନିର୍ଜନତା
- C) ନିର୍ଲସ୍ପତା
- D) ବ୍ୟସ୍ତତା

120) 'ଅଧୀଶ୍ୱର' କୁ ସମ୍ବିଚ୍ଛେଦ କଲେ କ'ଣ ହେବ?

- A) ଅଧ୍ୱ + ଇଶ୍ୱର
- B) ଅଧୀ + ଇଶ୍ୱର
- C) ଅଧୀ + ଇଶ୍ୱର
- D) ଅଧ୍ୱ + ଇଶ୍ୱର

ନିମ୍ନରେ ପ୍ରଦତ୍ତ ଅନୁଚ୍ଛେଦକୁ ଧ୍ୟାନ ଦେଇ ପଢ଼ନ୍ତୁ ଏବଂ ସମ୍ବନ୍ଧିତ ପ୍ରଶ୍ନ ଗୁଡ଼ିକର ସଠିକ୍ ଉତ୍ତର ଚୟନ କରନ୍ତୁ। (Q.No.: 121 to 125)

ଭାରତର ଚାଷୀ ବଡ଼ ଗରିବ। ସେ ପେଟପୁରା ଖାଇବାକୁ ପାଏ ନାହିଁ । ଅଳ୍ପ କେତେଖଣ୍ଡ ଲୁଗାରେ ତାକୁ ଚଳିବାକୁ ପଡ଼େ। ସେ ତା' ସ୍ତ୍ରୀକୁ ଗହଣା ଦେଇପାରେ ନାହିଁ । ପିଲାମାନଙ୍କୁ ପାଠ ପଢ଼ାଇ ପାରେ ନାହିଁ । ପରିବାରର ସହିତ ସେ ଗୋଟିଏ ଚାଳଘର ରହେ। ସେଇ ଗୋଟିଏ ଘରେ ଶୁଏ। ତା'ର ପିଲାମାନେ ଶୁଅନ୍ତି। ସେହି ଘରେ ଗୋଟିଏ କଣରେ ରନ୍ଧାଉଛି ହୁଏ। ଆଉ ଗୋଟିଏ କଣରେ ଗାଈ ବନ୍ଧା ହୁଅନ୍ତି। ଖଜଣା ହାକିମ ଏବଂ ରଣ ମହାଜନମାନେ ଚାଷୀକୁ ବଡ଼ ହତସ୍ତ କରନ୍ତି। ସେହିମାନଙ୍କ ଦାଉରୁ ସେ ନିଜ ଅର୍ଜନତକ ହରାଇ ନିଃସ୍ୱ ହୋଇପଡ଼େ। ଦିନରାତି ଖଟଣି ଭିତରେ ବେଳେ ବେଳେ ଚାଷୀ ଟିକିଏ ଆନନ୍ଦ ପାଏ। ରଥଯାତ୍ରା , ଦୁର୍ଗାପୂଜା , କାଳୀପୂଜା , ଦିପାବଳୀ ଓ ଦୋଳଯାତ୍ରା ପ୍ରଭୃତି ପର୍ବରେ ତାକୁ ବହୁତ ଆନନ୍ଦ ମିଳେ।

121) ଭାରତର କେଉଁ ମାନେ ସବୁଠାରୁ ଅଧିକ ଗରିବ?

- A) ଶିକ୍ଷକ
- B) ବଣିକ
- C) ଚାଷୀ
- D) ସମାଜସେବୀ

122) ଚାଷୀ ତା'ର ପରିବାର ସହ କେଉଁ ଠାରେ ରୁହେ?

- A) କୋଠାଘରେ
- B) ଚାଳଘରେ
- C) ବଙ୍ଗଳାରେ
- D) ଜମିରେ

123) କେତେବେଳେ ସେ ଆନନ୍ଦ ପାଇଥାଏ?

- A) ଭଲ ଖାଦ୍ୟ ପାଇଲେ
- B) ହାକିମଠାରୁ ରଣ ପାଇଲେ

- C) ଘରକୁ ଅତିଥି ଆସିଲେ
D) ରଥଯାତ୍ରା, ଦୁର୍ଗାପୂଜା, ଦୀପାବଳୀ ପ୍ରଭୃତି ଉତ୍ସବ ଆସିଲେ
-

124) ସେ ତା' ପିଲାମାନଙ୍କ ପାଠ ପଢ଼ାଇପାରେ ନାହିଁ କାହିଁକି?

- A) ଛୋଟଘର ଥିବାରୁ
B) ସମାଜର କଟକଣା ଯୋଗୁଁ
C) ଅତ୍ୟନ୍ତ ଗରିବ ହୋଇଥିବାରୁ
D) ତା'ର ଲକ୍ଷ୍ମୀ ନଥିବାରୁ
-

125) କେଉଁମାନେ ଚାଷୀକୁ ହତସତ୍ତ୍ୱ କରନ୍ତି?

- A) ଖଜଣାହାକିମ ରଣ ମହାଜନ
B) ସରକାର
C) ପରିବାର ବର୍ଗ
D) ଅନ୍ୟ ଚାଷୀମାନେ
-

126) "ଯେ ଦେଶସେବା କରେ, ସେ ପ୍ରଶଂସା ପାଏ" । ଉକ୍ତ ବାକ୍ୟଟି କି ପ୍ରକାର ବାକ୍ୟ ଦର୍ଶାଏ ।

- A) ସରଳ
B) ଯୌଗିକ
C) ଜଟିଳ
D) ମିଶ୍ରବାକ୍ୟ
-

127) 'ହରିଶଚି ପାଣି ପିଉଛି ।' ରେଖାଙ୍କିତ ପଦର ବିଭକ୍ତି ନିର୍ଣ୍ଣୟ କର ।

- A) ଦ୍ୱିତୀୟା
B) ପଞ୍ଚମୀ
C) ଷଷ୍ଠୀ
D) ତୃତୀୟା

128) ସ୍ୱଭାବେ 'ଭାବୁକ'-ମାନସ' ଉଲ୍ଲାସୀ'

ଦିଗନ୍ତ'-ବିସ୍ତାରୀ' ତୋର ବା'ରିରାଶି - ଉଚ୍ଚ ପଦ୍ୟାଂଶଟି କେଉଁ ଛନ୍ଦରେ ରଚିତ?

- A) ଶଙ୍କରାଭରଣ
- B) ବିଭାସକେଦାର ବା ନଟବାଣୀ
- C) ରସକୁଲ୍ୟା
- D) ଆଷାଢ଼ଶୁକ୍ଳ

129) 'ଶୋଭନ ହୃଦୟ ଯାହାର' ଏକପଦରେ ପ୍ରକାଶ କଲେ ହେବ -

- A) ସହୃଦୟ
- B) ସହୃଦୟୀ
- C) ସୁହୃଦ୍
- D) ହୃଦୟବାନ୍

130) 'ମାଳବିକା କଲମରେ ରଚନା ଲେଖୁଅଛି ।' ରେଖାଙ୍କିତ ପଦର କାରକ ନିର୍ଣ୍ଣୟ କର ।

- A) କର୍ମ
- B) କର୍ତ୍ତା
- C) ଅପାଦାନ
- D) କରଣ

131) 'ଭସାଣି'- ଶବ୍ଦର ପ୍ରକୃତି ପ୍ରତ୍ୟୟ ନିର୍ଦ୍ଦେଶ କର ।

- A) ଭାସ୍+ଆଣି
- B) ଭସ୍+ଆଣି
- C) ଭାସ୍+ଅଣି
- D) ଭସାଣ+ଇ

132) ଓଡ଼ିଆ ଭାଗବତ କିଏ ରଚନା କରିଥିଲେ?

- A) ଜଗନ୍ନାଥ ଦାସ
- B) ଅନନ୍ତ ଦାସ
- C) ଅରୁଣାଚାରଣ ଦାସ

D) ବଳରାମ ଦାସ

133) "ତୁମେ ଆଜି କଟକ ଯିବକି?" ରେଖାଙ୍କିତ ପଦଟି ର ପ୍ରକରଣ ନିର୍ଣ୍ଣୟ କର।

- A) ସର୍ବନାମ
 - B) ବିଶେଷ୍ୟ
 - C) ବିଶେଷଣ
 - D) କ୍ରିୟାପଦ
-

134) ନିମ୍ନୋକ୍ତ ମଧ୍ୟରୁ ଶୁଦ୍ଧ ଶବ୍ଦଟିକୁ ବାଛ ।

- A) ଗରୀୟସୀ
 - B) ଗରୀୟସି
 - C) ଗରିୟସି
 - D) ଗରିୟସୀ
-

135) ନିମ୍ନୋକ୍ତ ମଧ୍ୟରୁ ଶୁଦ୍ଧ ଶବ୍ଦଟିକୁ ବାଛ ।

- A) ଓଜସ୍ବିନୀ
 - B) ଓଜସ୍ବିନି
 - C) ଓଜସ୍ବିନୀ
 - D) ଉଜସ୍ବିନି
-

136) 'ଶରାହତ' - ଏଠାରେ କେଉଁ ସମାସ ହୋଇଛି?

- A) ଚତୁର୍ଥୀ ଚତ୍ବରୁଷ
 - B) ତୃତୀୟା ଚତ୍ବରୁଷ
 - C) ଦ୍ବିତୀୟା ଚତ୍ବରୁଷ
 - D) ଷଷ୍ଠୀ ଚତ୍ବରୁଷ
-

137) ' ଭାର୍ଗବ' ଚିହ୍ନିତ ଶବ୍ଦର ସଠିକ୍ ପ୍ରକୃତି ପ୍ରତ୍ୟୟ ଦର୍ଶାଅ।

- A) ଭର୍ଗ+ଅବ
- B) ଭୁ+ଏବ

- C) ଭୃଗୁ+ଅ
D) ଭୃଗୁ+ବ

138) 'ଉତ୍କଳ-କମଳା-ବିଳାସ-ଦୀର୍ଘିକା

ମରାଳ-ମାଳିନୀ-ନୀଳାମ୍ବୁ-ଚିଲିକା' (ଚିଲିକା-ରାଧାନାଥ ରାୟ)
ଉକ୍ତ ପଦ୍ୟାଂଶଟିରେ କେଉଁ ଅଳଙ୍କାର ପ୍ରୟୋଗ ହୋଇଛି?

- A) ଉପମା
B) ରୂପକ
C) ଅନୁପ୍ରାସ
D) ବ୍ୟତିରେକ

139) 'ବାଇଗଣ କିଲୋକୁ କୋଡ଼ିଏ ଟଙ୍କା' - କେଉଁ ଅର୍ଥରେ ଏଠାରେ ୨ୟା ବିଭକ୍ତି ହୋଇଛି?

- A) କ୍ରମ ଅର୍ଥରେ
B) ଦ୍ରବ୍ୟ ଅର୍ଥରେ
C) ବିନିମୟ ବା ମୂଲ୍ୟ ଅର୍ଥରେ
D) ପରିମାଣ ଅର୍ଥରେ

140) 'ଅନନ୍ୟୋପାୟ'ର ଠିକ୍ ଅର୍ଥଟି ଚୟନ କର ।

- A) ସମ୍ବଳ ନାହିଁ ଯାହାର
B) ନାହିଁ ଅନ୍ୟ ଉପାୟ ଯାହାର
C) ମନରେ ଉପାୟ ପାଞ୍ଚି ନ ପାରିବା
D) ଅନ୍ୟକୁ ଉପାୟ ନ ବତାଇବା

141) 'ନେତ୍ର' ଶବ୍ଦରେ କେଉଁ ଧାତୁ ବ୍ୟବହୃତ ହୋଇଛି?

- A) ନ
B) ନେ
C) ନେତ୍
D) ନୀ

142) ଗୋପାଳହ ପ୍ରହରାଜଙ୍କ ଦ୍ଵାରା ରଚିତ ଗ୍ରନ୍ଥକୁ ଚିହ୍ନଟ କର।

- A) ସମର ଚରଣ
- B) ପୂର୍ଣ୍ଣଚନ୍ଦ୍ର ଓଡ଼ିଆ ଭାଷାକୋଷ
- C) ମଥୁରା ମଙ୍ଗଳ
- D) କନକଲତା

143) "ଭରତ ଭୋକିଲା ଭିକାରୀଟିକୁ ଖାଦ୍ୟ ଦେଲା।" ରେଖାଙ୍କିତ ପଦଟି ନିମ୍ନଲିଖିତ ମଧ୍ୟରୁ କେଉଁ ପ୍ରକାର ବିଶେଷ୍ୟ ଅଟେ?

- A) ଜାତି ବାଚକ
- B) ନାମ ବାଚକ
- C) କ୍ରିୟା ବାଚକ
- D) ଗୁଣ ବାଚକ

144) "ରାମ ଚଙ୍କା ଦେଲା ମାତ୍ର ତାହା କିଛି କାମରେ ଆସିଲା ନାହିଁ।" ରେଖାଙ୍କିତ ପଦଟି କି ପ୍ରକାର ପଦ ଅଟେ ଦର୍ଶାଅ।

- A) ବିଶେଷ୍ୟ
- B) ଅବ୍ୟୟ
- C) କ୍ରିୟାପଦ
- D) ସର୍ବନାମ

145) 'ଅକଳ ଗୁଡୁମ' ରଚିତ ଅର୍ଥ କ'ଣ?

- A) ମନରେ ଶଙ୍କା ଜାତ ହେବା
- B) ଅନ୍ଧାରରେ ଦରାଣ୍ଡି ହେବା
- C) ବୁଦ୍ଧି ବଣା ହେବା
- D) ଉପାୟଶୂନ୍ୟ ହେବା

146) ନିମ୍ନୋକ୍ତ ମଧ୍ୟରୁ ଶୁଦ୍ଧ ବନାନ ଥିବା ବାକ୍ୟଟି ଚୟନ କର । . .

- A) ଅନାହାର ପୂର୍ଣ୍ଣହୀନତାର ମୂଖ୍ୟ କାରଣ ।
- B) ଅନାହାର ପୂର୍ଣ୍ଣହୀନତାର ମୂଖ୍ୟ କାରଣ ।
- C) ଅନାହାର ପୂର୍ଣ୍ଣହୀନତାର ମୂଖ୍ୟ କାରଣ ।
- D) ଅନାହାର ପୂର୍ଣ୍ଣହୀନତାର ମୂଖ୍ୟ କାରଣ ।

147) ନିମ୍ନୋକ୍ତ ମଧ୍ୟରୁ ଶୁଦ୍ଧ ବନାନ ଥିବା ବାକ୍ୟଟି ଚୟନ କର ।

- A) ମୁଷିକ ଗଣେଷଙ୍କର ବାହାନ ।
- B) ମୁଷୀକ ଗଣେଶଙ୍କର ବାହନ ।
- C) ମୂଷିକ ଗଣେଶଙ୍କର ବାହନ ।
- D) ମୂଷୀକ ଗଣେଷଙ୍କର ବାହାନ ।

148) 'ଉଦାର ମନ ଯାହାର' ଉକ୍ତ ବିଗ୍ରହବାକ୍ୟର ସମାସ ନିଷ୍ପନ୍ନ ପଦ ନିର୍ଣ୍ଣୟ କର ।

- A) ଉଦାରମନ
- B) ଉଦାରମନଃ
- C) ଉଦାରମନା
- D) ଉଦାରମନ୍ୟ

149) 'ତଥୈବ' କୁ ସଂକ୍ଷିପ୍ତ ବିଚ୍ଛେଦ କଲେ ହେବ -

- A) ତଥା + ଇବ
- B) ତଥା + ଇବ
- C) ତଥା + ଏବ
- D) ତଥା + ଐବ

150) 'ବୈଦ୍ୟ' ତତ୍ତ୍ୱିତାନ୍ତ ଶବ୍ଦର ପ୍ରକୃତି ପ୍ରତ୍ୟୟ ସୂଚାଅ।

- A) ବେଦ୍+ୟ
- B) ବୈଦ୍+ଅ
- C) ବେଦ୍+ଏୟ
- D) ବିଦ୍ୟା+ଅ

Question Paper No:

76380_9

Answer Key

1	C	31	B	61	B	91	C	121	C
2	B	32	A	62	A	92	A	122	B
3	D	33	C	63	B	93	C	123	D
4	D	34	C	64	D	94	C	124	C
5	D	35	B	65	C	95	B	125	A
6	B	36	D	66	C	96	A	126	C
7	D	37	A	67	A	97	C	127	A
8	D	38	A	68	C	98	D	128	B
9	D	39	A	69	C	99	A	129	C
10	D	40	D	70	A	100	A	130	D
11	B	41	C	71	B	101	C	131	A
12	D	42	C	72	B	102	B	132	A
13	A	43	A	73	B	103	A	133	A
14	C	44	C	74	D	104	B	134	A
15	C	45	B	75	D	105	A	135	C
16	D	46	B	76	B	106	B	136	B
17	C	47	B	77	C	107	B	137	C
18	A	48	A	78	A	108	C	138	C
19	B	49	B	79	A	109	A	139	C
20	D	50	B	80	A	110	D	140	B
21	C	51	A	81	C	111	D	141	D
22	D	52	D	82	A	112	D	142	B
23	C	53	C	83	B	113	B	143	D
24	A	54	C	84	C	114	B	144	B
25	C	55	C	85	B	115	C	145	C
26	D	56	B	86	B	116	C	146	B
27	A	57	B	87	A	117	B	147	C
28	C	58	B	88	C	118	D	148	C
29	B	59	C	89	D	119	B	149	C
30	A	60	B	90	C	120	D	150	D

